



TEVFİK İLERİ ANADOLU İMAM HATİP LİSESİ (ORTAOKUL KISMI) 2018-2019 EĞİTİM ÖĞRETİM YILI

5. SINIFLAR

GİRİŞ SINAVI

1. Bu sınav 2018-2019 Eğitim-Öğretim Yılı Tefik İleri Anadolu İmam Hatip Lisesi'ne yerleşecek öğrencilerin kavram düzeylerini ölçmek amacıyla hazırlanan "GİRİŞ SINAVI"dır.
2. Sınav toplam 100 soru ve Türkçe, Matematik, Din Kültürü ve Ahlak Bilgisi, Fen Bilimleri ve Sosyal Bilgiler testlerinden oluşmaktadır. Her test 20 sorudan ibarettir.
3. Soruların cevaplarını Cevap Kağıdında ait olduğu sütuna işaretleyiniz.
4. Cevap Kağıdında, Adı-Soyadı, T.C. Kimlik Numarası ve Öğrenci No. bölümlerini kodlamayı unutmayınız.

SINAVA BAŞLAMADAN ÖNCE AŞAĞIDAKİ UYARILARI MUTLAKA DİKKATLİCE OKUYUNUZ

1. Sınav kimlik bilgilerinizin doğruluğundan emin olunuz.
2. Sınav başladıktan sonra çevrenizdekilerle konuşmayınız.
3. Soruları cevaplamaya istediğiniz sorudan başlayabilirsiniz.
4. Cevaplarınızı cevap anahtarındaki ilgili soru numarasını dikkate alarak uygun bölüme kodlayınız.
5. Değiştirmek istediğiniz cevabı cevap anahtarına kodladığınızdan emin olunuz.
6. Cevabını bilmediğiniz sorular üzerinde fazla zaman kaybetmeden diğer sorulara geçiniz. Zaman kalırsa bu sorulara daha sonra dönebilirsiniz.
7. Sınav puanlarınızın hesaplanmasında sadece doğru cevaplarınız dikkate alınacaktır.
8. Cevap anahtarınızı sınav süresince başkalarının görmeyeceği şekilde önünüzde bulundurunuz.
9. Sınav sırasında sözlük, hesap makinası, cep telefonu ve bilgisayarınızın bu özelliklerini kullanmayınız.
10. Sınav süresince yerinizden ayrılmayınız.





5. İlk konserini 25 yaşındayken Ankara'da verdi.

Bu cümlede sözü edilen kişiyle ilgili aşağıdakilerden hangisi kesinlikle söylenir?

- A) Ankara'ya özel bir sevgi beslemektedir.
- B) Birden fazla konser vermiştir.
- C) Müzik dışında bir sanata ilgisi yoktur.
- D) İlerleyen yaşlarında müziği bırakmıştır.

6. Esmayı çok severim. Elimde büyüdü desem yalan olmaz. Ali ise erkek kardeşim. Bu ikisi pek iyi anlaşmazlardı. Ali de Esmaya sert davranırdı. Ben her zaman Esmanın tarafında olurdum. Esmayı, annemin olmadığı bir gün Ali'den habersiz onun kitaplarından birini alıp koltuğun arkasına düşürmüştü. Ali de durumu öğrenince almış Esmayı, yapamayacağını bile bile koltuğu çekip kitabı alması için zorluyor. Ben de odaya girince Esmayı, rahatlamış bir hâlde, ablacığım, diyerek kollarıma atıldı.

Bu metinde anlatımı aşağıdakilerden hangisi yapmaktadır?

- A) Ali
- B) Abla
- C) Esmayı
- D) Anne

7. Hedefini belirleyip bu hedefe doğru kararlı adımlarla ilerleyecek misin rüzgârın savurduğu yaprak gibi nereye çekseler oraya mı gideceksin?

Bu cümlede boş bırakılan yere aşağıdakilerden hangisi getirilmelidir?

- A) ama
- B) ve
- C) çünkü
- D) yoksa

8. 1900 yılında yazdığı romanında insan haklarının önemine vurgu yapan yazar, 1948'de "İnsan Hakları Evrensel Beyanname"nin ilan edildiğini görmeden hayata gözlerini yumdu. Romanını yazdığı dönemde birçok kesimden eleştiri almış, bunlara aldırmaz etmeden bildiklerini yazmaya devam etmişti.

Bu metinde yazarın hangi özelliği vurgulanmaktadır?

- A) Tecrübeli oluşu
- B) İleri görüşlü oluşu
- C) Kararlı oluşu
- D) Başarılı oluşu





9. Ülkemiz sanayileşme yolunda hızlı adımlarla ilerlemektedir. Bu süreçte ülkemizin çeşitli bölgelerinde fabrikalar açılmakta fakat fabrikalardan çıkan atıklar ve zehirli gazlar doğal yaşamı olumsuz etkilemektedir. Bu şekilde devam ederse yakın zamanda büyük bir çevre kirliliği ile karşı karşıya kalacağımız öngörülmektedir.

Bu metinde belirtilen sorunun çözümü aşağıdakilerden hangisi olamaz?

- A) Atıkların sızdırmaz kaplarda uygun yerlere taşımak
- B) Uygun yöntemlerle gazlardaki zehir oranını düşürmek
- C) Atık ve zehirli gaz üreten fabrikaları kapatmak
- D) Fabrika yöneticilerine çevre bilinci kazandırmak

10. Aşağıdaki cümlelerin hangisinde devam eden bir eylem söz konusudur?

- A) Annem şu anda Sevil teyze ile görüşüyor.
- B) Ödevlerimi bitirip televizyon izleyeceğim.
- C) Çocukken bisikletten düşüp yaralanmışım.
- D) Her sabah bir bardak ılık süt içirim.

11. I. Çünkü çocukluğumdan bu yana annemin çalıştığı kütüphaneyi ziyaret ederim.

II. Dolayısıyla şimdi merak ettiğim konularla ilgili kitapları hemen buluyorum.

III. Bilgiye ulaşmak benim için çok kolay.

IV. Burada annemin de yardımıyla bütün araştırma yöntemlerini öğrendim.

Numaralanmış cümlelerle anlamlı bir metin oluşturulmak istenirse doğru sıralama nasıl olur?

- A) III-I-IV-II
- B) II-I-III-IV
- C) I-II-III-IV
- D) II-III-IV-I

12. Öğretmenliğe Samsun'un bir dağ köyünde başladığımı daha dün gibi hatırlıyorum. Köye ulaştığımda muhtar, çiçeği burnunda öğretmenimiz geldi sonunda, demiş; beni köyün misafir odasına yerleştirmişti. Bakımlı bir odaydı burası. Burada görev alan öğretmenler genellikle burada kalmış.

Bu metindeki "çiçeği burnunda" sözünün yerine aşağıdakilerden hangisi getirilebilir?

- A) deneyimli
- B) nazik
- C) yeni
- D) başarılı





13. İzcilik kulübüne giren 7 arkadaş, grubun işlerini yönetmesi için kendilerine bir oymak başı seçmek istemişler ve bu işe Selçuk'u uygun görmüşlerdir. Selçuk, ben oymak başı olmak istemiyorum, neden beni oymak başı seçiyorsunuz, diye sorduğunda ona izcilik hakkında birçok kitap okuduğunu ve izciliğe gönülden bağlı bir insan olduğunu söylemişler.

Bu metne göre arkadaşlarının Selçuk'u başkan seçmek istemelerinin nedeni aşağıdakilerden hangisidir?

- A) İzcilik deneyimine sahip olması
- B) İzcilik hakkında bilgi sahibi olması
- C) İzcilik hakkında filmler izlemesi
- D) İzciliği en önemli etkinlik olarak görmesi

14. Aşağıdakilerin hangisinde altı çizili sözcük bir ismin yerini tutmuştur?

- A) Çocuk gelişiminde hayvanların önemli bir yeri var.
- B) Burada binbir çeşit bitki türü bulunduğunu biliyor muydunuz?
- C) Gülleri isim isim, renk renk tanıtmaktan memnunum.
- D) Bu köpek yıllardır evimizin bahçesinde yaşıyor.

15. Aşağıdaki cümlelerin hangisinde altı çizili sözcük bir ek olarak yeni bir anlam kazanmıştır?

- A) Ne yazık ki bazı sanatlar kayboluyor.
- B) Hâlsiz kaldığından dinlenmeye çekildi.
- C) Ekşi eriklerden toplayıp güzelce yedik.
- D) Hemen söz verdiği gibi çalışmaya başla.

16. Kitapların () çizgi romanların arasında bir hayat sürmek nasıl bir duygu acaba() Kimi zaman eski kitapçıların önünden geçerken aklıma bu geliyor() Ne düşüneceğimi bilemiyorum ()

Bu metinde yay ayrıçla gösterilen yerlere sırasıyla aşağıdaki noktalama işaretlerinden hangisi getirilmelidir?

- A) (,) (?) (.) (.)
- B) (,) (?) (.) (?)
- C) (-) (?) (.) (?)
- D) (,) (.) (.) (.)



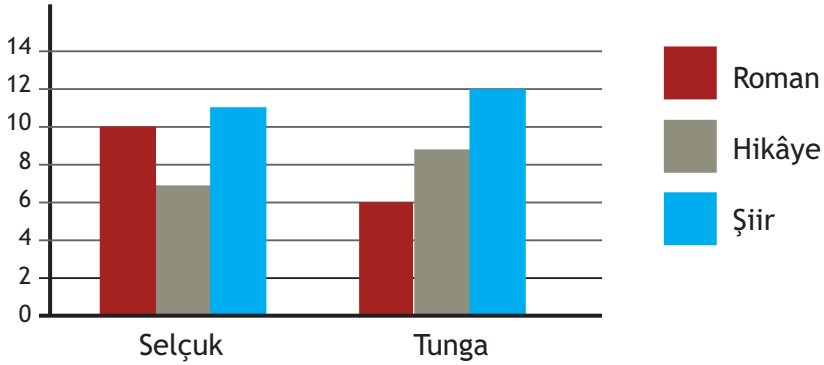
17.



Bu görselden hareketle "İstanbul" ile ilgili aşağıdakilerden hangisi hakkında yorum yapılamaz?

- A) Ulaşım araçları
- B) Mimari özellikleri
- C) Tarım ürünleri
- D) Manzarası

18.

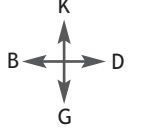


Bu grafikte Selçuk ve Tunga'nın yıl boyunca okuduğu kitap sayısı türlerine göre verilmiştir.

Bu grafiğe göre aşağıdakilerden hangisi söylenemez?

- A) Her iki öğrenci de en çok şiir türünde kitap okumuştur.
- B) Tunga, en çok hikâye türünde kitap okumuştur.
- C) Tunga Selçuk'a göre daha çok hikâye türünde kitap okumuştur.
- D) Selçuk en az hikâye türünde kitap okumuştur.

19.



Esra'nın evinin batısında park, güneydoğusunda spor alanı, kuzeyinde ise cami vardır.

Bu açıklamaya göre Esra, yukarıdaki şehir planında numaralanmış evlerin hangisinde oturmaktadır?

A) 1.

B) 2.

C) 3.

D) 4.

20. Aşağıdakilerin hangisinde büyük harflerin kullanımıyla ilgili bir yanlışlık yapılmıştır?

A) Son derste Maden Devri ile ilgili bir metin okuduk.

B) Türk Dil Kurumu, yeni sözcükler türetiyor.

C) Bu sene Rusça öğrenmek için yurt dışına çıkacaktım.

D) Galaksimizdeki en büyük gezegen jüpiterdir.



1. 1, 4, 6, 7 sayıları birer kez kullanılarak 4000'den büyük olacak şekilde en küçük doğal sayı yazılıyor.

Bu sayının yüzler basamağındaki rakamın basamak değeri kaçtır?

- A) 100 B) 400
C) 600 D) 700

2. $0,64 < 0, \square 5$ sıralamasının doğru olması için \square yerine kaç farklı rakam yazılabilir?

- A) 3 B) 4
C) 5 D) 6

3. Ümit Bey'in maaşı 3750 liradır. Ümit Bey maaşının 930 lirasını evin kiraasına, 265 lirasını faturalara ve 1045 lirasını gıda harcamalarına ayırmıştır.

Buna göre Ümit Bey'in maaşından geriye kaç lira kalmıştır?

- A) 1490 B) 1500
C) 1510 D) 1520

4. 8 ile bölündüğünde bölümü 9 olan en küçük doğal sayı kaçtır?

- A) 79 B) 75
C) 72 D) 64

- 5.

$$\begin{array}{r} M \quad 4 \\ \times \quad 3 \quad K \\ \hline 4 \quad 4 \quad 8 \\ + \quad 1 \quad 9 \quad 2 \\ \hline 2 \quad 3 \quad 6 \quad 8 \end{array}$$

Yukarıda verilen çarpma işleminde M ve K birer rakam olduğuna göre M+K kaçtır?

- A) 10 B) 11
C) 12 D) 13

6. Bir çıkarma işleminde çıkan farktan 135 fazladır. Fark 1027 olduğuna göre eksilen kaçtır?

- A) 1784 B) 1919
C) 2189 D) 2324





7. Uzun kenarının uzunluğu 12 olan dikdörtgenin kısa kenarı uzun kenarının yarısı kadardır. Çevre uzunluğu bu dikdörtgenin çevre uzunluğuna eşit olan bir kare çiziliyor.

Çizilen karenin bir kenar uzunluğu kaç santimetredir?

- A) 18 B) 13,5
C) 9 D) 4,5

8. Bir kırtasiyede, her birinde 12 kalem olan kutuların tanesi 20 liradan satılmaktadır.

Fatih bu kırtasiyeden kaç kalem alırsa 120 lira öder?

- A) 200 B) 180
C) 72 D) 60

9.

11:05:18

Yukarıdaki dijital saatin 1000 saniye sonraki görünümünü aşağıdakilerden hangisidir?

- A) 11:22:06 B) 11:21:58
C) 11:21:22 D) 11:20:58

10. Bir okulda 360 tane 5. sınıf öğrencisi vardır. Sınıfların her birine en az 20, en fazla 30 öğrenci yerleştirilecektir.

Buna göre öğrencilerinin tamamı sınıflara yerleştirildiğinde sınıf sayısı aşağıdakilerden hangisi olamaz?

- A) 12 B) 15 C) 18 D) 21

11. Aşağıdaki iki açısının ölçüsü verilen üçgenlerden hangisi geniş açılı üçgen değildir?

- A) 24° , 54°
B) 45° , 35°
C) 48° , 42°
D) 56° , 29°

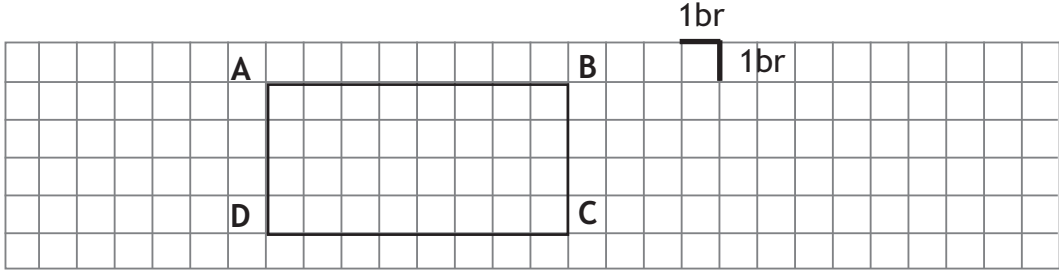
12. Emre'nin yatağının boyu 2800 milimetredir. Yorganının boyu ise 2 metredir.

Buna göre Emre'nin yorganı yatağından kaç santimetre kısadır?

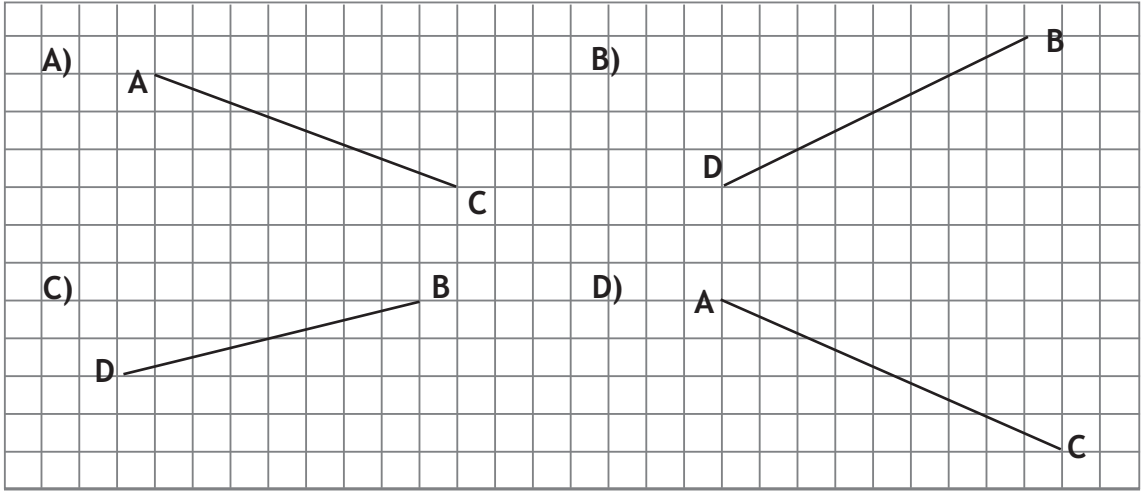
- A) 800 B) 80
C) 28 D) 8



13.

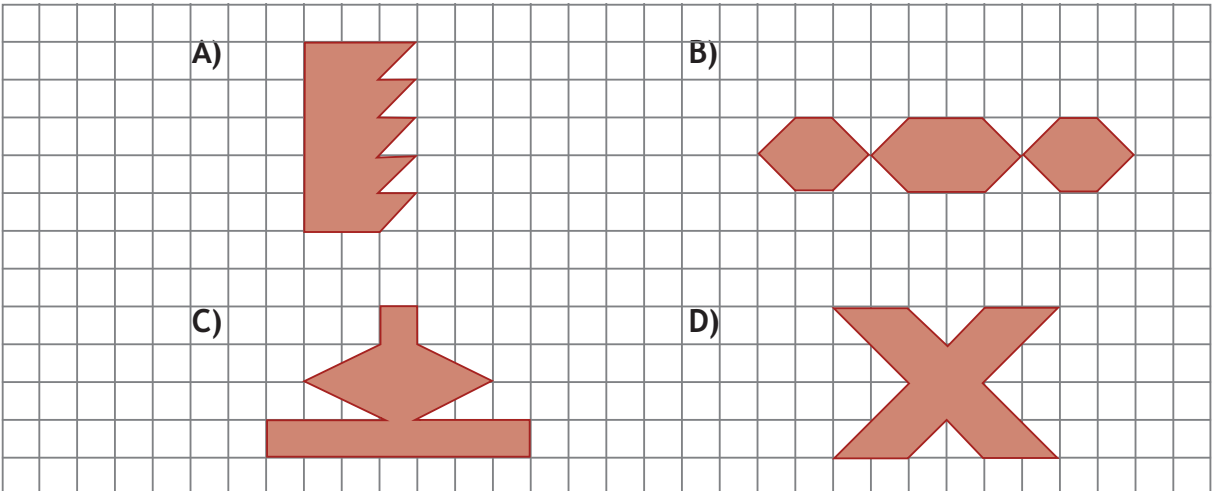


Aşağıdakilerden hangisinde şekildeki ABCD dikdörtgeninin köşegenlerinden biri doğru olarak çizilmiştir?


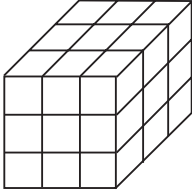


14. Aşağıdaki şekiller tam ve yarım birim karelerden oluşmuştur.

Hangisinin alanı diğerlerinden farklıdır?



15.



27 birim küpten oluşan yukarıdaki küpten kaç birim küp çıkarılırsa aşağıdaki cisim elde edilir?

- A) 3 B) 4
C) 5 D) 6

16. Aşağıdaki cümlelerin hangisinde olasılık bildiren bir kelime kullanılmamıştır?

- A) Asım'ın bu okulu kazanması imkansızdır.
B) Burhan'ın bu okulu kazanması muhtemeldir.
C) Ceyda'nın bu okulu kazanmasını istiyorum.
D) Deniz'in bu okulu kazanması kesindir.

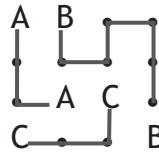
17. Amacı aynı harfleri birbirine çizgilerle bağlamak olan bir oyunun kuralları şöyledir:

- Yalnızca yatay ve dikey çizgiler kullanılacak, çapraz çizgiler kullanılmayacaktır.
- Bağlantılar kesişmemeli ve birbiri üstünden geçmemelidir.
- Tüm noktalar kullanılmalıdır.
- Tüm harf ikilileri birbirine bağlandığında üstünden geçilmeyen nokta kalmayacaktır.

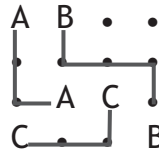
ÖRNEK

A B . .
. . . .
. A C .
C . . B

için bağlantılar kuralına uygun olarak yapıldığında



çözümü elde edilir. Fakat

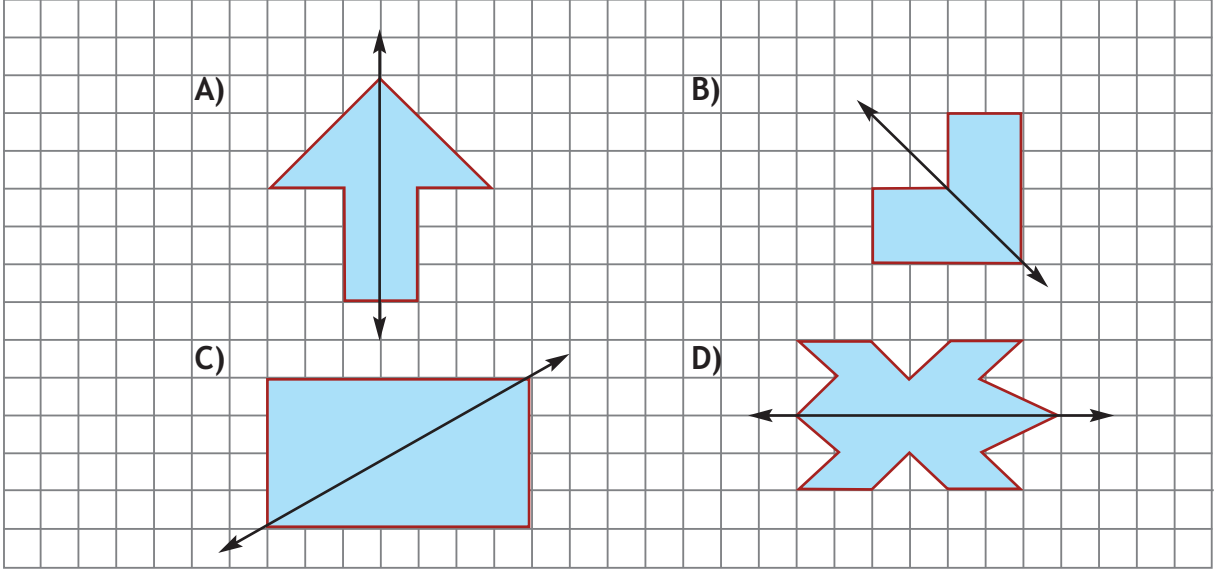


çözüm değildir. Çünkü son kurala uyulmamıştır.

Aşağıdakilerden hangisinde kurallara uygun olarak harfler arasında bağlantı yapılamaz?

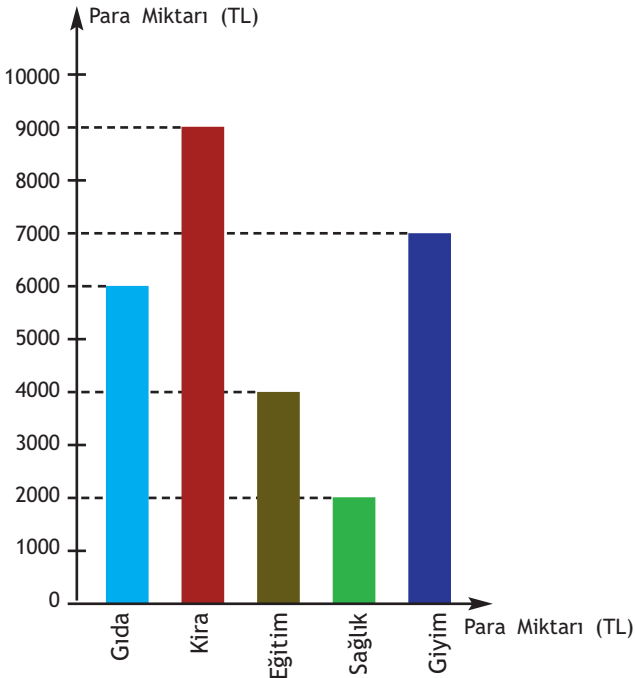
- A) B) C . . C
A L İ . . N . A
. . . A
. L . İ A . . N
- C) . İ . . D) . O Y .
. H L L . K . .
. . H İ . . K .
. . . . O . Y .

18. Kareli kağıtta verilen aşağıdaki şekillerden hangisinin simetri doğrusu yanlış çizilmiştir?



19.

Grafik: Bostancı Ailesinin Yıllık Harcamaları



Yan tarafta verilen grafiğe göre aşağıdakilerden hangisi yanlıştır?

- A) Bostancı ailesinin yıllık harcamalarını karşılayabilmek için en az 28000 liraya ihtiyacı vardır.
- B) Gıda ve eğitim için harcanan para miktarı, sağlık ve giyim için harcanan para miktarına eşittir.
- C) En fazla harcama kira için yapılmıştır.
- D) Sağlıktan sonra en az harcama eğitim için yapılmıştır.

20.

- Aykut, Aytuğ'dan 3 ay küçüktür.
- Ayten, Aysel'den 3 ay büyüktür.
- Aysel, Aykut'tan 6 ay küçüktür.

Aykut, Aytuğ, Ayten ve Aysel'in yaşlarının büyükten küçüğe doğru sıralanışı aşağıdakilerden hangisidir.?

- A) Aytuğ>Aykut>Ayten>Aysel
- B) Aytuğ>Ayten>Aykut>Aysel
- C) Aytuğ>Aykut>Ayten>Aysel
- D) Aysel>Ayten>Aykut>Aytuğ



1. Dinimiz işlerimize Allah'ın adıyla başlamamızı ister. "Rahman ve rahim olan Allah'ın adıyla" anlamına gelen dini ifade aşağıdakilerden hangisidir?

- A. Elhamdülillah
- B. La ilahe illallah
- C. Bismillahirrahmanirrahim
- D. Eşhedu enla ilahe illallah

2. Şu güzel çiçek için,
Uçan kelebek için,
Yediğim ekmek için,
Sana şükür Allah'ım.

Yukarıdaki şiirde olduğu gibi Allah'a şükretmek istediğimizde söylediğimiz dinî ifade aşağıdakilerden hangisidir?

- A. Bismillah
- B. Elhamdülillah
- C. La ilahe illallah
- D. Maşallah

3. Tanıklık etmek sözü anlamına gelir. Bu sözü diliyle söyleyip ona kalbiyle inanan kimse Müslüman olur. Bu söz bir bakıma İslam'a giriş parolasıdır.

Yukarıda tanımı açıklanan dinî ifade aşağıdakilerden hangisidir?

- A. Kelime-i şehadet
- B. Kelime-i tevhid
- C. Besmele
- D. Hamd (Şükür)

4. Din insanın Allah'a, kendisine, ailesine ve topluma karşı olan sorumluluklarını öğretir. Bizi iyiye, doğruya ve günele yönlendirir. Kur'an-ı Kerim'de Nahl Suresi 90. ayetinde Allah "Şüphesiz Allah, adaleti, iyilik yapmayı, yakınlarla yardım etmeyi emreder; hayasızlığı, fenalık ve azgınlığı da yasaklar." buyurmuştur.

Bu ayetten din ile ilgili hangi sonuca ulaşabiliriz?

- A. Din Allah'a kalpten inanmamızı ister.
- B. Din Allah'a ibadet etmemizi ister.
- C. Din Allah'a ortak koşmamamızı ister.
- D. Din güzel ahlaklı olmamızı ister.





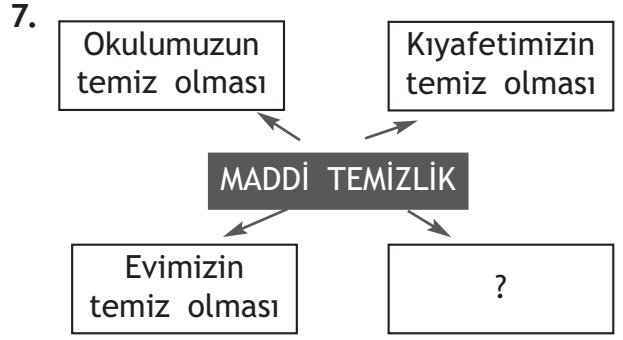
5. I. Selamlaşmak
II. Gösteriş yapmak
III. Kibirli olmak
IV. Güzel söz söylemek
- Yukarıdaki davranışlardan hangileri güzel davranışlardan değildir?

- A. I ve III
B. II ve IV
C. II ve III
D. I ve IV

6. İslam dinine göre ibadet edebilmek için temiz olmak gerekir. Bazı ibadetlerin ön şartı temizliktir.

Abdest ve boy abdesti (gusül) olmadan yapılabilecek ibadet aşağıdakilerden hangisidir?

- A. Namaz
B. Oruç
C. Hac
D. Zekat



Yukarıda boş bırakılan yere aşağıdakilerden hangisi kesinlikle gelmez?

- A. Ellerimizin temiz olması
B. Kalbimizin temiz olması
C. Camilerimizin temiz olması
D. Sokaklarımızın temiz olması

8. Peygamberimizin yaşadığı çevre olan Mekke'de çeşitli inanış biçimleri vardı. Bunlardan en yaygın olanı Kur'an-ı Kerim'de Nahl Suresi 74. ayette "Allah'ı bırakıp da kendilerine göklerden ve yerden hiçbir rızık sağlamayan ve buna gücü yetmeyen şeylere tapıyorlar." şeklinde anlatılmıştır.

Bu anlatılan inanış biçimi aşağıdakilerden hangisidir?

- A. Hristiyanlık
B. Yahudilik
C. Hanifilik
D. Putperestlik





9. "Aslan yattığı yerden belli olur." atasözünden hangi tür temizliğe vurgu yapılmıştır?

- A. Çevre temizliği
- B. Beden temizliği
- C. Kalp temizliği
- D. Elbise temizliği

10. Peygamberimizin doğduğu ve yaşadığı çevre düşünüldüğünde aşağıdakilerden hangisi bu çevrenin bir özelliği değildir?

- A. Kabileler hâlinde yaşıyorlardı.
- B. Kan davaları yaygındı.
- C. Kadınlara ve kız çocuklarına değer verilirdi.
- D. Güçlü olanlar zayıfları ezerdi.

11. Aşağıdakilerden hangisi peygamberimizin aile büyüklerinden biri değildir?

- A. Abdulmuttalip
- B. Abdullah
- C. Ebu Talip
- D. Ebu Bekir

12. Peygamberimiz Hz. Muhammed'in (s.a.v.) çocukluk ve gençlik yıllarındaki davranışlarını örnek almak istediğimizde aşağıdaki davranışlardan hangisini yapmak doğru olmaz?

- A. Cesaretli olmak
- B. Gösteriş yapmak
- C. Güvenilir olmak
- D. Haksızlıklarla mücadele etmek

13. Kur'an-ı Kerim Allah tarafından Hz. Muhammed'e (s.a.v.) gönderilmiş son ilahi kitaptır. Allah Hicr Suresi 9. ayetinde "Şüphesiz o zikri (Kur'an-ı) biz indirdik. O'nun koruyucusu da elbette biziz." buyurmuştur.

Yukarıdaki açıklamalarda Kur'an-ı Kerim'in özelliklerinin hangisinden bahsedilmemiştir?

- A. Son ilahi kitaptır.
- B. Evrenseldir, bütün insanlığa gönderilmiştir.
- C. Hz. Muhammed'e gönderilmiştir.
- D. Hiçbir şekilde bozulmaya uğramamıştır.





14. Kur'an-ı Kerim'in indirilmeye başlama tarihi aşağıdakilerden hangisidir?

- A. 622, Kadir Gecesi
- B. 610, Miraç Gecesi
- C. 610, Kadir Gecesi
- D. 622, Miraç Gecesi

15. Kur'an-ı Kerim'in en uzun ve en kısa sureleri aşağıdakilerden hangisidir?

- A. Bakara, Fatıha
- B. Yasin, Fatıha
- C. Yasin, Kevser
- D. Bakara, Kevser

16. Aşağıdakilerden hangisi Kur'an-ı Kerim için yanlış bir bilgidir?

- A. Kur'an-ı Kerim Peygamberimizin ölümünden sonra yazıya geçirilmiştir.
- B. Kur'an-ı Kerim Hz. Ebu Bekir zamanında bir kitap (mushaf) hâline getirilmiştir.
- C. Kur'an-ı Kerim ezberlenerek ve yazılarak korunmuştur.
- D. Kur'an-ı Kerim 23 yılda tamamlanmıştır.

17. İslam dini sevgi ve barış ortamının oluşmasını amaçlamıştır. Aşağıdaki davranışlardan hangisi toplumdaki sevgi ve barış ortamının sağlanmasında etkilidir?

- A. Yalan
- B. Yardımlaşma
- C. Dedikodu
- D. İftira

18. Peygamberimiz insanlara sevgi ve saygıya dayalı ilişki kurmalarını, dostça ve kardeşçe yaşamalarını öğütlemiştir. "Biriniz kendisi için istediğini Müslüman kardeşi için de istemedikçe gerçek anlamda iman etmiş sayılmaz." buyurmuştur.

Peygamberimiz bu hadisinde dostluk ve kardeşliği bozan hangi kötü davranıştan uzak durmamızı istemiştir?

- A. Dedikodu
- B. Yalan
- C. İftira
- D. Bencillik





19. Aşağıdakilerden hangisi mutlu bir ailede olması istenmeyen bir davranıştır?

- A. Aile içi yardımlaşma
- B. Çocuklar arasında ayrım yapma
- C. Aile fertlerinin birbirlerine saygılı davranması
- D. Çocukların fikirlerine değer verme

20. İslam dini gelmeden önce kadınlara ve kız çocuklarına değer verilmiyor, şiddet uygulanıyordu. Kız çocuk sahibi olmak utanç sebebi sayılıyordu. Peygamberimiz (s.a.v.) ise İslam'ın kadın ve kız çocuklarına iyi davranılmasını istediğini anlatarak ve uygulayarak çok önemli mesajlar verdi.

Aşağıdaki hadislerden hangisi bu konuyla ilgili mesajlardan biri olamaz?

- A. "Siz ana babanıza iyi davranın ki çocuklarınız da size iyi davranırlar."
- B. "Sizin hayırlınız, kadınlara iyi davranmanızdır."
- C. "Kadınlarınızı dövmeyiniz. Kadınlarını döven erkekler sizin hayırlınız değildir."
- D. "Kimin bir kız çocuğu olur da hor görmez ve erkek çocuğunu ona tercih etmezse Allah onu cennetine koyar."



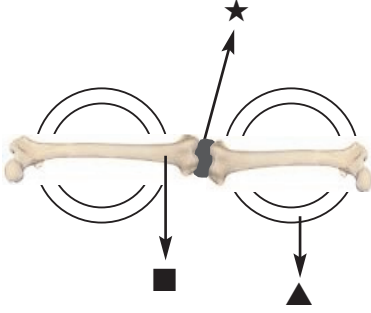
1. Yandaki şemsiyenin içine yerleştirilen teller şemsiyeye şekil vermiştir. Ayrıca şemsiyeyi açıp kapatmak ve katlayabilmek için bu teller birbirine bağlanmıştır.



Yukarıdaki şemsiye örneği insan vücudundaki hangi yapılara benzer?

- A) Solunum
B) Dolaşım
C) Destek ve Hareket
D) Sindirim

2.



Görselde ★, ■, ▲ ile gösterilen yapılarla ilgili;

- I. ★, kemiklerin birbirine bağlandığı yerdir.
II. ■, iskeleti oluşturur.
III. ▲, iki çeşit hareket yapar.

verilenlerinden hangileri doğrudur?

- A) I ve II
B) I ve III
C) II ve III
D) I, II ve III

3. • Soluk alma sırasında havanın en son uğradığı organdır.
• Soluk borusunun başlangıç kısmıdır.
• Gırtlak ile akciğerler arasında yer alır.

Verilen açıklamalar aşağıdaki yapı ve organlarla doğru eşleştirildiğinde hangi yapı ya da organ açıkta kalır?

- A) Yutak
B) Gırtlak
C) Soluk Borusu
D) Akciğerler

4. Kalp ve damarlar solunumu / kanın (1) vücutta dolaşımını sağlar. Akciğerler (2) (3) Kalp göğüs kafesi içinde sola yatık (4) şekildedir. Kalbin pompaladığı kan soluk borusu / damarlar içinde (5) (6) dolaşır.

Verilen ifadede koyu renkle yazılmış numaralı kavramlardan ifadeyi doğru hâle getirenlerin numaraları aşağıdakilerden hangisidir?

- A) 1, 3, 5
B) 2, 3, 5
C) 2, 4, 6
D) 2, 4, 5

5.



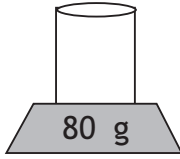
Pamuk
Havlu
Sünger



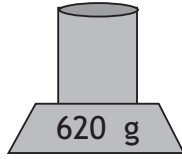
Öğretmenin sorduğu soruya öğrencinin verdiği cevap görselde verilmiştir. Buna göre öğretmenin sorusu aşağıdakilerden hangisidir?

- A) Suda yüzen maddelere örnek verebilir misin?
B) Mıknatısla çekilen maddelere örnek verebilir misin?
C) Suyu çeken maddelere örnek verebilir misin?
D) Suyu çekmeyen maddelere örnek verebilir misin?

6.



1. Ölçüm



2. Ölçüm

Yukarıda elektronik tartı ile önce bir kabın boşken kütlesi, daha sonra kabın su ile dolu iken kütlesi ölçülüyor. Buna göre;

- I. Dara 80 g'dır.
II. Net kütle 540 g'dır.
III. Brüt kütle 600 g'dır.

verilenlerinden hangileri doğrudur?

- A) Yalnız II
B) I ve II
C) I ve III
D) II ve III

7. Maddelerin sıcaklıkları termometre ile ölçülür.
 Sıvı maddeler katı hâle geçerken ısıtılır.
 Erime ve donma birbirinin tersidir.

Verilen ifadelerden doğru olanların yanına "D", yanlış olanların yanına "Y" yazılırsa aşağıdakilerden hangisine ulaşılır?

- A)

D
Y
Y

 B)

Y
D
D

C)

D
Y
D

 D)

D
D
Y

8. I. Motorlu araçlardan yayılan egzoz gazları
II. Tarım ilaçlarının bilinçsiz kullanılması
III. Ormanlık alanların zarar görmesi

Verilenlerden hangileri hava kirliliğine neden olur?

- A) I ve II B) I ve III
C) II ve III D) I, II ve III

9. Aşağıdakilerden hangisi gaz lambalarından daha önce kullanılan aydınlatma araçlarındandır?

- A) Ampul
B) LED
C) Floresan Lamba
D) Yağ lambası

10.



Emre

Aydınlatmada tasarruflu lambaları kullanırım.



Işıl

Ortamları gereğinden fazla aydınlatırım.



Pelin

Televizyon izlerken odayı uygun şekilde aydınlatırım.

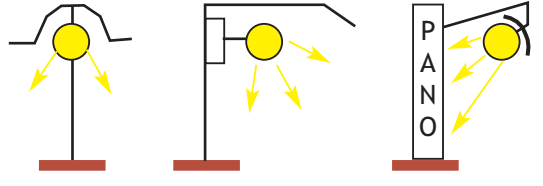
Yukarıdaki öğrencilerden hangilerinin söyledikleri, aydınlatma araçlarının tasarruflu kullanılması ile ilgilidir?

- A) Yalnız Emre
- B) Yalnız Pelin
- C) Emre ve Işıl
- D) Işıl ve Pelin

11. Aşağıdakilerden hangisi mikroskopu geliştirmek için çalışmamıştır?

- A) Emilie Berliner
- B) Robert Hooke
- C) Antone Van Leeuwenhoek
- D) E. A. Friedrich Ruska

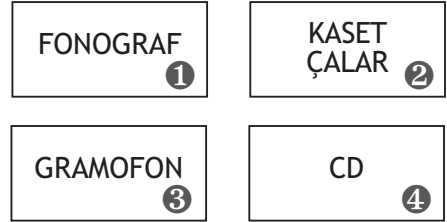
12.



Yukarıdaki aydınlatma araçları ile ilgili aşağıdakilerden hangisi söylenebilir?

- A) Aydınlatma araçlarının tasarruflu kullanımına örnektir.
- B) Işık kirliliğine neden olan aydınlatma araçlarına örnektir.
- C) Aydınlatma araçlarının doğru kullanımına örnektir.
- D) Aydınlatma araçlarının yanlış kullanımına örnektir.

13.



Numaralanmış kutucuklarda verilen araçların ortak özellikleri aşağıdakilerden hangisidir?

- A) Ses şiddetini arttırma
- B) Kulakları şiddetli sestten koruma
- C) Kaydedilmiş sesleri dinleme
- D) Ses şiddetini azaltma




14. Ses kirliliği★.... neden olabilir.

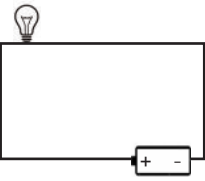
Yukarıdaki ifadede ★ ile gösterilen yere aşağıdakilerden hangisi yazılmaz?

- A) insanlarda işitme kaybına
- B) insanların iş veriminin artmasına
- C) insanların psikolojik dengesinin bozulmasına
- D) hayvanların ortamdaki uzaklaşmasına

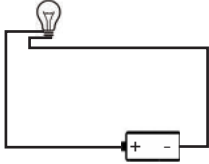
15. I.



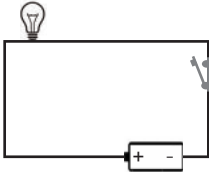
II.



III.



IV.



Yukarıdaki devrelerden hangilerinde lamba ışık vermez?

- A) I ve III
- B) II ve III
- C) I, II ve III
- D) II, III ve IV

- 16. • Kapatıldığında lambanın ışık vermesini sağlayan devre elemanıdır.
- Pillerin yerleştirildiği yerdir.
- Devrede lambanın ışık vermesi için enerji üretir.

Yukarıdaki özellikler seçeneklerdeki devre elemanları ile eşleştirildiğinde hangi devre elemanı açıkta kalır?

- A) Pil yatağı
- B) Anahtar
- C) Pil
- D) Duy

- 17. Dünya'nın dönme hareketi ile ilgili;
- I. Sonucunda gece ve gündüz oluşur.
- II. 1 tam dönüşüne gün adı verilir.
- III. Dünya'nın Güneş çevresinde yaptığı harekettir.

verilenlerinden hangileri doğrudur?

- A) Yalnızca I
- B) Yalnızca II
- C) I ve II
- D) II ve III



18. • Ayşe kaydırdıktan kayıyor.
• Merve hamur açıyor.
• Efe duran topa ayağıyla vuruyor.

Yukarıdaki öğrenciler kuvvetin hangi etkilerinden yararlanmışlardır?

Ayşe	Merve	Efe
A) Yavaşlatıcı	Yön değiştirici	Şekil değiştirici
B) Hızlandırıcı	Şekil değiştirici	Hareket ettirici
C) Yavaşlatıcı	Hızlandırıcı	Yön değiştirici
D) Hızlandırıcı	Yavaşlatıcı	Şekil değiştirici

19. Beyza çeşitli maddeleri mıknatısa yaklaştırıp bu maddelere mıknatısın etki edip etmediğini gözlemlemiştir. Bu gözleminin sonunda aşağıdaki tabloyu hazırlamıştır.

Malzeme	Mıknatıs Çeker	Mıknatıs Çekmez
★	✓	
■		✓
▲	✓	

Buna göre ★, ■ ve ▲ ile gösterilen malzemeler aşağıdakilerden hangisi olamaz?

★	■	▲
A) Gazoz Kapağı	Bakır tel	Toplu iğne
B) Kağıt	Raptiye	Kalem ucu
C) Toplu iğne	Tahta kaşık	Raptiye
D) Çivi	Paket lastiği	Metal ataş

20.

Madenî para katı hâldedir.

Zeytinyağı sıvı hâldedir.

LPG gaz hâindedir.

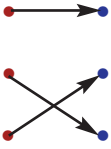
Çünkü bulunduğu ortama yayılır.

Çünkü belirli şekli vardır.

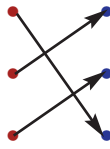
Çünkü konulduğu kabın şeklini alır.

Yukarıdaki birbirini tamamlayan ifadelerin doğru eşleştirilmesi aşağıdakilerden hangisidir?

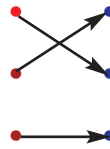
A)



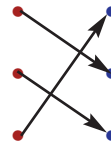
B)



C)



D)





1.

	Futbol	Basketbol	Müzik
Yusuf	✓	✓	
Volkan	✓		
Emirhan		✓	✓





Yukarıdaki tabloda Yusuf, Volkan ve Emirhan'ın ilgi duyduğu alanlar verilmiştir.

Buna göre tablodaki bilgilerden yararlanarak aşağıdakilerden hangisine ulaşamaz?

- A) İki farklı alana ilgi duyanlar Yusuf ve Emirhan'dır.
 B) Emirhan hem basketbola hem de müziğe ilgi duymaktadır.
 C) Yusuf ve Emirhan sadece futbola ilgi duymaktadır.
 D) Volkan futbola ilgi duymaktadır.

2. Sibel, bebekliğinden başlayarak elindeki resimlerle bir albüm yapacaktır.

Buna göre aşağıda verilen resimlerden hangisi ilk sırada yer almalıdır?

- A)  B) 
- C)  D) 

3. Arda, aile tarihi ile ilgili bir araştırma yapmak istemektedir.

Buna göre Arda bu araştırma esnasında;

- I. Fotoğraflara,
 II. Anılara,
 III. Eski eşyalara

verilenlerinden hangilerine ihtiyaç duyar?

- A) Yalnız I
 B) I ve II
 C) II ve III
 D) I, II ve III

4. Aşağıdaki resimleri verilen oyunlardan hangisi günümüzde oynanan bir oyun değildir?

- A)  Saklambaç

- B)  Aşık Oyunu

- C)  Sek sek

- D)  Körebe





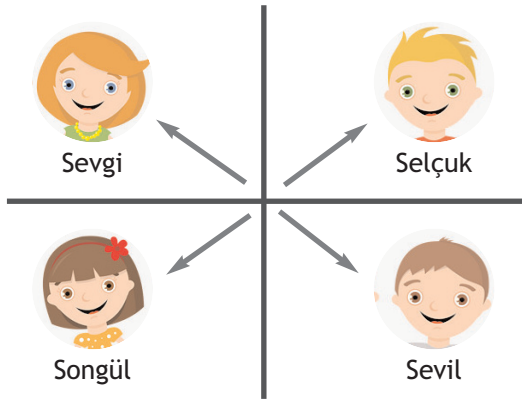
5. Yurdumuzda işgaller başlayınca, halk tarafından çeşitli bölgelerde işgallere karşı yerel birlikler oluşturulmuştur.

Buna göre Türk halkı için;

- I. Vatansever olduklarına,
- II. Bağımsızlıklarına düşkün olduklarına,
- III. Yabancı egemenliğini istediklerine verilenlerinden hangilerine ulaşılabilir?

- A) Yalnız I
- B) I ve II
- C) II ve III
- D) I, II ve III

6.



Yukarıda konumları verilen öğrencilerle ilgili aşağıdakilerden hangisi söylenebilir?

- A) Sevgi Kuzeybatıdadır.
- B) Songül Güneydedir.
- C) Sevil Kuzeybatıdadır.
- D) Selçuk Güneybatıdadır.

7.

Hava Olayı	Görüldüğü Toplam Gün Sayısı
	9
	2
	12
	7

Buğra bir ay boyunca bulunduğu ilin hava olaylarını gözlemleyerek bir tablo oluşturmuştur.

Tabloya bakılarak aşağıdakilerden hangisine ulaşamaz?

- A) Hava genellikle yağmurludur.
- B) Güneşli gün sayısı, rüzgârlı gün sayısından azdır.
- C) Buğra Artvin ilinde yaşamaktadır.
- D) Bulutlu gün sayısı yağmurlu gün sayısından azdır.

8.

Çarşambayı sel aldı,
Bir yar sevdim el aldı,
Keşke sevmez olaydım,
Elim koynumda kaldı.

Doğal afetlerle ilgili bu türkü aşağıdaki bölgelerimizden hangisiyle ilişkilendirilebilir?

- A) Doğu Anadolu
- B) İç Anadolu
- C) Karadeniz
- D) Marmara



9.



Fotoğrafları verilen araçların kullanım alanları sırasıyla aşağıdakilerden hangisidir?

- A) Ulaşım – Eğitim
- B) İletişim – Ulaşım
- C) Eğitim – Ulaşım
- D) İletişim – Sağlık

10. Bir gün İsviçreli mühendis Georges de Mestral'in kıyafetlerine dul avrat otu (pıtrak) takılır. Mestral kıyafetlerini bu bitkiden bir türlü ayırmaz. Ardından aklına müthiş bir fikir gelir ve velcro bandının icadını gerçekleştirir. Bu bantlar günümüzde astronotların kıyafetlerinde kullanılmaktadır.

Verilen bilgiye göre velcro bantları aşağıdaki alanlardan hangisine hizmet etmiştir?

- A) Ulaşım
- B) Eğitim
- C) İletişim
- D) Giyim

11.



Arkadaşlar bazı atıkları geri dönüşüme kazandırabiliriz.

Buna göre aşağıdakilerden hangisi geri dönüşüme kazandırılacak bir üründür?


A)



B)



C)



D)



12.

ÜRÜN	FİYATI
Domates	3 TL
Marul	1 TL
Kabak	2 TL
Çilek	8 TL
Kiraz	10 TL

İlknur Hanım 20 TL ile pazar alış-ve-rişi yapmak istiyor.

Buna göre aşağıdaki ürünlerden hangilerini alırsa bütçesini aşar?

- A) 2 kg domates, 1 marul, 1 kg çilek, 1 kg kiraz
- B) 3 kg kabak, 1 marul, 2 kg domates
- C) 2 kg kabak, 1 kg domates, 1 kg kiraz
- D) 2 kg domates, 1 marul, 1 kg kabak, 1 kg kiraz



13. En önemli ihtiyaçlarımız giyinme, barınma ve beslenmedir. Bunun dışında sosyal ihtiyaçlarımız da vardır.

Buna göre aşağıdakilerden hangisi sosyal ihtiyaçlarımızdan biridir?

- A) Su
- B) Ekmek
- C) Sinema
- D) Mont

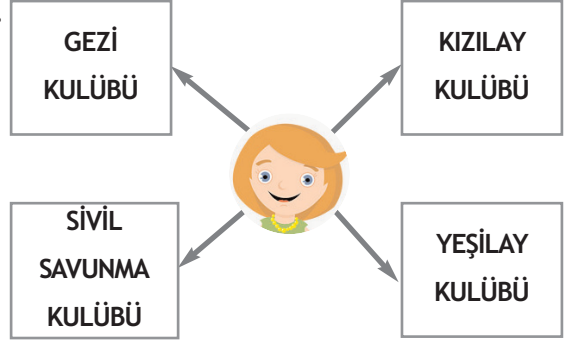
14.

- I. Odamı düzenli tutarım.
- II. Bugün okula başladım.

Verilen durumlar, sırasıyla aşağıdakilerden hangisiyle ilgilidir?

I	II
A) Sorumluluk	Hak
B) Hak	Rol
C) Sorumluluk	Rol
D) Hak	Sorumluluk

15.



Verilen görselde Tuğba'nın ilgi duyduğu sosyal kulüpler verilmiştir.

Buna göre;

- I. Tuğba'nın birden fazla sosyal kulübe ilgisi vardır.
- II. Tuğba'nın ilgi duyduğu sosyal kulüpler daha çok yardımlaşmayla ilgilidir.
- III. Her kulübün özellikleri aynıdır.

verilenlerinden hangilerine ulaşabilir?

- A) Yalnız I
- B) I ve II
- C) II ve III
- D) I, II ve III

16.



"YA İSTİKLAL YA ÖLÜM!"

Atatürk'ün bu sözü aşağıdakilerden hangisiyle ilişkilendirilebilir?

- A) Ulusal irade
- B) Millî bağımsızlık
- C) Millî ekonomi
- D) Seçme ve seçilme





17. Aşağıda verilen Atatürk'ün sözlerinden hangisi demokrasi ile ilgilidir?

- A) "Geldikleri gibi giderler."
- B) "Vatan çocuklarımız için cennet yapılmaya layıktır."
- C) "Benim her emrim yapılı; çünkü benden yapılmayacak emir çıkmaz."
- D) "Millî egemenlik esasına dayanan ve bilhassa cumhuriyet idaresine sahip olan memleketlerde siyasi partilerin mevcudiyeti tabiidir."

18. Japonya'da yaşayan bir çocuk Türkiye'de yaşayan Selim'le 23 Nisan Şenliklerinde arkadaş olmuştur. Çocuklar, birbirlerinin ülkeleri ile ilgili bilgi sahibi olmak istemektedirler.

Buna göre iki ülke için;

- I. Dinî inanış,
- II. Yemek türleri,
- III. Giyim tarzları

verilenlerinden hangilerinin farklı olduğu söylenebilir?

- A) Yalnız I
- B) I ve II
- C) II ve III
- D) I, II ve III

19.



(İspanya)



(İskoçya)

Bu görsellerden İspanya ve İskoçya ile ilgili olarak


- I. Yaşam tarzlarının farklı olduğuna,
- II. Din anlayışlarının benzer olduğuna,
- III. Yönetim yapılarının farklı olduğuna

yargılarından hangilerine ulaşılabilir?

- A) Yalnız I
- B) I ve II
- C) II ve III
- D) I, II ve III

20. Yaşanılan ülkenin iklimi insanların kıyafetleri üzerinde etkilidir.

Buna göre aşağıdaki ülkelerden hangisinde ince kıyafetler tercih edilir?





Hayallerimiz var insanlığa dair.