



T.C.
MİLLÎ EĞİTİM BAKANLIĞI
TEVFİK İLERİ İMAM HATİP ORTAOKULU MÜDÜRLÜĞÜ

TEVFİK İLERİ İMAM HATİP ORTAOKULU
2016 - 2017 EĞİTİM ÖĞRETİM YILI

5. SINIF GİRİŞ SINAVI

T.C. :
Adı ve Soyadı :
Sınıfı :
Öğrenci Numarası :

SORU SAYISI : 100

SINAV SÜRESİ : 120 Dakika

- Bu sınav, 2016 - 2017 Eğitim - Öğretim yılı Tevfik İleri İmam Hatip Ortaokulu'na yerleşecek öğrencilerin kavram düzeylerini ölçmek amacıyla hazırlanan "GİRİŞ SINAVI"dır.
- Sorular, 4. sınıf kazanımları dikkate alınarak hazırlanmıştır.

**SINAV BAŞLAMADAN ÖNCE
KİTAPÇIĞIN ARKA KAPAĞINDAKİ UYARILARI MUTLAKA OKUYUNUZ.**



TÜRKÇE TESTİ

1. Aşağıdaki cümlelerin hangisinde terim anlamda kullanılmış bir sözcük vardır?

- A) Eğitimin ilk ve en iyi merkezi evdir.
- B) Kalemî kâğıdı elime alıp yazmaya başladım.
- C) Hediyelik eşya mağazasından alışveriş yaptık.
- D) Tahtaya çıkıp üçgenin alanını hesapladım.

2. Uzun yürüyüşler yapmayı kendimi bildim bileli çok severim. Bu yüzden hafta sonu arkadaşlarımla bir dağ yürüyüşüne çıktık. Dağın eteklerinde birkaç kilometre yürüdüktan sonra durduk. Biraz dinlenmemiz gerektiğini düşündük. Buradaki eşsiz manzara hepimizi büyüledi.

Bu parçadaki altı çizili sözün yerine aşağıdakilerden hangisi getirilirse cümlenin anlamında değişme olmaz?

- A) bazı zamanlar
- B) oldum olası
- C) her gün
- D) olur olmaz

3. Aşağıdaki cümlelerin hangisinde deyim kullanılmamıştır?

- A) Trenden inince ağır valizleri yavaşça yere bıraktı.
- B) Adam birdenbire yola fırlayınca yüreğim ağzıma geldi.
- C) İnsanların duyarsızlıklarını görünce kafası bozuldu.
- D) Onu ikna etmek için saatlerce dil döktü.

4. 1. yelkenlerinizi
2. değiştiremiyorsanız
3. rüzgârın
4. değiştirin
5. yönünü

Numaralanmış sözcüklerle anlamlı ve kurallı bir cümle oluşturmak için doğru sıralama nasıl olmalıdır?

- A) 1 – 2 – 4 – 3 – 5
- B) 1 – 5 – 2 – 3 – 4
- C) 3 – 1 – 4 – 2 – 5
- D) 3 – 5 – 2 – 1 – 4

5. Aşağıdaki cümlelerden hangisinde sebep-sonuç anlamı vardır?

- A) On beş yıl önce Kayseri'den Ankara'ya taşındı.
- B) Eski günler aklına geldiği için derin düşüncelere daldı.
- C) Arabaların gürültüsünden bir an önce uzaklaşmak istiyordu.
- D) Kütüphanedeki kitaplardan birini alıp okumaya başladı.

6. Aşağıdakilerden hangisi hayal ürünü bir cümledir?

- A) Birkaç kişi otelin girişinde çay içiyordu.
- B) Dolu yağınca kayıpların çoğu yere döküldü.
- C) Bulutların üzerinde keyifle yürümeye başladık.
- D) Gökyüzünde oluşan kızılık herkesi şaşırttı.

7. Padişahın, koca kavuğu ve uzun boyuyla, elleri önünde bağlı, gözleri yerde, yavaş yavaş bize yaklaştığını gördüm.

Bu cümleyle ilgili aşağıdakilerden hangisi söylenebilir?

- A) Abartma cümlesidir.
B) Karşılaştırma cümlesidir.
C) Tanımlama cümlesidir.
D) Betimleme cümlesidir.

8. Uyku, yaşamımızı sürdürebilmemiz için vazgeçilmez bir ihtiyaçtır. Birçok hayvan, tıpkı insanlar gibi günün bazı saatlerinde uyumak ister. - - - - onların insanlar gibi sıcak yataklarında uyuma ihtimalleri yoktur.

Bu parçada boş bırakılan yere aşağıdaki sözcüklerden hangisi getirilemez?

- A) Ancak
B) Fakat
C) Çünkü
D) Ama

9. Aşağıdaki cümlelerin hangisinde öznel anlatım vardır?

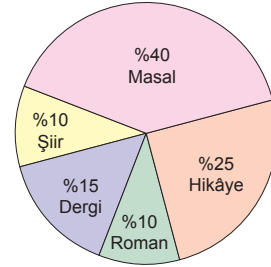
- A) Cebelitarık, Akdeniz'i Atlas Okyanusu'yla birleştiren muhteşem bir boğazdır.
B) Ülkemizin en büyük adası olan Gökçeada, Çanakkale'nin bir ilçesidir.
C) Çekiç balığı, bütün okyanusların sıcak ve ılık sularında yaşayan bir balıktır.
D) Bebeklerin ağızlarında yaklaşık otuz bin tat algılayıcı bulunur.

10. (1) Hafızayı güçlendirmenin en önemli yöntemi onu kullanmaktır. (2) Hafızayı hiç rahat bırakmamak ve sürekli zorlamak gerekir. (3) Örneğin sudoku, bulmaca, yapboz ve tabu gibi oyunlar zekâyı geliştirir ve hafızayı güçlendirir. (4) Bu oyunlara her gün az bir zaman ayırırsanız sizin için yararlı olacaktır.

Bu parçada numaralanmış cümlelerin hangisinde destekleyici ve açıklayıcı bir ifade kullanılmıştır?

- A) 1. B) 2. C) 3. D) 4.

- 11.



Bu grafik, Elif'in yaz tatilinde okuduğu türlere ayırdığı zaman oranlarını göstermektedir.

Bu grafiğe göre aşağıdakilerden hangisi söylenemez?

- A) En çok, masal okumaya zaman ayırmıştır.
B) Hikâye okumaya dergi okumaktan daha çok zaman ayırmıştır.
C) Roman ile şiir okumaya ayırdığı zaman birbirine eşittir.
D) En az zaman ayırdığı tür dergidir.



TEVFİK İLERİ İMAM HATİP ORTAOKULU GİRİŞ SINAVI

12. Uçurtma yaklaşık iki bin yedi yüz yıl önce keşfedilmiştir. Batı'nın uçurtmayla tanışması, ünlü gezgin Marco Polo'nun anlatılarıyla, 13. yüzyılın sonlarında gerçekleşmiştir. Balon ve uçakların kullanılmaya başlanmasından önce uçurtmalar meteorolojik verilerin elde edilmesinde kullanılıyordu. Havadan gözlem olanağı sağlayan uçurtmalar, 20. yüzyıl başına kadar bazı askerî amaçlar için bile kullanılmıştı. Uçurtmaların en yaygın tipleri arasında üç çatalı ve iki çatalı olarak bilinen modeller gelir. Bunların yanı sıra değişik tasarımlı, düz olmayan uçurtmalar ve şeytan uçurtması adı verilen basit uçurtma modelleri de vardır.

Bu parçada uçurtmayla ilgili aşağıdakilerden hangisine değinilmemiştir?

- A) Hangi ülkede keşfedildiğine
- B) Batı'ya kim tarafından tanıtıldığına
- C) Geçmişte hangi amaçlarla kullanıldığına
- D) Ne tür uçurtma modelleri olduğuna

13. 1. Yuva yapımının ilk aşamasında etraftan taş, çamur ve dal parçaları toplayıp bunlarla suya bir baraj yaparlar.
2. Kunduzlar, akarsu kıyılarında yaşayan, yuvalarını kendileri yapan hayvanlardır.
3. Bu gölün içine taş, çamur ve dal parçalarını kullanarak bir yuva yaparlar ve yuvanın dışını çamurla kaplarlar.
4. Bu barajın bir tarafında derin ve durgun bir göl oluşur.

Numaralanmış cümleler olayların oluş sırasına göre nasıl sıralanmalıdır?

- A) 1 – 2 – 4 – 3
- B) 1 – 4 – 2 – 3
- C) 2 – 1 – 4 – 3
- D) 2 – 4 – 1 – 3

14. Beyin, yarım küreyi andıran iki parçadan oluşur. Bunlara sağ ve sol beyin denir. Bu yarım küreler sinir liflerinden oluşan bir yapıyla birbirine bağlıdır. Bu bağlantı, beynin iki parçası arasındaki haberleşmeyi sağlar. Sağ ve sol beynin farklı görevleri vardır. Mesela sağ beyin uzaysal beceriler, yüz tanıma, cisimlerin görüntülerini hayal edebilme gibi konularda baskınken sol beyin hesap yapma, matematik ve mantık yetenekleri gibi konularda baskındır.

Bu parçaya getirilebilecek en uygun başlık aşağıdakilerden hangisidir?

- A) Beyin ve Görevleri
- B) İnsan Beyninin Bilinmeyen Yönleri
- C) Matematiğin Beyne Etkileri
- D) Beynin Hayal Gücüyle İlgisi

15. Bahçe bahçe baharların açılır
Karlı buzlu pınarların içilir
Bölük bölük yaylalara göçülür
Akışın var gönül gönül Türkiye'm
Kokuşun var nergis, gül gül Türkiye'm

Bu şiirin ana duygusu aşağıdakilerden hangisidir?

- A) Bahar coşkusu
- B) Türkiye özlemi
- C) Yaşama sevinci
- D) Türkiye sevgisi



TEVFİK İLERİ İMAM HATİP ORTAOKULU GİRİŞ SINAVI

16. Bağlaç olan “de” ayrı yazılır, ek olan “-de” sözcüğe bitişik yazılır.

Bu açıklamaya göre aşağıdaki cümlelerin hangisinde yazım yanlışı vardır?

- A) Kardeşim de bizimle gelmeye karar verdi.
- B) Doktor bugünde hasta olduğu için gelmeyecekti.
- C) Çocuklar öğleden sonra bahçede oturmuşlar.
- D) Bu konuda sen de bir şeyler söyleyecek misin?

17. Aşağıdaki cümlelerden hangisinin sonuna farklı bir noktalama işareti getirilmelidir?

- A) Seneler boyunca hiç bıkmadan çalıştı
- B) Mutfak eşyalarını ne zaman düzenleyeceksin
- C) Bu insanların nerede yaşadığını bilmiyorum
- D) Küçük çocuğun elleri korkudan titriyordu

18. Aşağıdaki altı çizili sözcüklerden hangisi “-lık” eki almamıştır?

- A) Masanın üstündeki soluk fotoğrafa dikkatlice baktı.
- B) Yaşlı insanlar gençlik yıllarını hiçbir zaman unutamaz.
- C) Yeni aldığı suluk kırılınca çok üzüldü.
- D) Ülkemizin birlik ve beraberliğini kimse bozamaz.

19. Aşağıdaki cümlelerden hangisinde devam eden bir eylem söz konusudur?

- A) Almanca öğrenmek için tatilde Almanya'ya gidecek.
- B) Hazırladığı konuşma metnini gözden geçiriyor.
- C) Doktorların bana söylediğini ben de kardeşime söyledim.
- D) Sabahları kahve içerken kitap okumayı çok sever.

20. Biz şurada bekleyelim, sen bu kitabı onlara
1 2 3 4
ulaştır.

Bu cümlede numaralanmış sözcüklerden hangisi bir adı işaret etmektedir?

- A) 1. B) 2. C) 3. D) 4.

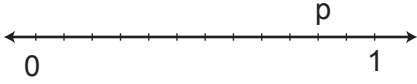
**Türkçe Testi Bitti.
Diğer Teste Geçiniz. →**



MATEMATİK TESTİ

1. 6 basamaklı bir doğal sayının yüz binler basamağındaki sayı 2 azaltılıp on binler basamağındaki sayı 7 artırılırsa sayının değerindeki değişim aşağıdakilerden hangisiyle ifade edilir?
- A) 130 000 artar
B) 130 000 azalır
C) 270 000 artar
D) 270 000 azalır
2. $8\Box6462 > 87\Delta476$
- Yukarıdaki sıralamanın doğru olması için \Box yerine yazılabilecek en küçük doğal sayı için Δ yerine yazılabilecek doğal sayıların toplamı kaçtır?
- A) 30 B) 24 C) 17 D) 15
3. $KLMN + NMLK = 8437$ olduğuna göre $KLMN$ dört basamaklı sayısı aşağıdakilerden hangisi olamaz?
- A) 5762 B) 5672 C) 2736 D) 2675
4. $5745 - 3179$ işleminde eksilen sayı en yakın yüzlüğe, çıkan sayı en yakın onluğa yuvarlandığında fark kaç olur?
- A) 2500 B) 2520 C) 2530 D) 2566
5. İki basamaklı en küçük çift doğal sayı ile rakamları birbirinden farklı üç basamaklı en büyük tek doğal sayının çarpımı kaçtır?
- A) 9990 B) 9980 C) 9870 D) 9850
6. Okunuşu “on iki tam yüzde bir” olan ondalık gösterim aşağıdakilerden hangisidir?
- A) 12,1 B) 12,01 C) 1,12 D) 1,012

7.



Yukarıdaki sayı doğrusunda 0 ile 1 sayıları arası 12 eş parçaya bölünmüştür.

Buna göre p ile gösterilen kesir aşağıdakilerden hangisidir?

- A) $\frac{3}{12}$ B) $\frac{5}{12}$ C) $\frac{10}{12}$ D) $\frac{15}{12}$

8. p, r, s ve t doğal sayılardır.

p < r < s < t olduğuna göre aşağıdakilerden hangisi en küçüktür?

- A) $\frac{t}{3} - \frac{p}{3}$ B) $\frac{s}{3} - \frac{p}{3}$
C) $\frac{r}{5} - \frac{p}{5}$ D) $\frac{t}{5} - \frac{r}{5}$

9. □ ve △ üçgen birer doğal sayı ve $\frac{\triangle}{\square} + \frac{7}{19} = \frac{16}{19}$

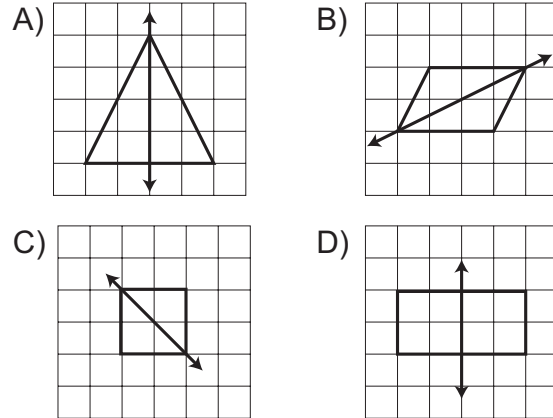
olduğuna göre □ + △ aşağıdakilerden hangisi olabilir?

- A) 9 B) 19 C) 23 D) 28

10. Aşağıdakilerden hangisinde verilen açı ölçüleri bir ikizkenar üçgene ait değildir?

- A) 55° ve 45° B) 72° ve 36°
C) 140° ve 20° D) 45° ve 90°

11. Aşağıdakilerden hangisinde verilen doğru şeklin simetri doğrusu değildir?



12. Aşağıdakilerden hangisi kullanılarak süsleme yapılamaz?

- A) Çember B) Dikdörtgen
C) Eşkenar üçgen D) Kare



TEVFİK İLERİ İMAM HATİP ORTAOKULU GİRİŞ SINAVI

13. Bir adımının uzunluğu 45 cm olan Meltem 900 metrelik yolu kaç adımda gider?

- A) 12 B) 20 C) 200 D) 2000

14. 6 saat 20 dakika sonra 14.15'yi gösterecek olan saat kaç göstermektedir?

- A) 6.55 B) 7.45 C) 7.55 D) 8.55

15. 6 litre meyve suyunun tamamı 120 mililitrelik bardaklara taşmayacak şekilde doldurulacaktır.

Bunun için en az kaç bardağa ihtiyaç vardır?

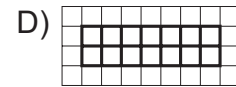
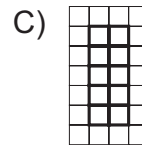
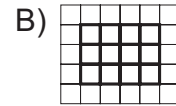
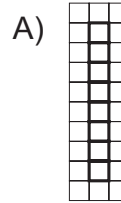
- A) 20 B) 25 C) 40 D) 50

16. Tüm özellikleri aynı olan 15 adet bilyenin ağırlığı 600 gramdır.

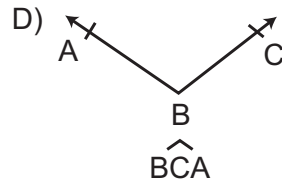
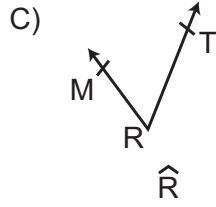
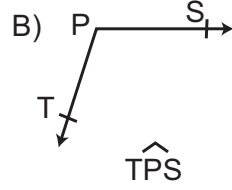
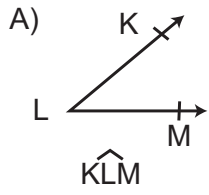
Buna göre 450 adet bilye kaç kilogramdır?

- A) 18 B) 36 C) 180 D) 360

17. Aşağıda kareli zeminde verilen dikdörtgenlerden hangisinin alanı en büyüktür?



18. Aşağıdakilerden hangisinde açının adı yanlış yazılmıştır?

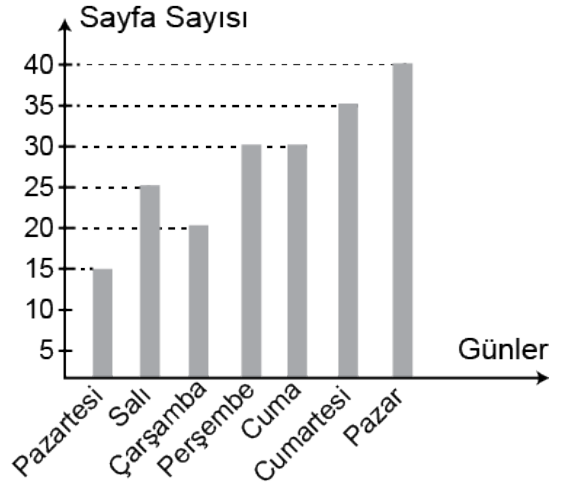


19. Aşağıdakilerden hangisinde olasılık belirten bir ifade kullanılmamıştır?

- A) Bu müsabakayı Nurşen kazandı.
- B) Bu sınavı kazanmam imkansız.
- C) Bugün muhtemelen yağmur yağmaz.
- D) Bir zar havaya atıldığında 5 sayısının gelmesi olasıdır.

20. Aşağıdaki grafik Hülya'nın bir haftada okuduğu kitapların sayfa sayılarını göstermektedir.

Grafik: Okunan sayfa sayısı



Grafiğe göre aşağıdakilerden hangisi doğrudur?

- A) En çok cumartesi günü kitap okumuştur.
- B) Pazar günü okuduğu sayfa sayısı ile pazartesi günü okuduğu sayfa sayısı arasındaki fark 25'tir.
- C) Perşembe günü okuduğu sayfa sayısı cuma günü okuduğu sayfa sayısından 5 fazladır.
- D) Pazartesi ve perşembe günü okuduğu sayfa sayılarının toplamı salı günü okuduğu sayfa sayısından azdır.

FEN BİLİMLERİ TESTİ

1. Destek ve hareket sistemimizin sağlığını korumak için aşağıdakilerden hangisini yapmamalıyız?

- A) Spor ve egzersiz yapmalıyız.
- B) Düzenli ve dengeli beslenmeliyiz.
- C) Yeterli miktarda kalsiyum almalıyız.
- D) Ağır cisimleri dizlerimizi bükmeden kaldırmalıyız.

2. Yasemin'in yaptığı bazı faaliyetler sonucundaki nabız sayısı tabloda verilmiştir.

Faaliyet	Nabız Sayısı
Ödev yaparken	90
★	110
Uyurken	●

Buna göre tablodaki ★ ve ● yerine aşağıdakilerden hangilerinin yazılması doğru olur?

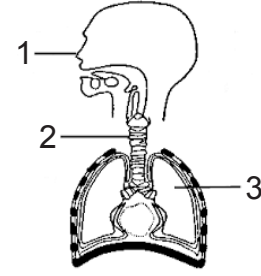
★	●
A) Koşarken	110
B) Koşarken	80
C) Yemek yerken	80
D) Dinlenirken	90

3. Yürümeye yeni başlayan bebeklerin özellikle protein ve kalsiyum yönünden iyi beslenmeleri ve yeterince D vitamini için güneş ışığı almaları tavsiye edilir.

Bebeklik döneminde önemle vurgulanan bu tavsiyeler hangi sistemimizin sağlığını olumlu etkiler?

- A) Destek ve hareket
- B) Solunum
- C) Dolaşım
- D) Boşaltım

4. Aşağıda verilen insan modelinde solunum sistemine ait yapı ve organlar gösterilmiştir.



Buna göre 1, 2 ve 3 ile gösterilen yerlere hangi yapı veya organların adları gelmelidir?

1	2	3
A) Burun	Gırtlak	Kalp
B) Yutak	Soluk borusu	Akciğer
C) Burun	Soluk borusu	Akciğer
D) Yutak	Gırtlak	Akciğer

5. Tabloda insana ait bazı yapı ve organlar verilmiştir.

1. Kalp	2. Burun
3. Gırtlak	4. Kan
5. Damar	6. Karaciğer
7. İnce Bağırsak	8. Yutak

Bu yapılardan hangileri kanın vücutta dolaşımında görev alır?

- A) 2, 3 ve 8
- B) 6, 7 ve 8
- C) 4, 5 ve 6
- D) 1, 4 ve 5

6. Ahmet, bahçede duran yumuşak plastik bir topa ayağıyla çok kuvvetli bir şekilde vuruyor.

Uygulanan bu kuvvetin cisim üzerindeki etkileri nelerdir?

- A) Yavaşlatma ve durdurma
- B) Yavaşlatma ve hareket ettirme
- C) Hareket ettirme ve geçici olarak şekil değiştirme
- D) Yavaşlatma ve geçici olarak şekil değiştirme

7. Aşağıda verilen aydınlatma araçlarından hangileri geçmişte yaygın olarak kullanılıyordu?

- 1. Gaz lambası
 - 2. Floresan lamba
 - 3. Yağ lambası
 - 4. Tasarruflu ampul
 - 5. Mum
- A) 1, 2 ve 3 B) 1, 3 ve 5
C) 2, 3 ve 4 D) 2, 4 ve 5

8. Fen Bilimleri dersinde öğrenciler bir bilyenin hacmini ölçmek istemektedirler.



Buna göre deneyi gerçekleştirmek için hangi malzemeleri kullanmalarına gerek yoktur?

- A) I ve V
- B) II, III ve IV
- C) I, IV ve V
- D) II, III, IV ve V

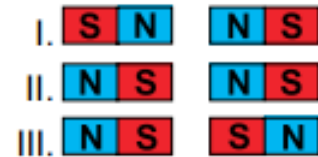
9. Şekildeki cisim ok yönünde hareket etmektedir.



Cisme arkasından bir itme kuvveti uygulandığında aşağıdakilerden hangileri gerçekleşebilir?

- I. Hızlanır.
 - II. Durur.
 - III. Yavaşlar.
 - IV. Yön değiştirir.
- A) Yalnız I B) I ve IV
C) II ve IV D) I, II, III ve IV

10. Birbirine etki edecek kadar uzaklıkta bulunan mıknatıslar üç farklı durumda şekildeki gibi verilmiştir.



Yukarıdaki durumların hangilerinde mıknatıslar birbirini çeker?

- A) Yalnız I
- B) Yalnız II
- C) I ve II
- D) II ve III

11. Derya, odasında parfüm sıkıyor. Derya'nın anesi odanın diğer yerinden bu kokuyu algılıyor.

Bu durum maddenin hangi özelliğinden kaynaklanmaktadır?


- A) Sıvılar ortama hızla yayılır.
- B) Burnumuz, en hassas kokuları bile alır.
- C) Katılar, gazlarla beraber ortalama aynı hızla yayılır.
- D) Gazlar buldukları ortama hızla yayılır ve bu ortamı doldurur.

12. "Belli bir şekli vardır. Dışarıdan bir etki olmadığı sürece şeklini korur, sıkıştırılmaz."

Buna göre aşağıdaki maddelerden hangileri bu özelliklere sahiptir?

- A) Limonata – Kolonya – Parfüm
- B) Kalem – Balon – Parfüm
- C) Kitap – Bilye – Çanta
- D) Oksijen – Su – Buz

13. Seda, şekildeki akvaryumda 3 L su varken, içindeki balığı dışarı çıkarıyor. Balık çıkarıldıktan sonra suyun seviyesi 2 850 mL'ye düşüyor.



Buna göre balığın hacmi kaç mililitredir?

- A) 5 850 mL
- B) 1 150 mL
- C) 250 mL
- D) 150 mL

14. **Düzensiz bir şekli olmayan katının hacmini ölçerken aşağıdakilerden hangisini kullanmayız?**

- A) Terazisi
- B) Dereceli kap
- C) Sıvı madde
- D) Hacmi ölçülecek katı madde

15. **Aşağıda ses kirliliği ile ilgili verilen bilgilerden hangileri doğrudur?**

- I. Gürültülü ortamlar iş verimliliğini artırır.
- II. Binalarda ısı yalıtımı gerekli iken, ses yalıtımı gerekli değildir.
- III. Düzensiz ve yüksek şiddetteki sesler ses kirliliğine neden olur.

- A) Yalnız I
- B) Yalnız II
- C) Yalnız III
- D) I ve II

16.

1. Su	2. Salata	3. Ayran
4. Oksijen	5. Limonata	6. Altın

Tablodaki ifadelerin doğru sınıflandırılması aşağıdakilerden hangisinde doğru olarak verilmiştir?

- | | Saf Madde | Karışım |
|----|-----------|---------|
| A) | 1, 2, 3 | 4, 5, 6 |
| B) | 1, 4, 6 | 2, 3, 5 |
| C) | 2, 3, 5 | 1, 4, 6 |
| D) | 2, 3, 6 | 1, 4, 5 |

17. Kum, tuz ve demir tozu karışımını ayırmak için aşağıda verilen ayırma yöntemleri hangi sırayla uygulanmalıdır?

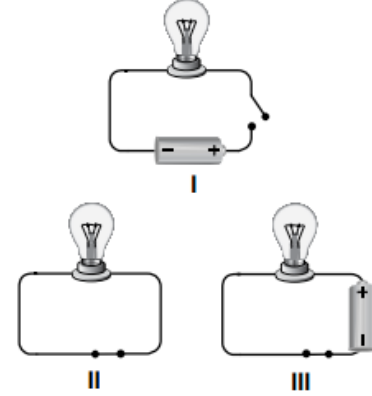
1. Mıknatısla Ayırma
 2. Suda çözme
 3. Buharlaştırma
 4. Süzme
- A) 1 – 2 – 3 – 4 B) 1 – 2 – 4 – 3
C) 2 – 3 – 4 – 1 D) 2 – 3 – 1 – 4

18. Çöpler; kağıt, plastik, gıda, cam, tahta gibi pek çok atık içeren karışımlardır.

Aşağıdakilerden hangisi bu karışımları ayırıp geri dönüşüm yapma nedenlerimizden değildir?

- A) Ülke ekonomisine katkı sağlamak
- B) Tüketen değil, üreten bir toplum olmak
- C) Diğer ülkelerin atık ihtiyacını karşılamak
- D) Geleceğe miras bırakacağımız temiz bir çevre bırakmak

19. Şekilde basit elektrik devreleri verilmiştir.



Buna göre bu devrelerden hangileri ışık vermez?

- A) Yalnız I B) Yalnız III
C) I ve II D) I, II ve III

TEVFİK İLERİ İMAM HATİP ORTAOKULU MÜDÜRLÜĞÜ

20. • Kütleli ve hacmi olan her varlığa –(■)– denir.

Örnek: -- (●) --.

• Katı maddenin biçimlendirilmiş şekline – (▲)– denir.

Örnek: --(◆) --.

Yukarıdaki cümlelerin doğru olarak tamamlanabilmesi için numara ile gösterilmiş yerlere sırasıyla hangi ifadeler getirilmelidir?

- | | | | |
|----------|-------|-------|--------|
| ■ | ● | ▲ | ◆ |
| _____ | _____ | _____ | _____ |
| A) cisim | demir | madde | kağıt |
| B) madde | demir | cisim | elbise |
| C) madde | kaşık | cisim | defter |
| D) madde | demir | cisim | ağaç |

Fen Bilimleri Testi Bitti.
Diğer Teste Geçiniz. →



SOSYAL BİLGİLER TESTİ

1. Bireyin kendine özgü, başkalarında olmayan özelliklerine bireysel özellik denir.

Buna göre, aşağıdakilerin hangisi bireysel özelliklerden biri değildir?

- A) Fırat'ın gözleri ela ve saçları sarı renkte.
B) Ahmet satranç yerine futbol oynamaktan daha çok keyif alıyor.
C) Murat evlerinin bahçesinde evcil hayvan beslemeyi çok seviyor.
D) Öğretmenlerimiz derste işlenen konuların tekrarı için genellikle bize ödev veriyor.

2. İsmim Ahmet 5. Sınıf öğrencisiyim. Futbol oynamaktan oldukça keyif alıyorum. Bir gün arkadaşlarıma bir futbol takımı kurmayı önerdim. Kurduğumuz takım içerisinde antrenmanlar yapmaya başladık. Antrenmanımızı izleyen bir grup arkadaş bize maç yapmayı teklif etti ve biz de kabul ettik. Takım arkadaşlarımla birbiri ile uyumlu olması sonucunda maçı biz kazandık.

Bu durumun sonucunda Ahmet'in duyguları arasında aşağıdakilerin hangisi yer almaz?

- A) Kaygılanmak
B) Sevinç duymak
C) Mutluluk duymak
D) Başarılı hissetmek

3. I. Depremler sonucunda insanların yaşamını yitirmesine çok üzülüyorum.
II. Hafta sonu teyzemlere gideceğimizi duyduğumda çok sevinmişim.
III. Arkadaşım tükenmez kalemimi kullanmak için benden izin almalıydı.

Yukarıda verilenlerin hangileri bir duyguyu ifade etmektedir?

- A) Yalnız I
B) Yalnız II
C) I ve II
D) II ve III

4. **Aşağıdakilerin hangisi saygılı bir öğrenci davranışı olarak gösterilebilir?**

- A) Arkadaşlarının sorularını cevaplamak
B) Arkadaşı konuşurken sözünü kesmek
C) Arkadaşlarının eşyalarını izinsiz kullanmak
D) Arkadaşlarının oynadığı oyunların hiçbirine katılmamak

5. **Güneşin konumuna göre yön bulmak isteyen birisi aşağıdakilerin hangisini söylerse yanlış olur?**

- A) Güneşin doğduğu taraf doğu yönünü göstermektedir.
B) Sağ kolumuzu doğu yönüne uzattığımızda sol kolumuz batı yönünü göstermektedir.
C) Sol kolumuzu batı yönüne uzattığımızda arka tarafımız güney yönünü göstermektedir.
D) Sağ kolumuzu doğu yönüne uzattığımızda ön tarafımız güney yönünü göstermektedir.



TEVFİK İLERİ İMAM HATİP ORTAOKULU GİRİŞ SINAVI

6. Aşağıdakilerin hangisi ara yönlerden birisidir?

- A) Batı B) Kuzeydoğu
C) Güney D) Kuzey

7. Ormanlık bir alanda kaybolduğumuzu düşünürsek yönümüzü belirlemek için kullanacağımız yöntemlerden hangisi daha kolay ve güvenilirdir?

- A) Ağaçların yosun tutan tarafına bakmak
B) Güneşin konumuna göre yönümüzü bulmak
C) Pusula kullanmak
D) Taşların yosun tutan tarafına bakmak

8. Aşağıdakilerin hangisi bir yerin hava durumu hakkında bilgi vermez?

- A) Rize'de yarından sonra hava kapalı ve bulutlu olacak.
B) Ankara ve çevresinde öğleden sonra yoğun dolu yağışı beklenmektedir.
C) Artvin ili çevresinde akarsuların taşıdığı su miktarı oldukça fazladır.
D) Kırıkkale yolu üzerinde bugün yoğun kar yağışı sebebiyle trafik kazası meydana geldi.

9. Aşağıdakilerin hangisi insanların doğal ortamda yaptığı olumsuz bir davranışa örnek olarak gösterilir?

- A) Tarım alanlarında buğday yetiştirmek
B) Orman alanlarına yerleşim yeri kurmak
C) Akarsulardan içme suyu elde etmek
D) Hayvancılık faaliyetlerinde bulunmak

10. Aşağıdakilerin hangisi doğal unsurlar arasında gösterilemez?

- A) Dağlar B) Okyanuslar
C) Akarsular D) Barajlar

11. Doğal afetlerin meydana gelmesi engellenemez. Ancak alınacak tedbirlerle vereceği zararlar engellenebilir ya da azaltılabilir.

Aşağıdakilerin hangisi bu tedbirler arasında yer almaz?

- A) Depreme dayanıklı binaların yapılması
B) Dere yataklarına yerleşim yerleri kurulması
C) Eğimli yerlerde ağaçlandırma çalışmaları yapılması
D) Erken uyarı sistemlerinin kurulması



TEVFİK İLERİ İMAM HATİP ORTAOKULU GİRİŞ SINAVI

12. Deprem öncesinde hazırlanacak olan deprem çantası içerisinde aşağıdakilerden hangisine yer verilmemelidir?

- A) Tablet bilgisayar B) Su
C) Bisküvi D) El feneri

13. Deprem sırasında aşağıdakilerin hangisinin yapılması yanlış bir davranıştır?

- A) Telaşlanmamak
B) Merdivenleri kullanarak binayı terk etmek
C) Pencere ve kapılardan uzak bir yerde sabit durmak
D) Üzerimize düşebilecek eşyalardan uzak durmak

14. 'Su hayattır. Lütfen boşa akıtmayalım.' Bu slogan doğrultusunda aşağıdakilerden hangisi söylenemez?

- A) Diğer doğal kaynakların su kaynaklarından daha değerli olduğu
B) Su kaynaklarının insan yaşamı için gerekli olduğu
C) Su kaynaklarının bilinçli kullanılması gerektiği
D) Su kaynaklarının tükenebilir olduğu

15. Aşağıdakilerden hangisi alışveriş yaparken dikkat etmemiz gereken durumlardan biri değildir?

- A) İhtiyacımız olmayan ürünleri almamak
B) TSE damgalı ürünleri tercih etmek
C) Satın alacağımız ürünün en ucuz olanını almak
D) Satın alacağımız ürünlerin son kullanma tarihlerini kontrol etmek

16. Ömer, annesi ile markete gittiğinde oyuncak reyonundaki robot oyuncacı çok beğendi ve annesinden bu oyuncacı almasını istedi. Annesi, Ömer'e istediği robotu ve ihtiyaçları olan diğer ürünleri alıp evlerine döndüler. Evlerine gittiklerinde robotun pillerini takıp çalıştırmak istediler fakat robotun çalışmadığını fark ettiler.

Ömer'in annesi bu durum karşısında öncelikle aşağıdakilerden hangisine başvurmalıdır?

- A) Satın alınan markete
B) Alo Tüketici Hattı'na
C) Tüketici Hakları Mahkemesi'ne
D) Tüketici Dernekleri Federasyonu'na



TEVFİK İLERİ İMAM HATİP ORTAOKULU GİRİŞ SINAVI

17. Aşağıdakilerden hangisi işlenmiş bir maddeye örnek olarak gösterilir?

- A) Toprak B) Un
C) Kiraz D) Süt

18. - İnsanlarla iletişim kurmayı seven
- Sürekli araştıran ve yeni bilgiler öğrenen
- Öğrendiği bilgileri başkalarına aktarmaktan mutluluk duyan

Yukarıdaki özelliklere sahip bir kişinin aşağıdaki mesleklerden hangisini seçmesi daha uygun olur?

- A) Veterinerlik
B) Öğretmenlik
C) İtfaiye memuru
D) Elektronik mühendisi

19. Aşağıdakilerden hangisi insanların yaşamını devam ettirebilmeleri için diğerlerine göre daha öncelikli bir ihtiyaçtır?

- A) Beslenme B) Eğlenme
C) Ulaşım D) Eğitim

20. Aşağıdakilerden hangisi kültürel özelliklerimiz arasında gösterilemez?

- A) Bayramlarda aile büyüklerimizi ziyaret etmek
B) Düğün öncesinde kına gecesi eğlencesi düzenlemek
C) Askerlik görevini kutsal bir görev olarak kabul etmek
D) Belirlediğimiz mesleğe sahip olmak için gayret göstermek



T.C.
MİLLİ EĞİTİM BAKANLIĞI
TEVFİK İLERİ İMAM HATİP ORTAOKULU
GİRİŞ SINAVI

DİN KÜLTÜRÜ VE AHLAK
BİLGİSİ TESTİ

1. Aşağıdakilerden hangisi Kelime-i Tevhid'in anlamıdır?
- A) Allah'tan başka ilah yoktur. Hz. Muhammed (sav.) Allah'ın Peygamberidir.
B) Allah'ın selamı Hz. Muhammed (sav.)'in ve ailesinin üzerine olsun.
C) Rahman ve Rahim olan Allah'ın adıyla
D) Allah'ın selamı rahmeti ve bereketi üzerine olsun.
2. Aşağıdakilerden hangisi günlük hayatta yer verilen dini ifadelerden biri değildir?
- A) Maşallah
B) Şansın açık olsun
C) Allah rahmet eylesin
D) Hamdolsun
3. Temizlik, maddi ve manevi olmak üzere ikiye ayrılır.
Aşağıdakilerden hangisi sadece manevi temizliğe örnektir?
- A) Abdest almak
B) Elbiseyi yıkamak
C) Camiyi temizlemek
D) Doğru sözlü olmak
4. Aşağıdakilerden hangisi İslam dininin uygun gördüğü davranışlardandır?
- A) Hırsızlık yapmak
B) İftira etmek
C) Dedikodu yapmak
D) İbadet etmek
5. Aşağıdakilerden hangisi Hz. Muhammed (sav.)'in akrabalarından biri değildir?
- A) Abdulmuttalip
B) Ebu Talip
C) Ebubekir
D) Abdullah
6. Aşağıdakilerden hangisi Hz. Muhammed (sav.)'in doğduğu çevrenin özelliklerinden biri değildir?
- A) Okuma yazma oranının düşük olması
B) Erkek çocuklarının kız çocuklarından üstün tutulması
C) Miras dağılımında kadın ve erkekler arasında eşit davranılması
D) İnsanların çoğunluğunun müşrik inancına sahip olması



TEVFİK İLERİ İMAM HATİP ORTAOKULU GİRİŞ SINAVI

7. Aşağıdakilerden hangisi Hz. Muhammed (sav.)'e duyulan sevginin sembolüdür?

- A) Gül B) Lale
C) Kardelen D) Karanfil

8. "Ancak sana kulluk eder ve yalnız senden yardım dileriz."

Anlamı verilen ayet aşağıdaki surelerden hangisinde yer almaktadır?

- A) İhlas B) Fatıha
C) Kevser D) Kureyş

9. 1. İlk vahyi alması
2. Hz. Hatice ile evlenmesi
3. Erdemliler Topluluğu'na katılması
4. Amcasının himayesine verilmesi

Bu olaylardan hangisi Hz. Peygamberin hayatında diğerlerinden sonra gerçekleşmiştir?

- A) 1 B) 2 C) 3 D) 4

10. Aşağıdakilerden hangisi 'Kevser' kelimesinin anlamlarından biri değildir?

- A) Hayır B) Bereket
C) Nimet D) Soyu kesik

11. Aşağıdakilerden hangisi Kuran-ı Kerim'in özelliklerinden biri değildir?

- A) Yol göstericidir.
B) Son ilahi kitaptır.
C) Arapça olarak indirilmiştir.
D) Hz. Peygamber'e bir defada indirilmiştir.

12. Kuran-ı Kerim hangi halife zamanında çoğaltılmıştır?

- A) Hz. Ebubekir B) Hz. Ömer
C) Hz Osman D) Hz. Ali



TEVFİK İLERİ İMAM HATİP ORTAOKULU GİRİŞ SINAVI

13. Kuran-ı Kerim'in her yirmi sayfadan oluşan bölümüne ne ad verilir?

- A) Ayet
B) Cüz
C) Sure
D) Vahiy

14. Aşağıdakilerden hangisi ailedeki huzur ve mutluluğu olumsuz etkiler?

- A) Sorumsuz davranmak
B) Hoşgörülü olmak
C) Yardımlaşmak
D) Sevgi ve saygı göstermek

15. "Sizin en hayırlısınız, kadınlara en iyi davranmanızdır."

Bu hadisten aşağıdakilerden hangisi çıkarılamaz?

- A) Bayanlara iyi davranılmalıdır.
B) Hoşgörülü olunmalıdır.
C) İnsanlara değer verilmelidir.
D) Kız çocukları, erkeklerden daha çok sevilmelidir.

16. Hz. Muhammed (sav.) Mekke'nin Fethi'nden sonra genel af uygulamıştır.

Bu davranışı, Hz. Muhammed (sav.)'in aşağıdaki özelliklerinden hangisine örnek oluşturur?

- A) Çalışkanlığına
B) Merhametine
C) Cesaretine
D) Sabırlı olmasına

17. Bir kişinin mü'min olmasının ilk şartı aşağıdakilerden hangisidir?

- A) İbadetleri yerine getirmek
B) Gusül abdesti almak
C) Allah'ın varlığına ve birliğine inanmak
D) Allah'ın varlığı ve birliğine inandığını söylemek

18. Hz. Muhammed (sav.) hangi yılda vefat etmiştir?

- A) 610
B) 622
C) 630
D) 632



TEVFIK İLERİ İMAM HATİP ORTAOKULU GİRİŞ SINAVI

19. İbadet maddi bir karşılık beklenmeden Allah rızası için yapılan her türlü davranıştır.

Buna göre, aşağıdaki davranışlardan hangisi diğerlerinden farklıdır?

- A) Sadaka vermek
- B) Bağışta bulunmak
- C) Borç vermek
- D) Zekât vermek

20. Aşağıdaki davranışlardan hangisini yapmak günahdır?

- A) Kötü lakap takmak
- B) İnsanlara yardım etmek
- C) Çevreyi korumak
- D) Namaz kılmak

**Din Kültürü ve Ahlak Bilgisi Testi Bitti.
Cevap Anahtarınızı Kontrol Ediniz.**

SINAV BAŞLAMADAN ÖNCE AŞAĞIDAKİ UYARILARI MUTLAKA OKUYUNUZ.

1. Sınav kimlik bilgilerinizin doğruluğundan emin olunuz.
2. Sınav başladıktan sonra çevrenizdekilerle konuşmayınız.
3. Soruları cevaplamaya istediğiniz sorudan başlayabilirsiniz.
4. Cevaplarınızı cevap anahtarındaki ilgili soru numarasını dikkate alarak uygun bölüme kodlayınız.
5. Değiştirmek istediğiniz cevabı cevap anahtarına kodladığınızdan emin olunuz.
6. Cevabını bilmediğiniz sorular üzerinde fazla zaman kaybetmeden diğer sorulara geçiniz. Zaman kalırsa bu sorulara daha sonra dönebilirsiniz.
7. Sınav puanınızın hesaplanmasında sadece doğru cevaplarınız dikkate alınacaktır.
8. Cevap anahtarınızı sınav süresince başkalarının göremeyeceği şekilde önünüzde bulundurunuz.
9. Sınav sırasında sözlük, hesap makinası, cep telefonu ve bilgisayarınızın bu özelliklerini kullanmayınız.
10. Sınav süresince yerinizden ayrılmayınız.