



# TEVFİK İLERİ ANADOLU İMAM HATİP LİSESİ (ORTAOKUL KISMI) 2018-2019 EĞİTİM ÖĞRETİM YILI

# 7

## SINIFLAR

# SIRALAMA SINAVI

1. Bu sınav 2018-2019 Eğitim-Öğretim Yılı Tefik İleri Anadolu İmam Hatip Lisesi'ne yerleşecek öğrencilerin kavram düzeylerini ölçmek amacıyla hazırlanan "SIRALAMA SINAVI"dır.
2. Sınav toplam 100 soru ve Türkçe, Matematik, Din Kültürü ve Ahlak Bilgisi, Fen Bilimleri ve Sosyal Bilgiler testlerinden oluşmaktadır. Her test 20 sorudan ibarettir.
3. Soruların cevaplarını Cevap Kağıdında ait olduğu sütuna işaretleyiniz.
4. Cevap Kağıdında, Adı-Soyadı, T.C. Kimlik Numarası ve Öğrenci No. bölümlerini kodlamayı unutmayınız.

### SINAVA BAŞLAMADAN ÖNCE AŞAĞIDAKİ UYARILARI MUTLAKA DİKKATLİCE OKUYUNUZ

1. Sınav kimlik bilgilerinizin doğruluğundan emin olunuz.
2. Sınav başladıktan sonra çevrenizdekilerle konuşmayınız.
3. Soruları cevaplamaya istediğiniz sorudan başlayabilirsiniz.
4. Cevaplarınızı cevap anahtarındaki ilgili soru numarasını dikkate alarak uygun bölüme kodlayınız.
5. Değiştirmek istediğiniz cevabı cevap anahtarına kodladığınızdan emin olunuz.
6. Cevabını bilmediğiniz sorular üzerinde fazla zaman kaybetmeden diğer sorulara geçiniz. Zaman kalırsa bu sorulara daha sonra dönebilirsiniz.
7. Sınav puanlarınızın hesaplanmasında sadece doğru cevaplarınız dikkate alınacaktır.
8. Cevap anahtarınızı sınav süresince başkalarının görmeyeceği şekilde önünüzde bulundurunuz.
9. Sınav sırasında sözlük, hesap makinası, cep telefonu ve bilgisayarınızın bu özelliklerini kullanmayınız.
10. Sınav süresince yerinizden ayrılmayınız.







1. "Karışmak" sözcüğü aşağıdaki cümlelerin hangisinde "müdahale etmek" anlamında kullanılmıştır?

- A) Müdür, işlerin karıştığını anlayarak hepimizi odasına çağırdı.
- B) Onun davranışlarına karışmaya hakkı olmadığını bilmeli.
- C) Toplantının yapılacağı tarih değişince kafam karıştı.
- D) Masanın üstündeki evraklar karıştığı için dilekçenizi bulamadık.

2. Her gittiğim yerde olduğu gibi burada da köylülerin beni şüpheyle karşılayacaklarını sanıyordum. Hâlbuki hiç de öyle olmamıştı. Bunun sebebini sonradan öğrendim, sütninem köyüne döndüğünden beri her önüne gelene benim hikâyemi anlatıyormuş. Bu küçük köyde kaldığım müddetçe bir aile sıcaklığı bulmuştum. Sokaklardan geçerken "Ninenin Süleyman'ı" diye fısıldadıklarını işittikçe kendimi buralı hissediyordum.

**Bu metinde geçen "bir aile sıcaklığı bulmak" sözüyle anlatılmak istenen aşağıdakilerden hangisidir?**

- A) Kalabalık aile ortamını özlemek
- B) Kendini evinde hissetmek
- C) Cana yakın tavırlar sergilemek
- D) Sıcak iklimlerde yaşamayı düşlemek

3. Aşağıdaki cümlelerin hangisinde altı çizili sözcük mecaz anlamda kullanılmıştır?

- A) Salata için domates soyarken bıçak elimden düştü.
- B) Çocuklara tatlı bir şeyler ikram ettik.
- C) Taşdığı ağır yükün altında dizleri titreyen adam güçlkle yürüyordu.
- D) Komik bir anısını anlatarak ortamı yumuşattı.

4. Söylediklerinin doğru ve tam anlaşılmasını isteyen biri dili iyi kullanmalıdır. (I) Çünkü bir dilin kurallarına hâkim olmadan toplumun diğer bireyleriyle sağlam bir iletişim kurulamaz. (II) Cümleyi oluşturan sözleri birbirine doğru bağlamak, bize kendimizi doğru ifade etme olanağı sağlar. (III) İyi bir cümle aynı zamanda açık ve anlaşılır olmalıdır. (IV) Süsüz ve laf kalabalığından arınmış bir cümle düşüncelerimizin karşı tarafa doğru aktarılmasına yardımcı olur.

**Bu metindeki numaralanmış cümlelerden hangileri kendinden önceki cümlenin gerekçesi durumundadır?**

- A) II ve III.      B) I ve IV.
- C) III ve IV.    D) I ve II.





5. (I) Pek çoğu zamanında ipekböcekçiliği için yapılan ve yaşları 150'yi bulan Göynük evlerinde giriş katı depo ve kiler olarak kullanılıyor. (II) Ara katta gündelik kilerler, hizmetçi odaları ve mutfak yer alıyor. (III) Pastel ve canlı tonların iç içe girdiği evler, film bittikten sonra yıkılacak evler gibi duruyor. (IV) Pencereleleri, çerçeveleri işlemeli kapı tokmaklarıyla hepsi birer tabloyu andırıyor.

**Bu metinle ilgili,**

- I. Yalnızca ilk cümle nesnedir.
- II. Koşul cümlesi vardır.
- III. Üçüncü ve dördüncü cümlelerde benzetme yapılmıştır.
- IV. İkinci cümlede kişisel görüşe yer verilmemiştir.

**yargılarından hangileri doğrudur?**

- A) I ve II      B) I ve III.  
C) II ve IV.      D) III ve IV.

6. Başka sanat bilmeyiz karşımızda dururken  
Yazılmamış bir destan gibi Anadolu'muz  
Arkadaş biz bu yolda türküler tutturdurken  
Sana uğurlar olsun, ayrılıyor yolumuz

**Bu dizelerde aşağıdaki söz sanatlarından hangisine yer verilmiştir?**

- A) Kişileştirme      B) Konuşturma  
C) Abartma      D) Benzetme

7. **Aşağıdaki cümlelerin hangisinde "pişmanlık" anlamı vardır?**

- A) İstesek de istemesek de oraya gideceğiz.  
B) Bu sınavı kazanacağımı biliyorum.  
C) Keşke ona kaba davranmasaydım.  
D) Gittin gideli bir kez olsun aramadın!

8. Yemeklerini yediler. Eşyalarını kızağa yükleyip ateşi söndürmeden yola çıkarak karanlığın içine daldılar. Her yönden soğuk ve karanlığı yırtıp gelen ulumalar, hiç durmadan yükseliyor, sanki birbirlerine yanıt veriyordu. Gün ancak saat dokuzda doğru aydınlandı; öğleye doğru soldu, giderek boz bulanık bir renk aldı. Saat üçten sonra o grilik de silindi. Karanlık bastırır bastırmaz kurt ulumaları da arttı.

**Bu metinle ilgili aşağıdakilerden hangisi söylenemez?**

- A) Anlatıcı üçüncü kişidir.  
B) Zaman belirsizdir.  
C) Anlatılanların kimin başından geçtiği belirsizdir.  
D) Yaşanmış veya yaşanabilecek bir olay anlatılmaktadır.





9. Kitap okurken ayraç kullanmak yerine sayfaları kıvrıranların, satırların altını renkli kalemle çizenerin gerçek birer kitapsever olduklarını düşünmüyorum. Kitapsever, okuduğu kitaba gözü gibi bakar; okuduktan sonra rafa kaldırır, arada bir tozunu alır. Çünkü bir gün yeniden o kitabı okuyabileceğini düşünür. Belki yıllar sonra yepyeni bir bakış açısıyla okuyacağı kitabın sayfalarına zarar vermekten çekinir. Onu ilk günkü gibi saklamaya özen gösterir.

**Bu metinde asıl anlatılmak istenen aşağıdakilerden hangisidir?**

- A) Kitapları hor kullananların insanlara da saygısı yoktur.  
B) Kitapseverler, her çeşit kitabı okumaya heveslidir.  
C) Okuduğu kitaba zarar verenler gerçek kitapsever değildir.  
D) Sevilen kitaplar, yıllar geçse dahi hafızalardan silinmez.

10. Kavağının suna gibi boyu var  
Irmağında insan kapma huyu var  
Oyunu var, türküsü var, suyu var  
Gönülleri birbirine katıyor

**Bu dörtlüğün ana duygusu aşağıdakilerden hangisidir?**

- A) Sevgili özlemi  
B) Memleket sevgisi  
C) Yalnızlık endişesi  
D) Kavuşma isteği

11. Zor günlerdi, edebiyat dünyası ağır baskılara direnmelere çalışıyordu. Onunla tanışmamız bu döneme rastlar. Ona imrenirdim hep çünkü korkusuzdu. Kendinden emindi. Yollarımız kapalı, ellerimiz bağlı demez, çözüm yolu üretmeye çalışırdı. Bu zor dönemi, onun destekleri sayesinde atlattığımı itiraf ediyorum.

**Bu parça aşağıdaki metin türlerinden hangisine örnek gösterilebilir?**

- A) Anı  
B) Deneme  
C) Destan  
D) Söylev

12. Bozkırda kara bir yılan gibi süzülüyor tren

I

Bozkırın o umursamaz boşluğunda

II

Sonra dağlara sarılıyor

III

Başı dönüyor uçurumların kıyısında

**Bu dizelerde numaralanmış sözcüklerin yapısı aşağıdakilerin hangisinde doğru gösterilmiştir?**

- |             | I       | II      | III |
|-------------|---------|---------|-----|
| A) Basit    | Türemiş | Türemiş |     |
| B) Birleşik | Basit   | Türemiş |     |
| C) Birleşik | Türemiş | Basit   |     |
| D) Birleşik | Basit   | Basit   |     |



13. En güzel rüzgârların bile bir sonu vardır

I

Bir bahar rüzgârından alarak bir sabah hız  
Mevsimlerin ömrünü yaşamıştı aşkimiz

II

III

Onu şimdi kaybettim ve şimdi sonbahardır  
IV

Bu dizelerde numaralanmış sözcük-  
lerden hangisi hem üçüncü tekil iye-  
lik ekini hem de belirtme durumu  
ekini almıştır?

A) I. B) II. C) III. D) IV.

14.



Bu görselden hareketle görselin ait  
olduğu bölge ile ilgili aşağıdakiler-  
den hangisi hakkında yorum yapıla-  
maz?

A) Hayvan çeşitliliği  
B) Doğal görünümü  
C) Giyinme biçimleri  
D) Dünya üzerindeki yeri

15 ve 16. soruları  
aşağıdaki metne göre yanıtlayınız.

(I) Soluk, soluğa daracık sokağı tır-  
mandım. (II) Tek arkadaşım olan Meh-  
met ile buluşacaktım ama oyunda za-  
manın nasıl geçtiğini anlamamışım.  
(III) Mehmet çoktan eve gitmiştir di-  
ye düşündüm. (IV) Parkın köşesine va-  
rınca Mehmet'i bir kaç çocukla oynar-  
ken buldum.

15. Numaralanmış cümlelerin hangisinde  
noktalama yanışı vardır?

A) I. B) II. C) III. D) IV.

16. Bu metindeki yazım yanışı aşağıdaki  
değişikliklerin hangisiyle giderilebilir?

A) "Mehmet ile" yerine "Mehmet'le"  
yazılarak  
B) "dönmüştür" yerine "dönmüşdür"  
yazılarak  
C) "oyunda" sözcüğündeki "da" ayrı  
yazılarak  
D) "bir kaç" sözcüğü "birkaç" biçimin-  
de yazılarak

**17–20 soruları aşağıdaki metne göre yanıtlayınız.**

Gün geçmiyor ki bilim dünyası yeni bir haberle sarsılsın. Yeni bulgular ışığında Neandertaller ile ilgili yaygın görüşler de değişmeye başladı. Neandertaller bundan 100 bin yıl önce Avrupa'da aniden ortaya çıkmış ve yaklaşık 35 bin yıl önce de yine hızlı ve sessiz bir biçimde yok olmuş insanlardır. Günümüzde pek çok araştırmacı Neandertal insanını günümüz insanından daha az zeki ve daha az becerikli olarak nitelendirmektedir. Ancak Fransa'daki son bulgular, bu yaygın kanıyı değiştirecek özelliكتedir. Fransa'da geçmişte Neandertallerin yaşadığı bir bölgedeki kazı alanında deri işlemede günümüzde de kullanılan özel bir aletin bir benzeri bulundu. Arkeologlar, farklı iki alanda deriyi parlatmak ve su geçirmez hâle getirmek için kullanılan aletin dört örneğini buldu. Yaklaşık 51 bin yıl öncesine ait aletler, ren geyiği kemikleri ren geyiği kemiklerinin taşlara sürülüp yontulmasıyla üretilmiş. Yerleşmiş kanıya göre bugünkü Avrupalılar Avrupa'ya 43 bin yıl önce geldi ve orada Neandertaller ile karşılaşmış onlara aletleri nasıl yapacaklarını öğrettiler. Yeni buluntularsa bundan farklı düşünmemize neden olmaktadır. Ya modern insanın ataları ve dolayısıyla sahip olduğu bilgiler Avrupa'ya sanıldığından daha erken ulaşmıştır ya da Neandertaller de en az modern insanlar kadar akıllıdır ve kemiklere şekil verip alet kullanmayı zaten biliyordur.

17. Bu metinde aşağıdaki sorulardan hangisinin cevabı yoktur?

- A) Neandertaller, Avrupa'dan nereye göç etmişlerdir?
- B) Kazı alanında deri işlemede kullanılan aletten kaç tane bulunmuştur?
- C) Neandertallere alet kullanmayı kimlerin öğrettiği düşünülmektedir?
- D) Kazı alanındaki aletler kaç yıl önceye aittir?

18. Bu metnin anlatımıyla ilgili aşağıdakilerden hangisi yanlıştır?

- A) Bilgi vermek amacıyla yazılmıştır.
- B) Amaç anlamı taşıyan bir cümleye yer verilmiştir.
- C) Karşılaştırma yapılmıştır.
- D) Beğeni anlamı taşıyan cümleler kullanılmıştır.





19. Bu metindeki altı çizili sözün cümleye kattığı anlam aşağıdakilerin hangisinde vardır?

- A) Yeni yerler keşfetmeyi arzulayan bir adamdı.
- B) Bu buluş, hepimizin hayatını değiştirecek.
- C) Tahlil sonuçlarını değerlendirmesi için doktora danıştım.
- D) Araştırmacılar, bu yeni verilerden yararlanarak bir yöntem geliştirdiler.

20. (I) Günün ilk ışıklarıyla yola çıkmıştık. (II) Annem ile anneannem biraz arkada kalmıştı. (III) Babam en önde yürüyor, onun uzayan gölgesi ayaklarına değiyordu. (IV) Sıcak bastırmadan yaylaya varmak istiyorduk.

Bu metinde numaralanmış cümlelerin hangisinde edat kullanılmıştır?

- A) I. B) II. C) III. D) IV.







1. İbrahim dört basamaklı bir doğal sayı olan bilgisayar şifresinin bazı rakamlarını hatırlamıyor.

Binler ve onlar basamağındaki rakamları sırasıyla 4 ve 3 olan şifre 6 ile bölünebildiğine göre İbrahim'in şifresi aşağıdakilerden hangisi olabilir?

- A) 4132                      B) 4334  
C) 4536                      D) 4738

2. Tüm çalışanlarına aynı saat ücreti ödenen bir işyerinde Elif ve Ebrar sırasıyla 4,5 saat ve 5 saat çalışmışlardır.

İkisine toplam 57 lira ödendiğine göre bu işyerinde bir çalışana ödenen 1 saatlik ücret kaç liradır?

- A) 5      B) 6      C) 7      D) 8

3. *Mustafa*: "Bir sayıyı 0,5 ile çarparsak, o sayının yarısını buluruz."

*Özgül*: "Bir sayının 4 katı aynı sayının  $\frac{1}{4}$ 'e bölümüne eşittir."

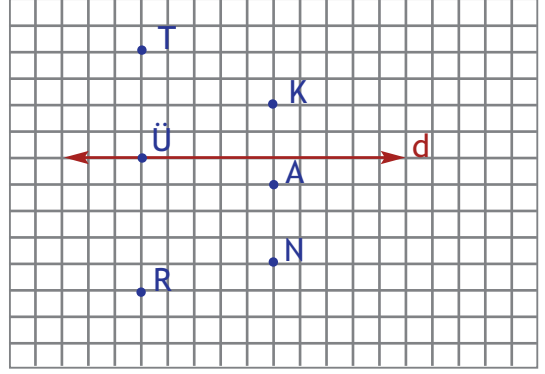
*Özlem*: "Bir sayıyı 0,2'ye bölersek, o sayının 5 katını buluruz."

*Melih*: "Bir sayıyı 2'ye bölmek, aynı zamanda  $\frac{1}{5}$  ile çarpmaktır."

dediğine göre kimin söylediği cümle yanlıştır?

- A) Melih                      B) Özlem  
C) Özgül                      D) Mustafa

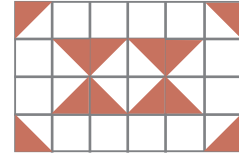
4.



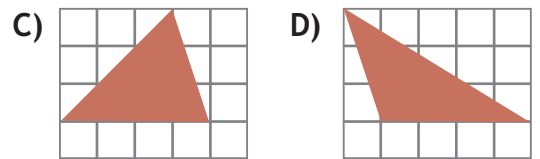
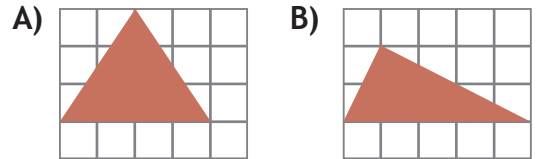
Aşağıdakilerin hangisinde verilen noktalardan geçen doğru, d doğrusuna dik değildir?

- A) A ile N                      B) N ile R  
C) T ile R                      D) T ile Ü

5.



Şekildeki boyalı bölgelerin toplam alanı aşağıdaki üçgensel bölgelerden hangisinin alanına eşit değildir?





6. Aşağıdakilerin hangisinde, sayıları verilen birim küplerin tamamı kullanılarak bir küp oluşturulabilir?

- A) 60 B) 64 C) 72 D) 81

7. Bir şirketin çalışanları için hizmet yılına göre yaptığı yıllık zammın cebirsel ifadesi  $200x - 50$  liradır.

$x$  hizmet yılını ifade ettiğine göre 12 yıllık hizmeti olan bir kişi 9 yıllık hizmeti olan bir kişiden kaç lira fazla zam alır?

- A) 450 B) 500 C) 550 D) 600

8. Fatih Bey, Kavaklı Köyündeki 5 dönüm olan arsasının 1600 metrekarelik kısmına ev, 2 arlık kısmına yüzme havuzu geri kalan kısmına da bahçe yapacaktır.

Fatih Bey'in bahçe için ayırdığı alan kaç ardır?

- A) 24 B) 28 C) 32 D) 36

9. Aşağıdaki işlemlerden hangisinin sonucu 14,61 sayısına eşit değildir?

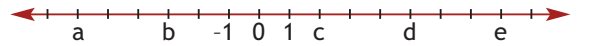
- A)  $1461 \div 100$   
B)  $1,461 \times 100$   
C)  $146,1 \div 10$   
D)  $1,461 \times 10$

10. Ayritlarının uzunlukları 6 cm, 8 cm ve 10 cm olan dikdörtgenler prizması şeklindeki paketler, ayrit uzunlukları bu paketlerin ayrit uzunluklarının iki katına eşit olan dikdörtgenler prizması şeklindeki kutuya konulacaktır.

Buna göre kutuya en fazla kaç tane paket konulabilir?

- A) 2 B) 4 C) 6 D) 8

11.



Yukarıdaki sayı doğrusunda a,b,c,d,e birer tam sayıya karşılık gelmektedir.

Buna göre aşağıdakilerden hangisi yanlıştır?

- A)  $a+e=2$  B)  $-b+d=8$   
C)  $b-e=-11$  D)  $-c-a=-8$

12. Feyza yaptığı pastanın  $\frac{1}{7}$ 'ini kendine ayırmış ve geri kalanını iki arkadaşına eşit olarak paylaşmıştır.

Buna göre Feyza'nın bu iki arkadaşından her birine pastanın kaçta kaç düşmüştür?

- A)  $\frac{1}{7}$  B)  $\frac{1}{2}$  C)  $\frac{3}{7}$  D)  $\frac{4}{7}$

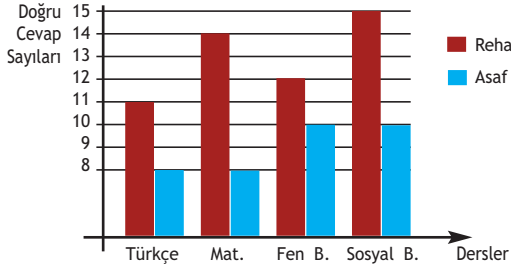


Ders	Türkçe	Matematik	Fen Bilimleri	Sosyal Bilgiler
Reha	11	8	14	10
Asaf	8	14	12	10

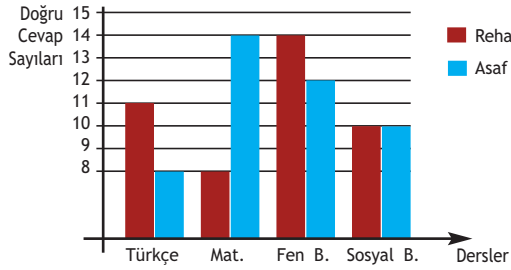
Yukarıdaki tabloda Reha ve Asaf'ın girdikleri Tefvik İleri AİHL Giriş Sınavı'nda derslere göre yaptıkları doğru cevap sayıları verilmiştir.

Bu verilerle bir sütun grafiği oluşturulursa aşağıdakilerden hangisi elde edilir?

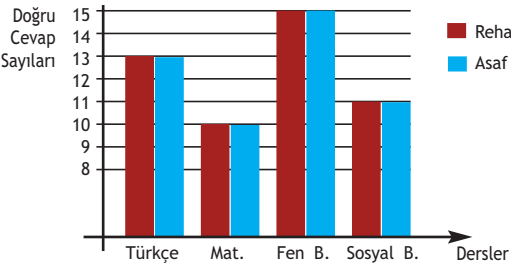
A) Grafik: Tefvik İleri AİHL Giriş Sınavı



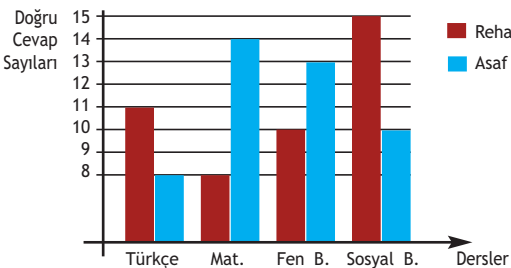
B) Grafik: Tefvik İleri AİHL Giriş Sınavı Doğru Cevap Sayıları



C) Grafik: Tefvik İleri AİHL Giriş Sınavı Doğru Cevap Sayıları



D) Grafik: Tefvik İleri AİHL Giriş Sınavı Doğru Cevap Sayıları



14. Yolcu taşıma kapasiteleri 31 ve 48 kişi olan iki araçla beşer kez servis yapılıyor. İlk dört serviste araçlar tam doluyor. Son serviste büyük olan araçta, küçük araçta iki katı kadar boş koltuk kalıyor.

Taşınan toplam yolcu sayısı 365 olduğuna göre küçük olan araçta toplam kaç yolcu taşınmıştır?

A) 140 B) 143 C) 145 D) 150

15. Sabri kırtasiyeden tanesi 6,25 TL olan kalemlerden bir kaç tane satın alarak kırtasiyeciye 20 TL veriyor.

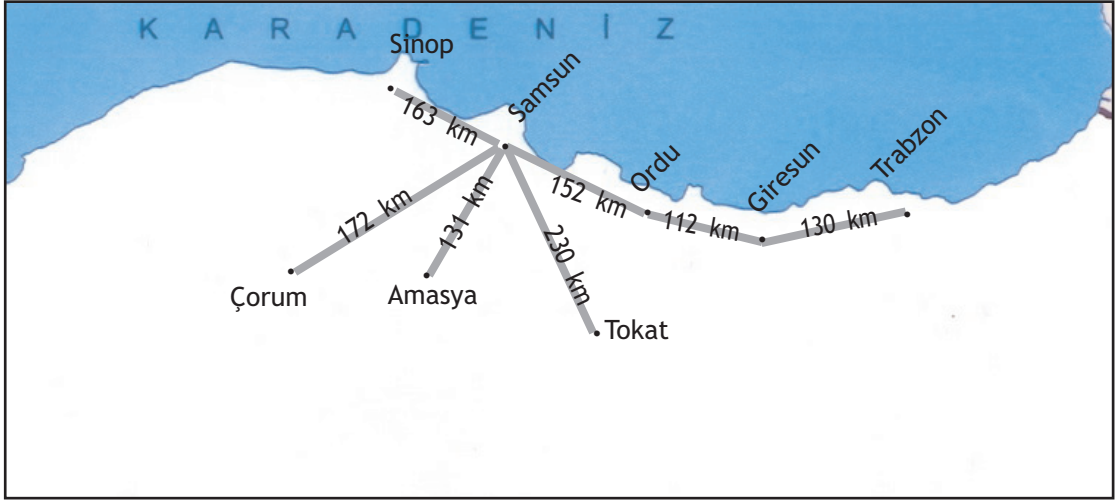
Buna göre Sabri'nin alacağı para üstü en az kaç liradır?

A) 0,75 B) 1,25  
C) 1,50 D) 1,75

16. Kütlelerinin aritmetik ortalaması 61 kg olan 30 kişilik sınıftan iki öğrenci bir başka okula gidiyor.

Kalan öğrencilerin kütlelerinin aritmetik ortalaması değişmediğine göre başka okula giden iki öğrencinin kütleleri aşağıdakilerden hangisi olabilir?

A) 62 kg ve 68 kg  
B) 54 kg ve 65 kg  
C) 57 kg ve 63 kg  
D) 60 kg ve 62 kg

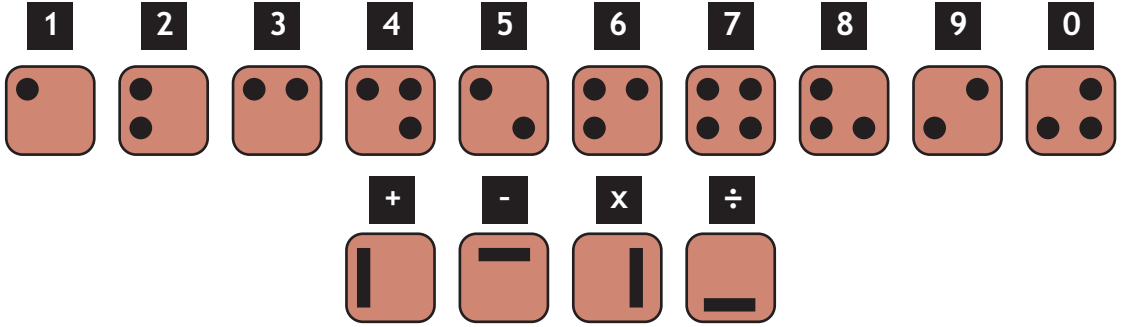


17. Yukarıdaki haritada şehir merkezleri arasındaki uzaklıklar kilometre cinsinden gösterilmiştir. Trabzon'dan yola çıkan Ali, haritadaki yolu izleyerek Samsun'a geliyor. Sonra başka bir şehirdeki arkadaşını ziyaret ediyor.

Ali toplam 525 km yol gittiğine göre arkadaşı hangi şehirdedir?

- A) Sinop      B) Çorum      C) Amasya      D) Tokat

18.



Yukarıda rakamların ve dört işlemin gösterimleri verilmiştir. Buna göre aşağıdaki işlemin sonucu nedir?



- A)      B)      C)      D)



19. Aşağıdaki tabloda beş ilin aynı gündeki sıcaklıkları verilmiştir.

TABLO: İllerin Hava Sıcaklıkları

İl	Sıcaklık (°C)
Kars	-8
Artvin	-4
Trabzon	11
Bayburt	-2
Rize	7

Tabloya göre aşağıdaki ifadelerden hangisi doğrudur?

- A) Artvin'in sıcaklığı, Kars'ın sıcaklığından  $4^{\circ}\text{C}$  düşüktür.
- B) Hava sıcaklığı en düşük olan il Bayburt'tur.
- C) Aralarındaki hava sıcaklığı farkı en fazla olan iki il Kars ile Trabzon'dur.
- D) Rize'nin hava sıcaklığı Bayburt'un hava sıcaklığından  $5^{\circ}\text{C}$  fazladır.

20. Bir depodaki suyun  $90$  desimetreküpü kullanılmıştır.

Depoda  $2$  metreküp su kaldığına göre kullanılmadan önce depoda kaç santimetreküp su vardır?

- A) 110                      B) 920  
C) 29 000                D) 2 090 000





1. "Biz onları (peygamberleri) yiyip içmeye ihtiyaç duymayan bir yapıda yaratmadık. (Onlar) ölümsüz de değillerdi." (Enbiya;8) ayetinde peygamberlerin hangi yönüne vurgu yapılmıştır?

- A) Peygamberler güzel ahlak sahibidir.
- B) Peygamberler Allah'tan vahiy alırlar.
- C) Peygamberler insanüstü bir varlık değildir.
- D) Peygamberler ölümsüzdür.

2. *Ceyda*: Bütün peygamberler insanları bir olan Allah'a inanmaya (tevhid) çağırılmışlardır.

*Hümevra*: İlahî kitaplarda ilahî buyruklar, iyiye ve güzele yönlendiren öğütler bulunmaktadır.

*Ahmet*: Allah gönderdiği peygamberlerin tamamına ilahî kitap da göndermiştir.

*Halit*: Allah peygamberler ve ilahî kitaplar göndererek insanların hem bu dünyada hem de ahrette mutlu olmalarını amaçlamıştır.

**Peygamber ve ilahî kitaplarla ilgili olarak hangi öğrenci yanlış bilgi vermiştir?**

- A) Ahmet
- B) Ceyda
- C) Halit
- D) Hümevra

3. "Ant olsun, senden önce de peygamberler gönderdik. Onlardan sana anlattıklarımız da var, anlatmadıklarımız da var. Hiçbir peygamber, Allah'ın izni olmadan bir mucize getiremez" (Mü'min;78)

**ayetinde aşağıdaki sonuçlardan hangisine ulaşamaz?**

- A) Mucizeler peygamberlerin özel yetenekleri ile gerçekleşir.
- B) İnsanlık tarihi boyunca bilmediğimiz sayıda peygamber gelmiştir.
- C) Peygamberler Allah'ın izni olmadan bir mucize getiremez.
- D) Kur'an peygamberlerin bir kısmı hakkında bilgi verir.

4. **Türklerin Müslüman oluş süreci düşünüldüğünde, aşağıdaki bilgilerden hangisi yanlıştır?**

- A) Türklerin gök tanrı inancı ile İslam dini arasındaki benzerlik Türklerin İslam'ı kolay kabul etmelerinde etkili olmuştur.
- B) Türkler Abbasiler döneminde Çinlilerle yapılan Talas Savaşı sonrası Müslümanlarla yakınlaşmış ve kitleler hâlinde Müslüman olmuşlardır.
- C) İslam dininin Türklerin hayat tarzı ve mizaçlarına uygun olması İslam dinine giriş sürecini hızlandırmıştır.
- D) Türkler arasında İslam'ı kabul eden ilk Müslüman Türk devleti Osmanlı Devleti'dir.





5. ● İnançla ilgili konuları Kur'an ve sünnet ışığında aklı ön planda tutarak yorumlamıştır.

● Türkler arasında en yaygın olan mezhebin kurucusu sayılır.

● Özbekistanın Semerkant şehrinde 852 yılında doğmuştur.

**Yukarıdaki bilgiler dikkate alındığında Türkler arasında İslamın yayılmasında etkili olan Türk İslam bilgini aşağıdakilerden hangisidir?**

- A) Ebû Hanife
- B) Mevlânâ
- C) Maturûdî
- D) Hacı Bektaş-ı Velî

6. Türkler İslam medeniyetinin gelişmesinde büyük katkılar sağlamışlardır. Musiki, edebiyat, mimari, sanat ve bilim alanında pek çok eseri İslam medeniyetine kazandırmışlardır. İslam'ın ilke ve kurallarının Türk-İslam medeniyetinin oluşmasında büyük etkisi olmuştur. Ortaya çıkan eserlere bakıldığında İslam'ın kurallarına ters düştüğü düşünülen alanlarda Türkler arasında gelişme olmamıştır.

**Bu açıklamaya uygun olarak Türkler arasında gelişme göstermeyen sanat dalı aşağıdakilerden hangisidir?**

- A) Hat (Güzel yazı)
- B) Resim ve Heykel
- C) Edebiyat
- D) Mimari

7. "Hadesten taharet" namaza hazırlık şartlarında biridir. Aşağıdaki temizlik şekillerinden hangisi "hadesten taharet" değildir?

- A) Abdest
- B) Boy abdesti (gusül)
- C) Teyemmüm
- D) Namaz kılınacak yerin temiz olması

8. I- İkinci namazının sünneti  
II- Öğle namazının sünneti  
III- Yatsı namazının sünneti  
IV- Yatsı namazının farzı

**Rekat sayısı ve kılınış şekli düşünüldüğünde yukarıdaki namazlardan hangilerinin kılınışı aynıdır?**

- A) I-II
- B) II-III
- C) I-III
- D) II-IV

9. Aşağıdaki namazlardan hangisi cemaatle kılınması zorunlu olan namazlardan değildir?

- A) Teravih namazı
- B) Cuma namazı
- C) Bayram namazı
- D) Cenaze namazı





10. Namaz ibadeti kulluk bilinci ile Allah rızası için yapılır. Her ibadette olduğu gibi namaz ibadetinin de insan için hem maddi hem de manevi faydaları vardır. Peygamberimiz (s.a.v.) bir hadisinde "Birinizin kapısının önünden bir ırmak geçse ve o kimse orada günde beş kez yıkansa bedeninde hiç kir kalır mı? diye sordu. Kalmaz diye cevap alınca – İşte beş vakit namaz böyledir. Allah namaz sayesinde günahları siler ve insanı temizler" buyurdu.

Aşağıdakilerden hangisi Peygamberimizin hadisinde vurgulanan namazın faydalarından biri olamaz?

- A) İnsanı temizliğe alıştıırır.
- B) İnsanların günahlardan arınmasını sağlar.
- C) İnsanları kötü işlerden uzaklaştırır.
- D) Birlikte yaşama ve dayanışma bilincini geliştirir.

11. I- Mekke'nin fethi  
II- Medine'ye Hicret  
III- Bedir Savaşı  
IV- Akabe Biatları  
V- Hudeybiye Barış Anlaşması

Yukarıda verilen tarihî olayların kronolojik sıralaması aşağıdakilerden hangisidir?

- A) I-II-III-IV-V
- B) IV-II-III-V-I
- C) II-III-IV-I-V
- D) IV-II-I-V-III

12. Peygamberimizin vefat tarihi ve kabrinin bulunduğu şehir aşağıdakilerden hangisidir?

- A) 630-Mekke
- B) 632-Medine
- C) 632-Mekke
- D) 630-Medine

13. Mekke'de birçok sıkıntıyla karşılaşan Müslümanlar 622 yılında Medine'ye hicret (göç) ettiler. Hicret, Müslümanlar için yeni bir başlangıç demektir.

Aşağıdakilerden olaylardan hangisi hicret sonrası gerçekleşen olaylardan değildir?

- A) Hüzün yılı
- B) Mescid-i Nebi'nin inşası
- C) Ensar-Muhacir kardeşliği
- D) Medine Sözleşmesi

14. "Allah'a ibadet edin ve ona hiçbir şeyi ortak koşmayın. Anneye, babaya, akrabaya, yetimlere, yoksullara, yakın komşuya, uzak komşuya, yakın arkadaşına, yolcuya, sorumluluğunuz altında bulunanlara iyi davranın. Allah kendini beğenen ve daima böbürlenip duran kimseyi sevmez." (Nisa suresi 36.Ayet).

Yukarıdaki ayet Kur'an-ı Kerim'in temel konularından hangisine örnek olmaz?

- A) İnanç
- B) İbadet
- C) Ahlak
- D) Kıssalar







15. "Müminler gerçekten kurtuluşa ermiştir. Onlar namazlarında tam bir saygı ve tevazu içindedirler. Onlar ki boş ve yararsız şeylerden yüz çevirirler. Onlar ki zekâtı verirler ve if-fetlerini korurlar." (Mü'minûn suresi 1-5. Ayetler).

Yukarıdaki ayette mü'minlerin özelliklerinden hangisine değinilmemiştir?

- A) Oruç tutarlar
- B) Namaz kılarlar
- C) Boş ve faydasız iş yapmazlar
- D) Zekât verirler

16. Kur'an-ı Kerim'de geçmişte yaşamış topluluklar ve peygamberler hakkında anlatılan ibret verici hikâyeye ve olaylara kıssa denir. Kur'an-ı Kerim'de peygamber kıssaları, peygamber olmayan bazı şahısların ve geçmişte yaşamış bazı toplulukların kıssaları anlatılır.

Aşağıdaki Kur'an kıssalarından hangisi peygamber olmayan şahısların kıssasına örnektir?

- A) Hz. İbrahim Kıssası
- B) Hz. Lokman Kıssası
- C) Hz. Yusuf Kıssası
- D) Hz. Eyüp Kıssası

17. Peygamberimiz 632 yılında kalabalık bir Müslüman topluluğuyla hacca gitti. Hacdan döndükten kısa bir süre sonra rahatsızlandı ve 8 Haziran 632 yılında vefat etti. Müslümanlar onun vefatına inanmak istemedi. Hz. Ebu Bekir bir konuşma yaparak onları sakinleştirdi.

Hz. Ebu Bekir'in konuşması sırasında Müslümanları sakinleştirmek için okuduğu ayet aşağıdakilerden hangisi olabilir?

- A) "Ey iman edenler, Allah'a ve elçisine, elçisine indirdiği kitaba ve bundan önce indirdiği kitaba iman edin." (Nîsa suresi 136. Ayet).
- B) "Rabbimiz, bize peygamberlerine vaad ettiğini ver." (Âli İmran suresi 194. Ayet).
- C) "Muhammed ancak bir peygamberdir. Ondan önce de peygamberler gelip geçmiştir. Şimdi ölür ya da öldürülürse gerisin geriye (eski dininize) mi döneceksiniz?" (Âli İmran suresi 144. Ayet).
- D) "Allah bize ateşin yiyeceği bir kurban getirmediği hiçbir elçiye inanmamamız konusunda and verdi." (Âli İmran suresi 183. Ayet).





18. "Ey iman edenler, zannın çoğundan kaçının. Çünkü zannın bir kısmı günahdır. Birbirinizin kusurunu araştırmayın. Biriniz diğerini arkasından çektiirmesin. Biriniz ölmüş kardeşinin etini yemekten hoşlanır mı? İşte bundan tiksindiniz. O hâlde Allah'tan korkun. Şüphesiz Allah tövbeyi çok kabul edendir, çok esirgeyicidir." (Hucurat suresi, 12. Ayet).

**Bu ayette Allah'ın sakınmamızı istediği hangi davranışa vurgu yapılmıştır?**

- A) Hırsızlık
- B) Gıybet
- C) Kıskançlık
- D) Yalan söylemek

19. Namaz ibadeti ile ilgili olarak aşağıdaki bilgilerden hangisi yanlıştır?

- A) Namaz akıllı ve ergenlik çağına gelmiş Müslümanlara farzdır.
- B) Namaz Allah'ın verdiği nimetlere şükretmenin gereğidir.
- C) Namaz kılarak cennete gitmeyi garanti altına alırız.
- D) Namaz insanı kötü ve çirkin işlerden uzaklaştırır.

20. Peygamberimiz 610 yılının Ramazan ayının Kadir Gecesinde ilk vahyi almış ve peygamber olmuştur. Peygamberlik görevinin gereği olan tebliğ vazifesini yapmış, buna da en yakınlarından başlamıştır.

**Aşağıdakilerden hangisi peygamberimize ilk inanan Müslümanlardan değildir?**

- A) Hz. Ömer
- B) Hz. Ali
- C) Hz. Hatice
- D) Hz. Ebû Bekir



1.



Hücre zarı,  
sitoplazma  
ve çekirdek

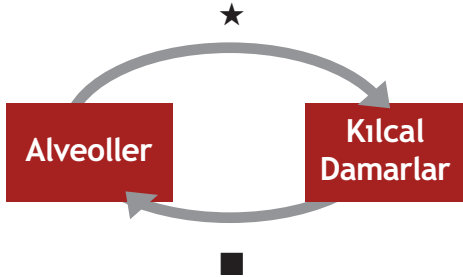


Öğretmenin sorusuna öğrencinin verdiği doğru cevap yukarıda verilmiştir.

Buna göre öğretmenin sorusu aşağıdakilerden hangisidir?

- A) Hücrenin temel kısımları nelerdir?
- B) Bitki ve hayvan hücrelerinin farklılıkları nelerdir?
- C) Hücrenin yaşamsal faaliyetlerinin gerçekleştiği yapılar hangileridir?
- D) Hücrede bulunan organeler hangileridir?

2.



Yukarıdaki şema akciğerlerde gerçekleşen gaz değişimine aittir.

Şemada ★ ve ■ ile gösterilen gazlar aşağıdakilerden hangisinde doğru verilmiştir?

- |                  |               |
|------------------|---------------|
| ★                | ■             |
| _____            | _____         |
| A) Karbondioksit | Oksijen       |
| B) Oksijen       | Su buharı     |
| C) Su buharı     | Karbondioksit |
| D) Oksijen       | Karbondioksit |

3. Hızlanan hareket yapan cisimle ilgili;

- I. Cisme etkiyen bileşke kuvvet sıfırdır.
- II. Cisim dengelenmemiş kuvvetlerin etkisindedir.
- III. Cisme etkiyen bileşke kuvvet sıfırdan farklıdır.

verilenlerinden hangileri doğrudur?

- A) Yalnız I
- B) Yalnız III
- C) I ve III
- D) II ve III

4.

Yol (m)	0	24	48	72	96
Zaman (sn)	0	2	4	6	8

Doğrusal yolda hareket eden bir hareketlinin (0-8)sn zaman aralığında aldığı yolun zamanla değişimi tabloda verilmiştir.

Buna göre hareketli ile ilgili aşağıdakilerden hangisi yanlıştır?

- A) Hareketli sabit süratli hareket yapmıştır.
- B) Hareketlinin sürati 12 m/sn'dir.
- C) Hareketli dengelenmemiş kuvvetlerin etkisindedir.
- D) Hareketli aynı şekilde hareket ederse 10. saniye sonunda 120 metre yol alır.

5.

Madde	Özellikleri
K	Tanecikleri arasındaki boşluk yok denecek kadar azdır.
L	Tanecikleri birbirinden bağımsız hareket eder.
M	Tanecikleri arasındaki boşluk K'den fazla L'den azdır.

Bir maddenin üç hâline ait özellikler tabloda verilmiştir.

Buna göre K, L, M hâlleri aşağıdakilerden hangisidir?

- |         | K    | L    | M |
|---------|------|------|---|
| A) Katı | Sıvı | Gaz  |   |
| B) Katı | Gaz  | Sıvı |   |
| C) Sıvı | Katı | Gaz  |   |
| D) Sıvı | Gaz  | Katı |   |

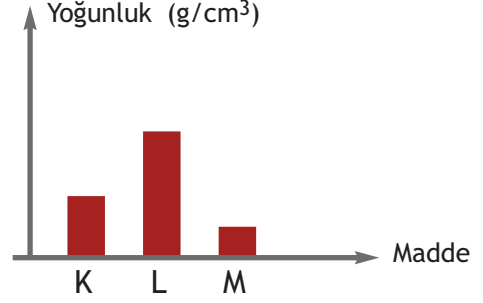
6. Ozan, mutfakta aşağıdaki işlemleri yapıyor.

- I. Sütten yoğurt mayalıyor.
- II. Buzluğa koyduğu suyu donduruyor.
- III. Limonun suyunu sıkıyor.
- IV. Elmaları rendeliyor.

Buna göre Ozan'ın yaptığı işlemlerden hangileri kimyasal değişimdir?

- A) Yalnız I
- B) Yalnız III
- C) II ve III
- D) III ve IV

7.

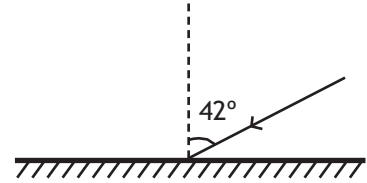


K, L, M maddelerinin yoğunlukları arasındaki ilişkiyi gösteren grafik yukarıda verilmiştir.

Maddelerin eşit kütlelerinin hacimleri arasındaki ilişki aşağıdakilerden hangisidir?

- A)  $K > L > M$
- B)  $L > K > M$
- C)  $M > K > L$
- D)  $K > M > L$

8.



Yansıtıcı bir yüzeye gelen ışının gelme açısı  $42^\circ$ 'dir.

Buna göre;

- I. Gelen ışınla yansıyan ışın arasındaki açı  $84^\circ$ 'dir.
- II. Gelen ışının normalle yaptığı açı  $48^\circ$ 'dir.
- III. Yansıyan ışının normalle yaptığı açı  $42^\circ$ 'dir.

verilenlerden hangileri doğrudur?

- A) I ve II
- B) I ve III
- C) II ve III
- D) I, II ve III

9.  Sesin bir engele çarpıp geri dönmesine soğrulma denir.
- Sünger, pamuk, strafor gibi malzemeler ses yalıtımında kullanılır.
- Ses yalıtımı sesin yayılmasını engeller.

Verilen ifadelerden doğru olanların başındaki kutucuğa "D", yanlış olanların başındaki kutucuğa "Y" harfi yazılırsa aşağıdakilerden hangisi doğru olur?

- A)  Y  
 D  
 D
- B)  Y  
 D  
 Y
- C)  Y  
 Y  
 D
- D)  D  
 D  
 Y

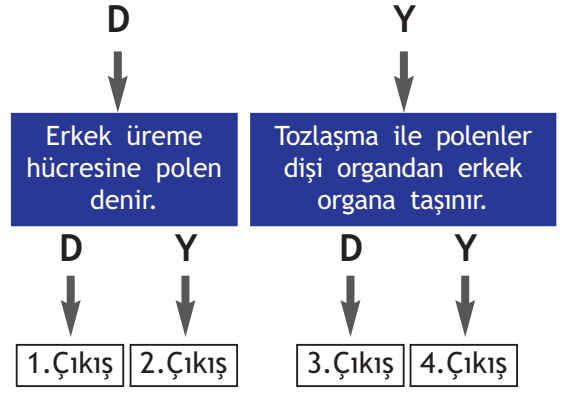
10.

Gül dalından yeni gül bitkisinin oluşması ①	Bira mayasının çoğalması ②	Kertenkelenin kuyruğunun onarılması ③
Patatesin çoğalması ④	Bakterilerin çoğalması ⑤	Deniz anasının çoğalması ⑥

Tablodaki kutucuk numaralarını kullanarak seçeneklerdeki soruları cevaplayan öğrenci hangi soruyu yanlış cevaplamıştır?

Sorular	Öğrencinin cevabı
A) Hangileri tomurcuklanma ile çoğalır?	2 ve 6
B) Hangileri bölünerek çoğalır?	5
C) Hangileri vejetatif üreme ile çoğalır	1 ve 4
D) Hangilerinde rejenerasyon olur?	6


11. Sapçık ve başçık erkek organda bulunur.



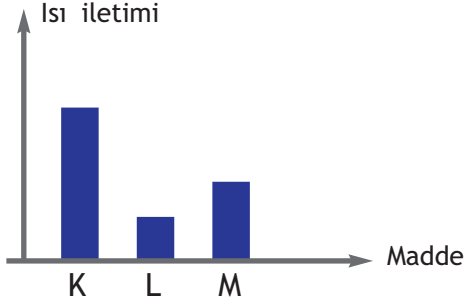
Verilen ifadelerden doğru olanlar için "D", yanlış olanlar için "Y" yolu izlenerek ilerlenirse kaçınıcı çıkışa ulaşılır?

- A) 1.Çıkış
- B) 2.Çıkış
- C) 3.Çıkış
- D) 4.Çıkış

12. Aşağıdaki canlılardan hangisi yumurtlayarak çoğalmaz?



13.



K, L, M maddelerinin ısı iletkenlikleri arasındaki ilişki grafikteki gibidir.

Buna göre maddelerle ilgili aşağıdaki ifadelerden hangisi yanlıştır?

- A) K maddesi binaların dış cephelelerini kaplamada kullanılmalıdır.
- B) En yalıtkan olan L maddesidir.
- C) L maddesinin tanecikleri arasındaki boşluk K ve M maddesinin tanecikleri arasındaki boşluktan fazladır.
- D) Tencere tabanı yapımında K maddesi kullanılmalıdır.

14.

LPG

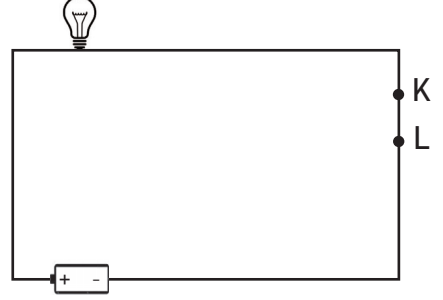
KÖMÜR

BENZİN

Yukarıdaki yakıtların ortak özelliği aşağıdakilerden hangisidir?

- A) Katı yakıt olmaları
- B) Sıvı yakıt olmaları
- C) Fosil yakıt olmaları
- D) Çevreyi kirletmemeleri

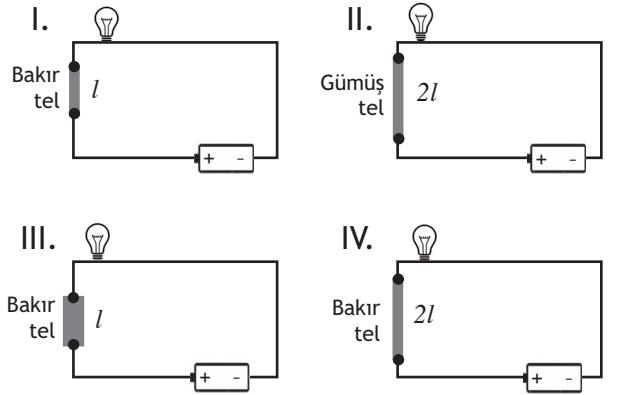
15.



Yukarıdaki devrenin K-L uçları arısına aşağıdaki maddelerden hangisi yerleştirildiğinde ampul ışık vermez?

- A) Plastik eldiven
- B) Çivi
- C) Bakır tel
- D) Gümüş kolye

16. "Bir devrede ampul parlaklığı devredeki iletkenin boyuna bağlıdır." hipotezini test etmek isteyen bir öğrenci;



numaralı düzeneklerden hangilerini kullanmalıdır?

- A) I ve II
- B) I ve III
- C) I ve IV
- D) II ve IV

17.

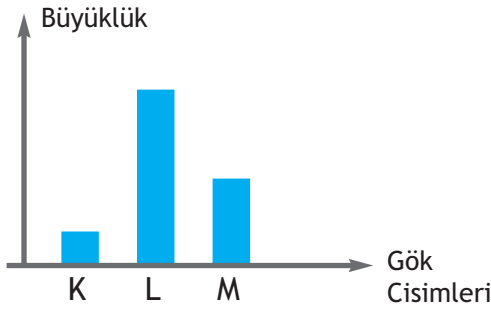
İletken	Uzunluk (cm)	Kesit alanı (cm <sup>2</sup> )
K	10	2
L	20	1
M	10	1

Aynı cins K, L, M iletkenlerinin uzunluk ve kesit alanları tabloda verilmiştir.

Bu iletkenlerin dirençleri arasındaki ilişki aşağıdakilerden hangisidir?

- A)  $L > K > M$
- B)  $L > M > K$
- C)  $K > M > L$
- D)  $K > L > M$

18.



Güneş, Dünya ve Ay olarak bilinen K, L, M gök cisimlerinin büyüklükleri arasındaki ilişki grafikte verilmiştir.

Buna göre;

- I. K, M'nin etrafında döner.
- II. L, Güneş'tir.
- III. M ısı ve ışık kaynağıdır.

İfadelerden hangileri doğrudur?

- A) Yalnız I
- B) Yalnız III
- C) I ve II
- D) II ve III

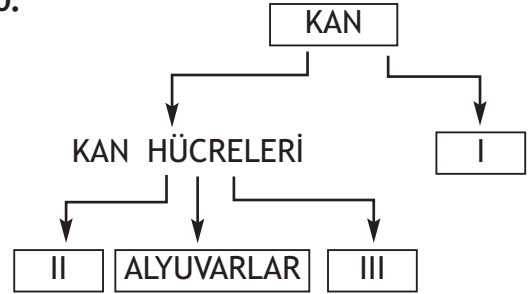
19. ★: Yeni ay evresinden bir hafta sonra görülen evredir.

■: Bu evrede Ay Dünya'dan görülmez.

★ ve ■ ile belirtilen evreler aşağıdakilerden hangisidir?

- | ★             | ■       |
|---------------|---------|
| A) Dolunay    | Yeni ay |
| B) Son dördün | Yeni ay |
| C) İlk dördün | Yeni ay |
| D) İlk dördün | Dolunay |

20.



Yukarıdaki şemada I, II ve III numaralı kısımlara aşağıdakilerden hangileri yazılmalıdır?

- | I                 | II             | III            |
|-------------------|----------------|----------------|
| A) Plazma         | Hemoglobin     | Akyuvarlar     |
| B) Plazma         | Kan pulcukları | Akyuvarlar     |
| C) Kan pulcukları | Plazma         | Akyuvarlar     |
| D) Akyuvarlar     | Hemoglobin     | Kan pulcukları |



1. I. Burdur'un Akgöl ve Yarış Gölü çevresinde açılan mermer ocakları bölgenin doğal yapısına zarar vermektedir. II. Buraya ziyarete gelen flamingo kuşları son beş yıldır gelmemektedir. III. Bölgede yaşayan birçok canlı türü vardır. IV. Mermer ocaklarını başka bölgelere taşımak bölgede yaşayan birçok canlı türünün yok olmasını engelleyecektir.

Yukarıdaki paragrafta numaralandırılmış cümlelerden hangisi görüş ifade etmektedir?

- A) I B) II C) III D) IV

2.



“Millet, tarihin ve kültürel beraberliğin oluşturduğu bir topluluktur. Bu topluluğun maddi ve manevi bütün değerleri o toplumun kültürü olarak tanımlanır.”

Atatürk'ün bu sözünden;

- I. Türk tarihi ile ilgili çalışmalar yapıldığına,  
II. Kültürün, maddi ve manevi değerlerin birleşmesinden oluştuğuna,  
III. Kültürün, tarihten önemli olduğuna  
verilenlerinden hangilerine ulaşılabilir?

- A) Yalnız I  
B) Yalnız II  
C) II ve III  
D) I, II ve III

3. Cilalı Taş Devri'nde insanlar göl ve nehir kenarlarında oluşturdukları köylerde yaşamışlardır. Bu dönem insanları hayvanları evcilleştirmiştir. Bitki liflerinden giysiler yapmışlar ve toprağı pişirerek kap kacak yapmışlardır.

Verilen bilgilere bakılarak aşağıdakilerden hangisine ulaşamaz?

- A) Ticarete değerli madenler kullanılmaya başlanmıştır.  
B) Üretici toplum yapısı görülmüştür.  
C) Yerleşik yaşama geçilmiştir.  
D) Seramik sanatı ile ilgilenilmiştir.

4. Türklerde ilk düzenli ordu Mete Han zamanında kurulmuştur. Mete Han orduyu onluk, yüzlük, binlik ve onbinlik bölümlere ayırmıştır. Mete Han'ın ordudaki bu düzenlemesi günümüzde Türk ve dünya milletleri tarafından kullanılmaktadır.

Bu bilgilerden aşağıdakilerden hangisine ulaşamaz?

- A) Ordunun yönetimi kolaylaştırılmaya çalışılmıştır.  
B) Türkler askeri alanda birçok milleti etkilemiştir.  
C) Askeri alanda kültürel devamlılık sağlanmıştır.  
D) Orta Asya'nın en güçlü ordusunu Mete Han kurmuştur.







5. Çin'in Şian kentinden başlayıp Karadeniz'in kuzeyinden ve Anadolu'dan iki kol hâlinde Avrupa'ya uzanan İpek Yolu'nda kürk, demirden yapılmış silah ve av eşyaları, ipek gibi ürünler kervanlar vasıtasıyla taşınmıştır.

**Bu bilgilerden İpek Yolu ile ilgili;**

- I. Kültürel etkileşime ortam hazırlanmıştır.
- II. Anadolu'nun ticari öneminin azalmasına neden olmuştur.
- III. Devletler arasında mücadelelerin yaşanmasına neden olmuştur.

**verilenlerden hangilerine ulaşılabilir?**

- A) Yalnız I
- B) I ve III
- C) II ve III
- D) I, II ve III

6. Mevali politikası Emeviler Dönemi'nde uygulanmıştır. Bu politika ile devlet görevlerine sadece Arap olanlar getirilmiştir.

**Buna göre Mevali politikası;**

- I. İslamiyet'in yayılmasının yavaşlamasına,
- II. Araplar dışındaki diğer halkın yönetime tepki göstermesine,
- III. Ülke yönetiminin birimlere ayrılmasına

**verilenlerinden hangilerine yol açmıştır?**

- A) Yalnız I
- B) I ve II
- C) II ve III
- D) I, II ve III

7. Gazneliler'de resmi dil olarak Arapça, sarayda Türkçe, edebiyat dili olarak da Farsça kullanılmıştır.

**Bu durum Gaznelilerde;**

- I. Ulusal birlik oluşturmamalarına,
- II. Milli benliklerini kaybetmelerine,
- III. Türk kültürünü geniş alanlara yaymalarına

**verilenlerinden hangilerine ortam hazırlamıştır?**

- A) Yalnız I
- B) I ve II
- C) II ve III
- D) I, II ve III

8. İslamiyet'ten önce Arabistan'da siyasi birlik yoktu. Çöl iklimine bağlı olarak göçebe yaşayan Arapların temel geçim kaynağı hayvancılık ve ticaretti. Kabe'de de her kabilenin putları bulunurdu.

**Bu bilgilere bakılarak;**

- I. Merkezi güçlü bir devletin olmadığına,
- II. Tarımsal faaliyetlerin gelişmediğine,
- III. Kabe'nin dini merkez olduğuna

**yargılarından hangilerine ulaşılabilir?**

- A) Yalnız I
- B) I ve II
- C) II ve III
- D) I, II ve III





9. Sanayi kuruluşlarının yerlerinin belirlenmesinde ham maddeye yakınlık önemlidir.

Buna göre un ve unlu mamüller fabrikası açmak isteyen Mehmet Bey'in aşağıdaki bölgelerden hangisini seçmesi daha doğru olur?

- A) İç Anadolu
- B) Marmara
- C) Karadeniz
- D) Akdeniz

10. Dünya Sağlık Örgütü'nün 2008 yılında yayınladığı rapora göre hastalıkların hızlı yayılmasının en önemli sebebi uçak yolculuklarıdır.

**Bu hastalıklar arasında;**

- I. H1N1 virüsü (Kuş gribi),
- II. Kırım Kongo Kanamalı Ateşi (KKKA),
- III. Solunum yetmezliği

verilenlerinden hangileri yer alır?

- A) Yalnız I
- B) I ve II
- C) II ve III
- D) I, II ve III

11. Nitelikli insanların fazla olduğu bir ülke ile ilgili olarak;

- I. Ülkenin kalkınması hızlıdır.
- II. İnsanların düşüncelerine saygı duyulmaktadır.
- III. İnsanların iş verimi yüksektir.

Yorumlarından hangileri yapılabilir?

- A) Yalnız I
- B) I ve II
- C) II ve III
- D) I, II ve III

12. Japonya'da 2011 yılında yaşanan büyük deprem ve sonrasındaki tsunamide, Endonezya depreminde ve Somali'deki kuraklık mücadelesinde Türkiye bu ülkelere yardım göndermiştir.

Buna göre bu durum aşağıdakilerden hangisi ile ilişkilendirilebilir?

- A) Siyasi güç
- B) İş birliği
- C) Çatışma
- D) Yayılmacılık



13.

Kıtalar	Nüfusu
Afrika	896.721.826
Avrupa	804.574.696
Güney Amerika	546.723.509
Kuzey Amerika	828.387.057
Avustralya/Okyanusya	33.443.448

Bu tabloda kıtaların 2005 yılına ait nüfusları verilmiştir.

**Buna göre tablodan yararlanarak;**

- I. Dünya üzerinde nüfusun en fazla olduğu kıta Avrupa kıtasıdır.
- II. Afrika kıtasının nüfusu, Asya kıtasının nüfusundan azdır.
- III. Güney Amerika kıtasındaki nüfus, Okyanusya kıtasındaki nüfusun iki katından fazladır.

verilenlerinden hangilerine ulaşılabilir?

- A) Yalnız I
- B) I ve II
- C) II ve III
- D) I, II ve III

14.



**YURTTA BARIŞ  
DÜNYADA BARIŞ**

Atatürk'ün bu sözü doğrultusunda Türkiye aşağıdaki kuruluşlardan hangisine üye olmuştur?

A)



BM

B)



FAO

C)



GREENPEACE

GREENPEACE

D)



IMF

15. Eğer bir adam bir adamı suçlayıp ona cinayet suçu atar ve bunu ispat edemezse suçlayan kimse öldürülecektir.

(Hammurabi Kanunları)

Bu maddeden hareketle aşağıdakilerden hangisine ulaşılabilir?

- A) Sosyal alanda karışıklıkların arttığına
- B) Adalet anlayışına önem verildiğine
- C) Kısas esasının benimsendiğine
- D) Kişi haklarının korunmaya çalışıldığına

16. Aşağıdaki Türkiye haritasında haşhaş üretim alanları verilmiştir.



Haritaya bakılarak aşağıdakilerden hangisine ulaşılabılır?

- A) Türkiye'nin ihraç ettiği ürünler arasındadır.
- B) Doğal yetişme alanı en geniş olan üründür.
- C) Ege Bölgesi'nde üretim alanı daha geniştir.
- D) Üretimi devlet kontrolündedir.

17. 1783 yılında yayınlanan "İnsan ve Yurттаş Hakları Beyannamesi"nde: "Yasa genel iradenin ifadesidir. Tüm yurttaşların, genel iradenin oluşumuna şahsen ya da temsilcileri aracılığıyla katılma hakkı vardır." maddesine yer verilmiştir.

**Bu maddeden;**

- I. Hukukun üstünlüğü,
- II. Seçme-seçilme hakkı,
- III. Eşitlik

verilenlerinden hangilerine ulaşılabılır?

- A) Yalnız I
- B) I ve II
- C) II ve III
- D) I, II ve III

18. Daha iyi sosyal imkânlarla kavuşmak için büyük şehirlere yapılan göçler, buralarda sağlıksız yapılaşmalara neden olmuştur. Bununla birlikte Türkiye'de ekonomik sorunlara da yol açmıştır.

**Bu parçadaki bilgiler, aşağıdaki sosyal bilimlerden hangisinin çalışma alanı ile ilgilidir?**

- A) Antropoloji
- B) Sosyoloji
- C) Filoloji
- D) Paleografya

19.



Verilen Türkiye haritasına bakılarak İzmir'den Kars'a gidildikçe;

- I. Bakı,
- II. Yükselti,
- III. Yerel saat farkı

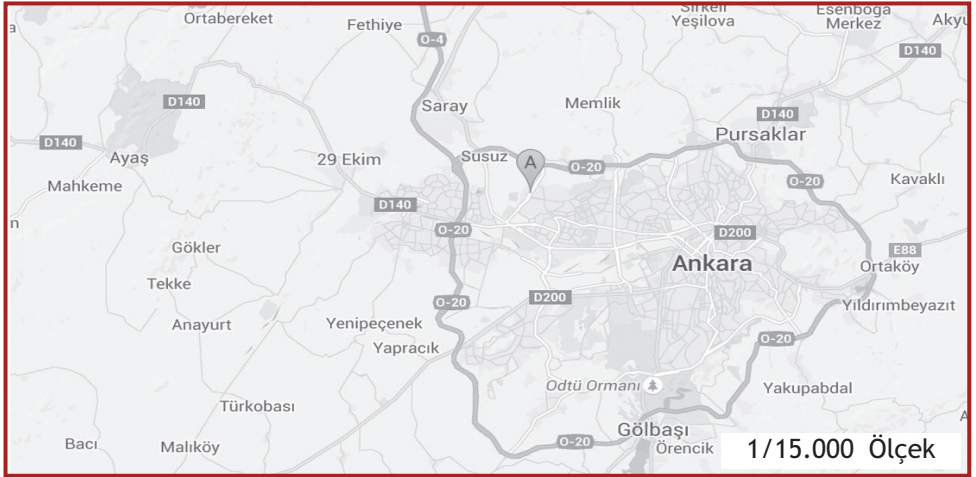
hangilerinde bir değişim yaşandığı söylenebilir?

- A) Yalnız I
- B) I ve II
- C) II ve III
- D) I, II ve III

## 20. I. Harita



## II. Harita



Yukarıda aynı ebatlara sahip iki farklı harita verilmiştir.

Verilen haritalarla ilgili aşağıdakilerden hangisine ulaşılabılır?

- A) I. haritada ayrıntı fazladır.
- B) II. haritanın küçültme oranı fazladır.
- C) II. haritanın hata oranı daha fazladır.
- D) I. harita gerçekte geniş alanları gösterir.





*Hayallerimiz var insanlığa dair.*