



TEVFİK İLERİ ANADOLU İMAM HATİP LİSESİ 2019-2020 EĞİTİM ÖĞRETİM YILI

ADI - SOYADI:

T.C. KİMLİK NO:

7 SINIFLAR ● SIRALAMA SINAVI

1. Bu sınav 2019-2020 Eğitim-Öğretim Yılı Tefik İleri Anadolu İmam Hatip Lisesi'ne yerleşecek öğrencilerin kavrama düzeylerini ölçmek amacıyla hazırlanan "SIRALAMA SINAVI"dır.
2. Sınav toplam 100 soru ve Türkçe, Matematik, Din Kültürü ve Ahlak Bilgisi, Fen Bilimleri ve Sosyal Bilgiler testlerinden oluşmaktadır. Her test 20 sorudan ibarettir.
3. Soruların cevaplarını Cevap Kağıdında ait olduğu sütuna işaretleyiniz.
4. Cevap Kağıdında, Adı-Soyadı, T.C. Kimlik Numarası ve Öğrenci No bölümlerini kodlamayı unutmayınız.

1. Aşağıdaki cümlelerin hangisinde "bitmek" sözcüğünün kazandığı anlam parantez içinde yanlış verilmiştir?

- A) Dün akşam ekmeğimiz bitiverdi.
(Tükenmek)
- B) Şu kargaşa bitiverse.
(Sona ermek, tamamlanmak)
- C) Kırk gün bana bitmez tükenmez geliyordu.
(Çok yorulmak, güçsüz kalmak, zayıflamak)
- D) Onun kadife sesine bitiyorum.
(Çok sevmek, bayılmak, beğenmek)

2. Aşağıdaki cümlelerin hangisinde altı çizili deyim "sevinç, korku, heyecan gibi sebeplerle konuşamaz olmak" anlamında kullanılmıştır?

- A) Annesinin sinirli sinirli çıkışması üzerine dilini yutup içeri girdi.
- B) Şu dilinin altındakini çıkar da anlat.
- C) Kılıç yarası geçer, dil yarası geçmez.
- D) Onun başarılarını dilinden düşürmüyordu.

3. Yavru kedinin miyavlaması yeri göğü inletiyordu.

Bu cümlede aşağıdaki söz sanatlarından hangisi vardır?

- A) Karşıtlık
- B) Abartma
- C) Benzetme
- D) Konuşturma

4. Teknolojinin insana faydaları sınırsızdır. Ancak kontrolsüz ve sınırsızca kullanılmasının özellikle çocuk ve gençlerde, düşünce süreçlerinde bozulma, sosyal gelişimde gerilik, öz güven düşüklüğü, yüksek sosyal kaygı düzeyi ve saldırganlık gibi zararları görülmüştür. Özetlemek gerekirse teknoloji, iletişim ve kolaylık sağlamanın yanında birçok problemi de beraberinde getirmiştir.

Bu metinde vurgulanmak istenen düşünce aşağıdakilerden hangisidir?

- A) Teknoloji olmazsa öz güvenimizi kaybederiz.
- B) Çocuklar ve gençler teknolojiyi sınırsızca kullanmalıdır.
- C) Teknolojinin faydalarının yanında birçok zararı da vardır.
- D) Teknoloji sadece çocuklara zararlıdır.

5. Aşağıdaki cümlelerin hangisinde "yapmak" sözcüğünün anlamı yanlış verilmiştir?

- A) Resim yapmak onun çok hoşuna gidiyordu.
(Ortaya koymak, gerçekleştirmek, oluşturmak, meydana getirmek)
- B) Sabahtan beri temizlik yapıyorsun.
(Bir işle uğraşmak, meşgul olmak)
- C) Bozulan duvar saatini usta, bir saatte yaptı.
(Onarmak, tamir etmek)
- D) İnsanı insan yapan iyi ahlakıdır.
(Bir dileği, bir isteği yerine getirmek, uygulamak)

6. (1) Bursa'dan İstanbul'a giderken Gemlik'ten geçeceksiniz.
(2) Uzun ve yorucu bir yolculuktan sonra karşınıza Gemlik'in büyüleyici manzarası çıkacaktır.
(3) Yolculuğun yorgunluğundan uzaklaşmak için biraz dinlenirseniz iyi olur.
(4) Artık güvenli bir yolculuğa hazırsınız.

Yukarıdaki numaralandırılmış cümlelerin hangisinde bir tavsiye (öneri) vardır?

- A) (1) B) (2)
C) (3) D) (4)

7. (1) Sesten rahatsız olduğum için ders çalışamadım.
(2) Eve gittiğimde evde kimseyi bulamadım.
(3) Yağmur suları taşınca evler su altında kaldı.
(4) Akşamları salonda bir süre kitap okurdu.

Yukarıdaki numaralandırılmış cümlelerin hangilerinde sebep-sonuç ilişkisi vardır?

- A) (1) ve (2)
B) (1) ve (3)
C) (2) ve (3)
D) (3) ve (4)

8. Aşağıdaki cümlelerin hangisinde kişisel görüşe yer verilmemiştir?

- A) Dedem on yılını şehir dışında geçirmiş.
B) Yazdığı hikâyeye çok güzel, okuyan herkes beğeniyor.
C) Memleketim dünyada eşi benzeri bulunmayan bir yerdir.
D) En güzel şiiri o yazmış.

9. İş yapacak olanda yeteri kadar güç bulunmadıkça başkalarının küçük katkılarıyla sürekli ve büyük bir iş yürütemez.

Bu cümledeki anlama en yakın atasözü aşağıdakilerden hangisidir?

- A) Bakarsan bağ olur, bakmazsan dağ olur.
B) Taşıma su ile değirmen dönmez.
C) Güneş girmeyen eve doktor girer.
D) Ağaç yaş iken eğilir.

10. Kasaba geniş bir sahilin kenarına kurulmuştu. Sahilin ilerisindeki beyaz badanalı evler, kasabaya farklı bir güzellik katıyordu. Evlerin biraz uzağında kocaman kocaman ağaçlar insana huzur veriyordu. Kasabanın ihtiyarlarından bir kadın köye gelen misafirleri karşılamak için bahçeye çıktı.

Bu metinde aşağıdaki hikaye unsurlarından hangisine yer verilmemiştir?

- A) Yer B) Zaman
C) Kişi D) Olay

11. (1) Babasını gören çocuk sevinçle arabaya doğru koşmaya başladı.
(2) Çocuk bir an duraksadı, onu yalnız bırakmayan öğretmenine gülümsedi.
(3) Baba okulun dağılma saatine yetişememişti.
(4) Okula yaklaştığında kapıda oğlunu gördü.

Yukarıdaki numaralandırılmış cümlelerle anlamlı bir metin oluşturulduğunda sıralama nasıl olur?

- A) (1) - (2) - (3) - (4)
B) (4) - (3) - (2) - (1)
C) (3) - (2) - (4) - (1)
D) (3) - (4) - (1) - (2)

12. Ağaçlarında kuşlar ötüşür,
Yaylalarında çiçekler açar yurdumun.
Bu yaz günü ne güzeldir,
Kekik kokusu, keklik sesleri.
Dört gözle bekliyorum,
Sana geleceğim günleri.

Bu şiire hakim olan duygu aşağıdakilerden hangisidir?

- A) Yaşama sevinci
B) Memleket özlemi
C) Çocukluğa özlem
D) Beğeni

13. Hızlı trenle yaptığım seyahatimin ilk durağı Konya idi. Konya'ya vardığımızda ablam rotayı çizmişti bile. Önce bizi şehrin en önemli yerine, Mevlana Müzesi'ne götürdü. Sonraki durağımız Alaaddin Tepesi ve İstiklal Harbi Şehitleri Abidesi idi. Tarihî ve doğal güzellikler iç içeydi.

Konya, yüz ölçümü itibariyle Türkiye'nin en büyük şehri olma özelliği taşıyormuş. Anadolu'nun en eski yerleşim yerlerinden olan Konya'da gezilecek yerler, yapılacak aktiviteler ve tadılacak bir çok lezzet varmış.

Bu parça aşağıdaki metin türlerinin hangisinden alınmış olabilir?

- A) Anı
- B) Mektup
- C) Hikaye
- D) Gezi yazısı

14. "Onun serveti padişahların hazinesinden daha çoktu."

Bu cümlede aşağıdaki anlam özelliklerinden hangisi vardır?

- A) İhtimal
- B) Karşılaştırma
- C) Beğenme
- D) Şaşma

15. Antibiyotiklerin gelişigüzel kullanılması fayda sağlamadığı gibi pek ciddi sağlık sorunlarına da sebep olabiliyor. Böbrek veya karaciğer yetmezliği ile obezite gibi sağlık sorunlarına yol açabiliyor. Bu sebeple doktorların önerilerini dikkate almalıyız.

Türkiye, kişi başına düşen antibiyotik kullanım miktarı açısından Avrupa'da ilk sırada yer alıyor. Ülkemizdeki toplam ilaç harcamalarının %35'ini antibiyotikler oluşturmaktadır.

Bu metinde aşağıdaki sorulardan hangisinin cevabı yoktur?

- A) Antibiyotiklerin sağlık harcamalarındaki yeri nedir?
- B) Antibiyotiği yanlış kullanmak hangi organlarımıza zarar verebilir?
- C) Antibiyotik kullanırken neden dikkat etmeliyiz?
- D) Tedaviler için antibiyotiğin önemi nedir?

16. Sözcükler yapılarına göre basit, türemiş ve birleşik olmak üzere üçe ayrılır.

Bu açıklamaya göre aşağıdaki altı çizili sözcüklerden hangisi, yapısına göre farklıdır?

- A) Yolcu otobüsü, saat üçte hareket edecek.
- B) Ablam bugün neşeli görünüyor.
- C) Emeklilik günlerini hayal ediyordu.
- D) Selde bütün eşyalar zarar gördü.

17. Otobüsle Ankara'ya gidiyordum. Terminale inince kendimi büyük bir kalabalığın içinde buldum. Arkadaşımı beklerken insanları izledim. Bazıları sakın sakın hareket ediyor fakat bazıları koşar adımlarla hızlı hızlı yürüyordu. Hiç tanımadığım Ankara'yla tanışmak için sabırsızlanıyordum.

Bu metin anlatımıyla ilgili aşağıdakilerden hangisi söylenemez?

- A) İkilemelerden yararlanılmıştır.
- B) Anlatım üçüncü kişi ağzından yapılmıştır.
- C) Düşüncenin yönünü değiştiren bağlaç kullanılmıştır.
- D) Olay yazısından alınmıştır.

18. "İçin" edatı aşağıdakilerden hangisinde cümleye amaç anlamı katmıştır?

- A) Uykusu geldiği için erken yattı.
- B) Bu roman için çok güzel şeyler söylediler.
- C) Arkadaşımı görmek için Ankara'ya gidiyorum.
- D) Arkadaşım beni gördüğü için çok mutlu oldu.

19. Aşağıdakilerin hangisinde büyük harflerin kullanımıyla ilgili bir yanlışlık yapılmıştır?

- A) Okullar, 16 Eylül'de açılacak.
- B) Dünya, Güneş etrafındaki dönüşünü 365 günde tamamlar.
- C) Amasya elmasının tadına doyum olmaz.
- D) Ömer Seyfettin'in eserlerinden biri Yalnız efe'dir.

20. Aşağıdaki cümlelerdeki altı çizili zamirlerden hangisi işaret yoluyla bir varlığın yerini tutmuştur?

- A) Onları sınıftaki kitaplığa bırak.
- B) Yemeğe onları da çağırıldı.
- C) Sana güzel bir kitap aldım.
- D) Kitapların hepsini bana hediye etti.

1. $100 \div 4 - 2 \times 10 + 55$
işleminin sonucu kaçtır?

A) 285 B) 60
C) 59 D) 58

2. 1001 sayısının farklı asal çarpanlarının toplamı kaçtır?

A) 31 B) 29
C) 27 D) 21

3. Aynı fiyatlı 8 kalemin fiyatı 70 TL olduğuna göre 1 kalemin fiyatı kaç TL'dir?

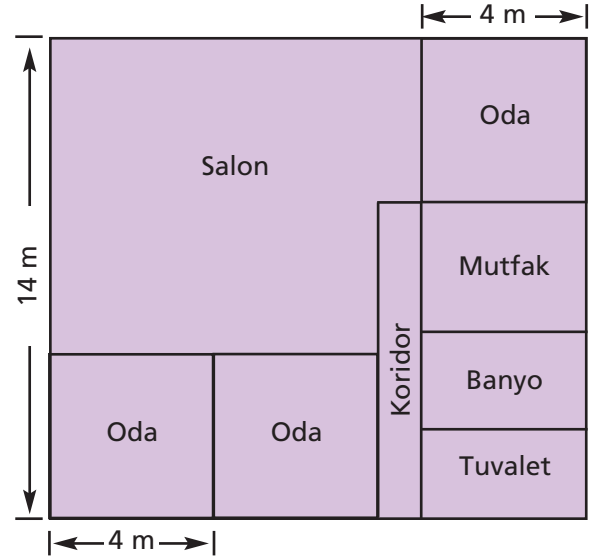
A) 8,25 B) 8,50
C) 8,75 D) 9,25

4. Beş katlı bir öğrenci yurdunda üç katın her birinde 11 oda, diğer iki katın her birinde 9 oda vardır. Zemin katta oda yoktur.

Bir odada en çok 4 öğrenci kalabildiğine göre bu yurttaki kalan öğrenci sayısı en fazla kaçtır?

A) 192 B) 196
C) 200 D) 204

- 5.



Yukarıdaki planda ev ve odalar kare şeklindedir. Evin bir kenar uzunluğu 14 m, odaların bir kenar uzunluğu 4 m olduğuna göre bu evin salonu kaç metrekaredir?

A) 84 B) 88
C) 92 D) 96

6. Aşağıdaki tabloda bir öğrencinin perşembe günü dışında hafta içi günlerde ders çalışma süreleri verilmiştir.

Tablo: Günlere Göre Ders Çalışma Süreleri

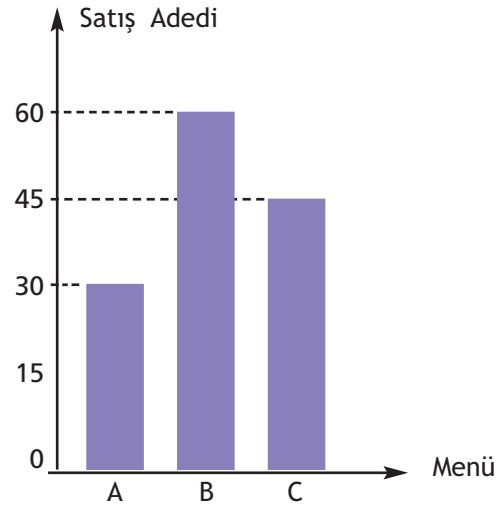
| Günler | Pazartesi | Salı | Çarşamba | Perşembe | Cuma |
|--------------------------------|-----------|------|----------|----------|------|
| Ders Çalışma Süreleri (Dakika) | 150 | 180 | 210 | ? | 120 |

Tabloya göre bu öğrencinin hafta içi günlük çalışma süresi ortalama 2,5 saat olduğuna göre perşembe günü kaç saat ders çalışmıştır?

- A) 1 B) 1,5
C) 2 D) 2,5

7. Bir lokanta A, B ve C menülerinden günlük belli sayıda hazırlayıp gün içinde müşterilerine satmaktadır. Aşağıdaki grafikte bu lokantada 23 Nisan 2018 tarihinde A, B ve C menülerinden kaç tane satıldığı gösterilmiştir.

Grafik: A, B ve C Menülerinin Satış Adetleri



Söz konusu tarihte hazırlanan B menüsünün yarısı, hazırlanan C menüsünün $\frac{1}{3}$ i ve hazırlanan A menüsünün tamamı satılmıştır.

Buna göre verilen tarihte toplam kaç tane menü hazırlanmıştır?

- A) 270 B) 275
C) 280 D) 285

8. Kütlelerinin aritmetik ortalaması 80 kg olan 30 kişilik sınıftan iki öğrenci başka okula gidiyor.

Kalan öğrencilerin kütlelerinin aritmetik ortalaması değişmediğine göre başka okula giden iki öğrencinin kütleleri aşağıdakilerden hangisi olamaz?

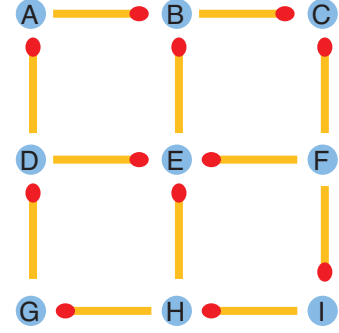
- A) 77 kg ve 83 kg
B) 74 kg ve 86 kg
C) 72 kg ve 84 kg
D) 75 kg ve 85 kg

9. 85 çalışanın olduğu bir şirkette çalışanların $\frac{8}{17}$ 'i erkektir. Kadın çalışanların 15'i, erkek çalışanların 20'si İngilizce bilmektedir.

Buna göre bu şirkette İngilizce bilmeyen kadın çalışanların sayısının, İngilizce bilmeyen çalışanların sayısına oranı kaçtır?

- A) $\frac{1}{2}$ B) $\frac{2}{3}$
C) $\frac{3}{5}$ D) $\frac{4}{5}$

10. Aşağıda 12 kibrit ve 1'den 9'a kadar birbirinden farklı rakamlarla numaralandırılacak 9 topun görünümü verilmiştir.



Şekilde, her bir kibrit çöpünün ucunun gösterdiği topun numarası kibrit çöpünün arkasının gösterdiği topun numarasından büyüktür.

Örneğin, yukarıdaki şekilde B sayısı A sayısından büyüktür.

Buna göre, C+F+I toplamı kaçtır?

- A) 12 B) 11
C) 10 D) 9

11. Yarıçapının uzunluğu 6 cm olan bir çemberin çevre uzunluğuna eşit olan karenin bir kenar uzunluğu kaç santimetredir? (π yerine 3 alınız.)

- A) 8 B) 9
C) 10 D) 12



Yukarıda yedi daireden 2'si sarı, 2'si siyah, 1'i beyaz, 1'i yeşil ve 1'i kırmızı boyanacaktır.

İPUÇLARI:

- Her sarı dairenin hemen solunda bir siyah daire vardır.
- Sıranın bir ucunda sarı daire, diğer ucunda siyah daire vardır.
- Beyaz daire ne sarı daireye ne de siyaha komşudur.

Verilen ipuçlarına göre dairelerin renkleri hangi seçenekte doğru verilmiştir?

- A)
- B)
- C)
- D)

13. Tümler iki açıdan birinin ölçüsü diğerinin ölçüsünün 5 katıdır. Bu açılardan küçük olanın ölçüsünün 4 katı olan bir açının bütünlerinin ölçüsü kaç derecedir?

- A) 105 B) 115
C) 120 D) 130

14. Aşağıdaki tabloda Ayşe, Zehra ve Deniz'in A, B, C, D, E olmak üzere beş seçenekli beş soruya verdikleri cevaplar ve doğru cevap sayıları gösterilmiştir.

| | Soru Numarası | | | | | Doğru Cevap Sayısı |
|-------|---------------|---|---|---|---|--------------------|
| | 1 | 2 | 3 | 4 | 5 | |
| Ayşe | C | D | E | A | B | 3 |
| Zehra | B | D | A | E | B | 0 |
| Deniz | C | A | B | E | D | 3 |

Deniz hangi soruları yanlış cevaplamıştır?

- A) 1. ve 2. B) 2. ve 3.
C) 2. ve 4. D) 3. ve 4.

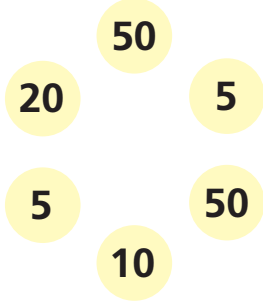
15. Cüneyt'in hiç artmayacak bir biçimde 9 arkadaşına eşit şekilde paylaşabileceği $4\blacktriangle 6$ tane cevizi vardır.

$4\blacktriangle 6$ üç basamaklı bir doğal sayı olduğuna göre Cüneyt bu cevizi 4 arkadaşına eşit şekilde paylaşırsa kaç cevizi artar?

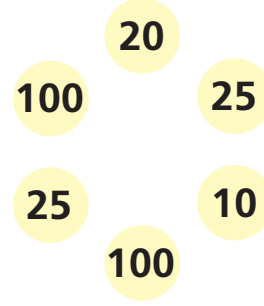
- A) 0 B) 1
C) 2 D) 3

16.

Birinci Grup



İkinci Grup

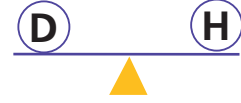
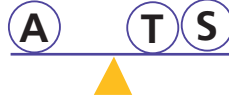
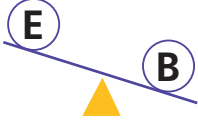
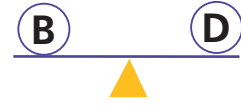
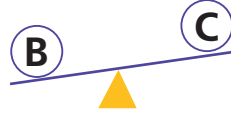
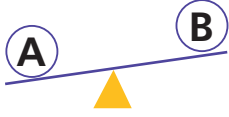


Şekilde rastgele iki gruba ayrılmış sayılar gösterilmektedir.

Hangi sayıların yerleri değiştirilirse ikinci gruptaki sayıların toplamı birinci gruptaki sayıların toplamının üç katı olur?

| | Birinci Gruptan | | İkinci Gruptan |
|----|-----------------|-----|----------------|
| A) | 5 50 | ile | 100 25 |
| B) | 10 5 50 | ile | 10 20 |
| C) | 50 5 | ile | 25 20 10 |
| D) | 20 10 50 | ile | 25 100 10 |

17.



Yukarıda verilenlere göre en ağır cisim hangisidir?


A) H

B) S

C) B

D) A

18.



Bir tören için dörderli sıraya geçen okuldaki öğrenciler 1'den başlanarak şekildeki gibi numaralandırılıyor.

En ön sıradaki öğrencinin isimleri sıra ile Fatih, Mehmet, Mustafa ve Murat olduğuna göre 53 numaralı öğrenci aşağıdaki hangi öğrencinin hizasındadır?

A) Mehmet

B) Murat

C) Fatih

D) Mustafa

19.

| | | | |
|-----|----|----|-----|
| | | | 21 |
| | | | 8 |
| | | | b |
| a | 60 | 14 | |

Yukarıda verilen sayı bulmacasındaki boyalı olmayan karelere 1'den 7'ye kadar (1 ve 7 dahil) olan doğal sayıların tümü yazılacaktır. Karelerin dışında verilen sayılar bulunduğu satırdaki ya da sütundaki sayıların çarpımıdır.

Buna göre $a+b$ kaçtır?

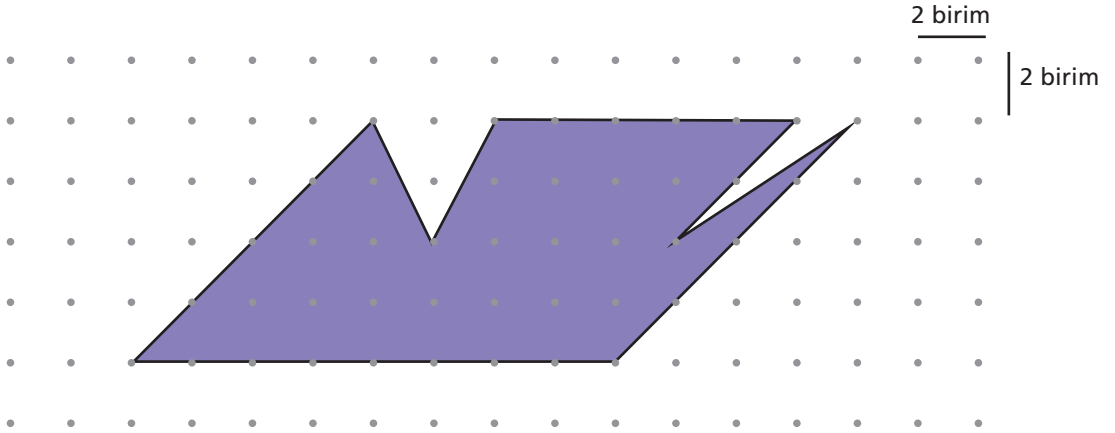
A) 32

B) 35

C) 36

D) 38

20.



Yukarıda noktalı kağıtta verilen şeklin alanı kaç birimkaredir?

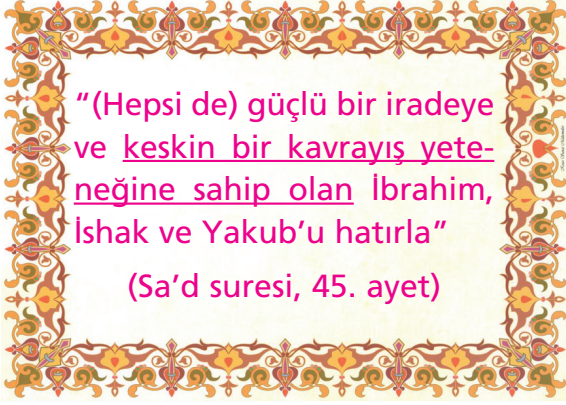
A) 116

B) 114

C) 112

D) 110

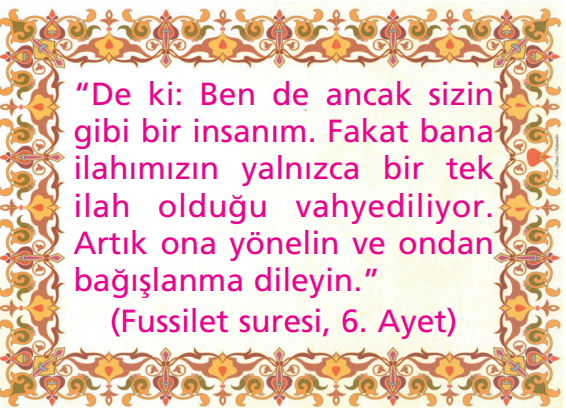
1.



Bu ayette altı çizili bölüm aşağıdaki peygamberlerin özelliklerinden hangisi ile ilişkilendirilir?

- A) Sıdk B) Emanet
C) Fetanet D) Tebliğ

2.



Peygamberlerin özellikleri ile ilgili olan bu ayete göre aşağıdakilerden hangisi çıkarılabilecek bir sonuçtur?

- A) Peygamberlere vahiy, yaşadıkları toplumların diliyle gönderilmiştir.
B) Kur'an'da adı geçen peygamberlerin dışında da peygamber gönderilmiştir.
C) Peygamberleri insanlardan ayıran en önemli özellik Allah'tan (c.c.) vahiy almalarıdır.
D) Peygamberlerin güvenilir, akıllı ve zeki olma özellikleri vardır.

3.



Bu ayet Kur'an-ı Kerim'le ilgili aşağıdaki sorulardan hangisine cevap niteliğindedir?

- A) Ne zaman indirilmiştir?
B) Niçin indirilmiştir?
C) Nasıl indirilmiştir?
D) Hangi dilde indirilmiştir?

4. Ahmet Öğretmen ilahi kitaplar konusunu anlatmaktadır. Ders sonunda öğrencilerinin ilahi kitapları gönderiliş sırasına göre söylemelerini istemiştir.

Azra: İncil, Zebur, Tevrat, Kur'an
Elif: Zebur, Tevrat, İncil, Kur'an
Efe: Kur'an, İncil, Zebur, Tevrat
Emre: Tevrat, Zebur, İncil, Kur'an

cevabını vermiştir.

Bu öğrencilerden hangisi Ahmet Öğretmen'in sorusunu doğru cevaplandırmıştır?

- A) Azra B) Elif
C) Efe D) Emre

5. (1) Namaz, mükellef (dinin emirlerinden sorumlu) olan müslümanlara farzdır. (2) Bu ibadet sayesinde insan Allah'la (c.c.) yakınlaşır, temizliği alışkanlık haline getirir, zamanı kullanmayı öğrenir ve kötülüklerden uzaklaşır. (3) Namaz kılarken ve öncesinde yapılması gereken bazı kuralları vardır. Bunlara "namazın farzları (şartları)" denir. (4) Cuma, bayram, teravîh ve beş vakit namaz gibi kılışları farklı namaz türleri vardır.

Bu paragrafta numaralandırılmış cümlelerin hangisinde namazın faydaları anlatılmıştır?

- A) (1) B) (2)
C) (3) D) (4)

6. ● Sünnet bir namazdır.
● Sadece Ramazan ayında kılınır.
● Yatsı namazı vaktinde kılınır.

Bu bilgilerde anlatılan namaz türü aşağıdakilerden hangisidir?

- A) Teravîh namazı
B) Cuma namazı
C) Bayram namazı
D) Vitir namazı

7. I. "Bismillah" / Kaide-i ahire (son oturuş)
II- "Subhane rabbiyel azim" / Rûku
III- "Subhane rabbiyel a'la / Secde
IV- "Esselamu aleyküm ve rahmetullah / Başlama tekbiri (iftitah tekbiri)

Namazın kılınışı düşünüldüğünde numaralandırılmış eşleştirmelerden hangileri yanlıştır?

- A) I, III B) II, IV
C) I, IV D) II, III

8.

| Namazlar | Sünnet | Farz | Farz Sonrası Sünnet | Vitir |
|----------|--------|------|---------------------|-------|
| Sabah | ▲ | 2 | - | - |
| Öğle | 4 | 4 | 2 | - |
| İkindi | 4 | ■ | - | - |
| Akşam | - | ● | 2 | - |
| Yatsı | 4 | 4 | 2 | 3 |

Namaz rekatları ile ilgili bu tabloda ▲ , ■ , ● yerine sırasıyla aşağıdakilerden hangileri gelmelidir?

- A) 2, 4, 3 B) 4, 2, 4
C) 4, 4, 2 D) 2, 2, 3

9. I. Medine'ye hicret
II. Boykot dönemi
III. Mescid-i Nebi'nin yapımı
IV. Hubeydiye Barış Anlaşması

Peygamberimizin hayatıyla ilgili bu olayların oluş sırası aşağıdakilerden hangisidir?

- A) III, I, II, IV B) II, I, III, IV
C) II, IV, I, III D) III, II, I, IV

10. "Devlet, gençleri alkol düşkünlüğünden, uyuşturucu maddelerden, suçluluk, kumar ve benzeri kötü alışkanlıklardan ve cehaletten korumak için gerekli tedbirleri alır."

(Anayasa, 58. madde)

Aşağıdakilerden hangisi anayasamızın ilgili maddesi gereğince devlete düşen görevlerden biri değildir?

- A) Uyuşturucu kullanmanın ve satmanın suç sayılması
- B) Polislerin okul çevrelerinde yaptıkları denetimlerle, gençleri bağımlılıktan korumak için tedbir alması
- C) Okullarda, devlete bağlı kurumlarda bağımlılıklar konusunda eğitim verilmesi
- D) Ebeveynlerin çocuklarıyla iletişimini güçlü tutması ve onları kötü arkadaşlardan uzaklaştırması
11. Aşağıdakilerden hangisi sigara, alkol, uyuşturucu ve kumar gibi zararlı alışkanlıkların toplumsal zararlarından biri değildir?

- A) Aile huzurunu bozar, ailelerin dağılmasına neden olur.
- B) Akıl yetisini kullanmayı engeller, bireyin ruh ve beden sağlığına zarar verir.
- C) Güven ve huzur ortamının bozulmasına, suç oranlarının artmasına neden olur.
- D) Bağımlılıklarla mücadele kapsamında yapılan çalışmalarla devletin ekonomisinin zarar görmesine neden olur.

12.



Aşağıdakilerden hangisi bu hadisi anlatan bir kimsenin yapmayacağı bir davranıştır?

- A) Sınıfın başarılı ve örnek öğrencisine, olmadığı bir ortamda övgü dolu sözler söylemek.
- B) Tartı kullanarak yaptığı bir işi varsa, düzenli olarak tartısının kontrolünü yaptırmak.
- C) Sınıf arkadaşlarından kilo sorunu olan Ece'ye "Şişko Ece" diye seslenmek.
- D) Camide şarj ettiği telefon için yardım sandığına bir miktar bağışta bulunmak.
13. Hz. Muhammed'in (s.a.v.) hayatı ile ilgili aşağıdaki bilgilerden hangisi doğru değildir?
- A) Peygamberimiz Medine'ye hicretten önce, diğer müslümanlarla Habeşistan'a da hicret etmiştir.
- B) Amcası Ebu Talip ve eşi Hz. Hatice hüzün yılı adı verilen aynı yılda vefat etmiştir.
- C) Mekkeli Müşriklerle yapılan ilk anlaşma, Hubeydiye Anlaşması'dır.
- D) Mekkeli müşriklerle yapılan ilk savaşın adı, Bedir Savaşı'dır.

14. Peygamberimiz ilk vahiy gelişinden sonra bir süre vahiy almamıştır. Fetretül vahiy (vahyin kesilmesi) denilen bu süreden sonra kendisine gelen vahiy gereğince insanlara dinin esaslarını anlatmaya başladı. Üç yıl kadar gizli gizli, yakın çevresinden başlayarak daveti anlatmayı sürdürdü. İlk olarak eşi Hz. Hatice ve kızları müslüman olarak Peygamberimize destek olmuşlardır. Üç yıl süren gizli davetin sonunda Allah (c.c.) uyarıyı açıktan yapmasını istemiş ve açıktan davet başlamıştır.

Aşağıdakilerden hangisi Allah (c.c.)'ın peygamberimizden İslam'a daveti açıktan yapmasını istediği ayet olabilir?

- A) "Yaratan Rabb'inin adıyla oku!" (Alak suresi, 1. ayet)
- B) "(Ey Muhammed) Şimdi sen, sana emrolunanı açıkça ortaya koy ve Allah'a ortak koşanlara aldırış etme." (Hicr suresi, 94. ayet)
- C) "(Önce) en yakın akrabana uyar." (Şura suresi 214. ayet)
- D) "Muhammed ancak resuldür, elçidir. Nitekim ondan önce de nice resuller gelip geçmiştir." (Ali İmran suresi, 144. ayet)

15. **Aşağıdakilerden hangisi Ramazan ayını diğer aylardan ayıran özelliklerden biri değildir?**

- A) Kur'an'ın indirildiği ay olması
- B) Oruç tutulan ay olması
- C) Aşure yapılan ay olması
- D) Teravih namazının kılındığı ay olması

16. Peygamberimiz hac ibadetini bir kez yapabilmiştir. İlk ve son kez yaptığı bu ibadet tarihte veda haccı olarak bilinir. Veda haccı sırasında Arafat'ta büyük bir kalabalığa seslenmiş, onlarla helalleşmiştir. Peygamberimizin bu konuşmasına Veda Hutbesi denilmiştir. Peygamberimiz veda hutbesinde insanlara önemli mesajlar vermiştir. İnsan hakları konusunda ne kadar hassas olduğunu bu hutbeyle bir kez daha anlatmıştır. İnsanların eşitliği, faizin, kan davasının haram olduğunu, kadın ve erkeğin birbirlerine karşı sorumluluklarını hatırlatmıştır. Allah'a şirk koşmanın yasak olduğunu, Kur'an ve sünnete sınıksız sarılarak günahattan korunacağımızı anlatmıştır.

Bu paragrafta aşağıdakilerden hangisine değilmiştir?

- A) Veda haccının ne zaman yapıldığı
- B) Veda haccının tanımı
- C) Veda hutbesinin içeriği
- D) Veda hutbesinin nerede yapıldığı

17. ● Medine'ye hicretten sonra yapılmıştır.
● Medine ve çevresinde yaşayan kabileler, Yahudiler ve Müslümanlar arasında yapılmıştır.
● Medine'de barış ortamının sağlanması amaçlanmıştır.

Hiz. Muhammed'in toplumsal barışa verdiği önemi gösteren bu anlaşma aşağıdakilerden hangisidir?

- A) Hubeydiye Anlaşması
- B) Veda Hutbesi
- C) Mekke Anlaşması
- D) Medine Sözleşmesi

18.

Hiç kuşkusuz Allah adaleti, iyilik yapmayı, akrabaya ikramda bulunmayı emrediyor. Utanç verici hareketleri, çirkinlikleri ve saldırganca tutum ve davranışları yasaklıyor.”

(Nahl suresi, 90. ayet)

Aşağıdakilerden hangisi bu ayette anlatılan toplumu birleştiren tutum ve davranışlardan biri değildir?

- A) Adaletli olmak
- B) Kardeşlik
- C) Akrabayla iyi ilişki kurmak
- D) Bencillik

19. I- Eşiyile beraber Allah'ın (c.c.) emrine uymadıkları için Cennet'ten çıkarılmıştır.
- II- Babası Hz. Zekeriya'dır.
- III- Mescid-i Aksa'nın bulunduğu şehir olan Kudüs'te yaşamıştır.
- IV- Hz. Meryem'in eğitim ve bakımı ile ilgilenmiştir.

Numaralandırılmış bilgilerden hangileri Hz. Yahya ile ilgilidir?

- A) II, III
- B) II, III, IV
- C) I, II
- D) I, IV

20. “Toplumumuzu birleştiren temel değerlerimiz konusunda neler söylemek istersiniz?” diye soru soran Elif Öğretmen, öğrencilerden farklı cevaplar almıştır.

Sena: Temel değerlerimiz toplumu birleştiren, birlik ve beraberliğin artmasına büyük katkı sağlayan değerlerdir.

Tuna: Bir değer olarak dinin emir ve yasakları, toplumumuz için de vazgeçilmezdir. Sabırlı olmak, hırsızlık yapmamak gibi ahlaki değerler; oruç, namaz gibi ibadetler, camiler bu değerlerimizden bazılarıdır.

Berke: Peygamber sevgisi bizi birleştiren çok önemli bir değerdir. Peygamberimizi sevmeliyiz ancak onun aile fertleri olan “ehli beyt”i sevmek zorunda değiliz. Ehli beyt sevgisi bizi birleştiren bir değer değildir.

Hira: İnsanlar pek çok konuda farklı düşünse de bağımsızlığımız ve egemenliğimizin devamı için vatan ve millet sevgisine sahip olmalıdır. Vatanımız, millet bilinci, İstiklal Marşımız ve bayrağımız çok önemli birleştirici temel değerlerimizdendir.


Hangi öğrencinin sözlerinde doğru olmayan cümleler vardır?

- A) Sena
- B) Tuna
- C) Berke
- D) Hira

1. Aşağıda verilen gezegenlerden hangisi dış gezegenler arasında yer alır?

A) Venüs
B) Merkür
C) Uranüs
D) Dünya

2. Şekildeki modelde Güneş tutulması olayı gösterilmiştir.



Bu olay ile ilgili verilen bilgilerden hangisi doğrudur?

A) Gece gerçekleşir.
B) Güneş gözlenemez.
C) Ay gözlenemez.
D) Her ay gerçekleşir.

3. Batı ← →Doğu

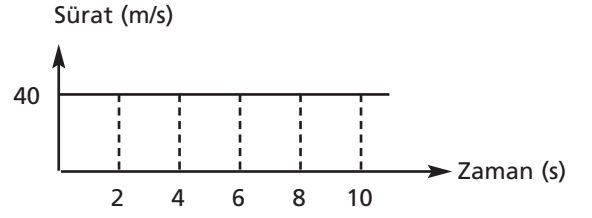


Şekilde doğu yönünde hareket eden oyuncak araba üzerine etki eden kuvvetler gösterilmiştir.

Aşağıdaki kuvvetlerden hangisi üçüncü bir kuvvet olarak uygulanırsa, araba sabit hızla yoluna devam eder?

A) Batı yönünde 4N
B) Doğu yönünde 2N
C) Batı yönünde 2N
D) Doğu yönünde 4N

4. Yatay ve doğrusal yolda ilerleyen bir yarış atına ait sürat–zaman grafiği verilmiştir.



Yarış atının hareketi ile ilgili

- I- Yarış atı 10 saniyede 400 metre yol alır.
II- Yarış atının 2. saniyede sürati 80 m/s dir.
III- Yarış atının 10 saniye boyunca sürati sabit kalmıştır.

yargılarından hangileri doğrudur?

A) I ve II B) I ve III
C) II ve III D) I, II ve III

5. Havalimanına yakın oturan teyzesine ziyarete giden Ela, uçak geçerken uçak sesinden evin camlarının titreğini fark etmiştir.

Bu durumun sebebi sesin hangi özelliği ile ilgilidir?

A) Boşlukta yayılabilmesi
B) Işıktan daha süratli yayılması
C) Maddesel ortamda yayılması
D) Enerjiye sahip olması

6. İnsan vücudunda bulunan, kas dokusu çeşitlerine ait bazı özellikler tabloda verilmiştir.

| Kas çeşidi \ Özellik | Çalışma Şekli | Çizgili Yapı | Rengi |
|----------------------|---------------|--------------|---------|
| I | İstemsiz | var | Kırmızı |
| II | İstemsiz | yok | Beyaz |
| III | İstemli | var | Kırmızı |

Bu tabloda numaralarla gösterilen kas dokusu çeşitleri, aşağıdakilerden hangisinde doğru verilmiştir?

| | Kalp kası | Çizgili Kas | Düz Kas |
|----|-----------|-------------|---------|
| A) | I | III | II |
| B) | II | I | III |
| C) | III | I | II |
| D) | I | II | III |

7. Doğal yollar ile sürekli kendini yenileyebilen ve çevreye zarar vermeyen kaynakları "yenilenebilir enerji kaynakları"dır. Bu nedenle yenilenebilir enerji kaynaklarının kullanımı yaygınlaştırılmalıdır.

Aşağıdakilerden hangisi yenilenebilir enerji kaynaklarının yaygınlaştırılmasının sonuçları arasındadır?

- A) Fosil yakıt kullanımının artması
 B) Küresel ısınma gibi çevre sorunlarının artması
 C) Hava kirliliğinin önemli ölçüde azalması
 D) Canlı türlerinin azalması

8.



Zeynep

Yüksek sestem irkiliyor.



Özgül

Elini sobaya değdirince aniden çekiyor.



Hakan

Spor yaparken kalbinin atış hızı artıyor.



Batu

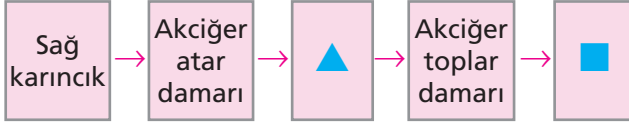
Gözbebeği fazla ışıktta küçülüyor.

Yukarıda öğrencilerin vücudunda meydana gelen bazı değişimlere örnekler verilmiştir.

Hangi öğrencide görülen değişimler omurilik tarafından kontrol edilmez?

- A) Zeynep
 B) Özgül
 C) Hakan
 D) Batu

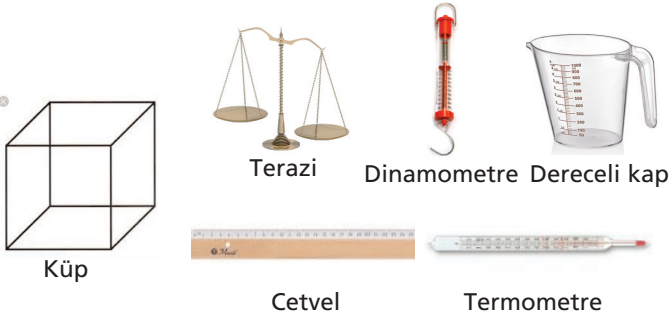
9. Küçük kan dolaşımında kanın izlediği yol aşağıdaki tabloda verilmiştir.



Tabloda ▲ ve ■ yerine aşağıdakilerden hangisi yazılmalıdır?

- | | |
|------------|--------------|
| ▲ | ■ |
| A) Akciğer | Sol kulakçık |
| B) Böbrek | Sol kulakçık |
| C) Akciğer | Sol karıncık |
| D) Böbrek | Sol karıncık |

10. Öğrenciler şekildeki küpün yoğunluğunu aşağıdaki verilen malzemeleri kullanarak hesaplamak istiyorlar.



Öğrenciler hangi araçları kullanarak küpün yoğunluğunu hesaplayabilirler?

- A) Cetvel, terazi
B) Termometre, dinamometre
C) Terazi, dinamometre
D) Terazi, dereceli kap

11. Mehmet Bey kışın ısıtmakta zorlandığı evine ısı yalıtımı yaptırmaya karar verir.

Evin ısı yalıtımını yapan ustalar aşağıdakilerden hangisini kullanırlar?

- A) Demir
B) Cam yünü
C) Bakır
D) Çelik

- 12.



Şekilde verilen saç kurutma makinesinin yapımında plastik, demir metal ve mika kullanılmıştır.

Bu malzemeler numaralı kısımlardan hangilerinde yer alır?

- | | | |
|------------|---------|---------|
| 1 | 2 | 3 |
| A) Demir | Plastik | Mika |
| B) Plastik | Demir | Demir |
| C) Plastik | Demir | Mika |
| D) Demir | Demir | Plastik |

13. Öğrenciler maddenin tanecikli yapıda olduğunu ispatlamak için aşağıdaki deneyleri yapıyorlar.



Zuhale

Metal paranın sıkıştırılmaması



Ayhan

Şekerin suda çözülmesi



Mustafa

Mürekkebin suda dağıtılması



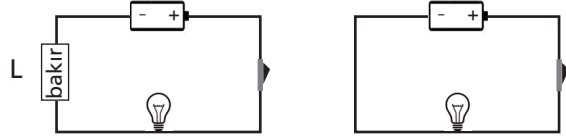
Zehra

Parfüm sıkarak odaya yayılması

Bu örneklerden hangisi maddenin tanecikli yapıda olduğunu ispatlamaz?

- A) Zuhale
B) Ayhan
C) Mustafa
D) Zehra

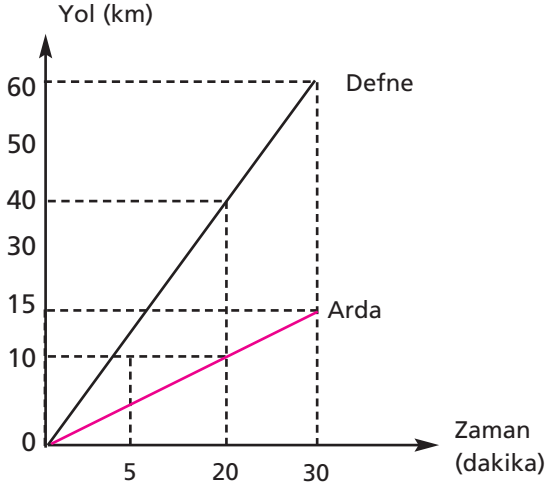
14. Bir deneyde, basit bir elektrik devresinde iletkenin cinsinin elektriksel direnç etkisini araştırmak için özdeş devreler hazırlanıyor. Daha sonra devrelerden birine S kesitine sahip L uzunluğunda bir bakır tel ekleniyor.



Buna göre diğer devrede aşağıdaki iletken tellerden hangisi kullanılmalıdır?

- A) L
Bakır S
- B) 2L
Altın S
- C) 2L
Bakır S
- D) L
Gümüş S

15. Grafik, Defne ve Arda'nın 30 dakika süresince araçlarıyla yaptıkları yolculuğu göstermektedir.



Bu grafiğe göre aşağıdakilerden hangisi doğrudur?

- A) Arda'nın ortalama sürati Defne'nin süratinden fazladır.
 B) İkisinin de sürati sürekli artmıştır.
 C) 30 dakika sonunda Defne daha az yol almıştır.
 D) Arda ve Defne sabit süratle hareket etmektedir.
16. İskelet sistemimizde bulunan bazı eklemlerin hareketi sınırlıdır. Bunlara "yarı oynar eklem" denir.

Aşağıdaki vücut kısımlarımızdan hangisinde yarı oynar eklem bulunur?

- A) Kafatası kemikleri arasında
 B) Omur eklemleri arasında
 C) El ve ayak bileklerinde
 D) Kol ve dizdeki kemikler arasında

17. Tabloda I, II, III ve IV ile numaralanan bazı saf maddelerin özellikleriyle ilgili bilgiler verilmiştir.

| Madde | Tanecikler Arası Boşluk | Belirli bir Şekil |
|-------|-------------------------|-------------------|
| I | Az | Yok |
| II | Çok | Yok |
| III | Az | Yok |
| IV | Çok az | Var |

Buna göre oda sıcaklığında kaç numara ile gösterilen madde için aşağıda verilen örnek doğrudur?

- A) I → Gümüş
 B) II → Plastik
 C) III → Oksijen
 D) IV → Altın

18. Aşağıdakilerden hangisi ergenlik döneminde görülen bedensel bir değişimdir?

- A) Kendi kararlarını verme isteği
 B) Büyüme hormonunun salgılanması
 C) Hayatı ve çevreyi sorgulama
 D) Sebepsiz can sıkıntısı

19. Aşağıda verilen kan hücrelerinin görev ve özelliklerinden hangisi doğrudur?

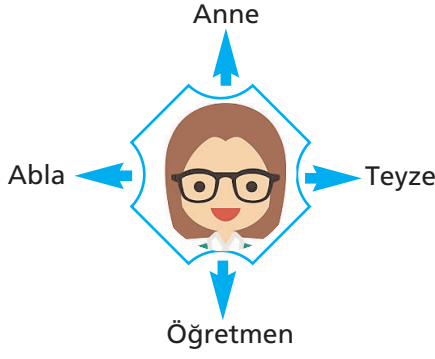
- A) Akyuvarlar oksijen ve karbondioksit taşınmasını sağlar.
- B) Alyuvarlar kana kırmızı rengini verir.
- C) Kan pulcukları vücudu mikroplara karşı korur.
- D) Akyuvarlar kanın pıhtılaşmasında görev alırlar.

20. Aşağıdakilerden hangisi kan bağışının faydaları arasında yer almaz?

- A) Kan veren kişilerde kemik iliğinin yağlanmasını önler.
- B) Kan bağışından sonra vücutta yeni kan hücreleri üretilir.
- C) Sürekli güvenli kanın depolanması sağlanır.
- D) Maddi çıkar elde edilmiş olur.



1.



Yukarıda 16 yıl önce abla olan daha sonra sırasıyla teyze, öğretmen ve son olarak da 2 yıl önce anne olan Zeynep Hanım'ın rollerinden bazıları verilmiştir.

Buna göre Zeynep Hanım ile ilgili olarak aşağıdakilerden hangisine ulaşmaz?

- A) Birden fazla role sahiptir.
- B) Bulduğu gruplar farklı özellikler taşımaktadır.
- C) Farklı görevlere ve sorumluklara karşı ön yargılıdır.
- D) Zaman içinde rolleri değişmiştir.

2. Dinî ve millî bayramlarımız milletçe kutladığımız ortak kültür öğelerimiz arasında yer alır. Dinî bayramlarda aileler, akrabalar komşularla bir araya geliriz. Millî bayramlarda ise bize emanet edilen değerlerin önemini kavrarız.

Buna göre aşağıdakilerden hangisine ulaşamaz?

- A) Kültürel değerler dayanışmaya katkı sağlamaktadır.
- B) Kültürel öğeler birlik beraberliği güçlendirmektedir.
- C) Dinî bayramlar özellikle tarihi bağları güçlendirmektedir.
- D) Dinî bayramlar dost ve akrabaları yakınlaştırmaktadır.

3. Uygurlar arasında yayılan Maniheizm dinine göre hayvansal gıdaların yenmesi ve ağır içeceklerin içilmesi yasaktı.

Buna göre Uygurlarla ilgili olarak;

- I. Yerleşik hayata geçtiklerine,
- II. Millî benliklerine uymayan bir inanç sistemini benimsediklerine,
- III. Sosyal ve kültürel değerlerini koruduklarına

yargılarından hangilerine ulaşılabilir?

- A) Yalnız I
- B) Yalnız II
- C) I ve II
- D) I ve III

4. Hz. Ömer (r.a.) Dönemi'nde ilk düzenli ordu teşkilatı oluşturulmuş, illere valiler atanarak idarî teşkilat; kadılar atanarak adlî teşkilat oluşturulmuştur. Hz. Ömer (r.a.) Dönemi çalışmalarından biri de hazinenin oluşturulmasıdır.

Bu bilgilerden hareketle Hz. Ömer (r.a.) Dönemi ile ilgili aşağıdaki yargılardan hangisine ulaşamaz?

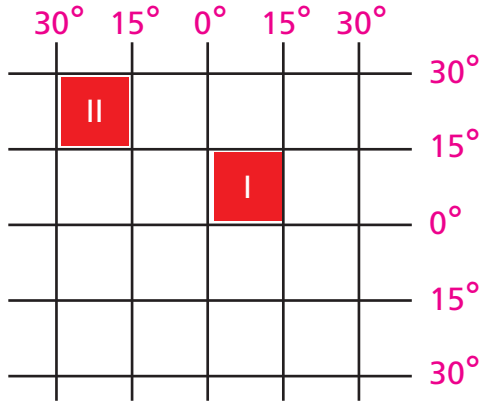
- A) Devletin askeri alandaki ihtiyacı giderilmeye çalışılmıştır.
- B) Yönetim alanında çalışmalar yapılmıştır.
- C) Farklı alanlarda düzenlemeler yapılmıştır.
- D) Yönetim anlayışı değişmiştir.

5. Selçuklu sultanları nitelikli eleman yetiştirmek ve yoksul çocukları topluma kazandırmak amacıyla dönemin en önemli üniversitesi olan Nizamiye Medreseleri'ni açmışlardır.

Buna göre Selçuklu sultanları aşağıdaki alanlardan hangisine önem vermiştir?

- A) Ekonomi
B) Eğitim
C) Askerlik
D) Ticaret

6. Aşağıdaki şekilde iki farklı bölgenin coğrafi koordinatları verilmiştir.



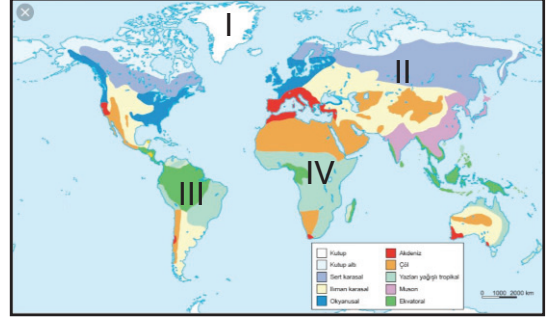
Buna göre koordinatları verilen bölgelerin;

- I. Başlangıç meridyenine olan uzaklıkları,
II. Yüz ölçümleri,
III. Buldukları yarım küre

özelliklerinden hangilerinin aynı olduğu söylenebilir?

- A) Yalnız III B) I ve II
C) I ve III D) I, II ve III

7. Bir öğrencinin anı defterinde "Yaşadığım yer Grönland Adası'ndadır. Sıcaklık yıl boyunca 0°C'nin altındadır. Bitki örtüsü yoktur."bilgisine rastlanmıştır.



Buna göre anı defterinde sözü edilen bölge dünya haritasında kaç numara ile gösterilmiştir?

- A) I B) II
C) III D) IV

8. Erzurum'un Çat ilçesinde yaşayan Selçuk, Hatay'ın merkez ilçesi Antakya'da bulunan Mustafa Kemal Üniversitesi'ni kazanmıştır.

Buna göre Selçuk'un gittiği yerin iklimi ile ilgili aşağıdakilerden hangisi söylenemez?

- A) Bitki örtüsü makidir.
B) Her mevsim yağışlıdır.
C) Yazlar sıcak ve kurak, kışlar ılık ve yağışlıdır.
D) Çok kalın elbiselere duyulan ihtiyaç azdır.

9. Anadolu'nun çeşitli yerlerinde yapılan kazılarda birbirinden farklı paralara, çeşitli antlaşma metinlerine rastlanmıştır.

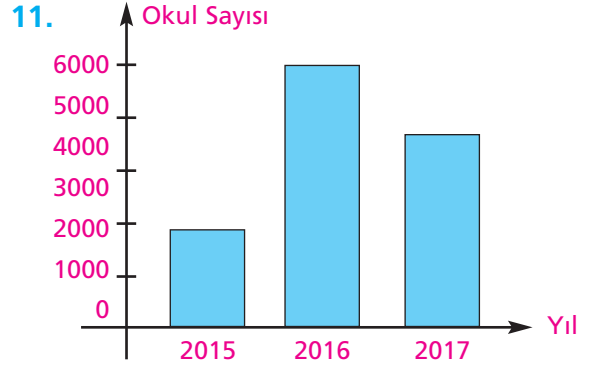
Bu parçada sözü edilen buluntuların elde edilmesinde aşağıdaki sosyal bilim dallarının hangisinden faydalanılmıştır?

- A) Arkeoloji
B) Sosyoloji
C) Ekonomi
D) Felsefe

10. "Hava kirliliği astım oranını artırır mı?"

Bu soru bilimsel araştırma basamaklarından hangisini ifade etmektedir?

- A) Kaynakların incelenmesi
B) Araştırmanın konusu
C) Araştırmanın raporlaştırılması
D) Hipotezlerin belirlenmesi



Yukarıdaki tabloda 2015, 2016 ve 2017 yıllarında bilim fuarına katılan okul sayıları verilmiştir.

Bu tablodan hareketle aşağıdakilerden hangisine ulaşılabılır?

- A) Verilen yıllar arasında bilim fuarına katılımın en az 2015 yılında olduğuna
B) Bilim fuarına en çok katılımın İstanbul ilinden olduğuna
C) 2016 ve 2017 yıllarında bilim fuarına katılan okul sayısının eşit olduğuna
D) 2017 yılında Türkiye'deki okul sayısının azaldığına

12. Türkiye'deki toprakların %20'si sulanabilirken %80'i sulanamamaktadır. Bu durumun sonuçlarından biri de ekilen ürünlerden elde edilen miktarın azlığıdır.

Buna göre Türkiye'de su sorununun çözülmesine bağlı olarak;

- I. Nadasa bırakılan toprak oranında,
II. Ekimi yapılan ürün çeşidinde,
III. Birim alandan elde edilen verimde
- durumlarından hangilerinde bir artışın yaşanması beklenir?

- A) Yalnız I B) Yalnız II
C) I ve II D) II ve III

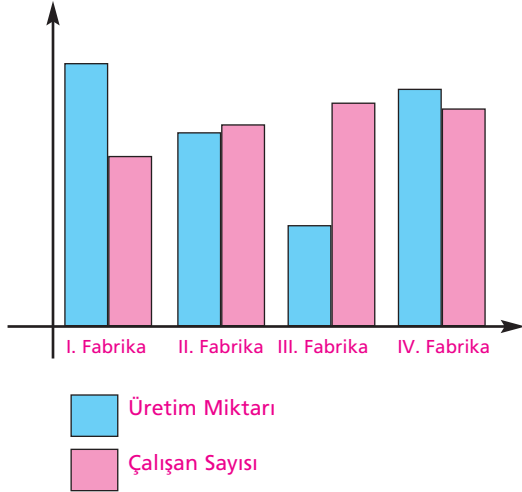
13.



Zeytinyağı işletmesi kurmak isteyen bir girişimcinin bu işletmeyi haritadaki numaralandırılmış yerlerden hangisine açması en uygundur?

- A) I B) II
C) III D) IV

14. Mesleğinde iyi yetişmiş insanların çalıştığı bir kurumda iş verimi fazladır.



Buna göre yukarıda verilen grafikteki fabrikalardan hangisinde nitelikli insan sayısı diğerlerinden fazladır?

- A) I B) II
C) III D) IV

15. Eski Mısır Uygarlığı'nın başındaki Firavunlar toprakların, malların ve insanların sahibiydi ayrıca Tanrı - Kral olarak kabul ediliyordu.

Buna göre Mısır Uygarlığının;

- I. Teokrasi,
II. Oligarşi,
III. Monarşi,
IV. Cumhuriyet

yönetim biçimlerinden hangilerine sahip olduğu söylenebilir?

- A) I ve II B) I ve III
C) II ve IV D) I-II ve IV

16.



Türkiye 15-16 Temmuz 2016 yılında İkinci Kurtuluş Savaşı'nı verdi. Ülkeyi bir gecede ele geçirebileceklerini sanan caniler, karşılarında Türk milletini buldu.

Bu gazete haberinden hareketle aşağıdakilerden hangisine ulaşamaz?

- A) Demokrasi engellenmeye çalışılmıştır.
B) Türk milleti birlik ve beraberlik ruhuyla vatanını savunmuştur.
C) Kamuoyu yaşanan olaylara duyarlı kalmamıştır.
D) Türk milleti darbelerden korkmaktadır.

17. Dünyanın bir çok ülkesinde çocuklara, yaşlılara ve kadınlara yönelik koruyucu özel yasalar çıkarılmıştır. Bu çalışmalarla toplumsal barış sağlanmaya çalışılmıştır.

Bu bilgi aşağıdaki kavramlardan hangisiyle ilişkilendirilebilir?

- A) Negatif ayrımcılık
- B) Sosyal roller
- C) Pozitif ayrımcılık
- D) Kalıp yargı

18.



Orta Asya'dan Balkanlara uzanan coğrafyada 250 milyon kişiye seslenen TRT AVAZ Arnavutça ve Boşnakça dillerinde de yayın hayatına başladı.

Bu internet haberinden hareketle TRT Avaz ile ilgili aşağıdakilerden hangisine ulaşamaz?

- A) Kültürel etkileşime katkı sağlamaktadır.
- B) Farklı dillerde yayın yapmaktadır.
- C) Geniş kitlelere hitap etmektedir.
- D) Orta Asya'daki etkinliği gün geçtikçe azalmaktadır.

19.

Dost kara günde belli olur.
(Anadolu Türkçesi)

Dost başına iş düşünme tanalar.
(Türkmenistan Türkçesi)

Bu atasözlerine bakılarak aşağıdakilerden hangisine ulaşamaz?

- A) Ülkeler arasında kültürel etkileşimin yaşandığına
- B) İki ülke arasında kültürel bağların olduğuna
- C) Türkmenistan'da Anadolu Türkçesinin yasaklandığına
- D) İki ülkenin dil konusunda benzer özellikler taşıdığına

20. TİKA yurt dışında Türkçe öğretimini yaygınlaştırmak için Türkoloji Projesi'ni başlattı.

Bu gazete haberinde TİKA'nın;

- I. Kültürel,
- II. Ekonomik,
- III. Siyasi

faaliyet alanlarından hangilerine değinilmiştir?

- A) Yalnız I
- B) Yalnız II
- C) Yalnız III
- D) II ve III



SINAVA BAŞLAMADAN ÖNCE AŞAĞIDAKİ UYARILARI MUTLAKA DİKKATLİCE OKUYUNUZ

1. Sınav kimlik bilgilerinizin doğruluğundan emin olunuz.
2. Sınav başladıktan sonra çevrenizdekilerle konuşmayınız.
3. Soruları cevaplamaya istediğiniz sorudan başlayabilirsiniz.
4. Cevaplarınızı cevap anahtarındaki ilgili soru numarasını dikkate alarak uygun bölüme kodlayınız.
5. Değiştirmek istediğiniz cevabı cevap anahtarına kodladığınızdan emin olunuz.
6. Cevabını bilmediğiniz sorular üzerinde fazla zaman kaybetmeden diğer sorulara geçiniz. Zaman kalırsa bu sorulara daha sonra dönebilirsiniz.
7. Sınav puanlarınızın hesaplanmasında sadece doğru cevaplarınız dikkate alınacaktır.
8. Cevap anahtarınızı sınav süresince başkalarının görmeyeceği şekilde önünüzde bulundurunuz.
9. Sınav sırasında sözlük, hesap makinası, cep telefonu ve bilgisayarınızın bu özelliklerini kullanmayınız.
10. Sınav süresince yerinizden ayrılmayınız.