



TEVFİK İLERİ ANADOLU İMAM HATİP LİSESİ 2020-2021 EĞİTİM ÖĞRETİM YILI

ADI - SOYADI:

T.C. KİMLİK NO:

5. SINIFLAR GİRİŞ SINAVI

1. Bu sınav 2020-2021 Eğitim-Öğretim Yılı Tefik İleri Anadolu İmam Hatip Lisesi Ortaokul Kısımına yerleşecek öğrencilerin kavrama düzeylerini ölçmek amacıyla hazırlanan "GİRİŞ SINAVI"dır.
2. Sınav toplam 100 soru ve Türkçe, Matematik, Din Kültürü ve Ahlak Bilgisi, Fen Bilimleri ve Sosyal Bilgiler testlerinden oluşmaktadır. Her test 20 sorudan ibarettir.
3. Soruların cevaplarını Cevap Kağıdında ait olduğu sütuna işaretleyiniz.
4. Sınav süresi 120 dakikadır.

1. Bu yıl derslerime çok çalışacağım. Çocukluğa duyulan özlem hiç bitmez. Vatan sevgisi ile ilgili şiirler ezberliyorum.

Yukarıdaki cümlelerde altı çizili sözcüklerin eş anlamlısı hangi seçenekte doğru verilmiştir?

- A)

sene
kavuşmak
ulus

 B)

sene
hasret
yurt
- C)

ay
üzüntü
toprak

 D)

asır
uzak
doğa

2. "Okuldan çıkıp servisle eve doğru gidiyorduk."

Cümlesinde "çıkılmak" sözcüğü aşağıdaki cümlelerin hangisinde aynı anlamda kullanılmıştır?

- A) Gömlekteki lekeyi çıkaramadık.
B) Bu kumaştan bir ceket çıkar
C) İşten çıkmış eve doğru gidiyordu.
D) O benim hatırımdan hiç çıkmadı.

3. Hareketli, çalışkan kişi güçlü, dinamik ve sağlıklı olur. Çalışan insanın bilgi ve becerisi artar. Gününü boş oturmamakla geçiren kişi bildiklerini unuttur, yeteneklerini kaybeder. Örneğin, fırsat buldukça kitap okuyan, düşünen insanın yorum gücü artar, ruh dünyası zenginleşir. diye boşuna dememişler

Yukarıdaki boşluğa aşağıdaki ata sözlerinden hangisi getirilmelidir?

- A) İşten artmaz, dıştan artar.
B) İşleyen demir ışıldar.
C) Bal tutan parmağını yalar.
D) Ak akçe kara gün içindir.

4. Aşağıdaki cümlelerin hangisinde "de, da" sözcükten ayrı yazılmalıdır?

- A) Bende sizinle geleceğim.
B) Bende çok güzel bir kitap var.
C) Ablam şu okulda okuyor.
D) Bayramda büyüklerimi ziyaret edeceğim.

5. "Göz kulak olmak" deyiminin anlamı aşağıdakilerden hangisidir?

- A) Beğenmek
- B) Öfkelenmek
- C) Sevinmek
- D) Korumak

7. Aşağıdakilerden hangisinde duygusal bir ifade vardır?

- A) Bu kitabı bir haftada bitirdim.
- B) Herkesin gelecekle ilgili hayalleri vardır.
- C) Yaptığım resim sergilenince çok sevindim.
- D) Evin bahçesinde bir korkuluk vardı.

6. Aşağıdakilerden hangisi kesinlikle hayal ürünüdür?

- A) Yağmur, bardaktan boşanırcasına yağıyordu.
- B) Teknolojinin yararları kadar zararları da vardır.
- C) Karnı ağrıdığı için yemeğini bitiremedi.
- D) Eşyalar, yerlerinin değiştirilmesine çok sinirlendiler.


8. Aşağıdaki altı çizili kelimelerin hangisi terim anlamı değildir?

- A) Müzik dersinde notaları bir türlü öğrenemedim.
- B) Ezberlediği şiir beş kıtadan oluşuyordu.
- C) Futbolcu penaltıyı kaçırdığı için çok üzüldü.
- D) Yeni aldığım perdeyi çok beğendiler.

9. I. Eve gelir gelmez yemeğini yedi.
II. Sabah yedide sütünü içti.
III. Bu soru diğerlerine hiç benzemiyordu.
IV. Derse yetişmek için koşuyordu.

Yukarıdaki cümlelerin hangisinde karşılaştırma yapılmıştır?

- A) I
B) II
C) III
D) IV



11. Aşağıdaki cümlelerin hangisinde neden-sonuç anlamı yoktur?

- A) Ayran çok lezzetli olduğu için fazla içtim.
B) Sana yardım etmediğim için bana kızdı.
C) Covid-19 sebebiyle maçlar ertelendi.
D) Bugünkü toplantıya o gelmedi.

10. Aşağıdaki altı çizili kelimelerden hangisi mecaz anlamda kullanılmamıştır?

- A) Zeytin gibi kara gözleri vardı.
B) Kara günler bir daha gelmeyecek.
C) Gazete kara haberlerle dolu.
D) Kara kara düşünecek bir şey yok.



12. Ahmet'in keyfi yerinde değildi. Biraz hava almak için bahçeye indi. Bahçede ağaçları suladı. Arkadaşı Yusuf da biraz oyalanmak için dışarı çıkmıştı. Ahmet'le bahçede oturup sohbet ettiler.

Yukarıdaki metinde hikayenin hangi unsuruna yer verilmemiştir?

- A) Olaya
B) Olayın geçtiği yere
C) Kişilere
D) Zamana



13. Tablet, bilgisayar ve cep telefonu çocuklarımızı etkisi altına almış durumda. Bu teknolojik cihazlar çocuklarımızın dikkat süresini azaltır, dinlenmelerini engeller, çevresiyle ve ailesiyle bağını koparır. Özetle bu bilişim araçları amacına göre kullanılmazsa çocuklarımız için daha tehlikeli olacaktır.

Yukarıdaki paragrafın konusu aşağıdakilerden hangisidir?

- A) Teknolojik aletlerin faydaları
- B) Teknoloji ve çevre bilinci
- C) Çocuklarımız ve spor
- D) Teknolojik cihazlar ve zararları

14. Bugün de hava güzel.
Şu karşıdaki ağaçlar,
Bitmeyen kuş sesleri,
Huzur veriyor insana.

Bu şiirin ana duygusu aşağıdakilerden hangisidir?

- A) Yaşama sevinci
- B) Havanın ısınması
- C) Çocukluk özlemi
- D) Vatan sevgisi

15. Aşağıdaki altı çizili kelimelerden hangisi bizi farklı düşünmeye yönlendirmez?

- A) Televizyonun sesini açtım ama yine duyamıyorum.
- B) Çok yürüdüm fakat yorulmadım.
- C) İngilizceyi çok iyi konuşabiliyorum.
- D) Arkadaşımı yemeğe çağırdım ancak gelmedi.

16. Türkçemiz her geçen gün yabancı kelimelerin etkisinde kalıyor. Aslında dünyanın en zengin dillerinden biri de Türkçe'dir. Yabancı sözcük kullanma özentisinden bir an önce vazgeçmeliyiz. Bu konudaki sorumluluğumuzu yerine getirmenin çok önemli bir görev olduğunu unutmayalım.

Yukarıdaki paragrafın ana düşüncesi aşağıdakilerden hangisidir?

- A) Sorumluluk duygusu bilinçli olmamızı sağlar.
- B) Yabancı kelimeler dilimize zenginlik katabilir.
- C) Türkçe'nin zenginliği kelimelerin doğru telaffuzuna bağlıdır.
- D) Dilimizi yabancı kelimelerden korumalıyız.

17. Aşağıdaki cümlelerin hangisinde altı çizili sözcüğün yazımında yanlışlık yoktur?

- A) Bu soruyu sadece yağmur ve arkadaşları çözdü.
 B) O, ingilizceden en yüksek notu aldı.
 C) Ankara'dan almanya'ya uçak bileti kalmamış.
 D) Emin, "Sakarya Türküsü" adlı şiiri çok güzel okudu.

18. Arkadaş () Sen de bizimle Ankara () ya gelir misin ()

Bu metinde ayraçla gösterilen yerlere sırasıyla aşağıdaki noktalama işaretlerinden hangileri getirilmelidir?

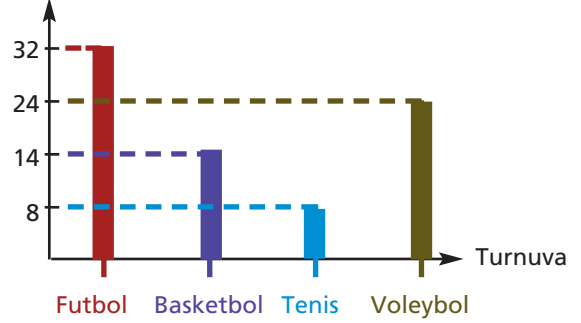
- A) (,) (!) (?)
 B) (!) (') (?)
 C) (,) (') (!)
 D) (!) (') (.)

19. 1) Ben içeri girince kardeşim ayağa kalktı.
 2) Kardeşim orada bekliyordu.
 3) Eve çıktım.
 4) Önce salona girdim.

Yukarıdaki cümlelerdeki olayları akış sırasına göre sıralaması nasıl olmalıdır?

- A) 3 – 4 – 2 – 1
 B) 4 – 3 – 1 – 2
 C) 2 – 4 – 3 – 1
 D) 4 – 1 – 2 – 3

20. Öğrenci Sayısı



Yukarıdaki grafikte okulda düzenlenen turnuvalara katılan öğrenci sayısı gösterilmektedir.

Grafiğe göre aşağıdakilerden hangisi yanlıştır?

- A) En çok futbol turnuvasına öğrenci katılmıştır.
 B) Basketbol ve tenis turnuvasına katılan öğrencilerin sayısının toplamı futboldan fazladır.
 C) Basketbol turnuvasına katılanların sayısı voleybol turnuvasına katılanlardan azdır.
 D) Tenis turnuvasına katılan öğrenci sayısının dört katı futbola eşittir.

1.



Rakamları birbirinden farklı dört basamaklı en büyük doğal sayı

Yukarıdaki ifade aşağıdakilerden hangisiyle tamamlanamaz?

- A) 9876'dır.
- B) 9870'e yuvarlanır.
- C) Dokuz bin sekiz yüz yetmiş altı olarak okunur.
- D) Çift sayıdır.

3.

$$50328 > A > 49316$$

Yukarıdaki ifadeye göre, A yerine yazılabilecek en büyük ve en küçük doğal sayılar hangi seçenekte verilmiştir?

	<u>En Büyük</u>	<u>En Küçük</u>
A)	50329	49315
B)	50327	49316
C)	50327	49317
D)	50320	49300

2. $93168 < 93200 < 93211 < 93305 < 93309$

Yukarıdaki sıralamaya göre, 93205 sayısı hangi iki sayı arasında olmalıdır?

- A) 93168 ve 93200
- B) 93200 ve 93211
- C) 93211 ve 93305
- D) 93305 ve 93309

4.

$$4208 + 3129$$

Yukarıdaki işlemin sonucu ile ilgili aşağıdaki ifadelerden hangisi doğrudur?

- A) Birler ve yüzler basamağındaki rakamlar aynıdır.
- B) 7330'a yuvarlanabilen bir sayıdır.
- C) Sayı değerleri toplamı 17'dir.
- D) Binler basamağında 7 rakamı vardır.

5.

$$\begin{array}{r} \triangle 814 \\ + 50 * 5 \\ \hline 8909 \end{array}$$

Yukarıdaki toplama işlemine göre, $\triangle + *$ işleminin sonucu aşağıdakilerden hangisidir?

A)

12

B)

11

C)

10

D)

9

6.

$$1176 + 345 + 450 = M$$

$$M + 997 = K$$

Yukarıdaki ifadeye göre, K yerine gelmesi gereken sayı aşağıdakilerden hangisidir?

A) 2958

B) 2968

C) 2978

D) 3158

7.

Üç doğal sayının toplamı 3525'tir.

Sayıardan ikisinin toplamı 1650 olduğuna göre, diğer sayı için aşağıdakilerden hangisi söylenebilir?

A)



Diğer iki sayıdan da büyük bir sayıdır.

B)



Diğer sayılardan küçük bir sayıdır.

C)



Diğer iki sayının toplamından daha küçük bir sayıdır.

D)



Sayının en büyük basamağında 8 vardır.



8. Bir çıkarma işleminde eksileni en yakın yüzlüğe, çıkanı en yakın onluğa yuvarlayıp çıkardığımızda bulduğumuz sonuç 450'dir.

Buna göre, eksilen ve çıkan sayılar hangi seçenekteki sayılar olabilir?

	Eksilen	Çıkan
A)	516	184
B)	613	167
C)	555	147
D)	454	149

9. 300 kişilik bir sinema salonunda 178 koltuk doludur.

Salona 19 seyirci daha gelirse boş koltukların sayısı kaç olur?

- A) 123 B) 121
C) 118 D) 103

10.

Yukarıdaki çarpma işlemine göre aşağıdaki ifadelerden hangisi yanlıştır?

- A) 2. çarpanın birler basamağı ile 1. çarpanı çarparsak sarı kutuya gelmesi gereken sayıyı buluruz.
B) 2. çarpanın onlar basamağı ile 1. çarpanı çarparsak mavi kutuya gelmesi gereken sayıyı buluruz.
C) Sarı kutudaki sayı ile mavi kutudaki sayının çarpımı kırmızı kutuya eşittir.
D) Kırmızı kutuya gelmesi gereken sayı 9025'tir.

11.

$$\begin{array}{r} 317 \\ \times 33 \\ \hline \end{array}$$

Yukarıdaki işlemde 1. çarpanın onlar basamağını 3 artırıp, 2. çarpanın birler basamağını 3 azaltırsak sonuç nasıl değişir?

- A) 51 azalır.
- B) 50 artar.
- C) 51 artar.
- D) 50 azalır.

12.

$$M = 9 \times 5$$

$$K = 9 \times 25$$

$$Y = 9 \times 50$$

Yukarıdaki eşitliklere göre, aşağıdaki ifadelerden hangisi doğrudur?

- A) K, M'nin 3 katıdır.
- B) Y, M'nin 10 katıdır.
- C) M'yi 2 ile çarparsak K'ye eşit olur.
- D) K'yi 4 ile çarparsak Y'ye eşit olur.

13.

$$11 \times 17 = 187$$

$$187 + 123 = 310$$

Yukarıdaki işlemler aşağıdaki soruların hangisinin çözümü için yapılmış olabilir?

- A) Bir düzinenin 17 katının 123 fazlası kaçtır?
- B) 11'in kendisiyle çarpımının 187 fazlası kaçtır?
- C) İki basamaklı en küçük tek sayının 17 katının 123 fazlası kaçtır?
- D) Her birinde 17 misket bulunan 11 kutuda toplam kaç misket vardır?

14. 36 yemek masasının olduğu bir restoranda her masada 11 kişi vardır.

40 müşteri de ayakta olduğuna göre, restoranda toplam kaç müşteri vardır?

- A) 406 B) 416
C) 426 D) 436

16. Kaan'ın 460 lirası vardır. Kaan'ın paralarından 8 tanesi 20 liralık, kalanları da 50 liralık kağıt paradır.

Buna göre Kaan'ın kaç tane 50 liralık kağıt parası vardır?

- A) 6 B) 5
C) 4 D) 3

15. Bir okulda 23 sınıf ve her sınıfta 24 öğrenci vardır.

Bu okuldaki öğrencilerin 364'ü geziye gidersen okulda kaç öğrenci kalır?

- A) 198 B) 188
C) 178 D) 168

17. Bir poşetteki fındıkların miktarı, cevizlerin miktarlarından 250 gram fazladır.

Poşette toplam 1000 gram fındık ve ceviz olduğuna göre, fındıkların miktarı kaç gramdır?

- A) 675 B) 625
C) 375 D) 325

18. Aşağıdaki ifadelerden hangisi doğrudur? 19.

A)



Üç basamaklı ve iki basamaklı sayıların çarpımı en fazla 6 basamaklı olur.

B)



Çarpma işleminde 1. çarpan 2. çarpandan her zaman daha büyük olur.

C)



Üç basamaklı ve iki basamaklı sayıların çarpımı en az 4 basamaklı olur.

D)



Üç basamaklı bir doğal sayı ile 10'un çarpımı beş basamaklıdır.

M A T E M A T İ K



399 lira taksitle 24 ayda alınan yukarıdaki çamaşır makinesinin fiyatı aşağıdakilerden hangisidir?

A)

9576 TL

B)

9676 TL

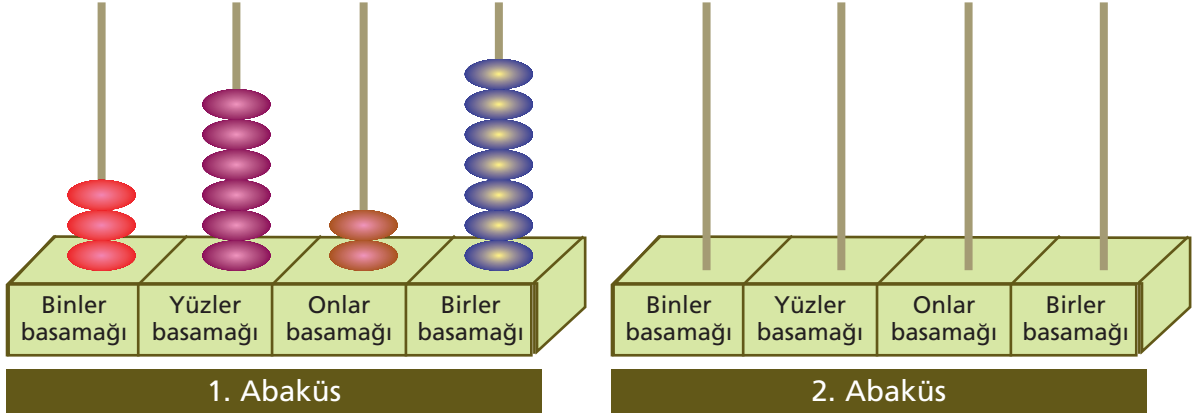
C)

9756 TL

D)

7766 TL

20.



Birinci abaküsün birler basamağındaki bir boncuk alınıyor. Bu boncuk ikinci abaküse takılarak dört basamaklı en küçük doğal sayı oluşturuluyor.

Bu iki abaküste oluşan sayılar arasındaki fark kaçtır?

- A) 2627 B) 2626 C) 2527 D) 2526

*Matematik testini bitirdiniz.
Din Kültürü ve Ahlak Bilgisi
testine geçiniz.*



1. Kibirli olmak
2. Cömert olmak
3. Cimri olmak
4. Selamlaşmak

Bu davranışlardan hangileri dinimizin günah saydığı davranışlardandır?

- A) 1 ve 2
- B) 2 ve 3
- C) 1 ve 3
- D) 2 ve 4

2. "Şüphesiz o zikri (Kur'an-ı) biz indirdik biz! O'nun koruyucusu da elbette biziz." (Hicr suresi 19. Ayet)

Bu ayette Kur'an-ı Kerim'in özelliklerinden hangisine vurgu yapılmıştır?

- A) Dili, gönderildiği toplumun dili olan Arapçadır.
- B) Son peygambere gönderilen son ilahi kitaptır.
- C) Yirmi üç yılda olaylara göre parça parça indirilmiştir.
- D) Allah tarafından indirilmiştir ve hiç değişmeden günümüze kadar korunmuştur.

3. Kur'an-ı Kerim İslam Dini'nin temel kaynağıdır. Kur'an-ı Kerim'i açtığımızda kendine has bir iç düzeni olduğunu görürüz. Kur'an-ı Kerim'de besmele ile birbirinden ayrılmış, uzunlukları birbirinden farklı bölümler ve bu bölümleri oluşturan cümleler bulunur. Ayrıca yirmişer sayfadan oluşan otuz bölümü bulunmaktadır.

Bu paragrafta aşağıdaki kavramlardan hangisinin tanımı yoktur?

- A) Ayet
- B) Hadis
- C) Sure
- D) Cüz

4. Peygamberimiz (s.a.v.) "Günahından pişman olup tövbe eden kişi, hiç günah işlememiş gibidir." (İbn-i Mace, Zühd 30) buyurarak bir hata yaptığımızda Allah'tan af ve bağışlanma istememizi tavsiye etmiştir.

Aşağıdaki dini ifadelerden hangisini tövbe etmek istediğimizde kullanmamız uygundur?

- A) Elhamdülillah
- B) Subhanallah
- C) Estağfirullah
- D) Maşallah

5. Dinimizin emrettiği, yapılması farz olan ibadetlerimiz vardır. Bu ibadetlerden sorumlu olmamız için gereken bazı şartlar vardır. Akıllı olmak, sorumluluk yaşına gelmek, zengin ve sağlıklı olmak bu şartlardan bazılarıdır.

Aşağıdakilerden hangisi akıllı ve ergenlik çağına gelmiş her müslümanın başka bir şart aranmaksızın yapmak zorunda olduğu bir ibadettir?

- A) Namaz kılmak
B) Oruç tutmak
C) Hacca gitmek
D) Zekat vermek

7. Aşağıdaki ayetlerden hangisi konu olarak diğerlerinden farklıdır?

- A) "De ki; Her şeyin yaratıcısı Allah'tır. O birdir..." (Rad suresi 16. ayet)
B) "Rabbinize yalvara yalvara ve gizlice dua edin." (A'raf suresi, 55. ayet)
C) "Sizin ilahınız tek bir ilahtır; O'ndan başka bir ilah yoktur. O, Rahmandır, Rahimdir." (Bakara suresi, 163. ayet)
D) "De ki; O Allah birdir. Allah samettir." (İhlas suresi, 1-2. ayet)

6. "Apaçık Kitab'a andolsun ki biz, anlayıp düşünmeniz için onu Arapça bir Kur'an kıldık." (Zuhuruf suresi, 2-3. ayet)

Bu ayetten aşağıdakilerden hangisine ulaşılabilir?

- A) Kur'an- Kerim son ilahi kitaptır.
B) Kur'an-ı Kerim evrensel bir kitaptır.
C) Kur'an-ı Kerim bozulmadan günümüze kadar ulaşmıştır.
D) Kur'an-ı Kerim'in dili Arapçadır.

8. Aşağıdakilerden hangisi Subhaneke duasından bir bölüm değildir?

- A) Ve bi hamdik
B) Ve teâlâ ceddük
C) Ve lâ ilâhe gayrük
D) Ve melâiketihî ve kütübihî

9. 1. Kur'an-ı Kerim'de 11 sure vardır.
2. Kur'an-ı Kerim'in en uzun suresi Kevser suresidir.
3. Kur'an-ı Kerim'in en sonunda bulunan sure Nas suresidir.

Numaralandırılmış olan bilgilerden doğru olan aşağıdakilerden hangisidir?

- A) Yalnız I
B) Yalnız 3
C) 1 ve 3
D) 1 ve 2

10. "Allah en büyüktür" anlamına gelir. Allah'ı tüm varlıkların üstünde tuttuğumuzun ifadesidir. Namaz kılmaya bu ifadeyle başlarız. Ezanda da bu ifade vardır.

Bu paragrafta anlatılan dini ifade aşağıdakilerden hangisidir?

- A) Besmele
- B) Salavat
- C) Şehadet
- D) Tekbir

11. Yüce Allah'ın izin verdiği ve serbest bıraktığı iş ve davranışlara , Allah'ın yapılmasını kesin olarak yasakladığı söz ve davranışlara , denir.

Bu paragrafta boş bırakılan yerlere sırasıyla aşağıdakilerden hangileri gelmelidir?

- A) Helal - Haram
- B) Haram - Helal
- C) Günah - Sevap
- D) Sevap - Günah

12. Sabah işe gitmek için evden çıkmıştım. Asansörle aşağı indim. Bahçeye çıktığımda apartman görevlimizin çiçekleri suladığını gördüm. Gülümseyerek selam verdim. O da gülümseyerek selamıma karşılık verdi.

Bu durumda aşağıdaki ifadelerden hangisini kullanmak uygun değildir?

- A) Selamün aleyküm
- B) Maşallah
- C) Günaydın
- D) Hayırlı sabahlar

13. Aşağıdaki ifadelerden hangisi diğerlerinden farklı bir durum için söylenir?

- A) Allah analı babalı büyütsün.
- B) Allah vatana millete hayırlı evlat eylesin.
- C) Allah şifalar versin, geçmiş olsun.
- D) Allah nazardan saklasın, maşallah.

14. İftar
İmsak
Sahur

Bu kavramlar aşağıdakilerden hangisiyle ilgilidir?

- A) Namaz
- B) Oruç
- C) Hac
- D) Zekat

15. Kur'an-ı Kerim'i Fatiha suresinden başlayarak Nas suresine kadar baştan sona okumaya ne denir?

- A) Mukabele
- B) Cüz
- C) Hafız
- D) Hatim

17. Allah Kur'an-ı Kerim'de, "..... demeden hiçbir şey için şu işi yarın yapacağım deme" (Kahf suresi, 23. ayet) buyurmaktadır. Yapacağımız işleri planlarken Allah'ın izniyle anlamına gelen demeliyiz.

Bu paragrafta boşluklara gelmesi uygun olan kelime aşağıdakilerden hangisidir?

- A) İnşallah
- B) Estağfirullah
- C) Elhamdülillah
- D) Subhanallah

16. Kur'an-ı Kerim ile ilgili aşağıdakilerden hangisi **doğrudur**?

- A) Arap toplumuna indirilmiştir, onların ilahi kitabıdır.
- B) Değişmeden günümüze kadar gelen tek ilahi kitaptır.
- C) Tamamı tek seferde indirilmiş ve hemen ezberlenmiştir.
- D) Allah'ın ve Peygamberimizin sözlerinden oluşur.

18. "Dünya hayatı ancak bir oyun ve bir eğlencedir. Elbette ki ahiret yurdu Allah'a karşı gelmekten sakınanlar için daha hayırlıdır..." (En'am suresi, 32. ayet)

Bu ayet imanın şartlarından hangisi ile ilgilidir?

- A) Allah'a iman
- B) Peygamberlere iman
- C) Meleklerle iman
- D) Ahirete iman

19. Aşağıdakilerden hangisi İslam'ın beş temel esasından (İslam'ın şartlarından) biridir?

- A) Çalışıp helal yoldan kazanç elde etmek.
- B) Allah'ın varlığına ve birliğine inanmak.
- C) Kelime-i şهادet getirmek.
- D) Meleklerin varlığına inanmak.

20. "Lâilâhe illallah Muhammedün Resûlullah" cümlesinin anlamı aşağıdakilerden hangisidir?

- A) Allah'tan başka ilah yoktur, Hz. Muhammed Allah'ın kulu ve elçisidir.
- B) Allah'tan başka ilah yoktur.
- C) Allah'tan başka ilah yoktur, Hz. Muhammed Allah'ın kuludur.
- D) Allah'tan başka ilah yoktur, Hz. Muhammed Allah'ın elçisidir.

1.

	D	Y
Mıknatıslarda tek kutup bulunur.		
Pusulaların yapımında mıknatıs kullanılır.		
Nikel tozunu mıknatıs çekmez.		
Bir mıknatıs parçalandığında daha küçük mıknatıs elde ederiz.		

Yukarıdaki etkinliği yapan öğrencilerden hangisinin verdiği cevaplar doğrudur?

- A) Sena: "D, D, Y, D"
 B) Can: "D, Y, D, Y"
 C) Ela: "Y, D, Y, D"
 D) Anıl: "Y, Y, D, D"

2.

- I.

N	S	N	S
---	---	---	---

 II.

S	N	N	S
---	---	---	---

 III.

N	S	S	N
---	---	---	---

 IV.

S	N	S	N
---	---	---	---

Şeyma ile Belma yukarıdaki mıknatıslar ile itme ve çekme denemeleri yapmaktadır.

Buna göre numaralandırılan mıknatıslardan hangi kuvvetler ortaya çıkar?

- A) Çekme - İtme - İtme - Çekme
 B) İtme - Çekme - İtme - Çekme
 C) Çekme - İtme - Çekme - İtme
 D) İtme - Çekme - Çekme - İtme

3.



Dağcılar, gemiciler yön bulmakta kullanır. İbresi vardır ve N yazan kırmızı ucu daima kuzeyi gösterir.

Yukarıda bilgisi verilen alet aşağıdakilerden hangisidir?

A)



B)



C)



D)



4.



Yukarıdaki görselde verilen oyunu oynayan çocuklarla ilgili aşağıdakilerden hangisi söylenebilir?

- A) Bir taraf itme, diğer taraf çekme kuvveti uygular.
- B) İki taraf da itme kuvveti uygular.
- C) Taraflar kuvvet uygulamazlar.
- D) İki taraf da çekme kuvveti uygular.



6.

Isparta'dan yola çıkıp aynı yolu kullanarak Burdur'a gitmek isteyen 4 araçtan



68 dakikada,



59 dakikada,



105 dakikada,



83 dakikada Burdur'a varıyor.

Bu bilgilere göre en hızlı araç hangisidir?

A)



B)



C)



D)



5.



Verilen zararların sebep olduğu maddeye karar verilerek ilerlediğimizde hangi çıkışı ulaşıyoruz?

- A) 1
- B) 2
- C) 3
- D) 4



7. Aşağıdaki kuruluşlardan hangisi sigara ve alkollün zararları ile savaşmaktadır?



8. I. Duvara çarpan araç
II. Oyun hamurundan yapılan çiçek
III. Kırılan ceviz

Yukarıdaki örnekler kuvvetin cisimler üzerindeki hangi etkisiyle açıklanır?

- A) Yön değiştirme
B) Döndürme
C) Yavaşlatma
D) Şekil değiştirme

9. Aşırı kilolarından şikayetçi olan Kübra Hanım diyetisyene gitmiştir.

Buna göre diyetisyen Kübra Hanım'a aşağıdakilerden hangisini söylemiş ola
maz?

- A) Bol bol su içmelisiniz.
B) Her gün yürüyüş yapmalısınız.
C) Geç vakitte yemek yemelisiniz.
D) Kahvaltınızı mutlaka yapmalısınız.

10.

1	2	3	4
Buğday	Tereyağı	Bal	Ayçiçeği
5	6	7	8
Süt	Pirinç	Yumurta	Yoğurt

Yukarıda verilen besinler bitkisel ve hayvansal kaynaklı oluşlarına göre gruplandırıldığında aşağıdakilerden hangisi doğru olur?

	Bitkisel Kaynaklı	Hayvansal Kaynaklı
A)	1, 3, 8	2, 4, 5, 6, 7
B)	1, 4, 6	2, 3, 5, 7, 8
C)	1, 4, 7, 8	2, 3, 5, 6
D)	2, 3, 6, 7	1, 4, 5, 8

11. I. Cips
II. Tavuk
III. Köfte
IV. Kola
V. Marul
VI. Yoğurt

Sağlıklı beslenmek isteyen bir kişinin yukarıdaki ürünlerden hangilerini tüketmesi tavsiye edilmez?

- A) I ve IV
B) II ve III
C) III ve VI
D) IV ve V

12.



Sağlığımızı korumak için neler yapmalıyız?

Canan Öğretmen

Canan Öğretmen'in sorusuna hangi öğrenci yanlış cevap vermiştir?

- A) Arif: "Dengeli beslenmeliyiz."
B) Ayça: "Düzenli spor yapmalıyız."
C) Buğra: "Sık sık ilaç kullanmalıyız."
D) Cansu: "Kişisel temizliğimize özen göstermeliyiz."

13. Kemiklerimizin sağlıklı olması için kalsiyuma, dişlerimizin sağlıklı olması için fosfora ihtiyaç duyarız.

Buna göre vücudumuza kalsiyum ve fosforu hangi besin kaynaklarını tüketerek alabiliriz?

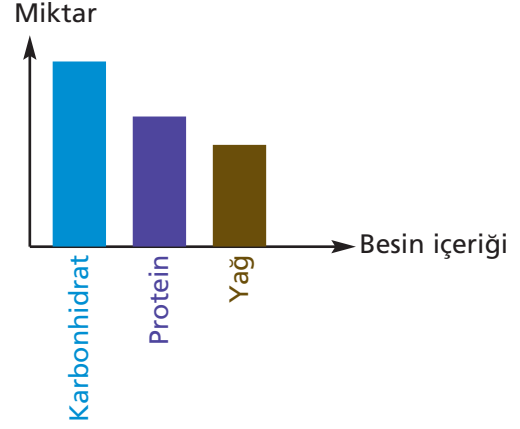
- A) Su ve fındık
B) Süt ve balık
C) Yumurta ve pirinç
D) Patates ve balık

14. "Kırmızı et, yumurta, yoğurt, peynir, süt, beyaz et."

Yukarıda verilen besinlerde hangi besin grubu ağırlıklı olarak bulunur?

- A) Karbonhidrat
- B) Yağ
- C) Vitamin
- D) Protein

16.



Yukarıdaki grafikte bir besin içeriğinde bulunan karbonhidrat, protein ve yağ miktarı verilmiştir.

Buna göre grafikte verilen besin maddesi aşağıdakilerden hangisi olabilir?

- A) Süt
- B) Tavuk
- C) Makarna
- D) Ceviz

15. Karbonhidratlarla ilgili hangi bilgi yanlıştır?

- A) Vücutta enerji vermede kullanılır.
- B) Çok yağlı yiyeceklerde bulunur.
- C) Patates, buğday gibi besinlerde bol miktarda bulunur.
- D) Şeker içeren yiyeceklerde bulunur.

17. "Gün boyunca Güneş'i gökyüzünde yer değiştiriyor gibi görürüz. Bunun nedeni"

Bu cümle aşağıdakilerden hangisi ile tamamlanırsa doğru bir bilgi olur?

- A) Dünya'nın, kendi etrafında dönmesidir.
- B) Güneş'in, Dünya etrafında dolanmasıdır.
- C) Güneş'in, Dünya etrafında dolanmasıdır.
- D) Güneş'in kendi etrafında dönmesidir.

18.

Babasıyla müzeye giden Aral içeriye girer girmez dev gibi bir dinazor iskeletiyle karşılaştı. Aral babasına:

– “Babacığım bu kemikleri nereden bulmuşlar?” diye sordu. Babası:

– “Oğlum milyonlarca yıl öncesinden günümüze kadar ulaşan kemik, iskelet, diş kalıntıları topraktan çıkarılır. Bunlara denir.

Bu parçada boş bırakılan yere aşağıdaki-
lerden hangisi yazılmalıdır?

- A) kayaç B) fosil
C) maden D) mineral

19. “Dünya, Güneş’in etrafında dolanmayıp belirli bir yerde durup sadece kendi etrafında dönseydi”

Yukarıdaki cümle hangi seçenkle ta-
mamlanırsa doğru bir bilgi verilmiş olur?

- A) Dünya’nın bir yarısı hep gece, diğer yarısı hep gündüz olurdu.
B) Dünya’dan baktığımızda Güneş’i gö-
remezdik.
C) Hep aynı mevsim yaşanırdı.
D) Güneş doğup batmazdı.

20.

Kayaçların ufalanmasıyla toprak oluşur.

Kayaçlar mineral birikmesiyle oluşur.

Kayaçlar arasında farklılığa yol açan temel etken minerallerdir.

Kayaçları çıkarmak oldukça kolay bir iştir.

Yukarıdaki etkinlikte doğru olanlar iş-
retlendiğinde hangi sonuca ulaşılır?

- A)
- B)
- C)
- D)

1.



Merhaba, benim adım Yeşim. Şiir yazmayı çok seviyorum. Siyah saçlarım, siyah gözlerim var. Utangaçım.



Selam, benim adım Soner. Gitarı iyi çalarım. Siyah saçlarım, siyah gözlerim var. Neşeli bir kişiliğim var.

Yeşim ve Soner'in hangi bireysel özellikleri birbirine benzemektedir?

- A) Duygusal özellikleri
- B) Fiziksel özellikleri
- C) Zihinsel özellikleri
- D) Cinsiyetleri

2.



Sınıfa yeni gelen gözlüklü bir öğrenciyle alay edildiğini gördüğünüzde hangi doğru davranışı yaparsınız?

- A) Ben de gülmeye başlarım.
- B) Arkadaşlarımla kavgaya ederim.
- C) Yeni gelen arkadaşşıma gözlüklerini takmamasını söylerim.
- D) Arkadaşlarıma yaptıklarının doğru olmadığını söylerim.

3.

Aşağıdaki çocuklar doğum tarihlerini söylüyorlar.

Hangi çocuk diğerlerinden önce doğmuştur?

A)



23 Mayıs 2007

B)



12 Temmuz 2008

C)



14 Mart 2010

D)



17 Şubat 2007

4.

1

Yürümeyi öğrendim

2

İlkokula başladım

3

Bursa'da dünyaya geldim

4

Anaokuluna gittim

Yukarıdaki olayların kronolojik olarak doğru şekilde sıralanışı aşağıdakilerden hangisidir?





- A) 2 - 4 - 3 - 1
- B) 3 - 1 - 4 - 2
- C) 3 - 2 - 4 - 1
- D) 3 - 4 - 1 - 2

5. I Görüşmede elde edilen bilgileri özetleyip düzenlemek
 II Sözlü tarih çalışmasında sorulacak soruları, malzemeleri hazırlamak
 III Görüşme yapılacak kişiyi belirleyip, randevu almak
 IV Görüşmeyi gerçekleştirmek, bu sırada izin alarak ses kaydı yapmak

Yukarıda sözlü tarih çalışmalarında yapılacak işler karışık olarak verilmiştir. Yapılacak işlerin doğru sıralanmış şekli hangisidir?

- A) I - III - II - IV
 B) III - I - IV - II
 C) III - II - IV - I
 D) IV - I - III - II

6. Aşağıdakilerden hangisi geçmişten günümüze gelen ata sporlarımızdandır?

- A)  Eskrim
 B)  Futbol
 C)  Boks
 D)  Güreş

7.



Çocukluğumuzda sokakta oyunlar oynardık. Şimdiki çocuklar evinde kendi kendine bilgisayar oynuyor.

Yunus Dede'nin sözlerinden hangisi çıkarılabilir?

- A) Günümüzdeki çocuklar oyun oynamıyorlar.
 B) Çocuklar sokak oyunlarını yerine bilgisayar oyunlarını tercih etmeye başlamışlardır.
 C) Günümüzde çocuklar daha çok sokakta oynuyorlar.
 D) Sokaklar güvenli olduğu için çocuklar sokakta rahatça oynarlar.

8. Aşağıdaki etkinlikte cephe ve cephe-lerde savaşılan düşmanlar eşleştirilecektir.

- | | | | |
|---|---------------|---|------------|
| 1 | Batı Cephesi | D | Ermeniler |
| 2 | Güney Cephesi | E | Fransızlar |
| 3 | Doğu Cephesi | F | Yunanlılar |

Buna göre etkinliğin doğru cevabı aşağıdakilerden hangisi olmalıdır?

- A) 1-F 2-E 3-D
 B) 1-F 2-D 3-E
 C) 1-D 2-E 3-F
 D) 1-D 2-F 3-E

9. Aşağıdakilerden hangisi kültürel öğe değildir?

- A) Halk oyunları
- B) Alışveriş merkezleri
- C) El sanatları
- D) Gelenek ve görenekler

11.



Yasemin sabah güneş'in doğuşunu seyrederken kollarını iki yana açtı.

Yasemin'in sol kolu hangi yönü gösterir?

- A) Güney
- B) Doğu
- C) Batı
- D) Kuzey

SOSYAL BİLGİLER

10. I. Sivas Kongresi
II. Amasya Genelgesi
III. TBMM'nin Açılışı
IV. Sakarya Savaşı
V. Erzurum Kongresi

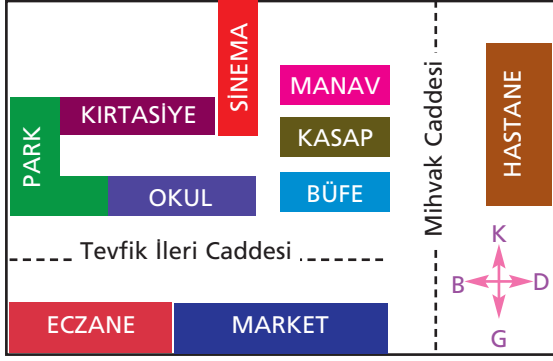
Yukarıdaki olayların kronolojik sıralaması aşağıdakilerden hangisinde doğru olarak verilmiştir?

- A) I - II - III - V - IV
- B) I - II - V - III - IV
- C) II - I - V - III - IV
- D) II - V - I - III - IV

12. "Evimizin kuzeyinde park, batısında okul, doğusunda cami, güneyinde market var." cümlesindeki bilgiye göre aşağıdakilerden hangisi doğru değildir?

- A) Market parkın güneyindedir.
- B) Okul caminin doğusundadır.
- C) Ev marketin kuzeyindedir.
- D) Marketin güneyinde cami yoktur.

13.



Krokiye göre okulla ilgili hangi ifade doğrudur?

- A) Tevfik İleri Caddesi üzerindedir.
- B) Batısında hastane vardır.
- C) Doğusunda kırtasiye vardır.
- D) Kuzeyinde market vardır.

14.



Bulduğum yerde 1. gün yağmur yağdı. 2. gün güneş açtı. 3. gün hava bulutluydu.

Verilen ifadeye uygun hava grafiği hangisidir?

- | | 1. Gün | 2. Gün | 3. Gün |
|----|--------|--------|--------|
| A) | | | |
| B) | | | |
| C) | | | |
| D) | | | |

15.



Hülya

Para kazanmak için bir işe girip çalışmayı.



Evren

Uzay ile ilgili araştırma yapmayı çok seviyorum.



Sezin

Voleybolu çok iyi oynayabiliyorum.

Sezin, Evren ve Hülya'nın sözleri ilgi, ihtiyaç ve yetenek kavramlarıyla hangi seçenekte doğru olarak eşleştirilmiştir?

	İlgi	İhtiyaç	Yetenek
A)	Evren	Hülya	Sezin
B)	Evren	Sezin	Hülya
C)	Sezin	Evren	Hülya
D)	Sezin	Hülya	Evren

16. Aşağıdakilerden hangisi nüfus cüzdanı yerine geçen belgelerden biri değildir?

- A) Hakim kimliği
- B) Pasaport
- C) Sürücü belgesi
- D) Öğrenci kartı

17. Tekalif-i Milliye Emirleri aşağıdakilerden hangisini gerçekleştirmek için yayımlanmıştır?

- A) Düzenli orduya geçişi kolaylaştırmak
- B) TBMM'nin açılmasını sağlamak
- C) Birinci İnönü Savaşı'na hazırlık yapmak
- D) Ordunun ihtiyaçlarını karşılamak

19. Yeni kimlik kartlarıyla ilgili aşağıdakilerden hangisi yanlıştır?

- A) On yıl boyunca geçerlidir.
- B) İmza bölümü bulunmaktadır.
- C) Aile bireylerimizin T.C. kimlik numaraları aynıdır.
- D) Akıllı kart özelliği kazandırılan elektronik çip bulunmaktadır.

18.



Traverten



Baraj



Köprü



Dağ

Numaralandırılmış doğal ve beşeri unsurlar aşağıdakilerden hangisinde doğru olarak sınıflandırılmıştır?

	<u>Doğal</u> <u>Unsurlar</u>	<u>Beşeri</u> <u>Unsurlar</u>
A)	1 - 4	2 - 3
B)	1 - 2	3 - 4
C)	2 - 4	1 - 3
D)	2 - 3	1 - 4

20. Mustafa Kemal, aşağıdakilerin hangisinde kazandığı başarılarından dolayı halk tarafından "Anafartalar Kahramanı" olarak tanımlanmıştır?

- A) Sakarya Savaşı
- B) I. İnönü Muhaberesi
- C) Kütahya - Eskişehir Savaşları
- D) Çanakkale Cephesi



SINAVA BAŞLAMADAN ÖNCE AŞAĞIDAKİ UYARILARI MUTLAKA DİKKATLİCE OKUYUNUZ

1. Sınav kimlik bilgilerinizin doğruluğundan emin olunuz.
2. Sınav başladıktan sonra çevrenizdekilerle konuşmayınız.
3. Soruları cevaplamaya istediğiniz sorudan başlayabilirsiniz.
4. Cevaplarınızı cevap anahtarındaki ilgili soru numarasını dikkate alarak uygun bölüme kodlayınız.
5. Değiştirmek istediğiniz cevabı cevap anahtarına kodladığınızdan emin olunuz.
6. Cevabını bilmediğiniz sorular üzerinde fazla zaman kaybetmeden diğer sorulara geçiniz. Zaman kalırsa bu sorulara daha sonra dönebilirsiniz.
7. Sınav puanlarınızın hesaplanmasında sadece doğru cevaplarınız dikkate alınacaktır.
8. Cevap anahtarınızı sınav süresince başkalarının görmeyeceği şekilde önünüzde bulundurunuz.
9. Sınav sırasında sözlük, hesap makinası, cep telefonu ve bilgisayarınızın bu özelliklerini kullanmayınız.
10. Sınav süresince yerinizden ayrılmayınız.