



**ANKARA**  
**TEVFİK İLERİ**  
**ANADOLU İMAM HATİP LİSESİ**  
**2023-2024 EĞİTİM ÖĞRETİM YILI**

ADI SOYADI :

T.C. KİMLİK NO :

**7. SINIFLAR**  
**SIRALAMA SINAVI**

1. Bu sınav 2023-2024 Eğitim-Öğretim Yılı Tevfik İleri Anadolu İmam Hatip Lisesi'ne yerleşecek öğrencilerin kavrama düzeylerini ölçmek amacıyla hazırlanan "SIRALAMA SINAVI"dır.
2. Sınav toplam 100 sorudur. Türkçe, Matematik, Din Kültürü ve Ahlak Bilgisi, Fen Bilimleri ve Sosyal Bilgiler testlerinden oluşmaktadır. Her test 20 sorudan ibarettir.
3. Soruların cevaplarını cevap kağıdında ait olduğu sütuna işaretleyiniz.
4. Cevap kağıdındaki bilgilerin size ait olup olmadığını kontrol ediniz.
5. **KİTAPÇIK TÜRÜNÜ KODLAMAYI UNUTMAYINIZ!**



1. Bu testte 20 soru vardır.
2. Cevaplarınızı, cevap kâğıdının Türkçe Testi için ayrılan kısmına işaretleyiniz.

1. Çanakkale Savaşı'nın yaşandığı yerler aşağıdaki harita üzerinde verilmiştir.



Bu haritadan yola çıkılarak aşağıdakilerden hangisi söylenemez?

- A) Kitre ile Seddülbahir arasında Zığındere bulunmaktadır.
- B) Çanakkale Boğazı, Çanakkale'nin güneybatısında bulunmaktadır.
- C) Kilitbahir, Zığındere'nin kuzeydoğusunda yer almaktadır.
- D) Savaş bölgesi Çanakkale'nin doğusundadır.

2. Akşamları bize gelirdi, bilgisayarda oyun oynardı.  
I II III IV

**Bu cümledeki numaralanmış sözcüklerle ilgili olarak aşağıdakilerden hangisi yanlıştır?**

- A) I numaralı sözcük basit yapıdır.  
B) II numaralı sözcük, yönelme durum eki almıştır.  
C) III numaralı sözcük, bulunma ekini almıştır.  
D) IV numaralı sözcük, türemiş sözcüktür.

3. Aşağıda sözcüklerin yapılarını gösteren bir tablo verilmiştir:

	Sözcük	Yapısı
I	Karaciğer	Birleşik
II	Pideci	Basit
III	Örtülü	Birleşik
IV	Kömürlük	Türemiş
V	Sivrisinek	Türemiş
VI	Kâğıt	Basit

**Bu tablodaki sözcüklerden kaç tanesinin yapısı doğru verilmiştir?**

- A) 3  
B) 4  
C) 1  
D) 2

4. Varlıkların derecelerini, sıralarını belirten sıfatlar, sıra sayı sıfatlarıdır. Sıra sayı sıfatları isimlere gelen "-ıncı, -inci" ekleri ile yapılır. İsmine sorulan "Kaçıncı?" sorusu, sıra sayı sıfatını buldurur.

**Buna göre aşağıdaki cümlelerin hangisinde sıra sayı sıfatı kullanılmıştır?**

- A) Bu eve ilk gelişimde beni kapıda babam ve dedem karşılamıştı.  
B) Projeyi vaktinde tamamlayabilirsek birer maaş ödül alacaktık.  
C) Ameliyattan sonraki beşinci hafta diyetisyene gittim.  
D) Yirmi sekiz numaralı dairede yangın çıktı.

5. Güzel bir günde mutlu ya da mutsuz olmanıza kim karar verir?

**Bu cümlede zamir olan sözcük ve nedeni aşağıdakilerden hangisinde verilmiştir?**

- A) "Güzel" sözcüğüdür, bir ismi nitelemiştir.  
B) "Gün" sözcüğüdür, bir kavramı tanımlamıştır.  
C) "Ya da" sözcüğüdür, iki sözcük arasında anlam ilgisi kurmuştur.  
D) "Kim" sözcüğüdür, bir ismin yerine kullanılmıştır.

6. Aşağıdaki cümlelerin hangisinde “ile” sözcüğü edat görevinde kullanılmıştır?

- A) Arkadaşlarıyla sinemaya gideceğini niçin daha önce söylemedin?
- B) Mezuniyet törenime annemle babam katılmayacak.
- C) Defterlerle kitapları dolabın üst rafına kaldırdım.
- D) Onun gömleğiyle pantolonu hep ütülüdür.

7. “İzlemek” sözcüğü aşağıdakilerin hangisinde “belirli bir yöne gitmek” anlamında kullanılmıştır?

- A) Ekonomiyle ilgili yeni bir politika izleyeceğiz.
- B) Başka bir tarafa sapmadan bu yolu izle.
- C) Bütün gün oturup televizyon izliyor.
- D) Onu izleyip nereye gittiğini öğrenmeliyim.

8. Aşağıdaki altı çizili sözcüklerden hangisi somut anlamıyla soyut anlama gelecek şekilde kullanılmıştır?

- A) Sesi telefonda üzüntülü geliyordu.
- B) Akdeniz sahillerini çok seviyorum.
- C) Başarı kapısının anahtarı çalışmaktır.
- D) Büyük küçük herkese pek saygılıdır.

9. Başarılı olmak isteyen sanatçı, özgün konu bulmalıyım diye boşuna çırpınmamalıdır. Başka bir alan üzerinde çaba göstermelidir çünkü dünya üzerinde el değmedik hiçbir konu kalmamış gibidir.

**Bu paragraftaki altı çizili söz grubunun metinde kazandığı anlam aşağıdakilerden hangisinde verilmiştir?**

- A) Pek tercih edilmemiş
- B) Saklanmış, görülmemiş
- C) Herkesçe bilinen, tanınan
- D) İşlenmemiş, konu edilmemiş

10. Cümlede açıkça söylenmediği hâlde cümlenin anlamından veya cümledeki bazı ifadelerden çıkarılabilen anlama örtülü anlam denir. Örneğin “Yeni evim okula daha yakın.” cümlesinden “Eski evim okula uzak.” anlamı çıkarılabilir.

**Buna göre aşağıdaki cümlelerin hangisinde örtülü anlam söz konusudur?**

- A) Eskiden bayramlarda kapıları çalar ve şeker toplardık.
- B) Hayatta herkes kendi zekâ seviyesinin yüksek olduğunu düşünür.
- C) Teknolojik gelişmeler hayatımıza büyük kolaylıklar getirdi.
- D) Öğrencilerinin mutlu olması için elinden geleni yapan biriydi.



15. Yeterli ve dengeli beslenmek, sağlıklı ve kaliteli bir yaşam için temel koşuldur. Hâl böyleyken özellikle büyümenin hızlandığı, öğrenme ve kavrama işlevlerinin önem kazandığı okul çağında beslenmenin önemi daha da artmaktadır. Okul çağındaki çocuklarda enerji ve besin öğelerinin yetersiz alımı büyümeyi, gelişmeyi ve okul başarısını olumsuz yönde etkiler. Diğer taraftan dengesiz beslenme yetersiz fiziksel aktivite obezite, diyabet, kalp-damar hatalıkları gibi birçok kronik hastalığa zemin hazırlar. Bu dönemde kazanılan beslenme alışkanlıkları yetişkinlik dönemine de yansıtacağından okul çağında çocukların yeterli ve dengeli beslenme alışkanlığı kazanması gerekir.

**Bu parçanın konusu aşağıdakilerden hangisidir?**

- A) Genç yaşta kilo almanın zararları
- B) Okul çağında beslenmenin önemi
- C) Sağlıklı bir yaşam ve kilo sorunları
- D) Okul çağında yapılan fiziksel aktiviteler

16. Büyük bir ün kazanmış hiçbir kitap yoktur ki en az iki kez okunmadıkça okunmuş sayılsın. Büyük bir kitabı, büyük bir adamı dinler gibi çok dikkatli okuyunuz. Bütün bilincinizle ve ruhunuzla okuyunuz. Satırlar üzerinde düşününüz. Aradan bir zaman geçtikten sonra aynı kitabı bir kez daha okuyunuz. Ancak o zaman kitap sizin kişiliğinize girer, sizden bir parça olur, hayatınızı ve düşüncelerinizi etkiler.

**Parçaya göre, kitabın okuru etkilemesi neye bağlıdır?**

- A) Okur üzerinde etki bırakmasına
- B) Kısa sürede bitirilmesine
- C) Dilinin anlaşılır olmasına
- D) En az iki kez okunmasına

17. Gazeteci; yazısını yazarken o günün olaylarını, gerçeklerini göz önünde bulundurmamak ve bunları geniş topluluklara ulaştırmak zorundadır. Bu bakımdan gazeteci; aydın diliyle değil, halk diliyle yazı yazan kişidir. Gerçek gazeteci, yazarken nesnel olmak zorundadır. Toplumun mutluluğunu hedefler, bunun için uğraşır.

**Bu parça, gazeteci ile ilgili aşağıdaki soruların hangisine cevap vermemektedir?**

- A) Mesleğini nasıl seçer?
- B) Amacı nedir?
- C) Nasıl bir dil kullanmalıdır?
- D) Taraf tutar mı?

18. I. Trene bindiğimde vatanımdan zorla koparıyor gibiydim.  
II. Eskiden yolculuklar uzun sürerdi hatta her yolculuk bitmez bir ayrılığın parçasıydı.  
III. O kadar çok ayrılık havasına girmiştik ki tren istasyondan ayrılırken ben gurbet şiirleri okumaya başlamıştım.  
IV. Çocuklarımı, dostlarımı bir daha göreceğimden bile emin değildim.  
V. İşte, o dönemlerde bir yolculuk yapmıştım: İstanbul'dan Paris'e.

**Numaralandırılmış cümlelerin, olayların oluş sırasına göre sıralanmış hali aşağıdakilerden hangisidir?**

- A) II – V – I – IV – III
- B) III – V – IV – I – II
- C) IV – I – V – II – III
- D) V – III – I – IV – II

19. Anılar, yazarların yaşam öykülerini birebir yansıtan türler olarak görülmemeli. Çünkü yazarlar anılarını yazarken bile hayal güçlerini kullanmadan edemezler. Başlarından geçen sıradan bir olayı bile farklı şekillere büründürebilirler. Bu nedenle yazarların anılarını okuyarak ---

**Bu paragraf, konusuna göre aşağıdakilerin hangisiyle tamamlanmalıdır?**

- A) onların hayal güçlerini öğrenmeliyiz.
- B) yaşamlarını olduğu gibi öğrenmek mümkün değildir.
- C) onlarla ilgili gerçekleri birebir öğrenebiliriz.
- D) içinde buldukları durumu en doğru şekliyle anlayabiliriz.

20. Herhâlde sen beni İstanbul'da zannediyordun. 8 Ağustos'tan beri hazırlık kıtasındayım. Haftaya İstanbul'a Yedek Subay Okuluna gidiyorum. Burada kiminle beraber olduğumu tahmin et bakalım? Aklına gelmez diye derhâl söyleyeyim: Mehmet Şamil Baş'la beraber... Mehmet habire şiir yazıyor. Hâlbuki ben, bir türlü kalemi elime alamıyorum. Güzel şiirler yazmaya, her şeye rağmen devam etmek lazım. Hasretle gözlerinden öper, seni Allah'a emanet ederim.

**Bu parça, aşağıdaki metin türlerinin hangisinden alınmış olabilir?**

- A) Anı
- B) Mektup
- C) Gezi yazısı
- D) Tiyatro



- Bu testte 20 soru vardır.
- Cevaplarınızı, cevap kâğıdının Matematik Testi için ayrılan kısmına işaretleyiniz.

- Aşağıda bir takvim yaprağı görseli verilmiştir.

EYLÜL AYI						
Pzt.	Salı	Çrş.	Prş.	Cm.	Cmt.	Pz.
		1	2	3	4	5
6	7	8	9	10	11	12
13	14	15	16	17	18	19
20	21	22	23	24	25	26
27	28	29	30			

Annesi Ali'ye günün tarihine karşılık gelen sayı 2'nin pozitif tam kuvveti olan günlerde 20 TL, günün tarihine karşılık gelen sayı 3'ün pozitif tam sayı kuvveti olan günlerde 25 TL harçlık veriyor. Ali, diğer günlerde harçlık almıyor.

**Buna göre Ali eylül ayı boyunca toplamda kaç TL harçlık alır?**

A) 145

B) 155

C) 150

D) 160

2.

<b>!! 5 GÜN KAL 4 GÜN ÖDE !!</b>
<b>Otel Fiyat Listesi (Günlük)</b>
<b>Yetişkin 800 TL</b>
<b>12-18 yaş arası YARIM ÜCRET</b>
<b>0-12 yaş arası ÜCRETSİZ</b>

Yukarıdaki otelin kampanyasını gören Mustafa Bey, eşi, 9, 14 ve 17 yaşlarındaki üç çocuğu ile birlikte bu otele gidiyor ve 5 gün konaklıyor.

**Buna göre Mustafa Bey konaklama için toplam kaç TL öder?**

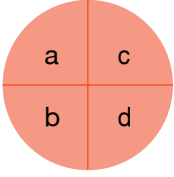
A) 9600

B) 10800

C) 8000

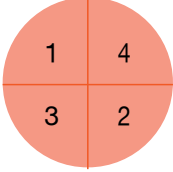
D) 12000

3.



$$= a^b + \frac{c^3}{d^2} \text{ işlemi tanımlanıyor.}$$

Buna göre,



İşleminin sonucu için aşağıdakilerden hangisi doğrudur?

- A) 3'e bölümünden kalan 1'dir.  
 B) 4'e bölümünden kalan 3'tür.  
 C) 9'a kalansız bölünür.  
 D) 6'ya bölümünden kalan 5'tir.

4. Aşağıdaki tabloda kırmızı et, süt ve yumurtanın içinde bulunan vitamin çeşitleri verilmiştir.

Vitamin	Yumurta	Süt	Kırmızı et
A		✓	✓
B	✓	✓	
C			
D		✓	✓
E	✓	✓	✓
K	✓		

M kümesi kırmızı etin, R kümesi sütün, T kümesi yumurtanın içerdiği vitamin çeşitlerinden oluşmaktadır.

I.  $s(M \cup R)$

II.  $s(M \cap T)$

III.  $s(R \cup T)$

olduğuna göre I, II ve III'in doğru sıralanışı aşağıdakilerden hangisinde verilmiştir?

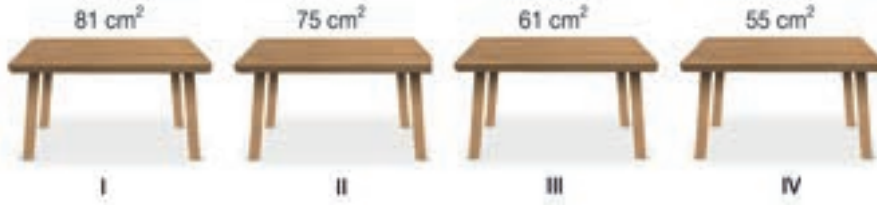
A)  $I < II < III$

B)  $II < I < III$

C)  $III < I < II$

D)  $III < II < I$

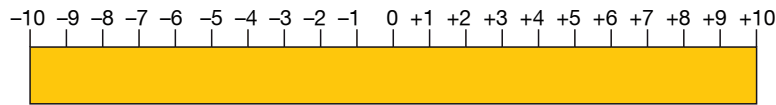
5. Aşağıda kenar uzunlukları santimetre cinsinden 1'den büyük doğal sayı olan dikdörtgen şeklindeki masaların alanları verilmiştir.



Buna göre hangi masanın alanı kesinlikle yanlış verilmiştir?

- A) I                                      B) II                                      C) III                                      D) IV

- 6.



Yukarıda verilen karton şerit -10 ile +10 arasındaki tam sayıları gösterecek şekilde eşit parçalara ayrılmıştır.



Karton şerit şeklindeki gibi ok yönünde -4 noktasından katlanmış ve -10'un üzerine geldiği nokta maviye boyanmıştır. Buna göre -10 hariç hangi nokta maviye boyanmış olur?

- A) -1                                      B) +2                                      C) +3                                      D) +4

7. Özdeş K, L ve M kaplarının sırasıyla  $\frac{1}{4}$ 'i,  $\frac{3}{8}$ 'ü ve  $\frac{1}{2}$ 'i su ile doludur.

Ayşe bu kaplara sırasıyla x, y ve z litre su ilave ederek taşmadan tamamen dolmalarını sağlamıştır.

**Buna göre Ayşe'nin K, L ve M kaplarına ilave ettiği su miktarlarının küçükten büyüğe doğru sıralanışı aşağıdakilerden hangisinde doğru verilmiştir?**

- A)  $x < y < z$                       B)  $x < z < y$                       C)  $z < y < x$                       D)  $y < z < x$

8. Uçakla seyahat eden Cemile'ye valizlerini teslim ederken, yolcu kabinine alabileceği çantasının kütlesinin en fazla 9 kg olabileceği söylenmiştir. Cemile'nin yolcu kabinine almak istediği çantasının kütlesi tartıldığında 12,44 kg olduğu görülmüştür.

Cemile'nin yolcu kabinine almak istediği çantasının içindeki eşyaların kütleleri aşağıdaki tabloda çözümlenmiş olarak verilmiştir.

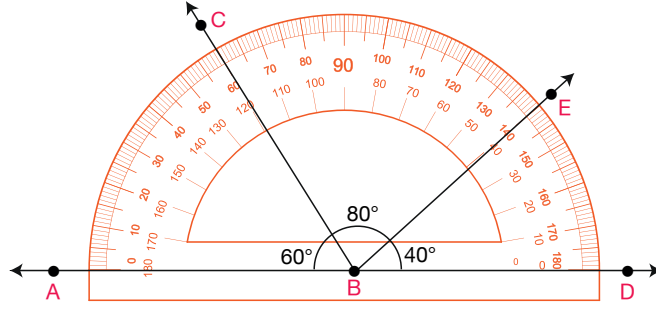
Eşya	Kütlesi (kg)
Tablet	$2 \cdot 1 + 3 \cdot \frac{1}{10}$
Ayakkabı	$3 \cdot 1 + 8 \cdot \frac{1}{100}$

Eşya	Kütlesi (kg)
Kitap	$3 \cdot 1 + 8 \cdot \frac{1}{10} + 6 \cdot \frac{1}{100}$
Laptop	$3 \cdot 1 + 2 \cdot \frac{1}{10}$

**Buna göre Cemile hangi eşyasını çantasından çıkarıp valizine koyarsa çantasını yolcu kabinine alabilir?**

- A) Laptop                      B) Ayakkabı                      C) Kitap                      D) Tablet

9.



Açıölçer üzerinde verilen açılara göre aşağıdakilerden hangisi yanlıştır?

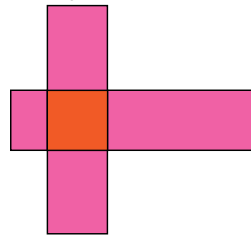
- A) ABC açısının ölçüsünün, ABE açısının ölçüsüne oranı  $\frac{3}{7}$ 'dir.  
 B) ABC açısının ölçüsünün, CBE açısının ölçüsüne oranı  $\frac{3}{4}$ 'tür.  
 C) EBD açısının ölçüsünün, ABC açısının ölçüsüne oranı  $\frac{2}{3}$ 'tür.  
 D) CBE açısının ölçüsünün, CBD açısının ölçüsüne oranı  $\frac{1}{2}$ 'dir.

10. Aşağıda verilen dikdörtgen biçimindeki özdeş levhalar I. şekilde uzun kenarları çakışacak biçimde yan yana, II. şekilde ise dik olarak üst üste gelecek biçimde durmaktadır. I. şeklin alanı  $200 \text{ cm}^2$  ve II. şeklin alanı  $175 \text{ cm}^2$  dir.

I. şekil



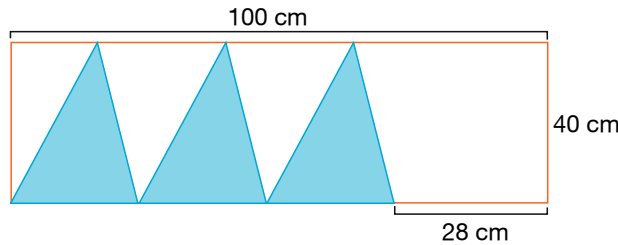
II. şekil



Buna göre dikdörtgen levhalardan herhangi birinin uzun kenar uzunluğu kısa kenar uzunluğunun kaç katıdır?

- A) 5                                      B) 4                                      C) 3                                      D) 2

11. Aşağıdaki şekilde kenar uzunlukları 40 cm ve 100 cm olan dikdörtgenin içine yerleştirilmiş eş üçgenler verilmiştir.



Buna göre üçgenlerden herhangi birinin alanı kaç santimetrekaredir?

- A) 420                                      B) 440                                      C) 460                                      D) 480

12. Kazım Bey 60 arlık arazisini satmak istemektedir ve emlak danışmanı kendisine 2 farklı satış önerisinde bulunmuştur.

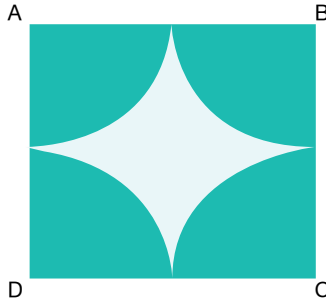
1. öneri: Arazinin metrekaresini 500 TL'den satmak

2. öneri: Araziyi her biri 600 m<sup>2</sup> olan parsellere ayırarak her parseli 400 000 TL'den satmak

**Kazım Bey 2. öneriyi kabul ettiğine göre aşağıdaki ifadelerden hangisi doğrudur?**

- A) 1. öneri ile aynı ücrete satmıştır.  
 B) 1. öneriye göre 2 milyon TL daha fazla ücrete satmıştır.  
 C) 1. öneriye göre 1 milyon TL daha az ücrete satmıştır.  
 D) 1. öneriye göre 1 milyon TL daha fazla ücrete satmıştır.

13.



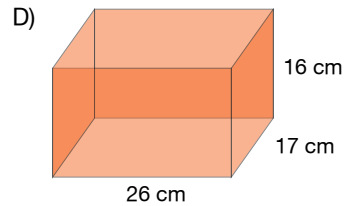
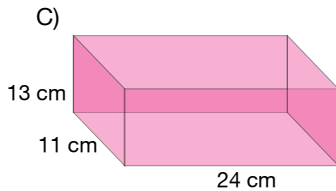
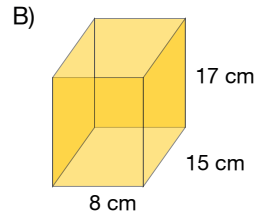
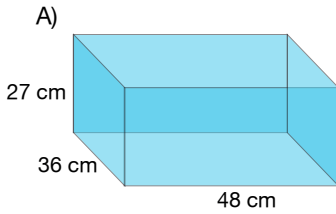
Şekildeki ABCD karesinin içine merkezleri karenin köşeleri olan birbirine teğet 4 eş çeyrek daire çizilmiştir.

**ABCD karesinin çevre uzunluğu 48 cm olduğuna göre beyaz bölgenin çevre uzunluğu kaç santimetredir?**  
 ( $\pi=3$  alınız.)

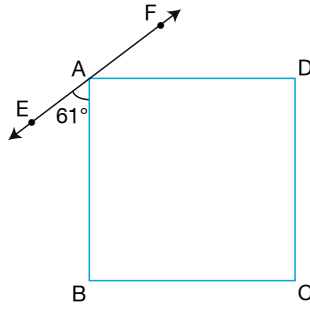
- A) 36                      B) 34                      C) 32                      D) 30

14. Prizmaların hacimleri tahmin edilirken prizmanın ayırt uzunlukları en yakın onluğa yuvarlanarak işlem yapılır.

**Aşağıda verilen prizmalardan hangisinin santimetreküp cinsinden tahmini hacmi santimetreküp cinsinden gerçek hacminden küçüktür?**



15.



Yukarıda verilen şekilde ABCD karedir.

E, A ve F noktaları doğrusal ve  $m(\widehat{EAB}) = 61^\circ$  olduğuna göre,  $m(\widehat{FAD})$  kaç derecedir?

A) 29

B) 31

C) 61

D) 129

16. Sınav ile öğrenci kabul eden bir okul, öğrenci alımı için 3 sınav yapıyor. Sınavlarının ortalaması 75 ve üzeri olan öğrenciler okula kabul ediliyor.

Bu okula başvurup ilk iki sınavdan 65 ve 68 alan bir öğrencinin bu okula kabul edilmesi için üçüncü sınavdan en az kaç puan almalıdır?

A) 92

B) 95

C) 96

D) 97

17. Aşağıdaki tabloda bir kırtasiyede bulunan kalem, defter ve silgi fiyatları verilmiştir.

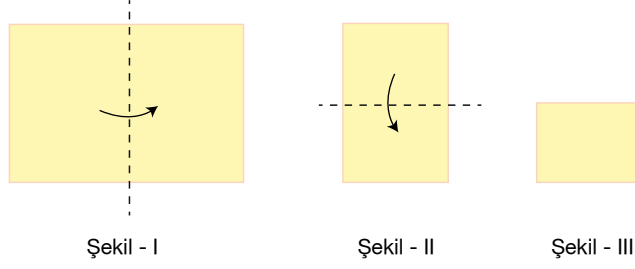
Ürün	Fiyatı (TL)
Kalem	4
Defter	$a + 4$
Silgi	3

Çocukları için alışveriş yapan Melek Hanım kırtasiyeden 12 adet kalem, 23 adet defter ve 9 adet silgi almıştır.

Melek Hanım'ın kırtasiyeye ödediği toplam ücreti TL cinsinden veren cebirsel ifade aşağıdakilerden hangisidir?

A)  $23a + 145$ B)  $23a + 153$ C)  $23a + 167$ D)  $23a + 175$

18.



Dikdörtgen şeklindeki bir kağıdın çevre uzunluğu 29,76 cm'dir. Kağıt önce Şekil - I'deki gibi gösterilen yönde tam ortadan ikiye katlanıyor. Oluşan Şekli - II'deki kağıt tekrar tam ortadan ikiye gösterilen yönde katlanıyor ve Şekil - III elde ediliyor.

**Son durumda oluşan şeklin görünen yüzünün çevre uzunluğu kaç santimetredir?**

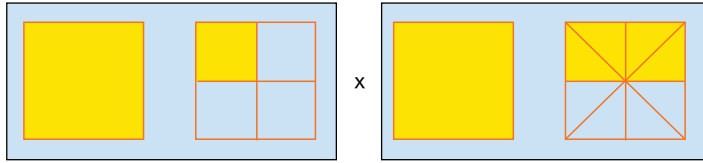
A) 12,28

B) 13,76

C) 14,88

D) 15,36

19.



**Yukarıda modellenen çarpma işleminin sonucu olan kesrin ondalık gösterimi aşağıdakilerden hangisidir?**

A) 1,5

B) 1,675

C) 1,75

D) 1,875

20. Şekilde modelin  $\frac{4}{7}$ 'ü boyalıdır.



**Bu modelin boyalı olmayan kısmının yarısı daha boyandığında, boyasız alanının tüm alanın kaçta kaç olduğunu gösteren kesir aşağıdakilerden hangisi olur?**

A)  $\frac{3}{14}$ B)  $\frac{1}{7}$ C)  $\frac{2}{7}$ D)  $\frac{5}{4}$



1. Bu testte 20 soru vardır.
2. Cevaplarınızı, cevap kâğıdının Din Kültürü ve Ahlâk Bilgisi Testi için ayrılan kısmına işaretleyiniz.

1.

“... kendini kınayıp dururken balık onu yuttu. Eğer Allah’ı tesbih edenlerden olmasaydı, tekrar diriltilecek güne kadar balığın karnında kalacaktı. Halsiz bir halde iken kendisini sahile çıkardık.” (Sâffât, 142-145. ayetler.)

**Bu ayette hangi peygamber hakkında bize bilgi verilmiştir?**

- A) Hz. Yunus                      B) Hz. Yusuf  
C) Hz. Musa                      D) Hz. İsa

2.

İnsanlar tek bir ümmet (aynı din üzere) idi (daha sonra ihtilâfa düştüler); bunun üzerine Allah, müjdeleyiciler ve (aynı zamanda) korkutucular olarak peygamberler gönderdi ve hakkında ihtilâfa düştükleri şeyler husûsunda, insanların aralarında hüküm vermek için, berâberlerinde hak ile Kitâb indirdi. (Bakara 213. ayet)

**Verilen ayet aşağıdaki sorulardan hangisi için bir cevaptır?**

- A) İlk din hangisidir?  
B) İlk önce gönderilen ilahi kitap hangisidir?  
C) Allah neden kitap indirmiştir?  
D) Kaç tane peygamber vardır?

3. **Kur’an-ı Kerim:** “... öyle ise, iğrenç bir pislik olan putlardan kaçının, yalan söylemekten de sakının.”

**Tevrat:** “Çalmayacaksınız, hile yapmayacaksınız ve birbirinize yalan söylemeyecek ve aldatmayacaksınız.”

**Zebur:** “Allah’ım, Sen, yalan söyleyenleri helak edersin.”

**İncil:** “Kurtuluş için, yalanı kendinizden sıyırıp atın.”

**Yukarıda verilen bilgilere göre,**

- I. İlahi kitapların asıllarını korumuş oldukları  
II. İlahi kitaplarda evrensel ilkelerin bulunduğu  
III. İlahi kitaplarda benzer emirlere yer verildiği

**yargılarından hangilerine ulaşılabilir?**

- A) I ve II                              B) I ve III  
C) II ve III                            D) I, II ve III

4. “Sıdk” kelimesinin anlamı aşağıdakilerden hangisidir?

- A) Uyanık olmak  
B) Doğru ve dürüst olmak  
C) Saygın olmak  
D) Günahsız olmak

5.

Hız. Âdem ve Hız. Havva, Allah'ın kendilerine belirlediđi sınırları aştıkları için hemen pişman oldular ve Allah'a şöyle dediler: "Rabb'imiz! Biz kendimize zulmettik. Eğer bizi bağışlamaz ve bize acımazsan mutlaka ziyan edenlerden oluruz." (A'râf suresi, 23. ayet)

**Bu parça aşığıdaki kavramlardan hangisi ile ilişkilidir?**

- A) Tövbe B) İbadet  
C) Tevhit D) Tekvin

6.

"Ey Muhammed! Gecenin bir bölümünde uyanıp, sırf sana mahsus fazla bir ibaret olmak üzere, Kur'an'la gece namazı kıl. Rabbinin seni Makam-ı Mahmud'a erdireceđini umabilirsin." (İsra, 79. Ayet)

**Ayet-i Kerime'de vurgulanan namaz çeşidi aşığıdakilerden hangisidir?**

- A) Teravih namazı  
B) Tesbih namazı  
C) Teheccüd namazı  
D) İstihare namazı

**7. Aşığıda verilen namazın farzlarından hangisinin açıklaması doğrudur?**

- A) Hadesten Taharet: Kişinin giysilerinin ve namaz kılacağı yerin temiz olması  
B) Rükû: Namazda ayakta iken Kuran-ı Kerim'den yeterli miktarda sure veya ayet okumak  
C) Kıyam: Namazın başlama tekbiri ile rükûsu arasında ayakta durmak  
D) İstikbal-i Kible: Namaz kılariken pencere yönüne dönmek

8.

Namazlar	Sünnet	Farz	Son Sünnet
Sabah	2	K	.....
Öğle	M	4	2
İkindi	4	4	.....
Akşam	.....	3	Y
Yatsı	4	4	2

**Yukarıdaki tabloya göre M + K - Y işleminin sonucu kaçtır?**

- A) 1 B) 2  
C) 3 D) 4

9.

Akıllı, ergenlik çağına ulaşmış, camiye gitmeye engel bir sağlık sorunu bulunmayan, hürriyeti kısıtlanmamış, yolcu olmayan erkeklere farzdır. Bu namaz her hafta bir kez kılınır.

**Yukarıda sözü edilen namaz aşığıdakilerden hangisidir?**

- A) Bayram namazı B) Cuma namazı  
C) Teravih namazı D) Cenaze namazı

10.

#### Bismillahirrahmanirrahim

Elem-tera keyfe ..... Rabbüke bi .....  
fil. Elem yec'al ..... fi tadlil. Ve ersele  
aleyhim .....ebabil.

**Yukarıda Fil suresinin okunuşu verilmiştir. Boş bırakılan yerlere aşığıdakilerden hangisi gelmesi gerekir?**

- A) feale - Keydehum - Tayran - Ashabil  
B) feale - Ashabil - Min - Tayran  
C) feale - Ashabil - Tayran - Keydehum  
D) feale - Ashabil - Keydehum - Tayran

11. Peygamberimiz, “En değerli kazanç, kişinin kendi elinin emeğiyle kazandığıdır.” buyurmuştur.

**Aşağıdaki davranışlardan hangisini yapan kişi bu hadise aykırı davranmış olur?**

- A) Süt satan Ayşe teyze
- B) Ayakkabı tamir eden Ömer Usta
- C) Ders anlatan Cemil Öğretmen
- D) Bahis oynayan Ali amca

12.

Yeni kaydolduğu okulda kendisini yalnız ve kimsesiz hisseden Turgut, yeni arkadaşlıklar edinmek istiyordu. Bunun için okul çıkışında sınıf arkadaşlarının takıldığı cafeye gitmeye ve onlarla birlikte vakit geçirmeye karar verdi. Bugüne kadar sigara dumanının olduğu bir ortama bile girmemiş olan Turgut, arkadaşlarının kendisini aralarına kabul etmesi için bir müddet sonra sigara ve nargile içen birisi olmuştu.

**Turgut, sigara ve nargile içmesinde hangi faktörün daha etkili söylenebilir?**

- A) Hayata karşı kızgınlık
- B) Dışlanma kaygısı
- C) Aile içi iletişimsizlik
- D) Özenti ve merak

13. İslam davetinin Mekke Dönemi ile ilgili aşağıdaki bilgilerden hangisi yanlıştır?

- A) Hz. Peygamber ilk üç yıl gizlice tebliğde bulunmuştur.
- B) İnananlar çoğaldıkça müşriklerin baskıları artmıştır.
- C) Bir grup Müslüman, Habeşistan’a hicret etmiştir.
- D) Kâbe, Müslümanların eline geçmiştir.

14.

İlk vahyi aldıktan sonra büyük bir heyecan içerisinde evine gelen Peygamberimiz, Hz. Hatice’ye başından geçenleri anlatmış, eşi de onu büyük bir dikkat ile dinledikten sonra Peygamberimizi teselli etmek ve ona moral vermek için şöyle demiştir. “Allah’a yemin ederim ki Allah hiçbir vakit seni utandırmaz. Çünkü sen akrabayı gözetirsin; muhtaç olanların bakımını üstlenirsin; aç ve açıkta olanı koruyup, kolların; misafire ikram edersin ve musibete maruz kalanlara yardım edersin.”

**Hz. Hatice’nin (r.a.) söylemiş olduğu sözlerden Peygamberimizin (s.a.v.),**

- I. Yardımsever olduğu
- II. Cömert olduğu
- III. Sabırlı olduğu

**özelliklerinden hangilerini çıkarılabilir?**

- A) I ve II
- B) I ve III
- C) II ve III
- D) I, II ve III

15.

- Mekke'de baş gösteren kıtlık üzerine Hz. Peygamberler, amcası Ebu Talib'in yükünü hafifletmek için bu oğlunu himayesine almıştır.
- Hz. Peygamber'in yanında büyüyen bu kişi, ilk Müslümanlar arasında yer almıştır.

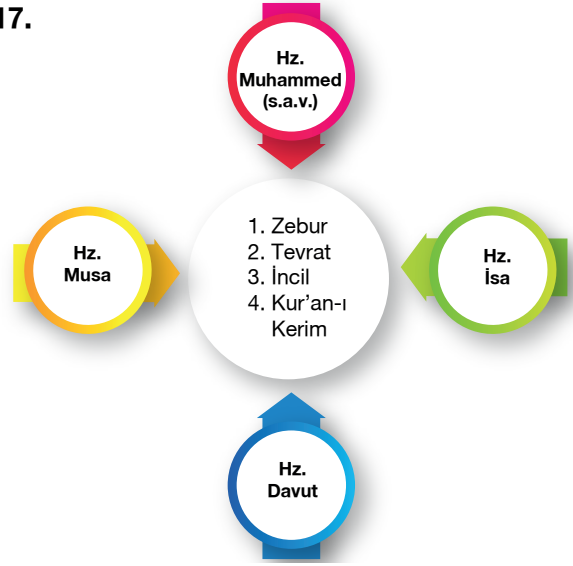
Hakkında bilgi verilen sahabi kaçınıcı halifemizdir?

- A) 4      B) 1      C) 3      D) 2

16. Peygamberimizin amcası ve eşinin Peygamberimize (s.a.v.) ve İslam'a olan düşmanlıkları sebebiyle Allah'ın (c.c) gazabına uğrayacakları ifadesi Kuran-ı Kerim'in hangi suresinde geçer?

- A) Kafirun  
B) Felak  
C) Maun  
D) Tebbet


17.



Yukarıdaki etkinlikte kutsal kitaplar, gönderildikleri peygamberlerle eşleştirilecektir.

Buna göre, numaralandırılmış şekil hangi seçenekteki gibi olmalıdır?

A)



B)



C)



D)



18. Kadir Gecesi hangi ayda kutlanır?

- A) Recep  
B) Şaban  
C) Ramazan  
D) Rebiülevvel

19.

“Siz hayra ne harcarsanız, Allah onun yerine başkasını verir. O, rızık verenlerin en hayırlısıdır.” (Sebe, 9. ayet)

**Aşağıdakilerden hangisi yukarıdaki ayete uygun düşen bir davranış değildir?**

- A) Otobüste yaşlı kimselere yer vermek.
- B) Yaptığı yardımı her yerde anlatmak.
- C) İflas etmiş bir esnafa yardım etmek.
- D) Bir öğrenciye burs vererek onu okutmak.

20.

632 yılında ilk ve son hac için Mekke'ye giden Peygamberimiz Arafat denilen yerde yüz bini aşkın Müslümana bir konuşma yaptı. İlk insan hakları beyannamesi niteliğinde olan Veda Hutbesi'nde peygamberimiz birçok evrensel mesaj vermiştir.

**Aşağıdakilerden hangisi Veda Hutbesi'nde yer alan evrensel mesajlardan biri değildir?**

- A) Can ve mal güvenliğini esas olduğu
- B) Kendinden sonra halifenin kim olacağı
- C) Irkçılık yapılmaması gerektiği
- D) Emanete hıyanet edilmemesi

1. Bu testte 20 soru vardır.
2. Cevaplarınızı, cevap kâğıdının Fen Bilimleri Testi için ayrılan kısmına işaretleyiniz.

1. Güneş sisteminde Güneş'e farklı uzaklıkta sekiz gezegen bulunmaktadır.



Buna göre aşağıdaki gezegenlerden hangisi Güneş'e diğerlerinden daha uzaktır?

- |           |           |
|-----------|-----------|
| A) Merkür | B) Uranüs |
| C) Satürn | D) Neptün |

2.



Ay tutulması ile ilgili aşağıdakilerden hangisi yanlıştır?

- A) Ay, Güneş ile Dünya'nın arasına girer.
- B) Ay, dolunay evresindedir.
- C) Güneş, Dünya ve Ay aynı doğrultudadır.
- D) Sadece geceleri gözlenir.

3. İnsandaki uyluk kemiği ile ilgili,

- I. Vücudun en uzun kemiğidir.
- II. Kan hücresi üretir.
- III. Hücreleri kendini yenilemez.

İfadelerinden hangileri doğrudur?

- |              |                 |
|--------------|-----------------|
| A) I ve II   | B) I ve III     |
| C) II ve III | D) I, II ve III |

4. Aşağıdakilerden hangisi tükürüğün görevlerinden değildir?

- A) Besinleri ıslatmak
- B) Ağızın kurumasını önlemek
- C) Mekanik sindirim yapmak
- D) Karbonhidratların kimyasal sindirimini başlatmak

5. Soluduğumuz havadaki oksijen aşağıdaki yapıların hangisinde enerji elde etmek için kullanılır?

- A) Alveollerde
- B) Hücrelerde
- C) Kanda
- D) Kalpte

6. I. Gıdalardan enerji elde edilmesi  
II. Ürenin vücuttan uzaklaştırılması  
III. Kandaki atık maddelerin süzülmesi

Yukarıdakilerden hangileri boşaltım sisteminin görevlerindedir?

- A) I ve II                      B) I ve III                      C) II ve III                      D) I, II ve III

7.



Sindirim şekli \ Sindirim organı	Ağız	Mide	İnce bağırsak
Mekanik sindirim	+	II	+
Kimyasal sindirim	I	+	III

Yukarıdaki tabloda, sindirim organları ve buralarda gerçekleşen sindirim şekilleri belirtilmiştir. + sindirim olduğunu, – sindirim olmadığını göstermektedir.

Buna göre tabloda numaralandırılmış yerlere gelmesi gereken işaretler hangi seçenekte doğru verilmiştir?

	I	II	III
A)	+	-	+
B)	-	+	+
C)	-	+	-
D)	+	+	+

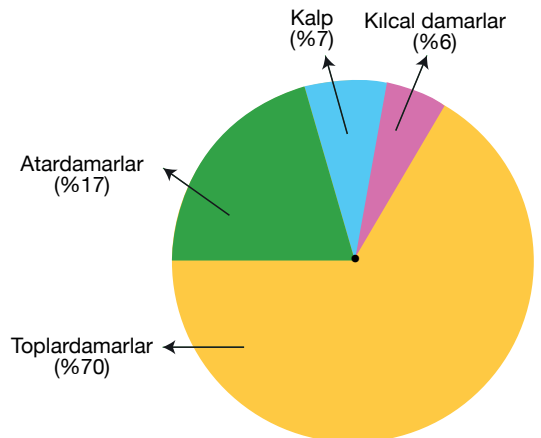
8. Yandaki grafikte dinlenme hâlindeki bir insanda kanın bulunduğu yapılar ve bulunma oranları verilmiştir.

Buna göre,

- I. Kılcal damarlarda kalpten fazla kan bulunur.  
II. Atardamarlar, toplardamardan az kan bulundurur.  
III. Vücuttaki kanın çoğunluğu toplardamarlarda bulunur.

Yorumlarından hangileri yapılabılır?

- A) I ve II                      B) I ve III  
C) II ve III                      D) I, II ve III



9. Bazı cisimlerin hareket durumları aşağıda verilmiştir.

- I. Sabit süratle hareket eden gemi
- II. Sürati artarak giden otomobil
- III. Duvarda asılı çerçeve
- IV. Daldan düşen armut

**Bu durumlarda cisimlere etki eden kuvvetler dengelenmiş ve dengelenmemiş oluşlarına göre aşağıdakilerden hangisinde doğru eşleştirilmiştir?**

	Dengelenmemiş Kuvvet	Dengelenmiş Kuvvet
A)	I ve III	II ve IV
B)	II ve IV	I ve III
C)	I ve II	III ve IV
D)	II ve III	I ve IV

10.

Kuvvet (N)	Cismin durumu
2	Hareketsiz
3	Hareketsiz
4	Harekete başladı
5	Hızlandı

Öğrenciler bir cisme yatay yolda farklı kuvvetler uygulayarak sonuçları tabloya kaydediyorlar.

**Bu sonuçlara göre aşağıdakilerden hangisine ulaşamaz?**

- A) Hareket hâlinde uygulanan kuvvet arttıkça hız artar.
- B) Cisme etkileyen sürtünme kuvveti 3 N olabilir.
- C) Cismin ağırlığı 2 N olduğundan bu büyüklükte kuvvet cismi hareket ettiremez.
- D) Cismin hareket etmesi için kuvvetin 3 N'den büyük olması gerekir.

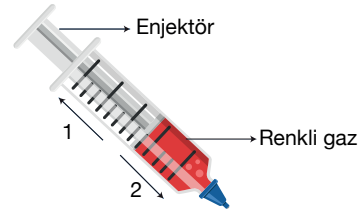
11. Pencereleere çift cam takılmasının nedeni aşağıdakilerden hangisidir?

- A) Isı ve ses yalıtımını sağlamak
- B) Pencerenin daha güzel görünmesini sağlamak
- C) Güneş ışınlarının daha fazla geçmesini sağlamak
- D) Güneş ışınlarının daha az geçmesini sağlamak

12. Aşağıdaki yakıtlardan hangisi havayı diğerlerine göre daha az kirletir?

- A) Motorin
- B) Doğal gaz
- C) Kömür
- D) Fuel - oil

13.



Şekildeki ağız kapalı şırınganın içinde renkli gaz vardır.

**Buna göre,**

- I. Gazın hacmi şırıngayı doldurduğu bölmenin hacmine eşittir.
- II. Enjektör 1 numaralı ok yönünde çekilirse gazın hacmi artar.
- III. Enjektör 2 numaralı ok yönünde itilirse gazın hacmi azalır.

**yargılarından hangileri doğrudur?**

- A) I ve II
- B) I ve III
- C) II ve III
- D) I, II ve III



14. Aynı metalden yapılmış 200 gram A bilyesi ile 240 gram B bilyesinin sıcaklıkları eşittir.

**Bu bilyeler ile ilgili aşağıdaki ifadelerden hangisi doğrudur?**

- A) A bilyesinin yoğunluğu, B bilyesininkinden küçüktür.
- B) B bilyesinin hacmi, A bilyesininkinden küçüktür.
- C) B bilyesinin yoğunluğu, A bilyesininkinden küçüktür.
- D) A ve B bilyelerinin birim hacimlerinin kütleleri eşittir.

15. Ses dalgalarının maddeyle karşılaştığında şiddetinin azalması sesin soğurulmasından kaynaklanır.

**Buna göre, aşağıdakilerden hangisi sesin soğurulmasıyla ilgilidir?**

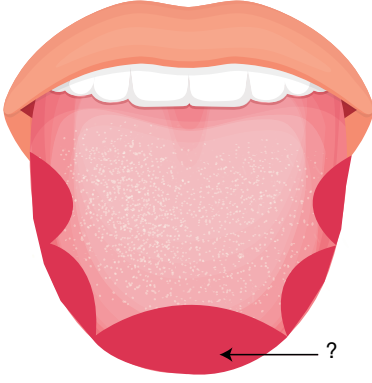
- A) Tıbbi görüntüleme yapılırken ultrason cihazı kullanılması
- B) Ses kayıt stüdyolarında yumuşak ve gözenekli akustik malzemeler kullanılması
- C) Yarasa ların avlarının yerini belirlemek için ses dalgaları göndermesi
- D) Balık sürülerinin yeri tespit edilirken sonar cihazı kullanılması

16. I. Limon görünce ağzın sulanması  
II. Okuma ve yazmayı öğrenme

**Yukarıda verilen olayları kontrol eden sinir merkezleri aşağıdakilerden hangisinde doğru verilmiştir?**

	I	II
A)	Omurilik	Beyin
B)	Omurilik	Beyincik
C)	Beyincik	Omurilik
D)	Beyin	Omurilik Soğanı

17.



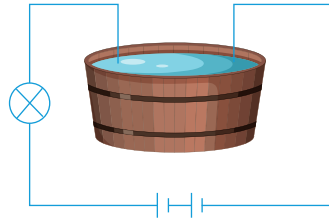
Dilin soru işareti ile gösterilen kısmındaki tat tomurcukları yoğun olarak hangi tadı algılar?

- A) Acı  
B) Ekşi  
C) Tuzlu  
D) Tatlı

18. Fazla şekerin karaciğerde depolanmasını sağlayan hormon aşağıdakilerden hangisidir?

- A) Tiroksin  
B) Glukagon  
C) İnsülin  
D) Adrenalin

20.



Yukarıdaki elektrik devresinde ampulün ışık verabilmesi için kap içinde aşağıdaki sıvılardan hangisi kullanılamaz?

- A) Limonlu su  
B) Sirkeli su  
C) Şekerli su  
D) Çeşme suyu

1. Bu testte 20 soru vardır.
2. Cevaplarınızı, cevap kâğıdının Sosyal Bilgiler Testi için ayrılan kısmına işaretleyiniz.

1. Geçmişte kurulan Türk devletlerinin bünyesinde dinleri, mezhepleri ve etnik kökenleri farklı olan insanlar yıllarca bir arada huzur içinde yaşamıştır. Bu farklılıklara duyulan saygıya dair en güzel örneklerden biri de günümüzde Hatay ilimizde bulunmaktadır. Hatay sınırları içerisinde bulunan cami, kilise ve sinagog bu şehrin hoşgörüsünü gösteren en güzel örnektir.

**Bu bilgiye göre;**

- I. Türk devletleri geçmişten günümüze içerisinde farklılıkları barındırmıştır.
- II. Hoşgörü farklı özelliklere sahip insanların bir arada yaşamasını sağlayan önemli etkidir.
- III. Kültürümüzü korumak için farklı yapılar ortadan kaldırılmıştır.

**yargılarından hangilerine ulaşılabilir?**

- A) I ve II  
B) I ve III  
C) II ve III  
D) I, II ve III

- 2.

6. sınıf öğrencisi Derya, kitabevinden bir kitap alır. Eve geldiğinde kitabı incelerken sayfalarında eksik olduğunu fark eder. Daha önce sosyal bilgiler dersinde hak ve sorumluluklarını öğrenen Derya öncelikle kitabı aldığı yere götürerek değiştirmesini ister, ancak kitabevi kitabı iade kabul edemeyeceklerini söyler. Bunun üzerine Tüketici Hakları Hakem Heyeti'ne bir dilekçe yazarak durumunu anlatan İrmak yaptığı yazışmalar sonunda aldığı kitabı değiştirir.

**Buna göre Derya'nın tavrı ile ilgili aşağıdakilerden hangileri söylenemez?**

- A) Hak ve sorumluluklarını kullanmayı öğrenmiştir.  
B) Sorunu güç kullanarak daha kolay çözebileceken çözüm yolunu uzatmıştır.  
C) Yaşadığı sorunu hukuki yolları kullanarak çözmeye gitmiştir.  
D) Eğitim hayatında öğrendiklerini yaşamına uygulamıştır.

- 3.

**EMEVİLER**

- Halifelik babadan oğula geçmeye başlamıştır.
- Atlas Okyanusu'ndan Türkistan'a kadar geniş bir alan fethedilmiştir.
- Emeviler, kendilerini üstün görüp aşırı Arap milliyetçisi bir politika izlemişlerdir.
- Cebeli Tarık Boğazı geçilerek İspanya fethedilmiştir.

**ABBASİLER**

- Medreseler, kütüphaneler gibi, mimari eserler yapılmıştır.
- Arap milliyetçiliği politikasını terk ederek tüm Müslümanlara eşit davranmayı seçmişlerdir.
- Türklere yeteneklerinden dolayı orduda ve yönetimde görevler verilmiştir.

**Emeviler ve Abbasiler ile ilgili verilen bilgiler dikkate alındığında aşağıdaki yargılardan hangisine ulaşılabilir?**

- A) Emeviler Dönemi'nde eğitim ve kültür hizmetlerine önem verilmiştir.  
B) Abbasiler Dönemi'nde sınırları genişletme politikası izlenmiştir.  
C) Müslümanlar arasında ayrılıkların keskinleşmesinde Abbasilerin yaptığı faaliyetler etkili olmuştur.  
D) Emeviler Dönemi'nde halifelerin belirlenmesi usulü saltanat şekline dönüşmüştür.

4. Türk-İslam devletlerinden Karahanlılar Dönemi'nde;



Kaşgarlı Mahmut, Divan-ı Lugâti't Türk adlı eseriyle, Türk halk dilini ve edebiyatını ayakta tutmuştur.



Yusuf Has Hacip, Kutadgu Bilig adlı eseriyle Türk edebiyatını Orta Asya kültüründe etkin kılmış, İran edebiyatının önüne geçirmiştir.

**Bu bilgilere bakılarak aşağıdaki yargılardan hangisine ulaşılamaz?**

- A) Karahanlılar, Orta Asya Türk kültür ve uygarlığını korumuşlardır.
- B) Arap, İran kültürü ve uygarlığı Türk kültür ve uygarlığından daha ileri düzeydedir.
- C) Karahanlı edebiyatçıları, Türk kültür ve uygarlığını yüceltecek eserler vermişlerdir.
- D) Karahanlılar, İslamiyet'i benimsemelerine rağmen Türk kültürü ve uygarlığından uzaklaşmamışlardır.

5. Yunus Emre, Mevlana ve Hacı Bektaş-ı Veli'nin Anadolu'da yaşamaları aşağıdakilerden hangisine katkı sağlamıştır?

- A) Moğol tehlikesinin önlenmesine
- B) Anadolu'da Türk siyasi birliğinin sağlanmasına
- C) Türk - İslam kültürünün Anadolu'ya yerleşmesine
- D) Medreselerin önem kazanmasına

- 6.

Türkiye Selçuklu sultanlarından I. Gıyaseddin Keyhüsrev zamanında, Karadeniz ticaret yolu hâkimiyeti için Trabzon Rum İmparatorluğu'na karşı İznik İmparatorluğu ile anlaşılmış ve Karadeniz ticaret yolu kontrol altına alınmıştır. Yine bu dönemde Antalya'da donanma kurulmuş ve bazı devletlerle ticaret anlaşmaları yapılmıştır.

**Bu bilgilere bakılarak Selçuklularla ilgili aşağıdakilerden hangisine ulaşılamaz?**

- A) Akdeniz tamamen egemenlik altına alınmıştır.
- B) Denizcilik faaliyetlerine önem verilmiştir.
- C) Uluslararası alanda ticaret teşvik edilmiştir.
- D) Karadeniz'deki ticaretin güvenliği sağlanmıştır.

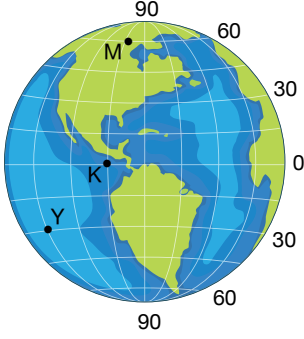
- 7.

Şanlıurfa yakınlarında dünyanın bilinen ilk tapınağı olan Göbeklitepe ortaya çıkarılmıştır.

**Buna göre Göbeklitepe'nin ortaya çıkarılmasında aşağıdaki sosyal bilim dallarından hangisi etkili olmuştur?**

- A) Astronomi
- B) Psikoloji
- C) Filoloji
- D) Arkeoloji

8.



Şekildeki mutlak konumları gösterilmiş olan M, K ve Y noktaları ile ilgili aşağıdaki bilgilerden hangisi kesinlikle yanlıştır?

- A) K noktası en büyük paralel dairesi üzerinde yer almaktadır.
- B) Y noktası Ekvator'un güneyinde yer alan bir bölgedir.
- C) Kutup noktasına en yakın yerde M noktası bulunmaktadır.
- D) M noktası Asya kıtasında yer almaktadır.

9.

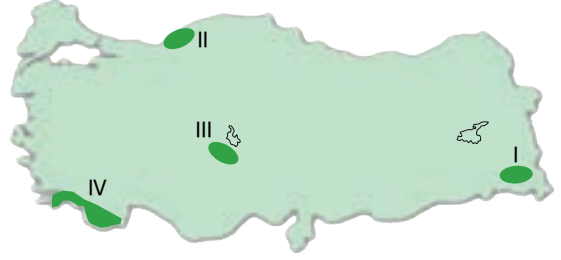


Karadeniz'de kıyıya paralel uzanan dağlar nemli hava kütlelerinin iç kesimlere girmesini engeller.

Buna göre dağların kıyıya paralel uzanması ile ilgili hangi seçenekte doğru bilgi verilmiştir?

- A) Dağların konumu iklimi etkiler.
- B) Deniz kenarındaki yerlerde iklim tipini dağlar belirler.
- C) Denize uzak olan bölgelerde yoğun yağış görülür.
- D) Dağ sırası olan bölgelerde ılıman iklim görülür.

10.



Haritada numaralandırılarak gösterilen yerlerin nüfus özellikleriyle ilgili aşağıdaki bilgilerden hangisi yanlıştır?

- A) I numaralı yerdeki nüfus, diğerlerinden fazladır.
- B) II numaralı yerde nüfuslanmayı etkileyen temel faktörler madencilik ve sanayidir.
- C) III numaralı yerde kuraklık nedeniyle nüfus seyrektiler.
- D) IV numaralı yer yaz aylarında daha çok mevsimlik tarım ve turizm işçisi ihtiyacına bağlı olarak göç alır.

11.



Görsellerde yola çıkılarak aşağıdaki sonuçlardan hangisine ulaşılamaz?

- A) Teknoloji her geçen gün daha da gelişmektedir.
- B) Önceki telefonlarda ses kalitesi daha iyidir.
- C) Teknoloji hayatımızı kolaylaştırmaktadır.
- D) Günümüzde görüntülü ve sesli görüşme mümkündür.

12. Hatice, Türkiye’de görülen iklim tiplerini incelemek için bir araştırma hazırlamak üzere kütüphaneye giderek çalışmalarına başlamıştır.

**Buna göre Hatice bilimsel araştırmanın hangi basamağındadır?**

- A) Konuyu belirleme
- B) Varsayımlarda bulunma
- C) Bilgi toplama
- D) Sınıflandırma yapma

13.

Bor mineralleri doğada karşımıza tuz şeklinde, bazı elementler ile karışmış biçimde çıkar. Dünyadaki en önemli kaynaklardan biri olan bor kaynakları en fazla Türkiye, ABD ve Rusya’da bulunmaktadır. Birçok alanda kullanılan bu maden en sık otomobil sektöründe, inşaat sektöründe, bilgisayar sistemlerinde, askerî teknoloji alanlarında kullanılmaktadır. İhracatı ve üretimi oldukça düşük olduğundan dolayı ülkemize var olan getirisi de düşüktür.

**Verilen metinde bor madeni ile ilgili aşağıdaki bilgilerden hangisine değinilmemiştir?**

- A) Doğada ne şekilde bulunduğu
- B) Kullanıldığı sektörlerin neler olduğuna
- C) Ülke ekonomisine katkısına
- D) Ülkemizdeki rezerv miktarına

14.

Lütfullah ailesiyle birlikte dağlık alanların geniş yer kapladığı bir bölgede yaşamaktadır. Bitki çeşidinin ve çam ağaçlarının çok olduğu bu yerde ülke ekonomisine katkı sağlamak için hayvancılık faaliyeti yapmaya karar vermiştir.

**Buna göre Lütfullah’ın ailesinin aşağıdaki hayvancılık faaliyetlerinden hangisini yapması uygun olacaktır?**

- A) İpek böcekçiliği
- B) Arıcılık
- C) Tavukçuluk
- D) Küçükbaş hayvancılık

15.

Enerji üretiminde kullanılan petrol, kömür ve doğal gazın bilinçsizce çok hızlı şekilde tüketilmesi gelecekte bu kaynakların tükenmesine neden olacaktır. Ayrıca petrol, kömür ve doğal gazın yanması sonucunda ortaya çıkan karbondioksit gazı atmosferi kirleterek küresel ısınmanın ortaya çıkmasına neden olmaktadır. Bu durum, gelecek nesillerin yaşamını zorlaştıracaktır. Ortaya çıkacak sorunların en aza indirgenebilmesi için bazı önlemler almak gereklidir.

**Buna göre aşağıdakilerden hangisi metinde anlatılan sorunlara karşı alınabilecek önlemlerden biridir?**

- A) Yenilenemeyen enerji kaynaklarını daha çabuk tüketmek
- B) Kaynakları daha bilinçli kullanarak yenilenebilir enerji kaynaklarına yönelmek
- C) Petrol üretimine hız vererek enerji ihtiyacının tamamını karşılamak
- D) Fosil yakıtların kullanımını tamamen yasaklamak

16. Güney Doğu Anadolu Projesi (GAP) Fırat ve Dicle nehirlerinin sularının tarımda kullanılması ile tarımsal üretim ve verimlilik arttırılmak istenmiştir.

**Aşağıda verilenlerden hangisi GAP’in amaçlarından değildir?**

- A) Bölgede ekonomik yapıyı güçlendirmek
- B) Kırsal alanda verimliliği arttırmak
- C) Köyden kente göçü azaltmak
- D) Özel mülkiyeti sonlandırmak

17.



Verilen görsellere bakılarak vergi ile ilgili aşağıdaki yargılardan hanisine ulaşamaz?

- A) Birçok hizmet vergi sayesinde gerçekleşir.
- B) Ülkemiz verdiğimiz vergilerle güçlenir.
- C) Zenginlerden daha çok vergi alarak ülkemizi geliştirebiliriz.
- D) Vergi çocuklarımız için geleceği yatırımdır.

18.

Demokrasinin en iyi uygulandığı yönetim biçimi cumhuriyettir. Cumhuriyet yönetimlerinde ülke halkın oluşturduğu meclis ile yönetilir. Halk yönetimde kendisini temsil edecek kişileri belirli sürelerle seçer ve meclise gönderir. Bu sistemde egemenlik halka aittir. Kişi ya da grubun üstünlüğü yoktur. Kurallar meclisin oluşturduğu anayasa ile belirlenir ve ülke bu kurallara göre yönetilir.

Bu bilgilere göre;

- I. Cumhuriyet yönetiminde kanun üstünlüğü bulunur.
- II. Demokrasilerde yöneticilerin yetkileri sınırsızdır.
- III. Cumhuriyet yönetiminde millî egemenlik ön plandadır.

yargılarından hangilerine ulaşılabilir?

- A) I ve II
- B) I ve III
- C) II ve III
- D) I, II ve III

19.

“Herkes, sağlıklı ve dengeli bir çevrede yaşama hakkına sahiptir. Çevreyi geliştirmek, çevre sağlığını korumak ve çevre kirlenmesini önlemek devletin ve vatandaşın ödevidir.”

Anayasamızdaki 56. maddeye bakarak aşağıdakilerden hangisi söylenemez?

- A) Çevreyi korumak, sadece devletin görevidir.
- B) Sağlıklı yaşamak her vatandaşın hakkıdır.
- C) Çevre sağlığını korumak devletin ve vatandaşın görevidir.
- D) Devletin ve vatandaşın ortak görevleri vardır.

20.

Popüler kültürün yayılmasında en önemli etkenlerden biri de reklamlardır. Reklamlar ile pazarlanacak ürünü satmak daha kolay hâle gelmektedir. Bu durumdan en fazla etkilenen çocuklar ve gençlerdir. Pazarlamacılar onlara giyim kuşamından oyuncaklarına, kırtasiye ürünlerinden yaptıklarına kadar popüler kültür öğeleri olan sinema ve film karakterlerinin bulunduğu ürünleri pazarlamak için çabalamaktadır. Çocuklar ve gençler kendi tarihine ve kültürüne yabancılaşarak Keloğlan, Nasrettin Hoca, Battal Gazi gibi kültürel değerlerimiz yerine yabancı kültürlerin etkisine girmektedir.

Buna göre popüler kültürün aşağıdakilerden hangisine sebep olması beklenmez?

- A) Kültürel bozulmanın artmasına
- B) Toplumdaki tüketim kültürünün artmasına
- C) Reklamların daha az izlenmesine
- D) Çocukların ve gençlerin kendi kültürlerinden uzaklaşmasına

