



TEVFİK İLERİ İMAM HATİP ORTAOKULU

2017 - 2018 EĞİTİM ÖĞRETİM YILI

5. Sınıf GİRİŞ SINAVI

ADI – SOYADI	
T.C. KİMLİK NO	
OKULA KAYIT NO	

SORU SAYISI : 100

SINAV SÜRESİ : 120 Dakika

- 1 - Bu sınav, 2017 - 2018 Eğitim-Öğretim Yılı Tefik İleri İmam Hatip Ortaokulu'na yerleşecek öğrencilerin kavram düzeylerini ölçmek amacıyla hazırlanan "GİRİŞ SINAVI"dır.
- 2 - Sınav toplam 100 soru ve Türkçe, Matematik, Din Kültürü ve Ahlak Bilgisi, Fen Bilimleri ve Sosyal Bilgiler testlerinden oluşmaktadır. Her test 20 sorudan ibarettir.
- 3 - Soruların cevaplarını Cevap Kağıdında ait olduğu sütuna işaretleyiniz.
- 4 - Cevap Kağıdında, Adı-Soyadı, T.C. Kimlik Numarası ve Öğrenci No bölümlerini kodlamayı unutmayınız.

**SINAVA BAŞLAMADAN ÖNCE
KİTAPÇIĞIN ARKA KAPAĞINDAKİ UYARILARI MUTLAKA OKUYUNUZ.**

TÜRKÇE TESTİ

1. Bu testte 20 soru vardır.

2. Cevaplarınızı, cevap kâğıdının Türkçe Testi için ayrılan kısmına işaretleyiniz.

İlk 3 soruyu verilen şiire göre cevaplayınız.

Türkiye bir sıcak ülke
Güneşi kocaman bir nar.

Dağı dağ, denizi deniz
İnsanı insanca bakar.

Ayca konuşur, yıldızca
Bozkırda telli kavaklar.

Uzar yanık türkülerle
Yayla kokuşlu ırmaklar.

Suskun bir sızı gibidir
Gün sonu tüten ocaklar.

Türkiye bir uzak pınar
Her gece uykuma akar.

1. Bu şiir için **en uygun başlık** aşağıdakilerden hangisidir?

- A) Türk İnsanı B) Türkiye
C) Türk Dili D) Tabiat Sevgisi

2. Bu şiirin şairi için aşağıdakilerden hangisi söylenebilir?

- A) Çocukluğuna özlem duymaktadır.
B) Doğayı korumamız gerektiğini savunur.
C) Mevsimlerden en çok yazı sevmektedir.
D) Türkiye'den ayrı yaşamaktadır.

3. Bu şiirde Güneş ile ilgili aşağıdakilerden hangisine ulaşılabılır?

- A) Sapsarı gözükmetedir.
B) Nar gibi kırmızıdır.
C) Akşamları iyice kaybolmaktadır.
D) İnsanlığa birçok faydası vardır.

4. Temiz çocuk hasta olmaz. Hiç hastane yüzü görmez.


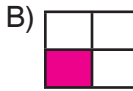

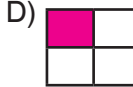
Yukarıda geçen "temiz çocuk" sözüyle anlatılmak istenen nedir?

- A) Kimseyi üzmemeyen
B) Büyüklerini sayan
C) Arkadaşlarını seven
D) Vücut temizliğine dikkat eden

5.

boya	bakraç
bina	bot

Bu tabloda sözlükte başta yer alan kelimenin bulunduğu kutucuk boyandığında hangi görüntü oluşur?

- A)  B) 
C)  D) 

TÜRKÇE TESTİ

6. Bir fabldan alınan aşağıdaki dizelerin hangisinde “canlı, hareketli, yoğun” anlamında bir kelime kullanılmıştır?

- A) Kurt bir akşam acıkmıştı
Dağlara ava çıkmıştı
- B) Bakınarak sağa sola
Geldi en işlek bir yola
- C) Dedi: “Bu çok güzel bir yol
Bir kısmetim varsa eğer
- D) Ayağıma gelir kendi
Seçtiği yeri beğendi

7. Anadolu’yu baştan başa dolaşan bu sporcumuz ----

Bu söz aşağıdakilerin hangisiyle tamamlanırsa kişisel görüş dile getirilmiş olur?

- A) üç madalya kazandı.
- B) etkileyici kişiliğe sahiptir.
- C) Ankara doğumludur.
- D) hatıralarını kitaplaştırdı.

8. Aşağıdaki cümlelerin hangisinde düşsel öğelere yer verilmemiştir?

- A) Ağaçlardan birinde kuş yuvası vardı.
- B) Padişahın kızı bu ayna sayesinde devler ülkesine kaçtı.
- C) Leylek üzüntüsünü gizleyerek “Yine gelirim.” diye seslendi.
- D) Gökten üç elma düştü. İçlerinden üç güzel kız çıkıverdi.

9. Oya ilk kez ormana pikniğe gitmişti. Bu manzara karşısında çok etkilenmişti. Rüzgâr yüzüne vurdukça, güneş tenine işledikçe çığlık atmak geliyordu içinden.

Bu parçaya göre Oya ile ilgili hangisi söylenebilir?

- A) Hava karardıkça endişeleniyordu.
- B) Yabani hayvanlardan korkuyordu.
- C) Pikniğe gitmek onu mutlu etmişti.
- D) Annesi ve babasını çok özlemişti.

10. Adımlarım sıklaştıkça heyecanım büsbütün artıyordu.

Bu cümledeki altı çizili kelime, kişi ile ilgili aşağıdakilerden hangisini anlatmaktadır?

- A) Yürüyüşünü hızlandırdığını
- B) Evinden gitgide uzaklaştığını
- C) Uzun zamandır yürüdüğünü
- D) Sessiz adımlarla ilerlediğini

11. İncir ağacı başkuş gibidir. Viranelikleri, yıkık duvar aralarını, eski bina ve camilerin damını, tepesini bazen de hiç akla gelmeyecek yerleri çok sever. Oralarda kendi kendine yetişir.

Bu metinde aşağıdaki hangi varlıklar arasında benzerlikten söz edilmiştir?

- A) İncir ağacı - baykuş
- B) Ev - araba
- C) Camilerin damı - dağların tepesi
- D) İnsan - ağaç

TÜRKÇE TESTİ

12. Bakma sana bir ad verdiklerine
Yerle gök arasında bir karaltısın
Ve bütün dünya seni unutmuş
Sanki kim bilecek yaşadığını
Gelmese dallarına birkaç fakir kuş
Bu şiirde şair aşağıdakilerden hangisine seslenmektedir?

- A) Buluta B) Ağaca
C) İnsana D) Dağlara

13. "Türk kahvesi" sözü dünya literatürüne geçmiştir. Ancak ünlene kahve bitkisi değil, kahvenin yapılış şeklidir. Çünkü Türkiye'de kahve bitkisi yetiştirilmez. Türkiye'nin konumu bu bitki için uygun basınç alanlarına sahip değil.

Bu parçaya göre kahve bitkisinin Türkiye'de yetişmeme sebebi hangisidir?

- A) Türkiye'nin iklim koşullarının uygun olmaması
B) Kahve ihtiyacının büyük kısmının dışarıdan giderilmesi
C) Türkiye'de kahve bitkisini yetiştirmenin yüksek maliyet gerektirmesi
D) Yeterli miktarda tarım alanlarının olmayışı

14. Kabına sığmaz, cin gibi bir halk çocuğu olarak alt tabakanın diliyle şiire girdi. Olay ve olguları, toplumsal açıdan ele aldığı pek belli olan ince bir alayla anlattı. 1960'tan sonra sözcüklerle oynamaya ağırlık veren kapalı bir şiir anlayışını yeğledi.

Aşağıdakilerden hangisi bu şairin kelime kullanımında titiz davrandığını anlatmaktadır?

- A) Kabına sığmaz bir halk çocuğu olmak
B) İnce bir alayla anlatmak
C) Olaylara toplumsal açıdan bakmak
D) Sözcüklerle oynamaya ağırlık vermek

15. (I) Matematiğin durağan olduğunu söyler dururuz. (II) Bu düşünce yanlış ve yanıltıcıdır. (III) Kuşkusuz matematiğin yaratıcı olmayan dönemleri olmuştur. (IV) Ancak içinde bulunduğumuz dönem matematiksel gelişme yönünde buna örnek verilemez.

Bu parçada numaralanmış cümlelerin hangisinde kesinlik bildiren ifadeye yer verilmiştir?

- A) I B) II
C) III D) IV

TÜRKÇE TESTİ

16. Bilinen en yırtıcı kuş, tarih öncesi çağlarda yaşamış olan diatrymia kuşudur. Boyu 3 metreyi bulan diatrymia karada bile 70 km hızla koşabiliyordu.

Bu metinde diatrymia ile ilgili aşağıdakilerin hangisinden söz edilmiştir?

- A) Beslenme alışkanlıkları
- B) Genel özellikleri
- C) Denizde yaşadıkları
- D) Neslinin tükenmeye başladığı

17. Aşağıdaki cümlelerin hangisinde “özne” nin altı çizilmiştir?

- A) Elimi sımsıkı tuttu.
- B) Kalemi banaya uzattı.
- C) Kalabalık birazdan dağılır.
- D) Konuşulanları herkes duydu.

18. Hangisinde yapılmakta olan bir işten bahsedilmektedir?

- A) Hoca komşusuna olanları anlatır.
- B) Yanımıza çok az yiyecek almıştık.
- C) Kardeşim yan odada ders çalışıyor.
- D) O şiddetli yağmur biraz önce dindi.

19. Aşağıdakilerden hangisinin sonunda nokta işareti kullanılamaz?

- A) Geç oldu, yatalım
- B) Hey, arkadaşlar
- C) Otobüs ilerde durdu
- D) Yarışmayı kazandık

20. Sürekli yer altı tünelleri, hızlı trenler yapılıyor.

Altı çizili kelime ile ilgili hangisi söylenebilir?

- A) Özel isimdir.
- B) Nitelik bildiren sıfattır.
- C) Eylem bildirmektedir.
- D) Sayı anlamına sahiptir.

MATEMATİK TESTİ

1. Bu testte 20 soru vardır.

Cevaplarınızı, cevap kâğıdının Temel Matematik Testi için ayrılan kısmına işaretleyiniz.

$$\begin{array}{r} 3\ 5\ 2\ 6 \\ \square 7\ \triangle 4 \\ + \star 19 \\ \hline 6\ 1\ 0\ 9 \end{array}$$

Yukarıdaki toplama işlemine göre $\square + \triangle + \star$ kaçtır?

- A) 14 B) 15 C) 16 D) 17

2. Aşağıda iki iç açısının ölçüsü verilen üçgenlerden hangisi dar açılı üçgendir?

- A) $45^\circ, 45^\circ$ B) $62^\circ, 48^\circ$
C) $23^\circ, 67^\circ$ D) $34^\circ, 54^\circ$

3. Bir bölme işleminde bölüm 18, bölün 12'dir.

Buna göre bölünen sayı en fazla kaç olabilir?

- A) 217 B) 206
C) 207 D) 208

4. Yiğit 18.40'da kitap okumaya başlıyor. 1 saat 5 dakika kitap okuyup 20 dakika mola veriyor. Sonra 45 dakika daha kitap okuyor.

Buna göre Yiğit'in kitap okuması saat kaçta bitmiştir?

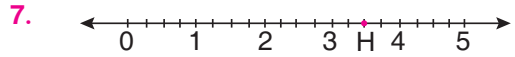
- A) 20.40 B) 20.45
C) 20.50 D) 20.55

5. Aşağıdaki cümlelerin hangisinde olasılık bildiren bir kelime kullanılmamıştır?

- A) Havanın yağışlı olması muhtemeldir.
B) Bugün kar yağması imkânsızdır.
C) Ağaç dallarının rüzgârdan kırılması mümkündür.
D) Yağmur yağdıktan sonra gökkuşağı çıktı.

6. $0,36 > 0,3\square$ olması için \square yerine kaç farklı rakam yazılabilir?

- A) 3 B) 4 C) 5 D) 6



Yukarıda verilen sayı doğrusunda H noktasına karşılık gelen kesir aşağıdakilerden hangisidir?

- A) $3\frac{3}{4}$ B) $\frac{7}{2}$ C) $\frac{13}{4}$ D) $4\frac{1}{2}$

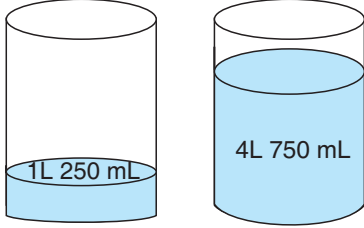
8. Bir sinema salonunda 10 sıra koltuk vardır. Her sırada 20 koltuk bulunmaktadır. Film başladığında koltukların $\frac{3}{4}$ 'ü dolmuştur.

Buna göre filmi kaç kişi izlemiştir?

- A) 150 B) 125 C) 75 D) 50

MATEMATİK TESTİ

9.



1. Kova

2. Kova

2. kovadaki suyun ne kadarı boşaltılırsa 1. kovadaki su miktarı ile eşit olur?

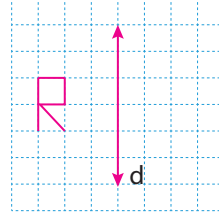
- A) 1 L 250 mL B) 1 L 500 mL
C) 1 L 750 mL D) 2 L 250 mL

10. Dikdörtgen şeklindeki bir kağıdın çevre uzunluğu 210 cm'dir. Bu kağıdın uzun kenarı kısa kenarının 4 katı uzunluğundadır.

Buna göre bu kâğıdın uzun kenarının uzunluğu kaç santimetredir?

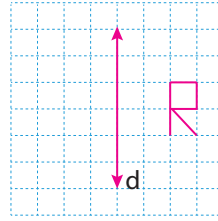
- A) 84 B) 63 C) 42 D) 21

11.

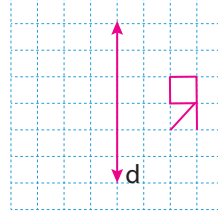


Kareli kağıda çizilmiş yukarıdaki şeklin d doğrusuna göre simetriği aşağıdakilerden hangisidir?

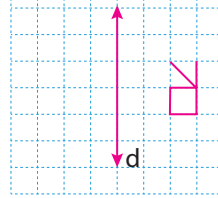
A)



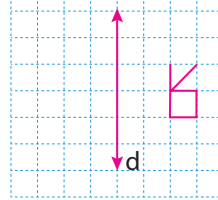
B)



C)

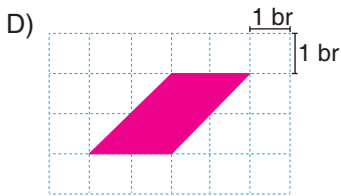
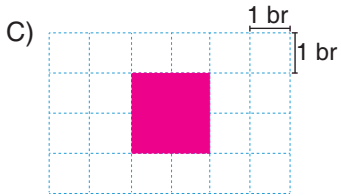
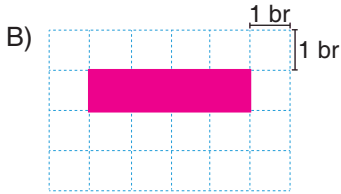
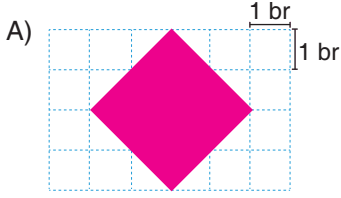


D)

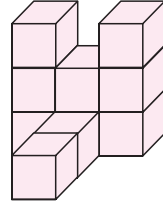
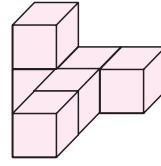


MATEMATİK TESTİ

12. Aşağıda kareli kağıtta verilen şekillerden hangisinin alanı diğerlerinden farklıdır?



13.



I

II



1 birimküp

Yukarıdaki II numaralı yapıdan kaç birimküp alınıp I numaralı yapıya konulursa her iki yapıdaki birimküp sayısı eşit olur?

- A) 1 B) 2 C) 3 D) 4

14. $\blacksquare \frac{1}{6} + 2 \blacktriangle = 3 \frac{4}{\star}$

Yukarıda iki tam sayılı kesrin toplama işlemi verilmiştir.

Buna göre $\blacksquare + \blacktriangle + \star$ kaçtır?

- A) 9 B) 10
C) 11 D) 12

15. Ardışık 4 tane çift doğal sayının toplamı 60'tır.

Buna göre 1. ve 3. sıradaki sayıların toplamı kaçtır?

- A) 28 B) 30
C) 32 D) 34

MATEMATİK TESTİ

16.



Yukarıda verilen dikdörtgen şeklindeki bir karton, simetri doğrularından biri boyunca kesildiğinde iki karesel bölge elde ediliyor. Elde edilen karelerden birinin çevre uzunluğu 40 cm'dir.

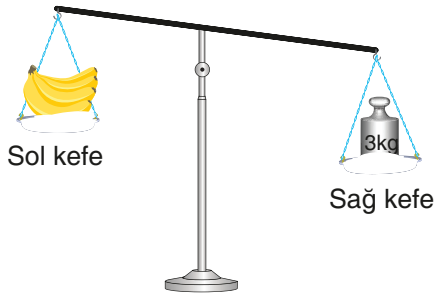
Buna göre kartonun kesilmeden önceki çevresinin uzunluğu kaç santimetredir?

- A) 60 B) 80
C) 100 D) 120

17. 6043 sayısındaki rakamlardan hangilerinin yeri değiştirilirse oluşan sayı 4000'den küçük olur?

- A) 3 ile 4 B) 4 ile 6
C) 3 ile 6 D) 4 ile 0

18.



Yukarıdaki eşit kollu terazinin sol kefesinde 1 kg 600 g muz vardır.

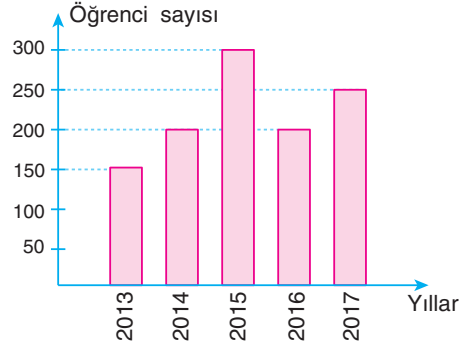
Terazinin dengede olması için sol kefeye kaç gram daha muz konmalıdır?

- A) 1200 B) 1400
C) 1600 D) 1800

19. Aşağıda verilen eşitliklerden hangisi yanlıştır?

- A) 5040 m = 5 km 40 m
B) 7 m 46 cm = 746 cm
C) 835 m = 8 m 35 cm
D) 475 mm = 4 cm 75 mm

20. Grafik: Okula Kayıt Yaptıran 5. Sınıf Öğrenci Sayısı



Bir okulun son 5 yılda kayıt yaptırdığı 5. sınıf öğrenci sayılarının yıllara göre dağılımı yukarıdaki grafikte verilmiştir.

Buna göre aşağıdaki ifadelerden hangisi yanlıştır?

- A) Kayıt yaptıran öğrenci sayısının en fazla olduğu yıl 2015 yılıdır.
B) 2013 yılında kayıt yaptıran öğrenci sayısı 2015 yılındakinin yarısıdır.
C) 2014 ve 2016 yıllarında kayıt yaptıran öğrenci sayıları eşittir.
D) Kayıt yaptıran öğrenci sayısının en az olduğu yıl 2017 yılıdır.

DİN KÜLTÜRÜ VE AHLAK
BİLGİSİ TESTİ

1. Bu testte 20 soru vardır.

2. Cevaplarınızı, cevap kâğıdının Din Kültürü ve Ahlak Bilgisi Testi için ayrılan kısmına işaretleyiniz.

1. Her sabah dükkanı dedemle birlikte açarız. Dedem; Bismillahirrahmanirrahim der, kepengi kaldırır ve kapıyı öyle açardı. Nedenini sorduğumda da “Bereket için, huzur için, mutluluk için.” derdi.

Buna göre verilen hikayede geçen “Bismillahirrahmanirrahim” ifadesinin anlamı aşağıdakilerden hangisidir?

- A) Allah’ın rahmeti üzerinize olsun.
B) Rabbime şükürler olsun.
C) Hamd ve sena ancak alemlerin Rabbinedir.
D) Esirgeyen ve bağışlayan Allah’ın adıyla.

2. I. Elhamdülillah
II. Allah rahmet eylesin
III. Allah’a emanet ol
IV. Rast gele

Günlük dilde kullanılan yukarıdaki ifadelerden hangisi din ile ilişkilendirilemez?

- A) I B) II C) III D) IV

3.

KAVRAM	TANIM
I. Sevap	Allah rızasını elde etmek için yapılan her türlü hayır işi
II. Şükür	Allah’a duyulan minneti, şükranı dile getirme
III. Günah	Dini bakımdan suç sayılan iş
IV. Müslüman	İslam dinine karşı olan kimse

Bu tabloda yer alan kavramlardan hangisinin tanımı yanlış verilmiştir?

- A) I B) II C) III D) IV

4. **Aşağıda verilen bilgilerden hangisi yanlıştır?**

- A) İnsan, aklını kullanarak Allah’a ulaşamaz.
B) İnsanlar manevi ihtiyaçları sonucunda bir dine inanırlar.
C) Din, insanı iyiye ve güzele yönlendirir.
D) İnsan, dinini öğrenerek hayatını daha anlamlı hale getirir.

DİN KÜLTÜRÜ VE AHLAK
BİLGİSİ TESTİ

5. Süphaneke Duası namazın hangi aşamasında okunur?

- A) Ayşe: Vakit namazlarının ilk rekâtının başında
- B) Leyla: Namazların birinci ve ikinci rekâtlarının başında
- C) Demir: Namazların ara oturumunda
- D) Alp: Namaza başlamadan önce

6. Namaz için gerekli şartlardan birisi de temizliktir.

Buna göre aşağıdakilerden hangisi namazla ilgili temizlik olarak değerlendirilir?

- A) Rekat
- B) Abdest
- C) Rükû
- D) Tahiyat

7. Hz. Muhammed (sav) yemekten önce ve sonra?..... yıkamış ve ümmetinin de bu şekilde davranmasını istemiştir.

Bu parçada “?” ile belirtilen yere aşağıdakilerden hangisi yazılmalıdır?

- A) Ellerini
- B) Ağzını
- C) Burnunu
- D) Ayaklarını

8. İslam dininde insanların zevk için hayvanları avlamaları yasaklanmıştır.

Buna göre İslam dini ile ilgili olarak aşağıdakilerden hangisine ulaşılabilir?

- A) Temizliğe önem vermiştir.
- B) İnsanların ekonomik durumlarına önem vermiştir.
- C) Doğayı korumaya önem vermiştir.
- D) Dini dürüstlüğüne önem vermiştir.

9.

A	M	İ	N	E	
B					
D					
U					
L					
L					
A					
H	A	T	İ	C	E

Verilen bulmacada aşağıdaki sorulardan hangisinin cevabı yoktur?

- A) Peygamber Efendimiz'in annesinin adı nedir?
- B) Peygamber Efendimiz'in babasının adı nedir?
- C) Peygamber Efendimiz'in ilk eşinin adı nedir?
- D) Peygamber Efendimiz'in amcasının adı nedir?

DİN KÜLTÜRÜ VE AHLAK
BİLGİSİ TESTİ

10. (I) Peygamber Efendimiz'e ilk vahiy 40 yaşındayken gelmiştir. (II) Peygamber Efendimiz Mekke halkı tarafından el-Emin olarak tanınmıştır. (III) Peygamber Efendimiz, annesinin vefatından sonra dedesinin himayesine girmiştir. (IV) Peygamber Efendimiz 632 yılında Mekke' de doğmuştur.

Hz. Muhammed (sav) ile ilgili yukarıda verilen bilgilerden hangisi yanlıştır?

A) I B) II C) III D) IV

11. Halime, Peygamber Efendimiz'in süt annesidir. Halime, bir gün Peygamber Efendimiz'i ziyarete gider. Süt annesini gören Hz. Muhammed (sav) hemen kalkar ve oturduğu yeri süt annesine verir.

Verilen bu hikayeye göre aşağıdaki-lerden hangisine ulaşılabilir?

- A) Hz. Muhammed (sav) komşu ziyaretlerine önem vermiştir.
B) Hz. Muhammed (sav) kendisini yetiştiren kişilere saygı göstermiştir.
C) Hz. Muhammed (sav) Kur'an eğitimi-ne önem vermiştir.
D) Hz. Muhammed (sav) adalete önem vermiştir.

12. Peygamberlerin sonuncusu olan Hz. Muhammed (sav) Mekke halkı tarafından güvenilir bir insan olarak biliniyordu. Ayrıca Hz. Muhammed (sav) Erdemli bir insandır.

Aşağıdakilerden hangisi Hz. Muhammed'in (sav) erdemli davranışlarına örnek oluşturmaz?

- A) Herkese eşit davranışlar sergilemesi
B) Her zaman doğruyu konuşması
C) İnsanlar arasında ayırım yapmaması
D) Bir peygamber olması

13.



Numaralandırılmış ifadelerden hangisi Peygamber Efendimiz'e ait davranışlar arasında yer almaz?

A) 1 B) 2 C) 3 D) 4

14. Aşağıda verilen kavramlardan hangisi Kur'an-ı Kerim ile ilgili değildir?

- A) Ayet
B) Süre
C) Cüz
D) Rükû

15. İlk ayet geldiğinde 40 yaşındaydı. Hira Nur Mağarası'ndaydı. "Oku!" diyordu O'na Cebrail. Hz. Muhammed (sav) de "Ben okuma bilmem." diyordu.

Bu hikayede aşağıdaki sorulardan hangisinin cevabı yoktur?

- A) İlk ayet nerede indi?
B) Hz. Muhammed (sav) kaç yaşında peygamber oldu?
C) Ayetleri getiren vahiy meleğinin adı nedir?
D) Kur'an'da toplam kaç süre vardır?

DİN KÜLTÜRÜ VE AHLAK
BİLGİSİ TESTİ

16.



I



II



III



IV

Verilen görsellerden hangisi diğerlerinden farklı bir özelliğe sahiptir?

- A) I B) II C) III D) IV

17. Hz. Muhammed'in (sav) vefatından sonraki döneme Dört Halife Dönemi denir. Bu dönem "Cumhuriyet Dönemi" olarak da bilinmektedir.

Dört Halife Dönemi'ne "Cumhuriyet Dönemi" denmesinin sebebi aşağıdakilerden hangisidir?

- A) Halifeler seçimle işbaşına geldikleri için
B) Cumhuriyet ilan edildiği için
C) Belirli bir süre görevde kaldıkları için
D) Kur'an-ı Kerim bu dönemde çoğaltıldığı için

18.



Sevgi ve saygının olduğu bir toplumda aşağıdakilerden hangisi görülmez?

- A) Hediyeleşmek
B) Yardımlaşmak
C) Güler yüzlü davranmak
D) İftira etmek

19. (I) İyi bir dost ile sevinçlerimiz kadar üzüntülerimizi de paylaşırız. (II) İyi bir dost, bize her konuda destek verir. (III) İyi bir dost sadece işine geleni söyler. (IV) İyi bir dost, arkadaşının yalnız kalmasını istemez.

Verilen bu parçadaki numaralandırılmış cümlelerden hangisinin belirttiği yargı yanlıştır?

- A) I B) II C) III D) IV

20. **Peygamber Efendimiz'in Veda Hutbesi'nde geçen "Ey insanlar!" ifadesi İslam dininin hangi özelliği ile ilgilidir?**

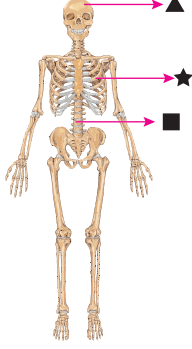
- A) Evrenselliğiyle
B) Semavi olmasıyla
C) Son din olmasıyla
D) Vahiy dini olmasıyla

FEN BİLİMLERİ TESTİ

1. Bu testte 20 soru vardır.

2. Cevaplarınızı, cevap kâğıdının Fen Bilimleri Testi için ayrılan kısmına işaretleyiniz.

1.



Yukarıda iskelet kısımlarından bazıları ▲, ■ ve ★ sembolleri ile gösterilmiştir.

Buna göre bu kısımların görevleri ile ilgili;

- I. ▲, beyni dış etkilerden korur.
- II. ■, vücudun dik durmasını sağlar.
- III. ★, kalp ve akciğer gibi organları korur.

İfadelerinden hangileri doğrudur?

- A) Yalnız ▲
- B) ▲ ve ■
- C) ■ ve ★
- D) ▲, ■ ve ★

2. Aşağıdakilerden hangisi destek ve hareket sistemi sağlığı için yapılması gereken davranışlardan biri değildir?

- A) Her öğünde süt ve süt ürünleri tüketilmeli
- B) Düzenli spor yapılmalı
- C) Uyku düzenine dikkat edilmeli
- D) Ağır yükler kaldırılmamalı

3.

- | | |
|---|------------------------------------|
| 1 | Akciğerlerdeki hava dışarı atılır. |
| 2 | Diyafram kası gevşer. |
| 3 | Diyafram kası düzleşir. |
| 4 | Göğüs kafesi aşağı iner. |

Merve soluk verirken gerçekleşen olayları yukarıdaki kartlara yazmıştır.

Buna göre Merve kaç numaralı kartta hata yapmıştır?

- A) 1
- B) 2
- C) 3
- D) 4

4.

	Damarlar, kanın vücutta dolaşımını sağlar.
	Kan, karbondioksit gibi atık maddeleri taşır.
	Nabız, pompalanan kanın damarlarda oluşturduğu etkidir.

Verilen ifadelerde doğru olanların başındaki kutucuğa "D", yanlış olanların başındaki kutucuğa "Y" yazılırsa aşağıdakilerden hangisine ulaşılır?

- A)

D
Y
D
- B)

D
D
D
- C)

Y
Y
D
- D)

D
D
Y

FEN BİLİMLERİ TESTİ

5.

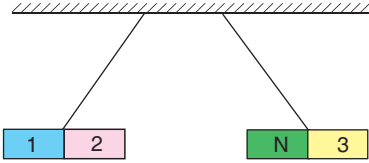


Ali arkadaşlarıyla futbol oynarken kendisine doğru gelen topa vurmuş ve gol atmıştır.

Buna göre Ali'nin topa uyguladığı kuvvetin etkisi aşağıdakilerin hangisinde doğru verilmiştir?

- A) Yön değiştirme
- B) Hızlanma
- C) Şekil değiştirme
- D) Yavaşlama

6.

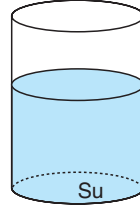


K ve L mıknatısları yan yana asıldığında konumları şekildeki gibi oluyor.

Buna göre bu mıknatıslarda 1, 2 ve 3 numara ile gösterilen mıknatıs kutupları aşağıdakilerin hangisinde doğru verilmiştir?

	1	2	3
A)	N	S	N
B)	S	N	N
C)	S	N	S
D)	N	S	S

7.



- → demir
- → plastik
- → cam

Elif bir kap içerisinde bulunan suya eşit kütle ve büyüklükteki demir, plastik ve camdan yapılmış bilyeleri sırasıyla atıyor.

Buna göre bilyenin suda yüzme - batma durumlarına göre sınıflandırılması aşağıdakilerin hangisinde doğru verilmiştir?

	Demir	Plastik	Cam
A)	Yüzer	Batar	Yüzer
B)	Batar	Yüzer	Batar
C)	Yüzer	Yüzer	Batar
D)	Batar	Yüzer	Yüzer

8.

- Belirli bir şekli vardır.
- Sıkıştırılmaz.
- Kütle ve hacmi vardır.

Yukarıda özellikleri verilen madde aşağıdakilerden hangisi olabilir?

A)



Portakal suyu

B)



Taş

C)



Su buharı

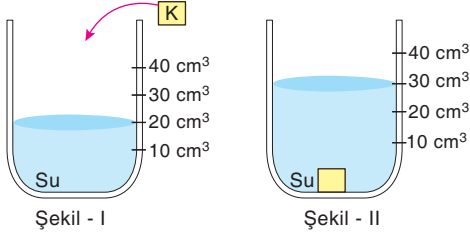
D)



Su

FEN BİLİMLERİ TESTİ

9.



K maddesi Şekil-I'deki kap içerisine atıldığında kap içerisinde bulunan sıvı seviyesi Şekil-II'deki gibi oluyor.

Buna göre bu deney ile ilgili aşağıdakilerden hangisi doğrudur?

- A) K maddesinin kütlesi belirlenebilir.
- B) K maddesinin kütlesi 30 gramdır.
- C) Suyun ilk hacmi 30 cm³ tür.
- D) K maddesinin hacmi 10 cm³ tür.

10. Mert buzluktan çıkardığı buzları bir sürahinin içine boşaltıyor ve buzların bir süre sonra sıvı hâle geçtiğini gözlemliyor.

Buna göre,

- I. Buz hâl değiştirmiştir.
- II. Gerçekleşen olaya erime adı verilir.
- III. Buza soğutma işlemi uygulanmıştır.

İfadelerinden hangileri doğrudur?

- A) Yalnız I
- B) I ve II
- C) II ve III
- D) I, II ve III

11. çakıl taşı + kum • • süzme
demir tozu + un • • eleme
talaş + su • • mıknatıslanma

Verilen karışımlar ile karışımları ayırma yöntemlerinin doğru eşleştirilmiş hâli aşağıdakilerden hangisinde verilmiştir?

- A) B) C) D)

12. **Aşağıda uygun aydınlatma için verilen bilgilerden hangisi yanlıştır?**

- A) Işık kaynakları, aydınlatılacak yere uygun şekilde yönlendirilmelidir.
- B) Işığın göze doğrudan gelmemesine dikkat edilmelidir.
- C) Uygun aydınlatma için fazla ışık kaynağı kullanılmalıdır.
- D) Ortamın aydınlatılması kullanım amacına uygun olmalıdır.

FEN BİLİMLERİ TESTİ

13. Aşağıdakilerden hangisi ses düzeyini değiştiren teknolojik aletlerden biridir?

A)



Megafon

B)



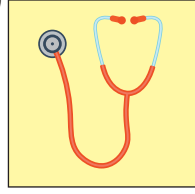
Kaset

C)



Gramofon

D)



Steteskop

14. Mikroskopik canlılar ile ilgili aşağıdaki öğrencilerden hangisinin söylediği bilgi yanlıştır?

A)



Yağmur

Mikroskopik canlıların hepsi zararlıdır.

B)

Yiyeceklerin bozulmasına ve küflenmesine neden olurlar.



Mert

C)



Merve

Sütten yoğurt oluşmasını sağlarlar.

D)

Besin zehirlenmelerine neden olurlar.



Emre

15. Aşağıdakilerden hangisi çevre kirliliğinin doğal nedenlerinden biri değildir?

A) Depremler

B) Seller

C) Yanardağ patlamalar

D) Ormanlık alanların tahrip edilmesi

16. • Fabrika bacalarına filtre tekılmalı
• Gübre ve tarım ilaçları bilinçli kullanılmalı
• Geri dönüşümü mümkün olan atıklar ayrı ayrı toplanmalı
• Ağaçlık alanlar azaltılmalı

Verilenlerden kaç tanesi çevre kirliliğini azaltmak için yapılması gerekenlerdendir?

A) 1

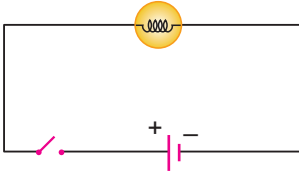
B) 2

C) 3

D) 4

FEN BİLİMLERİ TESTİ

17.



Yukarıda elektrik devresi ile ilgili,

- ▲ Ampul ışık verir.
- Açık devredir.
- ★ Devrede ampul, anahtar ve pil kullanılmıştır.

ifadelerinden hangileri doğrudur?

- A) Yalnız ★ B) ▲ ve ■
C) ■ ve ★ D) ▲, ■ ve ★

18.

A	N	A	H	T	A	R
M						
P	İ	L				
U						
L						

Aşağıdakilerden hangisi bulmacadaki elektrik devre elemanlarından birinin özelliği değildir?

- A) Elektrığın iletilmesini sağlar.
B) Devreye elektrik enerjisi verir.
C) Elektrik enerjisini ışık enerjisine dönüştürür.
D) Devredeki elektrik enerjisini kontrol eder.

19. Aşağıdakilerden hangisi Dünya'nın kendi etrafında dönmesi sonucunda meydana gelen olaylardan biridir?

- A) Mevsimlerin oluşumu
B) Gece ve gündüz oluşumu
C) Yerel saat farklılıklarının oluşması
D) Kara ve denizlerde sıcaklık farklarının oluşması

SOSYAL BİLGİLER TESTİ

1. Bu testte 20 soru vardır.

2. Cevaplarınızı, cevap kâğıdının Sosyal Bilimler Testi için ayrılan kısmına işaretleyiniz.

1. "Sevgide güneş gibi ol
Dostluk ve kardeşlikte
Akarsu gibi ol, hataları
Örtmede gece gibi ol."

Mevlana

Bu dörtlükte aşağıdaki kavramlardan hangisi öne çıkmaktadır?


- A) Hoşgörü B) Disiplin
C) Temizlik D) Gurur

2. Annesi, Alper'in haftalardır uğraş verdiği performans ödevine yanlılıkla su dökmüştür.

Buna göre Alper'in aşağıdaki duygulardan hangisini yaşamaması beklenir?

- A) Sevinçli B) Öfkeli
C) Ön yargılı D) Hoşgörülü

3.



Verilen görselden bir kişi ile ilgili aşağıdaki bilgilerden hangisine ulaşamaz?

- A) Adı B) Soyadı
C) Baba adı D) Arkadaşının ismi

4.



Verilen görsellerden hangisi millî kültürümüzü yansıtan unsurlar arasında yer almaz?

- A) I B) II C) III D) IV

5.



Görselde yer alan bu belgeyi aşağıdaki kurumlardan hangisi vermektedir?

- A) Muhtar
B) Belediye
C) İl Özel İdaresi
D) Nüfus Müdürlüğü

SOSYAL BİLGİLER TESTİ

6. Volkan'ın dedesi yıllar önce Kazım Karabekir'in komutasında Ermenilerle mücadele ettiğini ve bu mücadelede gazi olduğunu anlatmıştır.

Buna göre Volkan'ın dedesi Kurtuluş Savaşı'nda hangi cephede savaşmıştır?

- A) Doğu B) Batı
C) Güney D) Kafkas

7. Mustafa Kemal'in Millî Mücadele'yi başlattığı şehir aşağıdakilerden hangisidir?

- A) Ankara B) Samsun
C) Erzurum D) Edirne

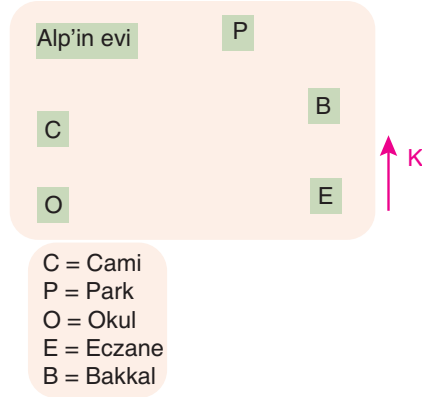
8. Mehmet'e alınan hediyelerden bazıları şunlardır:

- I. Birinci yaş gününde annesinin aldığı oyuncak
II. Doğduğunda babasının aldığı kapı süsü
III. Okula başlarken dedesinin aldığı çanta
IV. Okuma bayramında abisinin aldığı kitap

Mehmet bu hediyeleri tarihsel olarak sıralamak isterse ilk sırada yer alacak hediye aşağıdakilerden hangisidir?

- A) Kitap B) Kapı süsü
C) Çanta D) Oyuncak

9.



Verilen krokiye göre okul Alp'in evinin neresindedir?

- A) Kuzeyinde
B) Güneyinde
C) Güneydoğusunda
D) Kuzeybatısında

TEVFİK İLERİ ANADOLU İMAM-HATİP LİSESİ

10. Aşağıdakilerden hangisi çevremizde yer alan doğal unsurlardan biri değildir?

A)



Dağ

B)



Göl

C)



Orman

D)



Hastane

SOSYAL BİLGİLER TESTİ

11.

Günler	Hava Olayları
Pazartesi	
Salı	
Çarşamba	

Bu tablodan aşağıdakilerden hangisi çıkarılabilir?

- A) Pazartesi günü hava yağmurludur.
- B) Çarşamba günü sis görülecektir.
- C) Hava iki gün yağmurlu olacaktır.
- D) Çarşamba günü hava karlıdır.

12.



Bu görselden İlk Çağ insanı için aşağıdaki bilgilerden hangisine ulaşılabılır?

- A) İletişim kurmaya çalışmaktadırlar.
- B) Tekerleği icat etmişlerdir.
- C) Duvar resmi yapmaktadır.
- D) Ateşi bulmuşlardır.

13. Aşağıdaki ürünlerden hangisinin tasarlanmasında doğadan yararlanılmıştır?

A)



B)



C)



D)



14.



Görselde verilen meslekler aşağıdaki ihtiyaçlarımızdan hangisini karşılamaya yöneliktir?

- A) Güvenlik
- B) Sağlık
- C) Ulaşım
- D) Beslenme

15.



Verilen ürünlerle ilgili aşağıdaki bilgilerden hangisine ulaşamaz?

- A) Garanti belgesi
- B) Üretildiği yer
- C) Son kullanma tarihi
- D) Kullanma kılavuzu

SOSYAL BİLGİLER TESTİ

16. Mehmet Ali Bey, yaşadığı mahallede ağaçların ve doğal çevrenin korunmasını istemekte, bu amaçla çalışmalarda bulunmaktadır. Hatta bu konularda bazı sosyal örgütlerden yardım talep etmiştir.

Mehmet Ali Bey aşağıdaki sosyal örgütlerin hangisinden yardım istemiş olabilir?

- A) Türk Böbrek Vakfı
- B) TEMA
- C) Yeşilay
- D) Türk Eğitim Vakfı

17. Kazım Karabekir, Kurtuluş Savaşı Dönemi'nde Türk-Ermeni ayrımı yapmaksızın 6 bin kadar yetim çocuğu himayesine alan önemli bir kişidir.

Buna göre yetim çocukları himayesine alan sosyal kuruluş aşağıdakilerden hangisidir?

- A) Sivil Savunma Teşkilatı
- B) Sosyal Hizmetler Çocuk Esirgeme Kurumu
- C) Darülaceze
- D) LÖSEV

18. Tüm öğrencilerin katıldığı okul başkanlığı seçimlerinde aday olan Kerem, oyların çoğunu alarak okul başkanı seçilmiştir.

Bu bilgilere göre aşağıdakilerden hangisine ulaşılabilir?

- A) Seçime sadece üst sınıf öğrencileri katılmıştır.
- B) Seçim demokratik ilkelere göre yapılmamıştır.
- C) Oy kullanma hakkı tüm öğrencilere verilmiştir.
- D) Okul başkanlığı seçimleri her yıl düzenli olarak yapılmaktadır.

19. Aşağıdakilerden hangisi Türkiye'de yer alan doğal unsurlardan değildir?

- A) Nemrut Dağı
- B) Yedigöller
- C) 15 Temmuz Şehitler Köprüsü
- D) Sakarya Irmağı

20. Hindular, her sabah Ganj Nehri'ne gider, suya girip çıktıktan sonra yüksekçe bir yere oturur ibadet ederler. Bu şekilde kötülüklerden arındıklarına inanırlardı.

Bu bilgiler aşağıdakilerden hangisiyle ilgilidir?

- A) Dinî inanç
- B) Yönetim biçimi
- C) Ekonomik hayat
- D) Eğitim



SINAV BAŞLAMADAN ÖNCE AŞAĞIDAKİ UYARILARI MUTLAKA OKUYUNUZ!

- 1 - Sınav kimlik bilgilerinizin doğruluğundan emin olunuz.
- 2 - Sınav başladıktan sonra çevrenizdekilerle konuşmayınız.
- 3 - Soruları cevaplamaya istediğiniz sorudan başlayabilirsiniz.
- 4 - Cevaplarınızı cevap anahtarındaki ilgili soru numarasını dikkate alarak uygun bölüme kodlayınız.
- 5 - Değiştirmek istediğiniz cevabı cevap anahtarına kodladığınızdan emin olunuz.
- 6 - Cevabını bilmediğiniz sorular üzerinde fazla zaman kaybetmeden diğer sorulara geçiniz. Zaman kalırsa bu sorulara daha sonra dönebilirsiniz.
- 7 - Sınav puanlarınızın hesaplanmasında sadece doğru cevaplarınız dikkate alınacaktır.
- 8 - Cevap anahtarınızı sınav süresince başkalarının göremeyeceği şekilde önünüzde bulundurunuz.
- 9 - Sınav sırasında sözlük, hesap makinası, cep telefonu ve bilgisayarınızın bu özelliklerini kullanmayınız.
- 10- Sınav süresince yerinizden ayrılmayınız.