



TEVFİK İLERİ ANADOLU İMAM HATİP LİSESİ 2021-2022 EĞİTİM ÖĞRETİM YILI

ADI - SOYADI:

T.C. KİMLİK NO:

7. SINIFLAR SIRALAMA SINAVI

1. Bu sınav 2021-2022 Eğitim-Öğretim Yılı Tevfik İleri Anadolu İmam Hatip Lisesi'ne yerleşecek öğrencilerin kavrama düzeylerini ölçmek amacıyla hazırlanan "SIRALAMA SINAVI"dır.
2. Sınav toplam 100 soru ve Türkçe, Matematik, Din Kültürü ve Ahlak Bilgisi, Fen Bilimleri ve Sosyal Bilgiler testlerinden oluşmaktadır. Her test 20 sorudan ibarettir.
3. Soruların cevaplarını cevap kağıdında ait olduğu sütuna işaretleyiniz.
4. Cevap kağıdında, Adı-Soyadı, T.C. Kimlik Numarası ve Öğrenci No bölümlerini kodlamayı unutmayınız.

1. Aşağıdakilerin hangisinde “aramak” kelimesinin cümlede kazandırdığı anlam yanlış verilmiştir?

- A) Çantasının içinde elleriyle bir şeyler aradı. (Birini veya bir şeyi bulmaya çalışmak)
- B) Tarlada verimi artırmak için yeni yöntemler arıyor. (Bir yöntem bulmaya çalışmak)
- C) Bir kere hastalandın mı, ne arayan olur, ne de soran! (Ziyarete, hatır sormaya gitmek)
- D) Sabahtan beri anahtarımı arıyordum. (Bir şeyin yokluğunu duyarak geri gelmesini istemek, özlemek)

2. Aşağıdaki cümlelerin hangisinde altı çizili deyim “görülmemek, farkına varılmamak” anlamında kullanılmıştır?

- A) Ben soruyu çözerken gözden kaçırmışım.
- B) O futbolcu antrenmanda göz doldurdu.
- C) Masanın üzerinde duran gazeteye bir göz gezdirdi.
- D) Çocuklara göz kulak olalım.

3. Kitap sevinçle bakarak çocuğa: – Geleceğe umutla baktınız. Hevesle bizleri okudunuz.

Yukarıdaki ifadelerde aşağıdaki söz sanatlarından hangisi vardır?

- A) Karşıtlık
- B) Benzetme
- C) Konuşturma
- D) Abartma

4. Dünyaya barış ve sevgiyi yaymak için en iyi yolun müzik olduğuna karar verdim. Benim hedefim düşüncelerimi müzikle anlatmaktı. Bu amaç için çok kitap okuyordum. Çünkü insan, başkalarına yararlı olmak istiyorsa önce kendisini iyi yetiştirmeliydi. Böylece dünyada barış ve huzurun sağlanması için evrensel değerleri anlatabilecektim.

Bu metinde aşağıdakilerden hangisi çıkarılamaz?

- A) Yazar, barış ve sevgiyi yaymak istiyor.
- B) Yazar, düşüncelerini müzikle anlatmayı istiyor.
- C) Yazar, dünyada barış ve huzuru sağlamıştır.
- D) Yazar, kitap okuyup topluma faydalı olmayı istiyor.





5. Tiyatro, bir duyguyu, düşüncüyü paylaşmak için ortaya çıkmıştır bence. Bu ortamın paylaşılması tiyatrocular kadar seyircilerle de ilgilidir. Buna bağlı olarak tiyatroyu seyirci ile iletişim kurmanın bir aracı olarak görmek gerekir.

Bu metinde tiyatroyla ilgili aşağıdakilerden hangisine değinilmiştir?

- A) Tiyatrocu ve seyirci arasında iletişim kurma görevine
B) Tiyatroyla daha çok seyirciye ulaşmak gerektiğine
C) Tiyatroda başarılı olmanın önemine
D) Tiyatronun çok faydalı bir sanat dalı olduğuna

6. 1) Ödevini yetiştirmek için çok çalışıyor.
2) Ona çok şey borçluyum.
3) İşim olduğu için toplantıya katılmadım.
4) Ödevini yetiştiremediği için çok üzüldü.

Yukarıdaki numaralanmış cümlelerin hangilerinde neden-sonuç ilişkisi vardır?

- A) 1 – 2 B) 2 – 3
C) 1 – 4 D) 3 – 4

7. **Aşağıdaki cümlelerde altı çizili sözcüklerden hangisi kişi zamiridir?**

- A) Q şarkılar ve türküler insanları çok etkiledi.
B) Q konuyu haftaya anlatacağım.
C) Q değerleri hepimiz yaşamalı ve yaşatmalıyız.
D) Q, İstanbul'daki konserime bile geldi.

8. 1. Bugün müzeyi çocuklarla gezdik.
2. Müzede Çanakkale Deniz ve Kara Savaşları'nın canlandırıldığı yere geldik.
3. Rehberimiz çok etkileyici bir konuşma yaptı.
4. Biz orada 250 bin şehit vermiştik.

Bu parçada numaralanmış cümlelerden hangisi öznel bir yargı içermektedir?

- A) 1 B) 2 C) 3 D) 4



9. Aşağıdakilerden hangisinde altı çizili sözcük yapım eki **almamıştır**?

- A) Huzurlu bir güne uyandık.
 B) Bu mendiller çok güzelmiş.
 C) Kütüphanede büyük bir kitaplık vardı.
 D) Etrafı büyük bir sessizlik kapladı.

10. İlk durağımız Antalya oldu. Bu Akdeniz şehrine bir ilkbahar sabahı girdik. Burada portakal ve limon ağaçları vardı. Parlayan bir güneş altında mis gibi kokan portakal ve limon çiçeklerinin eşsiz havası bize huzur veriyordu. Küçük bir otele yerleştik. Öğle vakti olmuştu. Yemeklerimizi yedikten sonra biraz dinlendik. Öğleden sonra rehberimizle birlikte şehri dolaşmaya karar verdik.

Bu metin aşağıdaki yazı türlerinden hangisine ait olabilir?

- A) Biyografi B) Mektup
 C) Gezi yazısı D) Tiyatro

11. Çocuk koşarak bahçeye geldi. Bahçede çalışmaktan yorulmuş olan annesini selamladı ve sevinçle ellerinden öptü. Çok mutluydu. Sınavdan çok yüksek not almıştı. Başarısında annesinin katkısı anlatılamayacak kadar fazlaydı.

Bu metinde aşağıdaki hikaye unsurlarından hangisi **yoktur**?

- A) Yer B) Olay
 C) Kişi D) Zaman

12. İnsanların en büyük hazinelerinden biri de dildir. Bu hazinede akıl, mantık ve gönül zenginliği vardır. Bu hazineden süzülüp gelen sözlerde, dinleyen insanlara huzur vardır. Bu sözlerle fethedilmeyecek kalp, bu tatlı sözlere direnecek insan olduğunu sanmıyorum. İyi ve güzel söz ile her türlü sorun çözülür, engeller aşılır. Yani tatlı dil yılanı deliğinden çıkarır.

Bu metinde aşağıdakilerden hangisine **vurgu** yapılmaktadır?

- A) İletişimde dilin olumlu etkisine
 B) İletişimde diline sahip çıkamamasına
 C) İletişimde söylediklerinden pişman oluşuna
 D) İletişimde insanların boş sözlerle avutulmasına



13. Çınar ağacı, genç yaşlardan itibaren genellikle hızlı bir büyüme gerçekleştirir. Oldukça uzun ömürlü bir ağaç türüdür. Yaşlı çınar ağaçlarının zaman içinde içleri çürür fakat yaşamlarını devam ettirebilirler. Bu ağaç çeşidi birçok araştırmacı tarafından incelenmektedir. Araştırma sonuçlarına göre kökleri oldukça sağlamdır. Üst kısmı geniş bir yapıdadır. Dalları dağınık ve kalındır. Yapraklarının uç kısımları sivri ve dişlidir. Bu ağaç her mevsim dikilebilir ve her türlü toprakta yetişebilir.

Bu metinde "çınar ağacı" hakkında aşağıdakilerden hangisine değinilmemiştir?

- A) Her mevsim dikimi yapılabilir oluşuna
- B) Kirli havayı temizleme özelliğinin oluşuna
- C) Birçok araştırmacı tarafından incelenmiş oluşuna
- D) Oldukça uzun ömürlü oluşuna

14. Sabah olmuştu. Uçsuz bucaksız buğday tarlaları güneşin altında altın gibi parlıyordu. Çok yakından cıvı cıvı kuş sesleri geliyordu. Köylüler, kuş cıvıltıları içinde sakin sakin çalışıyorlardı.

Bu metnin dil ve anlatım özellikleriyle ilgili aşağıdakilerden hangisi söylenemez?

- A) Olay, üçüncü kişi ağzından anlatılmıştır.
- B) İkilemelere yer verilmiştir.
- C) Benzetme yapılmıştır.
- D) Karşılaştırma yapılmıştır.

15. Aşağıdaki cümlelerde altı çizili ifadelerin hangisi düşüncenin akışını değiştirmiştir?

- A) Çok çalıştı fakat sınavdan istediği sonucu alamadı.
- B) Unuttuğum için toplantıya katılmadım.
- C) Uçak ile yolculuk çok güzel olmalı.
- D) Önce kitabını okudu ve sonra anlattı.

16. Hayalimde canım köyümün dağları, ovaları

Çocukluğumun geçtiği yerler
İçimde bir arzu
Size kavuşmak ister.

Bu şiire hakim olan duygu aşağıdakilerden hangisidir?

- A) Doğa sevgisi
- B) Yurt özlemi
- C) Verimli topraklara kavuşma
- D) Şehir hayatının güzelliği



17. Aşağıdaki cümlelerin hangisinde bıkkınlık anlamı vardır?

- A) Off! Yine aynı konudan bahsediyor.
- B) Ah memleketim ah! Seni çok özledim.
- C) Vah vah! Zavallı adam sabaha kadar hastanede beklemiş.
- D) Aaa! Sen de mi bizimle maça geleceksin?

19. Aşağıdaki cümlelerin hangisinde "de, da"nın yazımıyla ilgili bir yanlışlık yapılmıştır?

- A) Pilavın yanında bir bardak da su istedi.
- B) Sizi de görmek beni mutlu etti.
- C) Onları da bana verebilir misin?
- D) Annem gelmediği için ev de beklemem gerekiyordu.

18. Aşağıdaki cümlelerde altı çizili tamlamalardan hangisi isim tamlamasıdır?

- A) Adam yarım ekme yiyecek karnını doyurdu.
- B) Yeni evlerinden de memnun değildi.
- C) Dost kara günde belli olur.
- D) Ablamın kitabını kısa zamanda bitirmeliyim.

20. 1) Bahçeye çıkıp temiz ve güneşli havada biraz yürüyüş yaptıktan sonra ödevine devam etti.

2) Sabah erken uyandı.

3) Vakit ilerleyince biraz yorulduğunu fark etti.

4) Hemen kahvaltısını yaptı ve ödevlerine başladı.

Numaralanmış cümleler olayların oluş sırasına göre nasıl sıralanmalıdır?

A) 2 – 4 – 3 – 1 B) 1 – 2 – 3 – 4

C) 2 – 3 – 1 – 4 D) 3 – 4 – 2 – 1

1.



Yukarıda verilen şekil çevre uzunluğu 16 cm olan bir karedir.

Buna göre bu kareden istenilen kadar kullanılarak oluşturulan şekillerden hangisinin çevre uzunluğu santimetre cinsinden 4^3 sayısına eşittir?

- A) B) C) D)

2. Tiyatroda bilet kuyruğuna giren Metin baştan 43. sıradadır. Metin'in hemen arkasındaki Çetin ise sondan 37. sıradadır.

Buna göre kuyrukta toplam kaç kişi vardır?

- A) 78 B) 79
C) 80 D) 81

3.

18 cm ²	12 cm ²
A cm ²	16 cm ²

Yukarıda verilen şekil tüm kenar uzunlukları santimetre cinsinden tam sayı olan dört dikdörtgenin birleşmesi ile oluşturulmuştur.

Dikdörtgenlerin alanları içinde yazılı olduğuna göre A yerine aşağıdakilerden hangisi gelmelidir?

- A) 24 B) 26
C) 27 D) 30

4.

$$A = \left\{ \begin{array}{l} \text{Rakamları farklı, 3 basamaklı, en} \\ \text{küçük tek doğal sayıyı oluşturan} \\ \text{rakamlar} \end{array} \right\}$$

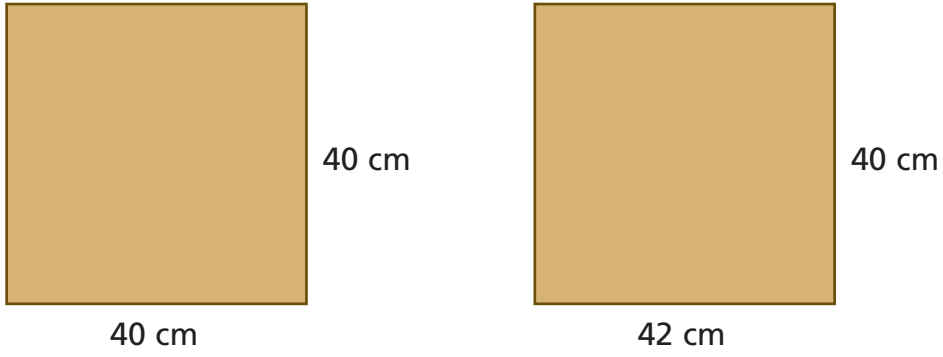
$$B = \left\{ \begin{array}{l} \text{Rakamları farklı, 4 basamaklı, en} \\ \text{küçük çift doğal sayıyı oluşturan} \\ \text{rakamlar} \end{array} \right\}$$

kümeleri veriliyor.

Buna göre $s(A \cap B)$ aşağıdakilerden hangisine eşittir?

- A) 1 B) 2
C) 3 D) 4

5.

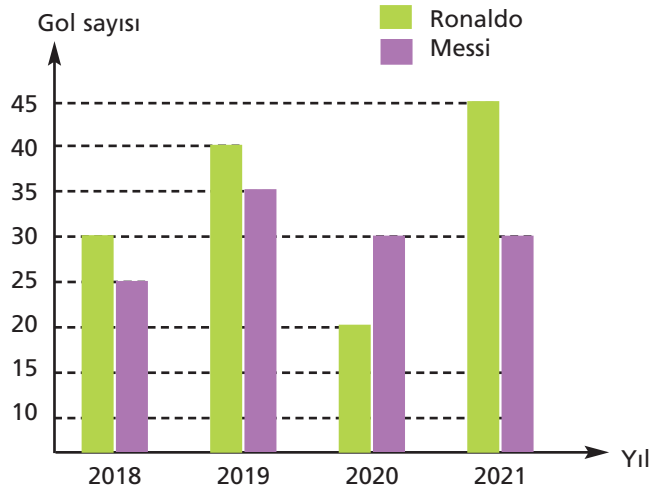


Şekilde verilen karenin alanı $A \text{ cm}^2$ ile gösterilirse, dikdörtgenin alanını veren cebirsel ifade aşağıdakilerden hangisi olur?

- A) $(A+40)\text{cm}^2$ B) $(A-40)\text{cm}^2$ C) $(A+80)\text{cm}^2$ D) $(A-80)\text{cm}^2$

6.

Grafik: Ronaldo ve Messi'nin Yıllara Göre Attıkları Gol Sayıları



Yukarıdaki grafik iki futbolcunun 4 yıl boyunca attıkları gol sayılarını göstermektedir.

Buna göre aşağıdaki ifadelerden hangisi **doğrudur**?

- A) Ronaldo 4 yılda toplam 145 gol atmıştır.
 B) Ronaldo 2020 ve 2021 yıllarında eşit sayıda gol atmıştır.
 C) Verilen 4 yılda her yıl Ronaldo, Messi'den fazla gol atmıştır.
 D) İki futbolcunun toplam attıkları gol sayısı en az 2020 yılındadır.

7. 15, 24, 18, 23 ve 14 yaşlarında 5 kişilik arkadaş grubuna bir kişi daha katılıyor. Yeni oluşan 6 kişilik grubun yaş ortalaması artıyor fakat yaşların açıklığı değişmiyor.

Buna göre yeni gelen kişinin yaşı aşağıdakilerden hangisi olabilir?

- A) 17 B) 18
C) 20 D) 25

8.



Tekir 500 mL'lik kabıyla her gün üç defa süt içiyor.

Buna göre Tekir, 2 günde kaç litre süt içer?

- A) 2 B) 3
C) 20 D) 30

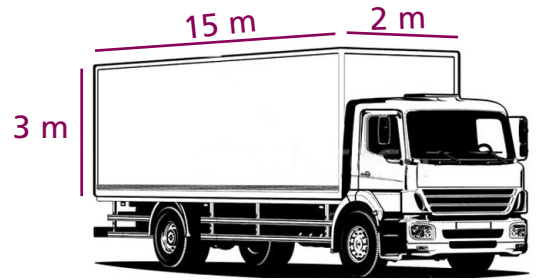
9.

$$4 + 5 \times 6 \div 3 - 2$$

işleminin sonucu kaçtır?

- A) 16 B) 14
C) 12 D) 10

10.



Şekilde ayrıt uzunlukları 2 m, 3 m ve 15 m olan dikdörtgenler prizması şeklinde kasalı bir tır gösterilmiştir.

Bu tır ile bir ayrıt uzunluğu 50 cm olan küp şeklindeki kolilerden en fazla kaç tane taşınabilir?

- A) 640 B) 680
C) 720 D) 800

11. Aşağıda Ali, Ece, Mete ve Ayşe'nin aynı anda çözmeye başladıkları bir deneme sınavını bitirme süreleri verilmiştir.

Ali: $1 \frac{1}{6}$ saat

Ece: $\frac{7}{4}$ saat

Mete: $\frac{11}{8}$ saat

Ayşe: $\frac{4}{3}$ saat

Buna göre, bu öğrencilerden hangisi soruları diğerlerinden daha hızlı çözmüştür?

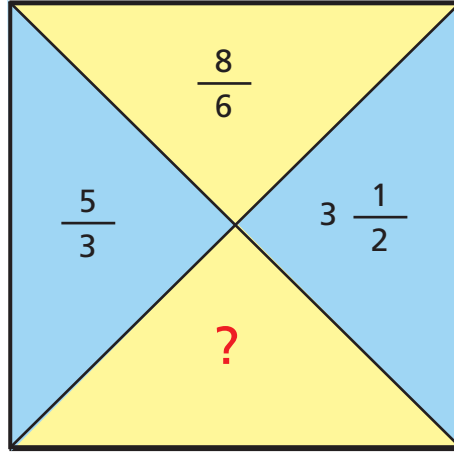
A) Ali

B) Ece

C) Mete

D) Ayşe

12.



Yukarıda verilen şekilde mavi renk ile boyalı bölgedeki sayıların toplamı, sarı renk ile boyalı bölgedeki sayıların toplamına eşit olacaktır.

Buna göre "?" yazan yere aşağıdaki sayılardan hangisi yazılmalıdır?

A) $3 \frac{1}{6}$

B) $3 \frac{5}{6}$

C) $4 \frac{1}{3}$

D) $4 \frac{5}{6}$

13. Bir sayı doğrusu üzerinde bulunan okul, market, kütüphane ve oyun parkının konumları ile ilgili aşağıdaki bilgiler verilmiştir.

- Oyun parkı başlangıç noktası olarak belirlenmiştir.
- Kütüphane ve marketin konumu farklı olup oyun parkına olan uzaklıkları birbirine eşittir.
- Okul ve market sıfırın solundadır.
- Okulun başlangıç noktasına olan uzaklığı, marketin başlangıç noktasına olan uzaklığından fazladır.

Buna göre, okul ve kütüphanenin konumu aşağıda verilenlerden hangisi olabilir?

	<u>Okul</u>	<u>Kütüphane</u>
A)	-18	+14
B)	-17	-12
C)	-13	+13
D)	-17	+19

14. Aşağıda 08.08.2021 tarihinde 1 Dolar, 1 Euro ve 1 gram altının Türk Lirasına karşılık gelen değerleri verilmiştir.

DOLAR	8,56 TL
EURO	10,06 TL
GRAM ALTIN	482,00 TL

Buna göre verilen tarihte 1000 Dolarını, 100 Eurosunu ve 10 gram altınını TL'ye çeviren Uğur'un toplam parası kaç TL'dir?

- A) 14386 B) 13386
C) 13286 D) 13276

15. Aşağıdaki tabloda Dilek Hanım'ın bir manavdan aldığı ürünlerin kilogram fiyatları ve bu ürünlerden satın aldığı miktarlar verilmiştir.

Tablo: Ürünlerin Kilogram Fiyatları ve Satın Alınan Miktarlar

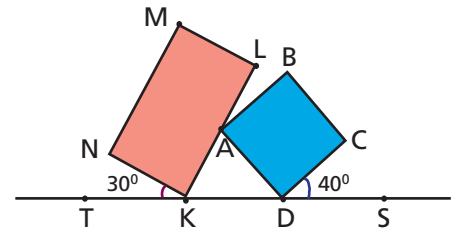
Ürünler	Kilogram Fiyatı (TL)	Alınan Miktarı (Kg)
Domates	10	$\frac{11}{5}$
Salatalık	12	?
Biber	16	$\frac{5}{4}$

Dilek Hanım'ın salatalığa ödediği toplam tutar, bibere ödediği toplam tutardan fazladır ve domatese ödediği toplam tutardan ise azdır.

Buna göre, Dilek Hanım'ın bu manavdan aldığı salatalığın miktarı kilogram cinsinden aşağıdakilerden hangisi olabilir?

- A) $\frac{11}{6}$ B) $\frac{7}{4}$
C) $\frac{5}{3}$ D) $\frac{3}{2}$

16.

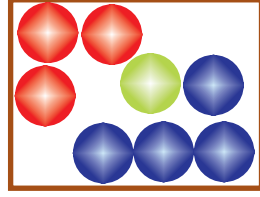


KLMN dikdörtgen ve ABCD kare şeklindeki iki fayans yukarıdaki gibi düz bir zemin üzerinde A noktasından birbirine sabitlenmiştir.

$m(\widehat{NKT})=30^\circ$ ve $m(\widehat{CDS})=40^\circ$ olduğuna göre KAD açısının ölçüsü kaç derecedir?

- A) 70 B) 90
C) 110 D) 130

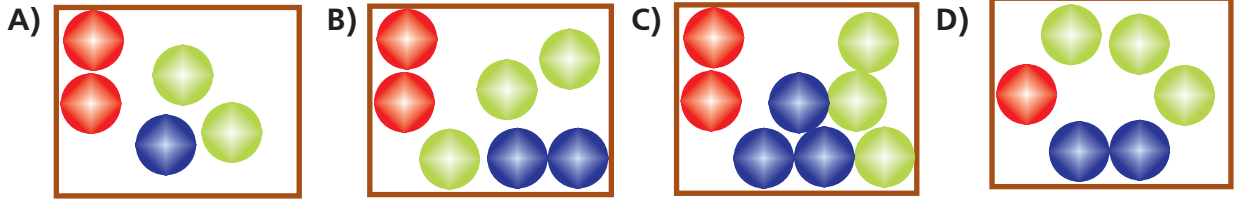
17. Aşağıdaki görselde bir kutunun içerisinde bulunan toplar verilmiştir.



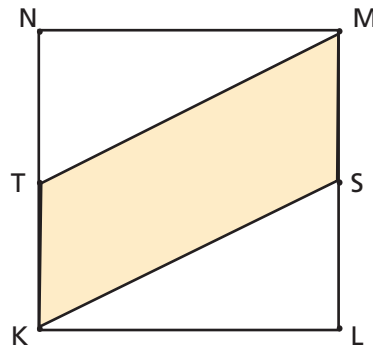
Kutunun içerisinde 3 kırmızı, 4 mavi ve 1 yeşil top vardır.

Buna göre verilen kutunun içerisine aşağıda verilen kutulardan hangisinin içindeki toplar atılırsa kutudaki kırmızı topların sayısının, kutudaki tüm topların sayısına oranı

$\frac{1}{3}$ olur?



18.



KLMN bir kare ve KSMT bir paralelkenardır. Karenin çevre uzunluğu 60 cm ve $ISLI=7$ cm'dir.

Buna göre KSMT paralelkenarının alanı kaç santimetrekaredir?


A) 80

B) 105

C) 120

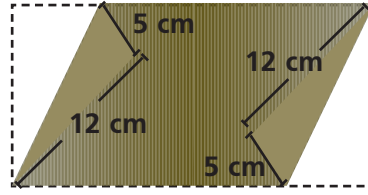
D) 135

19. Kare şeklinde iki eş karton Şekil-1'deki gibi aralarında boşluk kalmayacak ve üst üste gelmeyecek şekilde birleştirilmiştir.



Şekil - 1

Birleştirilen kartonlar Şekil-2'deki gibi katlanmaktadır.

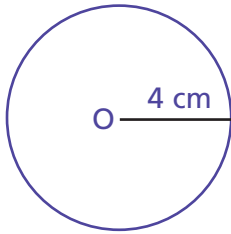


Şekil - 2

Buna göre katlama sonucunda oluşan paralelkenarın alanı kaç santimetrekaredir?

- A) 168 B) 228 C) 258 D) 288

20. Aşağıda verilen çemberin yarıçap uzunluğu 4 cm'dir.



- I. karenin çevre uzunluğu= 28 cm
 II. karenin çevre uzunluğu= 30 cm
 III. karenin çevre uzunluğu= 36 cm
 IV. karenin çevre uzunluğu= 40 cm

Buna göre yukarıda çevre uzunlukları santimetre cinsinden verilen karelerden hangilerinin içerisine bu çember tam olarak yerleşemez?

- A) I ve II B) II ve III C) I, II ve III D) I, II, III ve IV

1. "Her ümmetin bir peygamberi vardır. Peygamberleri geldiği zaman aralarında adaletle hükmedilir ve onlara asla zulmedilmez." (Yunus suresi, 47. Ayet) "...Her millet için mutlaka bir uyarıcı (peygamber) bulunmuştur." (Fâtır suresi, 24. ayet.)

Bu ayetlerin ortak mesajı aşağıdakilerden hangisidir?

- A) Peygamberler insanlara adaletli davranmışlardır.
 B) İnsanlık tarihi boyunca pek çok peygamber gönderilmiştir.
 C) Peygamberlerin tamamı insanlara bildirilmemiştir.
 D) Allah bazı peygamberlerin kıssalarını vahiylerle bildirmiştir.

2. Peygamberlerin temel görevi, Allah'ın (c.c.) emir ve yasaklarını, ilahi mesajları insanlara duyurmak ve açıklamaktır. Bu göreve tebliğ görevi denir.

Aşağıdakilerden hangisi bu görev kapsamında değerlendirilemez?

- A) İnsanları bireye ve topluma zarar veren kötülüklerden sakındırmak
 B) İnsanları tevhit inancını kabul etmeye çağırarak
 C) İnsanları Yüce Allah'a kulluk etmeye çağırarak, ibadetleri öğretmek
 D) İnsanlara, meslek seçimi gibi konularda yardımcı olmak

3. Peygamberler insanlar arasından seçilmiştir. Çünkü vahyin muhatabı insandır ve Allah (c.c.), elçilerini insanlara göndermiştir. Peygamberler insanlar arasından seçilmemiş olsaydı peygamberlerin tebliğ görevlerini yerine getirmeleri, insanların onları örnek almaları mümkün olmazdı.

Bu paragrafı destekleyen ayet aşağıdakilerden hangisidir?

- A) "Müminler ancak kardeşlerdir. Öyleyse kardeşlerinizin arasını düzeltin ve Allah'tan korkun ki esirgenesiniz." (Hucurât suresi, 10. ayet.)
 B) "Andolsun, senden önce de peygamberler gönderdik. Onlardan sana kıssalarını anlattığımız kimseler de var, durumlarını sana bildirmedikimiz kimseler de var..." (Mü'min suresi, 78. ayet.)
 C) "De ki: Eğer yeryüzünde, (insanlar yerine), gezip dolaşan melekler olsaydı elbette onlara gökten bir melek peygamber gönderirdik." (İsrâ suresi, 95. ayet.)
 D) "...Her millet için mutlaka bir uyarıcı (peygamber) bulunmuştur." (Fâtır suresi, 24. ayet.)





4. Kuran-ı Kerim’le ilgili olarak aşağıdakilerden hangisi **yanlıştır**?

- A) Hükümleri ve ilkeleri tüm zamanlar için geçerli olan evrensel bir ilahi kitaptır.
- B) İçerisinde Allah’ın bildirdikleri ve peygamberimizin sözleri vardır.
- C) Kur’an ayetlerinin tamamı peygamberimiz zamanında yazıya geçirilmiştir.
- D) Hiçbir değişikliğe uğramamıştır, kıyamete kadar da değişmeyecektir.

5. Aşağıdaki hadislerden hangisi namazın önemiyle ilgili **değildir**?

- A) “Namazı benden gördüğünüz şekilde kılın.”
- B) “Kulun Rabbine en yakın olduğu an, secde anıdır.”
- C) “Namaz dinin direğidir.”
- D) “Cennetin anahtarı namazdır.

6. ● Suyun bulunmadığı veya bulunsa bile kullanılmamasının mümkün olmadığı durumlarda toprakla alınır.
- Abdest veya boy abdesti yerine geçen manevi temizliktir.

Bu açıklamalar aşağıdaki kavramlardan hangisi ile ilgilidir?

- A) Tekbir
- B) Gusül
- C) Teyemmüm
- D) Teravih

7. Hz. Peygamber (s.a.v.) bir gün ashabına sordu: “Ne dersiniz? Birinizin kapısının önünde bir nehir olsa ve o kimse bu nehirde her gün beş kez yıkansa onda kirden eser kalır mı?”

Ashab-ı kiram, “Hayır, kalmaz ya Resulallah!” dedi. Bu cevap üzerine Allah Resulü (sav) şöyle buyurdu: “İşte beş vakit namaz da böyledir. Allah, beş vakit namazla günahları silip yok eder.” (Hadis-i şerif)

Bu hadisten aşağıdaki yargılardan hangisine ulaşılabilir?

- A) Namaz insanların maddî ve manevî temizlenmesini sağlar.
- B) Cemaatle kılınan namaz tek başına kılınan namazdan daha sevaptır.
- C) Namaz kılarken örtülmesi gereken yerleri örtmek gerekir.
- D) İnsan namazla Allah’a verdiği nimetler için teşekkür eder.

8. Farz, İslam dininde, sorumluluk çağına gelmiş müslümanlardan yapılması kesin olarak istenen, terk edilmesi günah olan ibadetlere, iş ve davranışlara denir.

Aşağıdaki namazlardan hangisi farz namaz **değildir**?

- A) Öğle namazı
- B) İkinci namazı
- C) Cuma namazı
- D) Şükür namazı



9. Aşağıdakilerden hangisi zararlı alışkanlıklara başlama sebeplerinden biri değildir?

- A) Zararlı alışkanlıkların kişiye verdiği zarar ile ilgili araştırma ödevi yapmak
- B) Yakın çevresindeki kötü alışkanlıkları olan kimselere özenmek
- C) Arkadaşları arasında kendisini kanıtlama isteği
- D) "Bana bir şey olmaz, bir kez denesem ne olur ki?" düşüncesi

10. I. Hatalı sollama yaparak başkasının yaralanmasına sebep olmak
II. Beş vakit namazı kılmayarak Allah'ın emrini yerine getirmemek
III. Yüksek sesle müzik dinleyerek başkalarını rahatsız etmek

Bu davranışlardan hangileri kul hakkı kapsamına girer?

- A) Yalnız I
- B) I, II ve III
- C) I ve III
- D) II ve III

11. Kumar oynamanın bireysel ve toplumsal açıdan pek çok zararı vardır. İslam'a göre kumar yoluyla elde edilen para, eşya vb. her şey haksız kazançtır. Dinimiz bizlere geçimimizi helal yollarla sağlamayı, her türlü haksız kazançtan uzak durmayı öğretir.

Bu paragraf aşağıdaki hadislerden hangisiyle desteklenebilir?

- A) "Sarhoşluk veren her şey haramdır. Çoğu sarhoşluk veren şeyin, azı da haramdır."
- B) "En değerli kazanç kişinin kendi elinin emeğiyle kazandığıdır."
- C) "İki nimet vardır ki insanların çoğu, onların kıymetini bilmekte aldanmıştır. Bunlar sağlık ve boş vakittir."
- D) "İçki ilaç değil, bilakis derttir."

12. Aşağıdakilerden hangisi baba-oğul olan peygamberlerdendir?

- A) Hz. Adem - Hz. İsa
- B) Hz. Zekeriya – Hz. Yahya
- C) Hz. İsa - Hz. Yahya
- D) Hz. Muhammed- Hz. İsa





13. Hz. Peygamberin Mekke dönemi ile ilgili aşağıdaki bilgilerden hangisi yanlıştır?

- A) Bir grup Müslüman Habeşistan'a hicret etmiştir.
- B) İnananlar çoğaldıkça müşriklerin baskıları artmıştır.
- C) Peygamberimiz ilk üç yıl gizlice İslam'a çağırmıştır.
- D) Mekkeli müşriklerle Bedir, Uhud ve Hendek Savaşları olmuştur.

14. Hz. Muhammed (sav), vahiy geldikten sonra heyecan ve endişe içinde evine döndü. Yaşadıklarını Hz. Hatice'ye anlattı. Hanımı onu teselli etti ve şöyle dedi: "Sen cömertsin, iyisin, fakir ve muhtaçlara elini uzatırsın, evine gelenlere ikram edersin. Böyle bir kulunu Allah yalnız bırakır mı hiç?"

Peygamberimizle ilgili bu olaydan aşağıdakilerden hangisine ulaşamaz?

- A) Peygamberimiz ve eşi, olanları akrabalarından Varaka'ya anlatmıştır.
- B) Peygamberimiz yardımsever ve cömert bir insandır.
- C) Eşi Hz. Hatice peygamberimize destek olmuş, onu sakinleştirmiştir.
- D) Allah iyi insanların yanındadır ve yardımcısıdır.

15. Peygamberimiz Veda Hutbesi'nde şöyle seslenmiştir: "Ey müminler! Size iki şey bırakıyorum ki onlara sımsıkı sarıldıkça yanlışı yola sapmazsınız. Onlar Allah'ın kitabı Kur'an-ı Kerim ve - - - - -"

Bu hadisteki boşluğa aşağıdaki ifadelerden hangisi getirilmelidir?

- A) dinî kitaplardır.
- B) örf ve âdetlerdir.
- C) benim sünnetimdir.
- D) yaşadığım topraklardır.

16. Mescid-i Nebi, inananların toplanıp ibadet yapması amacıyla inşa edilmişti. Müslümanlar, günde beş vakit bu kutsal mekânda bir araya geliyorlar, Allah Resulü'nün (sav) arkasında saf tutup namaz kılıyorlardı. Mescid-i Nebi, yeni oluşmaya başlayan İslam toplumunun tanışıp kaynaşmasında da önemli bir işleve sahipti. Yardıma muhtaç olanlar burada belirleniyor, onlara el birliğiyle yardım ediliyordu. Mescid-i Nebi, aynı zamanda devletin de merkezi durumundaydı. Devleti ve Müslüman toplumu ilgilendiren önemli kararlar burada sonuca bağlanırdı.

Bu paragraftan Mescid-i Nebi ile ilgili aşağıdakilerden hangisine ulaşamaz?

- A) Eğitim-öğretim çalışmalarının yapıldığı yerdir.
- B) Müslümanların ortak ibadet yeridir.
- C) Devlet işlerinin konuşulduğu yerdir.
- D) İhtiyaç sahiplerine yardımların yapıldığı yerdir.



17. ➤ Ensar ve Muhacirin kardeş ilan edilmesi
- Yahudiler ile Medine Sözleşmesi'nin imzalanması
- Müşrikler ile Hudeybiye Antlaşması'nın imzalanması

Peygamberimizin Medine döneminde gerçekleşen bu olayların ortak amacı aşağıdakilerden hangisidir?

- A) Ekonominin canlandırılması
- B) Toplumsal barışın sağlanması
- C) Yahudilerle ilişkilerin düzenlenmesi
- D) Dinî hayatın düzenlenmesi

18. Kandil gecelerinin zamanı Ay takvimine göre belirlenmektedir. Buna göre Mevlit Kandili rebîülevvel ayının on ikinci gecesini, Regâip Kandili recep ayının ilk cuma gecesini, Miraç Kandili yine recep ayının yirmi yedinci gecesini, Berat Kandili şaban ayının on beşinci gecesidir. Kadir Gecesi ise ramazan ayının yirmi yedinci gecesini kutlanmaktadır.

Bu açıklamaya göre üç aylar dışında kutlanan kandil aşağıdakilerden hangisidir?

- A) Mevlit Kandili
- B) Regâip Kandili
- C) Berat Kandili
- D) Kadir Gecesi

19. "Allah yolunda öldürülenleri sakın ölümlerini sanma! Bilâkis onlar diridirler; Allah'ın, lütuf ve kereminden kendilerine verdikleriyle sevinçli bir halde, Rabb'lerinin yanında rızıklara mazhar olmaktadır. Arkalarından gelecek ve henüz kendilerine katılmamış olan kardeşlerine de hiçbir keder ve korku bulunmadığı müjdesinin sevincini duymaktadırlar."

(Âl-i İmrân suresi, 169 ve 170. ayetler)

Bu ayetler aşağıdaki kavramlardan hangisi ile ilişkilidir?

- A) Vatan B) Bayrak
- C) Şehitlik D) Gazilik

20. İslam dini toplumsal birlik beraberlik ve dayanışmaya çok önem verir. Çünkü birlik ve beraberlik içinde yaşayan toplumlar huzurlu toplumlardır. Bu amaca ulaşmak, kavga ve küskünlüklerden uzak bir toplum oluşturmak için dinimizin gerekli kıldığı bazı ibadetler ve özel günler vardır. Bu ibadetler ve özel günler toplumun barış ve huzuru için çok önemlidir.

Aşağıdakilerden hangisi bu açıklamaya uygun değildir?

- A) Kurban kesmek ve Kurban Bayramı geleneği
- B) Cuma Günü Cuma Namazı kılmak
- C) Zenginlerin yılda bir kez zekât vermesi
- D) Beş vakit namazı evde, cemaatsiz kılmak



Özellik	D/Y
Güneş'e uzaklık bakımından üçüncü gezegendir.	D
Mars ile kardeş gezegen olarak bilinir.	Y
Güneş Sistemi'nde yaşam bulunan tek gezegendir.	D
Ay, tek uydusudur.	D

Uğur, Dünya'nın özellikleri ile ilgili verilen tabloyu yukarıdaki gibi dolduruyor.

Buna göre Uğur ile ilgili aşağıdakilerden hangisi yanlıştır?

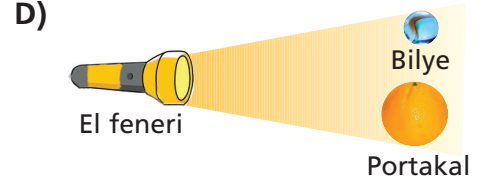
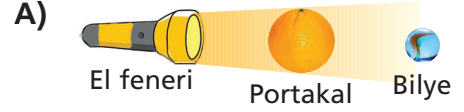
- A) Güneş sisteminde yaşamın olduğu gezegeni yanlış biliyor.
- B) Dünya'nın uydusunu doğru biliyor.
- C) Dünya'nın Güneş'e uzaklığını doğru biliyor.
- D) Mars ile Dünya arasındaki bilgiyi doğru değerlendirmiştir.

2. Güneş sisteminin beş milyar yıl önceki oluşumu sırasında ortaya çıkan, aşınmış kaya ve metal parçalarından oluşan gök cisimlerine genel olarak ne ad verilir?

- A) Asteroit
- B) Gezegen
- C) Bulut
- D) Yıldız

3. Ümit, el fenerini Güneş, bilyeyi Ay ve portakalı Dünya olarak kullanarak, karanlık bir odada aşağıdaki gözlemleri yapıyor.

Buna göre bu gözlemlerden hangisi güneş tutulmasını temsil eder?



4.

I
Kürek kemiği
Kalça kemiği
Göğüs kemiği

II
Kaval kemiği
Pazı kemiği
Baldır kemiği

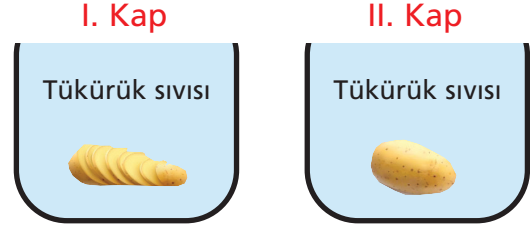
III
Omurlar
El bilek kemiği
Ayak bilek kemiği

Vücudumuzda bulunan kemikler yukarıdaki gibi gruplara ayrılmıştır.

Buna göre I, II ve III numaralı gruplarda bulunan kemik çeşitleri aşağıdakilerden hangisidir?

- | | I | II | III |
|----|-------------|-------------|-------------|
| A) | Yassı kemik | Uzun kemik | Kısa kemik |
| B) | Uzun kemik | Yassı kemik | Kısa kemik |
| C) | Kısa kemik | Uzun kemik | Yassı kemik |
| D) | Yassı kemik | Kısa kemik | Uzun kemik |

5. Tuğçe biri dilimlenmiş, diğeri dilimlenmemiş eşit kütlelerdeki patatesleri, içerisinde eşit miktarda tükürük sıvıları bulunan 25°C sıcaklıktaki kaplara koymuştur.



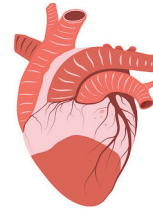
Dilimlenmiş patates

Dilimlenmemiş patates

Buna göre Tuğçe, deney ile ilgili aşağıdakilerden hangisini söyleyemez?

- A) Tükürük sıvısı patatesi parçalar.
B) Besin miktarının artması sindirim hızını artırır.
C) Her iki kaptaki kimyasal sindirim gerçekleşir.
D) I. kaptaki patates daha kısa sürede parçalanır.

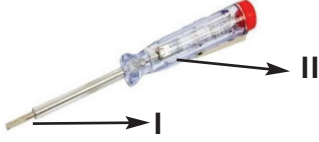
6. Güçlü kaslardan oluşan kalbimiz kasılıp gevşeyerek içindeki kanı vücutta pompalar. Bu işlem hayatımız boyunca hiç durmadan devam eder.



Aşağıdakilerden hangisi kalbin görevlerinden biri değildir?

- A) Atık maddeleri damarlar yoluyla organlardan toplamak
B) Temiz kanı atar damarlar yardımıyla vücuda dağıtmak
C) Vücutta kirlenen kanı akciğerlere göndermek
D) Kirli kanı temizlemek

7.



Kontrol kaleminin I ve II numaralı kısımlarının yapımında aşağıdaki maddelerden hangileri kullanılmış olabilir?

I	II
A) Demir	Plastik
B) Plastik	Demir
C) Tahta	Kauçuk
D) Demir	Demir

8. Bir bölgede ısınmak için kömür kullanılmaktadır. Bu bölgede oturan insanlar ısınma amacıyla güneş enerjisini kullanabilmek için evlerinin çatısına güneş panelleri yerleştiriyorlar.

Bu durumla ilgili olarak aşağıdakilerden hangisi söylenebilir?

- A) Yenilenemez enerji kaynağı kullanılmaya başlamışlardır.
- B) Önceden ısınmada yenilenebilir enerji kaynağı kullanıyorlardı.
- C) Bir süre sonra çevre kirliliğinde azalma olacaktır.
- D) Elektrik enerjisi tüketimi önceki duruma göre artacaktır.

9. **Temel:** 0 Rh (+)

Dursun: A Rh (-)

İdris: B Rh (-)

Vahit: AB Rh (+)

Yukarıdaki dört arkadaşın kan grupları verilmiştir.

Buna göre aşağıdakilerden hangisi doğrudur?

- A) Dursun, Temel'e kan verebilir.
- B) Vahit, İdris'e kan verebilir.
- C) İdris, Dursun'a kan verebilir.
- D) Temel, Vahit'e kan verebilir.

10. Soluk alma ile alınan oksijen kana geçene kadar, solunum sistemindeki organ ve yapılardan geçer.

Buna göre oksijenin;

- I. Yutak
- II. Gırtlak
- III. Burun
- IV. Soluk borusu
- V. Akciğer

verilen yapı ve organlardan geçerken izlediği yolun sıralaması aşağıdakilerden hangisinde doğru verilmiştir?

- A) III – I – II – IV – V
- B) IV – V – I – III – II
- C) III – II – I – IV – V
- D) I – IV – II – III – V

11.



Bel bölgemizin iki yanında bulunur. Her biri yaklaşık 10 cm boyunda, 150 g ağırlığındadır. Günde 180 L kanı süzerek, zararlı atıkların atılmasını sağlar.

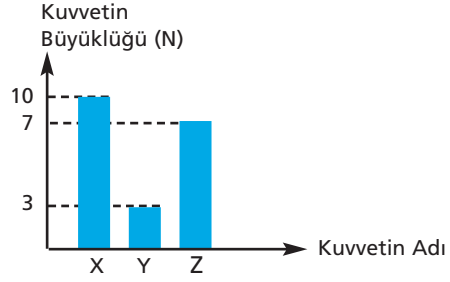
Meral Öğretmen'in bahsettiği organımız aşağıdakilerden hangisidir?

- A) Böbrek
- B) Karaciğer
- C) Pankreas
- D) Dalak

12. Aşağıdaki sürtünmesiz yüzeylerdeki arabaların hangisine uygulanan kuvvetlerin bileşkesi en büyüktür?

- A) 100N ← → 150N
- B) 500N ← → 500N
- C) 300N ← → 200N
→ 100N
- D) 300N ← → 250N

13.



Yukarıdaki grafikte X, Y ve Z kuvvetlerinin büyüklükleri verilmiştir.

Buna göre bu kuvvetler sürtünmesiz yatay zemindeki bir cisme aşağıdakilerden hangisindeki gibi uygulanırsa cisim dengede kalır?

- A) X ← → Y ← → Z →
- B) Z ← → Y → → X →
- C) X → → Y → ← Z ←
- D) Y ← → X → ← Z ←

14. I.

Zaman (s)	0	1	2	3
Alınan Yol (m)	0	10	20	30
- II.

Zaman (s)	0	5	10	15
Alınan Yol (m)	0	25	50	75
- III.

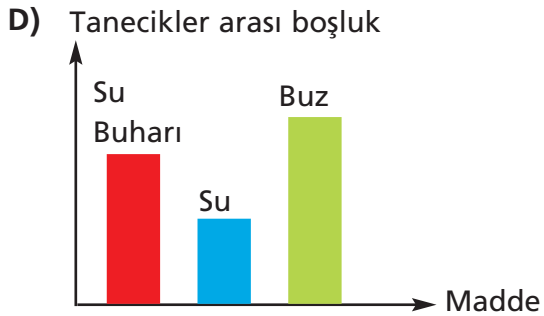
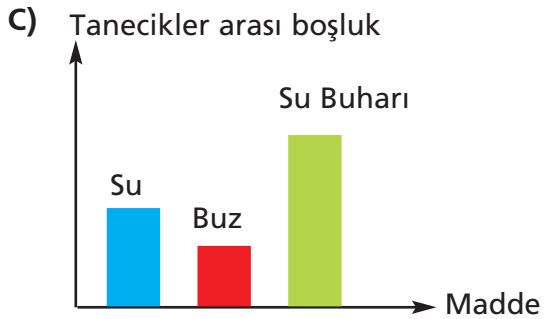
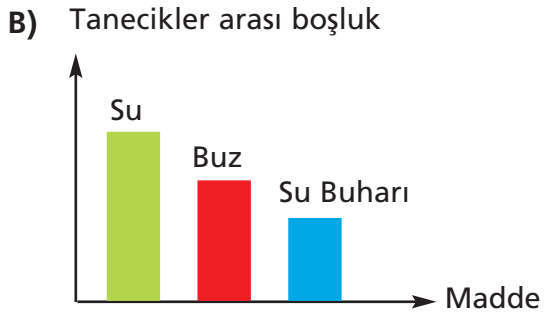
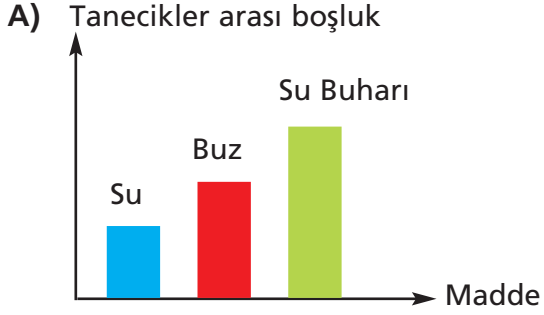
Zaman (s)	0	5	10	15
Alınan Yol (m)	0	20	40	60

I, II ve III araçlarına ait alınan yol-zaman tabloları yukarıda verilmiştir.

Buna göre sabit süratle hareket eden araçların süratlerinin büyükten küçüğe sıralaması aşağıdakilerden hangisinde doğru verilmiştir?

- A) I > III > II
- B) I > II > III
- C) III > II > I
- D) II > III > I

15. Eşit miktarlardaki buz, su ve su buharının tanecikleri arasındaki boşluk ilişkisini göstermek isteyen bir öğrenci aşağıdaki grafiklerden hangisini çizmiştir?



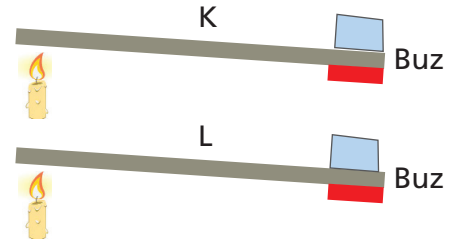
16. Öğretmen tahtaya çıkardığı dört öğrenciden her birine kütleleri aynı, hacimleri farklı olan cisimler veriyor. Öğrenciler cisimlerin hacimlerini içleri su dolu olan dereceli silindir ile ölçüp tabloya not ediyor.

Öğrenci	Hacim (cm ³)
Ahmet	180
Mehmet	150
İsmet	140
Fikret	220

Buna göre öğrencilerden hangisinde bulunan cismin yoğunluğu en fazladır?

- A) Ahmet B) Mehmet
C) İsmet D) Fikret

17. Aynı ortamda bulunan eşit uzunlukta K ve L çubuklarının ucuna özdeş buz kalıpları yerleştiriliyor.



Çubuklara eşit miktarda ısı verildiğinde K çubuğundaki buz kalıpları, L'dekinden daha çabuk eriyor.

Bu deney sonucuna göre aşağıdaki yorumlardan hangisi yapılamaz?

- A) K iletken bir maddedir.
B) K maddesinden yapılan tencere ısıyı daha iyi iletir.
C) L maddesinin ısıyı iletme özelliği K'den azdır.
D) L maddesi iyi bir ısı yalıtım malzemesidir.

18. Aynı büyüklükte ve çatıları aynı özellikteki evlerden ahşap evde Ali, betonarme evde ise Ayşe oturmaktadır.

Buna göre aşağıdakilerden hangisi doğrudur?

(Kışın kullanılan yakıt miktarı eşittir.)

- A) Ali'nin evi kışın daha sıcak olur.
- B) Ayşe'nin evi yazın daha serin olur.
- C) Ali'nin evi yazın daha sıcak olur.
- D) Ayşe'nin evi kışın daha sıcak olur.

20. Aşağıdakilerden hangisi ergenlik döneminde görülen ruhsal bir değişimdir?

- A) Büyüme hormonunun salgılanması
- B) Ter ve yağ salgısında artış görülmesi
- C) Kendi kararlarını verme isteğinin artması
- D) Deride sivilce oluşumunun görülmesi

19. Sağlıklı bir insanda açlık "kan şekeri değeri" 90 mg/dl'nin altında olmalıdır.



Serpil'in kendisine ait kan şekeri ölçüm cihazının sonucu yukarıdaki gibi çıkıyor.

Buna göre, Serpil'in kan şekerinin dengeye gelmesini sağlayacak organ ve salgılayacağı hormon aşağıdakilerden hangisindeki gibidir?

Organ	Hormon
A) Tiroid	Tiroksin
B) Pankreas	Glukagon
C) Pankreas	İnsülin
D) Böbreküstü bezi	Adrenalin



1. Hak, sorumluluk ve özgürlüklerin bilincinde olan bir birey ile ilgili;

- I. Dilekçe ve bilgi edinme haklarını kullanarak sorunlarına çözüm bulabilir.
- II. İçinde bulunduğu toplumda üstüne düşen görev ve yükümlülükleri yerine getirir.
- III. Sınırsız özgürlüğe sahip olduğunu bilir ve kendi özgürlük alanı içinde başkalarının özgürlüklerini kısıtlayabileceğinin farkındadır.

özelliklerinden hangilerine sahip olduğu söylenebilir?

- A) I ve II
- B) I ve III
- C) II ve III
- D) I, II ve III

2. Türkler anayurtları olan Orta Asya'dan çeşitli bölgelere göç etmişlerdir.

Buna göre aşağıdakilerden hangisi, Türklerin Orta Asya'dan göç etmesinin sonuçları arasında gösterilemez?

- A) Türkler, Orta Asya dışında yeni yurtlar edinmiştir.
- B) Göç ettikleri bölgeleri birçok konuda etkilemişlerdir.
- C) Göçebe yaşam kültürü ve sanatı Orta Asya dışına yayılmıştır.
- D) Türk tarihi sınırlı bir bölgede kalmıştır.

3. I. Mani dinini benimsemişlerdir.
- II. Türk adını kullanan ilk Türk devletidir.
- III. Bilinen teşkilatlı ilk Türk devletidir.

Verilen özellikler ile;

- a. Gök Türkler
- b. Uygurlar
- c. Asya Hun

devletleri aşağıdakilerden hangisinde doğru eşleştirilmiştir?

<u>I</u>	<u>II</u>	<u>III</u>
A) b	c	a
B) c	b	a
C) b	a	c
D) a	c	b

4. İlk Türk Devletlerine ait birçok destan bulunmaktadır.

Buna göre aşağıdaki devlet – destan eşleştirmelerinden hangisi yanlış verilmiştir?

- A) Gök Türk Devleti – Ergenekon Destanı
- B) Uygur Devleti – Türeyiş Destanı
- C) Asya Hun Devleti – Oğuz Kağan Destanı
- D) Avrupa Hun Devleti – Göç Destanı



5. Peygamberimiz, Bedir Savaşı'ndan sonra esir alınan kişilere iyi davranılmasını emretti. Esirlerin bazıları mali durumlarına göre fidye vererek serbest kaldı. Bazıları da Müslümanlara okuma-yazma öğretilmesi karşılığında serbest bırakıldı. Durumu olmayan ve okuma-yazma bilmeyenlerin ise karşılıksız olarak serbest bırakılmaları kararlaştırıldı. Ganimetler savaşa katılanlar arasında eşit şekilde bölüştürüldü.

Verilen bilgilerde Peygamberimiz'in (sav),

- I. İlme önem vermesi
- II. Adaletli olması
- III. Merhametli olması

kişilik özelliklerinden hangilerine ulaşılabilir?

- A) I ve II B) I ve III
C) II ve III D) I, II ve III

6. Türkler, İslamiyet'i kendi istekleriyle kabul etmişlerdir. Türkler'in İslamiyet'i kabul etmeleri hem İslam alemi hem de dünya tarihi açısından büyük sonuçlar doğurmuştur.

Buna göre aşağıdakilerden hangisi, Türkler'in İslamiyet'i kabul etmesinde etkili olan faktörler arasında gösterilemez?

- A) Göktanrı ve İslam inancında tek tanrılı inanç sisteminin benimsenmesi
B) Türklerde göçebe hayat tarzının İslam dininde benimsenmesi
C) Türklerde Göktanrı için kurban kesilmesi inancının İslamiyet'te de Allah adına kurban kesme şeklinde benzerlik göstermesi
D) Türklerin töreyi hakim kılmak adına yaptıkları savaşlar ile İslamiyet'teki cihat inancının benzerlik göstermesi

7. Karluk, Yağma, Çiğil ve Tuhsi boylarının bir araya gelmesi ile kurulmuştur. Bilge Kül Kadir Han, Karahanlı Devleti'nin ilk hükümdarıdır. Saltuk Buğra Han 920'de iktidara geçince İslamiyet'i resmi din haline getirmiştir. Karahanlılar ilk büyük Müslüman Türk devletidir.

Karahanlı Devleti ile ilgili verilen bilgilerde aşağıdakilerden hangisinin cevabı yoktur?

- A) Kim tarafından kurulmuştur?
B) Hangi boyların birleşmesiyle kurulmuştur?
C) İslamiyet'i hangi hükümdar zamanında kabul etmiştir?
D) Hangi devlet tarafından yıkılmıştır?

8. Türkiye Selçuklu Devleti'nde kervansaraylar aşağıdakilerden hangisini geliştirmek amacıyla yapılmıştır?

- A) Eğitimi
B) Ticareti
C) Sanatı
D) Hukuku



9. I. Kiliseye ve din adamlarına güven sarsıldı.
II. Türklerin Batı'ya doğru ilerleyişi durakladı.
III. Akdeniz limanları önem kazandı. Doğu-Batı ticareti gelişti.
IV. Kağıt, matbaa, pusula, barut gibi icatlar Avrupa'ya taşındı.

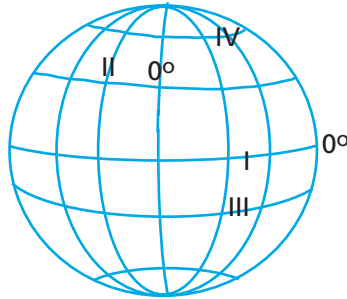
Haçlı Seferlerinin yukarıda belirtilen sonuçlarının;

- a. Siyasi
b. Ekonomik
c. Teknik-bilimsel
d. Dini

alanlarla eşleştirilmesi aşağıdakilerin hangisinde doğru verilmiştir?

	<u>I</u>	<u>II</u>	<u>III</u>	<u>IV</u>
A) a	b	c	d	
B) b	d	a	c	
C) c	b	d	a	
D) d	a	b	c	

10.



Şekilde numaralandırılarak verilen alanlarla ilgili aşağıda verilen bilgilerden hangisi yanlıştır?

- A) I, en büyük paralel dairesi üzerindedir.
B) II, Türkiye'nin batısında yer alır.
C) III, Ekvatorun kuzeyindedir.
D) IV, Kuzey Kutup Dairesi'ne en yakın konumdadır.

11. Matematik Konum; dünya üzerindeki bir noktanın enlem ve boylam dereceleriyle belirlenmesidir.

Buna göre Türkiye'nin matematik konumu aşağıdakilerden hangisinde verilmiştir?

- A) $26^\circ - 45^\circ$ Kuzey Paralelleri
 $36^\circ - 42^\circ$ Doğu Meridyenleri
B) $26^\circ - 45^\circ$ Doğu Meridyenleri
 $36^\circ - 42^\circ$ Kuzey Paralelleri
C) $26^\circ - 45^\circ$ Güney Paralelleri
 $36^\circ - 42^\circ$ Doğu Meridyenleri
D) $26^\circ - 45^\circ$ Batı Meridyenleri
 $36^\circ - 42^\circ$ Kuzey Paralelleri



12. Meltem iş yaşamında başarılı, mutlu ve üretken bir birey olmak istiyor. Ancak hangi mesleği seçmesi gerektiği konusunda kararsızlık yaşıyor.

Buna göre Meltem meslek seçimi yaparken;

- I. kişisel özellikleri,
II. ilgi ve yetenekleri,
III. mesleğin iş imkanları

durumlarından hangilerine dikkat ederse doğru karar verebilir?

- A) Yalnız II B) Yalnız III
C) II ve II D) I, II ve III



“Dağların kıyıya paralel uzandığı kıyılarda kıyının nemli havası iç kesimlere sokulmaz ve kıyı ile iç kesimler arasında iklim özellikleri bakımından farklılıklar görülür.”

diyen bir kişi, haritada kaç numaralı alanda bulunan yeri ifadesine örnek olarak gösteremez?

- A) 1 B) 2
C) 3 D) 4

14. Adana, Türkiye'nin nüfus yoğunluğu bakımından kalabalık şehirlerdendir. Akdeniz ikliminin görülmesi ve ülkemizin en verimli ovalarından sayılan Çukurova'nın burada bulunması nüfusunu artırmıştır. Ayrıca sanayinin gelişmiş olması da burada nüfusun artmasında önemli bir faktördür.

Verilen bilgide Adana'nın yoğun nüfuslanmasında etkili olan unsurların hangisinden bahsedilmemiştir?

- A) Tarım
B) Turizm
C) Sanayi
D) İklim

15. I. Taşkömürü
II. Bakır
III. Bor
IV. Petrol

madenleri ile;

- a. Batman
b. Elazığ
c. Kütahya
d. Zonguldak

illerimiz, çıkarıldığı yer ilişkisi bakımından aşağıdakilerden hangisinde doğru eşleştirilmiştir?

- | | <u>I</u> | <u>II</u> | <u>III</u> | <u>IV</u> |
|------|----------|-----------|------------|-----------|
| A) a | b | c | d | d |
| B) b | c | d | a | a |
| C) c | a | b | d | d |
| D) d | b | c | a | a |



16. ► Türkiye 2007 yılında deprem afeti yaşayan Peru'ya ve sellerle boğuşan Bulgaristan'a destek olmuştur.
► Japonya 1999 yılında yaşanan Marmara depremi nedeniyle Türkiye'ye 500 adet prefabrik konut göndermiştir.

Verilen örnekler ülkeler arası ilişkilerde aşağıdakilerden hangisinin gelişmesine katkıda bulunmaz?

- A) Rekabet
B) Dayanışma
C) İş birliği
D) Yardımlaşma



17.



Kesin olan bir şey var. Bir şeyin doğruluğundan şüphe etmek.
Şüphe etmek düşünmektir. Düşünmekse var olmaktır. Öyleyse var olduğum şüphesizdir. Düşünüyorum, o halde varım. İlk bilgim bu sağlam bilgidir. Şimdi bütün öteki bilgileri bu bilgiden çıkarabilirim.

Rene Descartes

Verilen sözünden yola çıkarak Descartes'in aşağıdaki sosyal bilim alanlarından hangisiyle ilgili çalışmalar yaptığı söylenebilir?

- A) Psikoloji
- B) Felsefe
- C) Tarih
- D) Sosyoloji

18. Kümes hayvancılığı, et ve yumurta ihtiyacını karşılamak amacıyla nüfusu fazla olan yerlerde yapılan hayvancılık türüdür. Verimi yüksek olan kümes hayvancılığı, nüfusun fazla olması ve pazarlama imkanlarının kolay olmasından dolayı üretimi bazı şehirlerde daha fazladır.

Buna göre aşağıdaki bölgelerden hangisinde kümes hayvancılığı diğerlerine göre daha fazla yapılır?

- A) Doğu Anadolu
- B) Marmara
- C) İç Anadolu
- D) Karadeniz

19.



"Türkiye'nin devlet siyaseti, milli sınırlar içinde, egemenliğe dayanarak bağımsız yaşamaktadır. Hareket kuralımız budur."

Atatürk'ün verilen sözü Türkiye'nin aşağıdaki hangi dış politika ilkesini vurgular niteliktedir?

- A) Tam bağımsızlık
- B) Gerçekçilik
- C) Barışçılık
- D) Akılcılık

20. Yaşadığım yerde insanlar eskiden beri ulaşım için develeri kullanırlar. Develer çok sıcak ve kurak hava şartlarında su içmeden uzun mesafe kat edebilirler. Yolculuk sırasında yaşayabilen kum fırtınaları yönümüzü bulmamızı zorlaştırır.

Bu kişinin yaşadığı yerde hangi iklim tipi görülmektedir?

- A) Çöl
- B) Muson
- C) Kutup
- D) Ekvatorial



SINAVA BAŞLAMADAN ÖNCE AŞAĞIDAKİ UYARILARI MUTLAKA DİKKATLİCE OKUYUNUZ

1. Sınav kimlik bilgilerinizin doğruluğundan emin olunuz.
2. Sınav başladıktan sonra çevrenizdekilerle konuşmayınız.
3. Soruları cevaplamaya istediğiniz sorudan başlayabilirsiniz.
4. Cevaplarınızı cevap anahtarındaki ilgili soru numarasını dikkate alarak uygun bölüme kodlayınız.
5. Değiştirmek istediğiniz cevabı cevap anahtarına kodladığınızdan emin olunuz.
6. Cevabını bilmediğiniz sorular üzerinde fazla zaman kaybetmeden diğer sorulara geçiniz. Zaman kalırsa bu sorulara daha sonra dönebilirsiniz.
7. Sınav puanlarınızın hesaplanmasında sadece doğru cevaplarınız dikkate alınacaktır.
8. Cevap anahtarınızı sınav süresince başkalarının görmeyeceği şekilde önünüzde bulundurunuz.
9. Sınav sırasında sözlük, hesap makinası, cep telefonu ve bilgisayarınızın bu özelliklerini kullanmayınız.
10. Sınav süresince yerinizden ayrılmayınız.

