



ANKARA

TEVFİK İLERİ ANADOLU İMAM HATİP LİSESİ 2022-2023 EĞİTİM ÖĞRETİM YILI

ADI SOYADI :

T.C. KİMLİK NO :

5. SINIFLAR GİRİŞ SINAVI

- 1.** Bu sınav 2022-2023 Eğitim-Öğretim Yılı Tefik İleri Anadolu İmam Hatip Lisesi'ne yerleşecek öğrencilerin kavrama düzeylerini ölçmek amacıyla hazırlanan "GİRİŞ SINAVI"dır.
- 2.** Sınav toplam 100 soru ve Türkçe, Matematik, Din Kültürü ve Ahlak Bilgisi, Fen Bilimleri ve Sosyal Bilgiler testlerinden oluşmaktadır. Her test 20 sorudan ibarettir.
- 3.** Soruların cevaplarını cevap kağıdında ait olduğu sütuna işaretleyiniz.
- 4.** Cevap kağıdında, Adı-Soyadı, T.C. Kimlik Numarası ve Öğrenci No bölümlerini kodlamayı unutmayınız.

1. (I) Her şey birkaç saat içinde oldu bitti. (II) Yağmur çok şiddetli yağdığı için sele dönüştü ve sel, önüne ne çıktıysa alıp götürdü. (III) Evleri ve dükkanları su bastı. (IV) Su baskınlarından dolayı büyük miktarda maddi hasar oluştu.

Bu metinde numaralandırılmış cümlelerin hangilerinde sebep-sonuç ilişkisi vardır?

- A) I ve II
B) I ve III
C) II ve III
D) II ve IV

2. Aşağıda dondurma ile ilgili metinler verilmiştir.

1

Dondurma yapımında çok farklı malzemeler kullanılır. Bu çeşni maddelerine göre dondurmanın çikolatalı, vanilyalı, fıncıklı, kayısı, vişneli vb. çeşitleri vardır.

2

Ana maddesi süt olan dondurma; süt, krema, şeker, kakao, meyve gibi maddelerden yapılır.

3

Dondurma, mükemmel bir enerji kaynağıdır. Dondurma, içerisindeki fosfor ve kalsiyum sayesinde diş ve kemik sağlığı için önemlidir.

4

Dondurmanın kökeni tam 2200 yıl öncesine, Asya'ya dayanıyor. Çinlilerin süt-pirinç karışımını karda dondurarak elde ettikleri yiyecek ilk "sütlü dondurma" olarak kabul ediliyor.

Aşağıdakilerden hangisi bu metinlerden birinin konusu olamaz?

- A) Dondurmanın geçmişi
B) Dondurmanın zararları
C) Dondurmanın yararları
D) Dondurmanın içeriği

3. Aşağıda iki meyve ile ilgili bilgiler verilmiştir.

A meyvesi, sıcak ülkelerde yetişir. Ağaçta birkaç tanesi bir arada demetler halinde büyür. Kabuğu dikenli olduğundan toplaması kolaydır. A meyvesinin içeriğinde kasların gelişimini sağlayan potasyum vardır. A meyvesi aynı zamanda dondurma, pasta gibi yiyeceklerde kullanılır.

B meyvesi sıcak ülkelerde yetişir. Yere yakın alçak bitkiler üzerinde tek tek büyür. Büyük ve dikenli bir kabuğa sahiptir. İçeriğinde çok fazla C vitamini bulunur. Vücudu mikroplardan korur, kemiklerin güçlenmesine yardımcı olur. Dondurmanın içine katılır. Ayrıca bu meyvenin kabuğunun dikenleri pasta ve kek süslemesinde kullanılır.


Verilen metinlere göre aşağıdakilerden hangisi yanlıştır?

- A) B meyvesinde bol miktarda C vitamini, A meyvesinde ise potasyum bulunur.
B) B meyvesi kısa bir bitkide tek tek, A meyvesi ise ağaçta demet halinde yetişir.
C) B meyvesi sadece dondurmalarda, A meyvesi ise sadece pastalarda kullanılır.
D) A meyvesinin kabuğu dikensiz, B meyvesinin ise dikenlidir.

4. **Aşağıdaki cümlelerin hangisinde büyük harflerin kullanımı ile ilgili yazım yanlışı yapılmıştır?**

- A) Nasuh Mahruki Ağrı Dağı'na tırmanmış.
B) Kaplumbağa terbiyecisi kimin eseriydi?
C) Arkadaşım Hasan'ın oturduğu Yunus Emre Mahallesi bize oldukça uzak.
D) Yöneticiler, Uzak Doğu'dan gelen heyet ile toplantıya başladı.

5. Ayşe 12, ablası ise 24 yaşındadır Bugün Ayşe, ablası, annesi ve babası televizyonda film izleyeceklerdir. Dört kanaldaki filmlerle ilgili uyarı görselleri aşağıda verilmiştir.



Buna göre, Ayşe ve ailesinin hangi kanallardaki filmleri birlikte izlemeleri uygun değildir?

- A) 1 ve 3.
B) 1 ve 4.
C) 2 ve 3.
D) 2 ve 4.
6. ■ Ayşe Öğretmen ile İngilizce ödevimi yaptık.
■ Sevgi'nin küçük köpeği Tarçın'ı Ankara'dan getirdiler.
■ Nemrut Dağı'nın tepesinde oturup güneşin doğuşunu izlediler.

Aşağıdaki yazım kurallarından hangisinin bu cümlelerde örneği yoktur?

- A) Hayvanlara verilen özel adlar büyük harfle başlar.
B) Gezegen ve yıldız adları büyük harfle başlar.
C) Yer adlarında ilk isimden sonra gelen ve deniz, nehir, göl, dağ, boğaz vb. tür bildiren ikinci isimler büyük harfle başlar.
D) Kişi adlarından önce ve sonra gelen unvanlar, saygı sözleri, rütbe adları ve lakaplar büyük harfle başlar.

7. Aşağıdaki cümlelerin hangisinde "de"nin yazımı doğrudur?

- A) Bende sizinle gelebilir miyim?
B) O bölgede kış mevsiminde sebze yetişir.
C) Onun odasında televizyonda vardı.
D) Dünkü toplantı da sende var mıydın?

8. Sibel ile ailesi, sonbaharın başında Trabzon'a taşındı. Ancak Sibel, Çorum'daki komşularından uzak kalacağı için üzülüyordu. Ayrıca Trabzon'da kimseyi tanıyamıyordu.

Bu parça aşağıdakilerden hangisiyle tamamlanabilir?

- A) Bu durum onu hiç rahatsız etmiyordu.
B) Trabzon'u gezmek için can atıyordu.
C) Yeni arkadaş edinmek epey zaman alacaktı.
D) Güle oynaya eşyalarını yerleştirdi.

9. "Köprü" sözcüğü aşağıdaki cümlelerin hangisinde farklı anlamda kullanılmıştır?

- A) Bu ırmak üzerine üçüncü köprü yapılacak.
B) Sel bütün köprüleri yıkmış.
C) Dişlerine köprü yapılması gerekiyor.
D) Tarihi köprülere yeni isimler verildi.

- 10.

Ömür yetmez bağlarında gezmeye
Kalem yetmez, sırlarını yazmaya
Zaman yetmez, tarihi kazmaya
Dünya cennetimsin, ey Anadolu

Şiirin ana duygusu aşağıdakilerden hangisidir?

- A) Kitap sevgisi
B) Yurt sevgisi
C) Doğa sevgisi
D) Kardeş sevgisi

11. Göktürk Devleti, eski zamanlarda kurulmuş bir Türk devletidir. Göktürk alfabesinde yazılar, sağdan sola doğru yazılır ve okunur. Aşağıda, Göktürk alfabesinin bugünkü alfabemizdeki karşılıkları verilmiştir.

𐰀	𐰁	𐰂	𐰃	𐰄	𐰅	𐰆	𐰇	𐰈	𐰉
H	Ğ	G	F	E	D	Ç	C	B	A
𐰊	𐰋	𐰌	𐰍	𐰎	𐰏	𐰐	𐰑	𐰒	𐰓
P	Ö	O	N	M	L	K	J	I	
𐰔	𐰕	𐰖	𐰗	𐰘	𐰙	𐰚	𐰛	𐰜	𐰝
R	S	Ş	T	U	Ü	V	Y	Z	

Buna göre, Göktürk alfabesi ile ismini yazmak isteyen "TEVFİK", hangi seçenekte ismini doğru yazmıştır?

- A) 𐰑 𐰒 𐰃 𐰄 𐰅 𐰆
- B) 𐰑 𐰒 𐰃 𐰄 𐰅 𐰆
- C) 𐰑 𐰒 𐰓 𐰔 𐰕 𐰖
- D) 𐰑 𐰒 𐰃 𐰄 𐰅 𐰆

12. Aşağıdaki cümlelerde altı çizili sözcüklerden hangisi somut anlamlıdır?

- A) Emre tenis oynayacaktı ancak raketini almayı unutmuştu.
- B) Kızgın adam, kadına ters ters baktı.
- C) Annesi bebeğinin mamasını yedirirken sevgi sözcükleri söylüyordu.
- D) Köyde yaşayan dedemi her zaman hasretle anıyoruz.

- 13.

1 Evini de kedileri ile paylaşmış.

2 Yaşlı bir çiftçi varmış.

3 Bu çiftçi, küçük bir evde yaşarmış.

4 Evvel zaman içinde, kalbur saman içinde.

Yukarıda numaralandırılmış ifadeler paragraf oluşturacak şekilde sıralanırsa doğru sıralama nasıl olur?

- A) 4 - 2 - 3 - 1 B) 1 - 4 - 3 - 2
- C) 2 - 3 - 4 - 1 D) 4 - 2 - 1 - 3

- 14.

Zamanın birinde ünlü bir bilgin varmış. Sultan ona çok güvenir ve onu yanından ayırmazmış. Bilgini kıskanan insanlar, onu sultana kötölemişler. Anlatılanlara inanan sultan bilginin görevine son verip onu saraydan uzaklaştırmış. Bu duruma çok üzülen bilgini, babası "Altın yere düşmekle pul olmaz." sözleriyle teselli etmiş.

Bu metinde renkli yazılan bölüm bir atasözüdür.

Bilginin babası bu atasözü ile aşağıdakilerden hangisini anlatmak istemiştir?

- A) Bulunduğu yerden uzaklaştırılması üstün nitelikli kişinin değerini azaltmaz.
- B) Hata yapan insanlar sahip olduklarını kaybetmeye mahkumdur.
- C) Çözemediğimiz sorunlar için her zaman başkalarından yardım almalıyız.
- D) Her yükselişin mutlaka bir de düşüşü vardır.

TÜRKÇE

15. Altı arkadaş, gittikleri bir sinemanın bilet gişesinde aşağıdaki gibi sıraya girmişlerdir.

- Başak, sıranın en sonundadır.
- Aysel, Ayşe'nin hemen arkasındadır.
- Figen, Mine ile Duygu'nun ortasındadır.
- Duygu, Aysel'in hemen arkasındadır.

Sırada 6 kişi olduğuna göre baştan 4. kişi kimdir?

- A) Aysel B) Mine C) Figen D) Ayşe



16. Melike "Şifreyi Bul, Kazan!" oyununda baştaki deyimleri anlamları ile eşleştirerek şifreyi bulup 100 puan kazanacaktır.

1	İçine doğmak	A	Çok hareketli olmak
2	Ele avuca sığmamak	E	Sık sık söylemekten usanmak
3	Pireyi deve yapmak	K	Birşeyin olacağını sezinlemek
4	Dilinde tüy bitmek	L	Basit bir olayı büyütme
5	İpe un sermek	M	İstenilen işi yapmamak için bahaneler ileri sürmek

1

2

3

4

5

Buna göre Melike, aşağıdaki şifrelerden hangisini belirlerse oyunu kazanır?

- A) EMLAK B) KEMAL C) KELAM D) KALEM



17. Bugün evimize çok özel bir misafir

I

gelecek. Bu yüzden bütün ev baştan aşağı temizlendi. Yemek masası beyaz

II

örtüyle kaplandı. Annem bugüne özel çok lezzetli yemekler yaptı.

III

Yukarıda, altı çizili sözcüklerin eş anlamlılarını aşağıdakilerden hangisinde doğru olarak verilmiştir?

	I	II	III
A)	insan	al	pide
B)	konuk	ak	çorba
C)	konuk	al	aş
D)	konuk	ak	aş

18. ◆ Mesajı şimdi yüksek sesle okudu.

- Köydeki arkadaşlarımı çok özledim.
- ♥ Aşırı buzlanma kazalara neden oldu.
- Atakule'yi görmek istiyorum.

Yukarıda sembollerle gösterilen cümlelerin hangisinde "Ne zaman?" ve "Nasıl?" sorularının cevabı vardır?

- A) ◆ B) ■ C) ♥ D) ●



19. Aşağıdaki tablolar, bir yarışmada en çok madalya kazanan ilk sekiz ülkenin kazandıkları toplam madalya sayılarını göstermektedir.

I. Tablo				II. Tablo			
Ülke	Altın	Gümüş	Bronz	Ülke	Altın	Gümüş	Bronz
Kırgızistan	198	166	185	Azerbaycan	202	223	246
Özbekistan	174	182	217	Tacikistan	175	144	128
Türkiye	976	758	666	Moğolistan	167	144	135
İran	236	272	272	Kazakistan	143	164	176

Tablolara göre aşağıdakilerden hangisi söylenemez?

- A) I. tabloda en fazla altın madalya kazanan ülke Türkiye, II. tabloda ise Azerbaycan'dır.
 B) İran'ın toplam madalya sayısı, II. tablodaki her bir ülkeninkinden fazladır.
 C) En çok altın madalya alan ülke, en çok gümüş madalya alan ülkedir.
 D) En az altın madalya alan ülke, en az bronz madalya alan ülkedir.

20.

Bisiklet sürmekten hoşlanmıyorum.

Deniz kenarında oturmak insanı dinlendirir.

Matematik dersi Türkçe dersinden zordur.

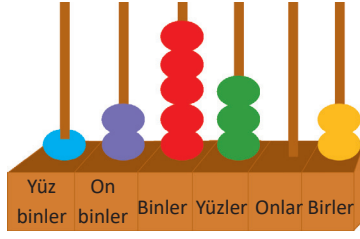
Her gün sekiz saat uyurum.

Hangi ok yönündeki cümlede karşılaştırma yapılmıştır?

A) ↑ B) ← C) → D) ↓

MATEMATİK

1. Mert, abakütle bir sayı göstermiştir.



Mert'in abaküste gösterdiği sayının okunuşu aşağıdakilerden hangisidir?

- A) Yüz iki bin üç yüz iki
B) Yüz yirmi beş bin üç yüz iki
C) Yüz beş bin üç yüz on iki
D) Yüz yirmi beş bin dört yüz iki

- 2.

+	114	2015	3145
1256	1370	■	4401
2075	2189	4090	●

Yukarıdaki tabloya göre ■ ve ● ile ifade edilen sayıların toplamı kaçtır?

- A) 5220
B) 6181
C) 8491
D) 8591

- 3.

$$\begin{array}{r} 8624 \\ - 4865 \\ \hline A B C D \end{array}$$

Yukarıdaki çıkarma işlemine göre A, B, C ve D rakamlarının hepsini kullanarak yazılabilecek en büyük doğal sayı kaçtır?

- A) 9753
B) 9653
C) 8653
D) 8543

- 4.




Bir çiftlikte koyun ve keçilerin sayıları toplamı 3736'dır.

Koyunların sayısı keçilerin sayısından 1008 fazla ise keçilerin sayısı kaçtır?

- A) 1184
B) 1264
C) 1284
D) 1364

5.



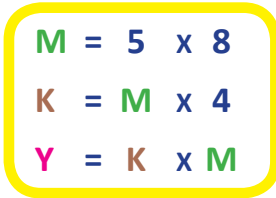
$$\begin{array}{r} 2053 \\ - 1675 \\ \hline \dots\dots\dots \end{array}$$

Can, yukarıdaki işlemin sonucunu sayıları en yakın yüzlüğe yuvarlayarak, Sibel ise en yakın onluğa yuvarlayarak tahmin ediyor.

Bu durumda aşağıdakilerden hangisi söylenemez?

- A) Sibel'in tahmini, Can'ın tahmininden 70 eksiktir.
- B) Sibel'in tahmini gerçek sonuca daha yakındır.
- C) Can'ın tahmini gerçek sonuca 22 yaklaşıktır.
- D) Sibel'in tahmini gerçek sonuçtan küçüktür.

6.



$$\begin{aligned} M &= 5 \times 8 \\ K &= M \times 4 \\ Y &= K \times M \end{aligned}$$

Yukarıda verilen işlemlere göre

$$M + (K + Y)$$

işleminin sonucu kaçtır?

- A) 5400
- B) 5600
- C) 6400
- D) 6600

7.



Bir sinemada 20 sıra koltuk vardır. Her sırada 15 koltuğun bulunduğu salonda bütün biletler satılmıştır.

Bilet fiyatı 24 lira olduğuna göre satışlardan kaç lira gelir elde edilir?

- A) 7500
- B) 7400
- C) 7300
- D) 7200

8.

Mustafa Bey, semt pazarında öğlene kadar 540 yumurtanın yarısını sattı. Öğleden sonra da kalan yumurtaların yarısını sattı.

Buna göre, Mustafa Bey'in satmak için geriye kaç yumurtası kalmıştır?

- A) 140
- B) 135
- C) 130
- D) 125



9. Ayla'nın elinde 3 beyaz, 2 siyah ve 2 gri kağıt parçası bulunmaktadır. Ayla önce siyah olmayan her kağıt parçasını ikiye, sonra da beyaz olmayan her kağıt parçasını ikiye bölüyor.

Bu işlemler sonucunda Ayla'nın elinde toplam kaç kağıt parçası olmuştur?

- A) 14 B) 16
C) 17 D) 18

10.

$\frac{A}{9}$ basit kesirdir.

$\frac{B}{12}$ bileşik kesirdir.

Yukarıda verilenlere göre "A" yerine yazılabilecek en büyük doğal sayı ile "B" yerine yazılabilecek en küçük doğal sayının çarpımı kaçtır?

- A) 90 B) 96
C) 99 D) 104



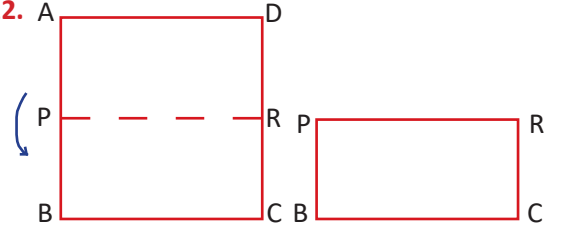
11.

$$3 \frac{7}{10} - 1 \frac{4}{10} < \bullet$$

Yukarıdaki karşılaştırmada \bullet ile ifade edilen kesir yerine aşağıdakilerden hangisi yazılabilir?

- A) $2 \frac{3}{10}$ B) $2 \frac{2}{10}$
C) $2 \frac{7}{10}$ D) $1 \frac{8}{10}$

12.



Aysel, çevresi 64 cm olan ABCD karesini tam ortadan katlayarak PRCB dikdörtgenini elde ediyor.

Buna göre PBCR dikdörtgeninin çevre uzunluğu kaç santimetre olur?

- A) 48 B) 40
C) 36 D) 32



13.



Hangi seçenekte verilen saat yukarıdaki dijital saatle aynı zamanı göstermektedir?

A)




B)



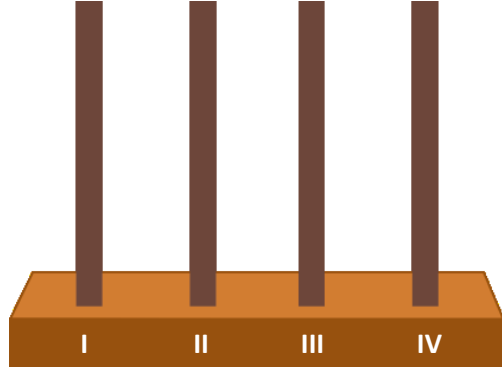
C)



D)



14.



Yeterince uzun olan çubuklara aşağıdaki kurala göre boncuklar takılmıştır.

I nolu çubuğa 1 boncuk

II nolu çubuğa 2 boncuk

III nolu çubuğa 3 boncuk

IV nolu çubuğa 4 boncuk

I nolu çubuğa 5 boncuk

II nolu çubuğa 6 boncuk

.....

Buna göre 61 tane boncuğun tümü çubuklara takıldığında en çok boncuk olan çubukta kaç boncuk vardır?

A) 15

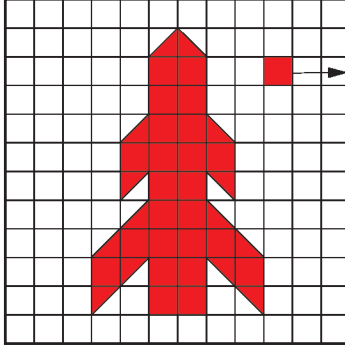
B) 18

C) 20

D) 21



15.



1 birimkare

Yukarıdaki şeklin alanı kaç birimkaredir?

- A) 31 B) 33
C) 35 D) 39

16. Aşağıdaki kelimelerden hangisinin tüm harflerinin dikey simetri eksenini vardır?

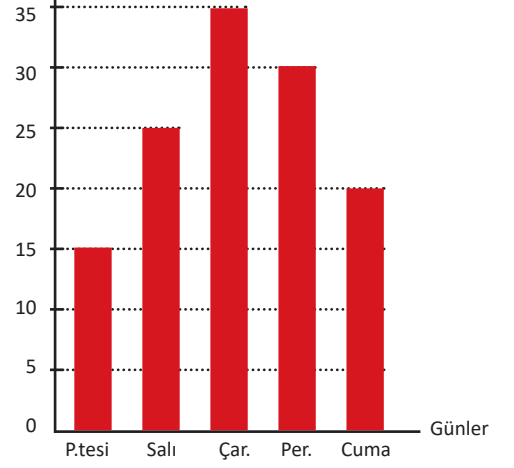
- A) T B) M
A A
S K
A i
c) A D) M
Y U
V R
A A
T



17.

Grafik: Lara'nın Beş Günde Çözdüğü Soru Sayıları

Soru Sayısı



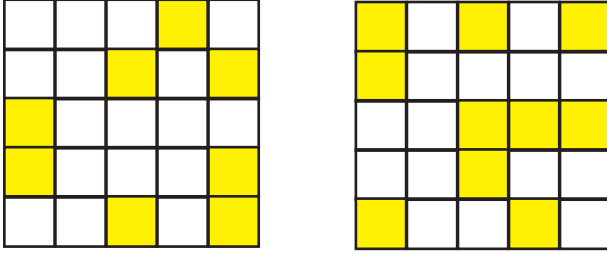
Yukarıdaki grafikte Lara'nın beş günde çözdüğü soru sayıları gösterilmektedir.

Grafığe göre aşağıdakilerden hangisi yanlıştır?

- A) En fazla soruyu çarşamba günü çözmüştür.
B) Beş günde toplam 140 soru çözmüştür.
C) En az soruyu pazartesi günü çözmüştür.
D) Perşembe ve cuma günleri toplam 50 soru çözmüştür.



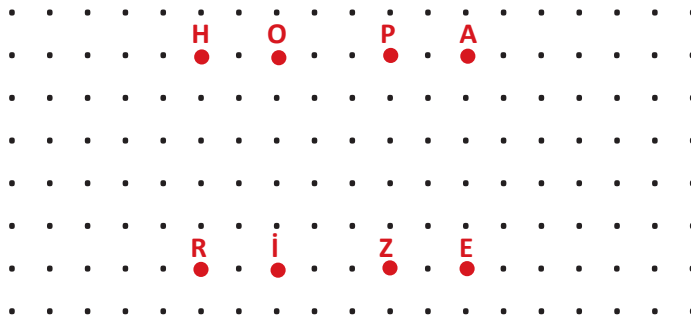
18. Aşağıdaki şeffaf kartlar eşit büyüklükte karelere bölünmüş ve bazı kareler sarıya boyanmıştır. Diğer kareler arkasını göstermektedir.



Bu kartlar üst üste geldiğinde sarı karelerin birleşimiyle bir sayı oluşmaktadır. Bu sayı kaçtır?

- A)
- B)
- C)
- D)

- 19.

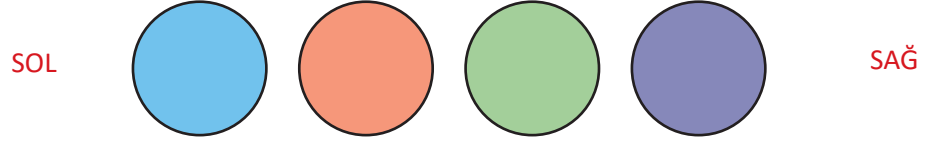


Yukarıdaki noktaların doğru parçaları ile birleşimi sonucu hangi geometrik şekil elde edilemez?

- A) HOP üçgeni B) HPZR karesi C) HAER dikdörtgeni D) ARZ üçgeni

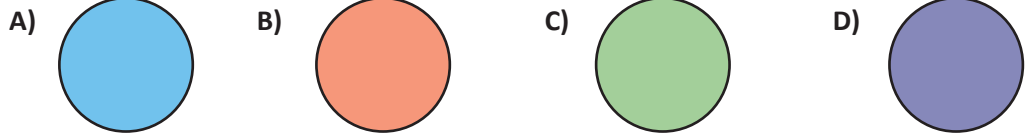


20. Farklı renklerdeki toplar aşağıdaki gibi sıralanmıştır.



Önce soldan 1. sıradaki ile sağdan 2. sıradaki topların, sonra soldan 3. sıradaki ile sağdan 1. sıradaki topların yerleri değiştirilmiştir.

Son durumda soldan 3. sıradaki top hangisidir?



1. Dinimizce yenilmesi, içilmesi, yapılması ve kullanılması yasak olan şeylere denir.

Yukarıdaki bu tanımda boş bırakılan yere aşağıdakilerden hangisi getirilmelidir?

- A) haram
- B) helal
- C) şifa
- D) ahlak

2. "Ey iman edenler! Allah'ı çokca zikredin."

"Siz beni anın ki ben de sizi anayım."

Yukarıda verilen ayetlerde Allah'ı anmamız gerektiği anlatılmaktadır.

Buna göre, aşağıdakilerden hangisi Allah'ı anmanın yoludur?

- A) İyilik yapmak
- B) Besmele çekmek
- C) Hayal kurmak
- D) Güleryüzlü olmak

3. Kur'an-ı Kerim ile ilgili verilen bilgilerden hangisi **yanlıştır**?

- A) Hz. Muhammed'e (s.a.v) indirilmiştir.
- B) Son ilahi kitaptır.
- C) Arapça yazılmıştır.
- D) Zaman içinde bazı değişikliklere uğramıştır.

4. Kelime-i Tevhit: "La ilahe illallah Muhammed ün Resulallah." cümlesidir.

Kelim-i Tevhit'in anlamı aşağıdakilerden hangisidir?

- A) "O, doğurmamış ve doğmamıştır. Onun hiçbir dengi yoktur."
- B) "De ki O, Allah birdir. Her şey ona muhtaçtır. O hiçbir şeye muhtaç değildir."
- C) "Allah'tan başka ilah yoktur. Hz. Muhammed (s.a.v) Allah'ın kulu ve elçisidir"
- D) "Hz. Muhammed (s.a.v), İslam dininin Peygamberi'dir."

5. Kur'an-ı Kerim'in bölümleri ile ilgili kavramların **büyükten küçüğe** doğru sıralaması aşağıdakilerin hangisinde **doğru** olarak verilmiştir?

- A) Sure - cüz - ayet
- B) Cüz - ayet - sure
- C) Ayet - cüz - sure
- D) Cüz - sure - ayet

6. Peygamberimizin doğum yeri ve tarihi aşağıdakilerden hangisinde **doğru** olarak verilmiştir?

- A) Medine - 571
- B) Mekke - 571
- C) Medine - 611
- D) Mekke - 611



DİN KÜLTÜRÜ VE AHLAK BİLGİSİ

7.



Arda

Babacığım, güzel ahlaklı olmak için ne yapmalıyız?

Arda'nın sorusuna babasının cevabı aşağıdakilerden hangisi olabilir?

- A) İnsanlara kızarak yaklaşmalıyız.
- B) Şaka da olsa yalan söylememeliyiz.
- C) Kazandığımız paradan çok harcamalıyız.
- D) Herkesten önce kendi çıkarlarımızı düşünmeliyiz.

8.

Anne babalar birçok konuda daha deneyimli ve bilgilidirler. Çocuklarının zarar görmelerini ve sıkıntıya düşmelerini istemezler. Bundan dolayı aile büyükleri zaman zaman çocuklarını çeşitli tehlikelere karşı uyarırlar. Kötü ahlaklı kişilerle arkadaşlık yapmalarını istemezler.

.....

Yukarıdaki paragrafın son cümlesi aşağıdakilerden hangisi olabilir?

- A) Bu yüzden onları üzecek davranışlardan kaçınmalı ve güzel ahlaklı kişilerden arkadaşlarımızı seçmeliyiz.
- B) Bu yüzden yapmak istediklerimizi onlar görmeden yapmalıyız.
- C) Bu yüzden arkadaşlarımızı onlardan gizlemeliyiz.
- D) Bu yüzden her şeyi onlara anlatmalıyız.

9.

Aşağıdaki öğrencilerden hangisi Peygamberimizin doğduğu ortamla ilgili yanlış bilgi vermiştir?

A)



Put a tapanlar vardı.

B)



Kölelik vardı.

C)



Okuma yazma oranı yüksekti.

D)



İnsanlar arasında kan davası vardı.

10. Dünyadaki bütün müslümanların günde beş vakit namaz kılarak yöneldikleri Kabe hangi şehirdedir?

- A) İstanbul
- B) Kudüs
- C) Mekke
- D) Medine

11. Peygamberimizin doğum gününü kutladığımız kandil gecesine kandili denir

Yukarıda boş bırakılan yere hangi kelime gelmelidir?

- A) Regaib
- B) Berat
- C) Mevlid
- D) Miraç



12. Tefvik İleri Anadolu İmam Hatip Lisesi ortaokulu öğrencileri, "Dürüstlük Dükkanı" adında proje kapsamında okulda kurulan dürüstlük köşesi adı verilen yerden alışverişlerini yaptıktan sonra almış olduklarının karşılığı olan tutarı arada kimse olmadan kasaya bırakıyorlar. Çocuklar doğruluğun ve dürüstlüğün en güzel örneğini sergileyerek dürüstlük dükkanından satıcısı olmaksızın alışveriş yapıyorlar. Öğrenciler almış oldukları ürünlerin üzerlerinde yazan fiyatlardan daha fazla para verdilerse para üstlerini de yine kendileri alıyorlar. Bu sayede kendi vicdanlarıyla başbaşa bırakılan öğrenciler doğru ve güvenilir olmanın farkındalığına varıyorlar.

Buna göre öğrencilerin Hz. Muhammed'in (s.a.v) aşağıdakilerden hangi tutumunu tam olarak kavradıkları söylenebilir?

- A) Güvenilir olmak
- B) Adaletli olmak
- C) Ticaret erbabı olmak
- D) Güler yüzlü olmak

13. Aşağıdaki davranışlardan hangisi, Allah'ın sevgisini kazanmak isteyen bir kişinin yapmayacağı bir davranıştır?

- A) Sözünde ve davranışlarında dürüst olur.
- B) Arkadaşlarının arkasından konuşur.
- C) Akrabalarına karşı saygılı olur.
- D) Derslerine çalışır, sorumluluklarını yerine getirir.

14.

"Bir şişenin içine pis bir şey konup ağzı kapatılsa dışı ne kadar temizlenirse temizlensin içi kirli kalmış olur.

(Hacı Bektaş-ı Veli, Mülakat, s.15)

Hacı Bektaş-ı Veli'nin bu sözünü manevi temizlik açısından değerlendirirsek vermek istediği mesaj aşağıdakilerden hangisidir?

- A) Sadece dış temizliğe değil, iç temizliğe de önem vermemiz gerekmektedir.
- B) İçi pis olanın dışı da pistir.
- C) Hem vücudumuzu hem de kıyafetlerimizi sık sık yıkamalıyız.
- D) İnsanlar temiz olmayan ortamlarda sağlıklı ve huzursuz olurlar.

15. Yüce Allah, bizden sadece dış temizliğe değil, iç temizliğe de önem vermemizi istemektedir.

Aşağıdakilerden hangisi iç temizliğimize katkı sağlar?

- A) İnsanlara ve diğer canlılara ön yargıyla yaklaşmak
- B) İnsanları huzursuz edecek söz ve davranışlarda bulunmak
- C) Çöpleri çöp kutusuna atmak
- D) Zihnimizi kıskançlık, kin ve düşmanlık gibi kötü duygu ve düşüncelerden arındırmak



16.

Hz. Peygamber (s.a.v) şöyle buyurmuştur: “Ümmetimin bütün amelleri bana gösterildi. Ümmetimin güzel amelleri arasında (diken, taş, cam ve çöp gibi) eziyet veren şeyleri yoldan kaldırmayı gördüm. Kötü amelleri arasında da mescitlere tükürmeyi gördüm.” (Müslim)

Aşağıdakilerden hangisi bu hadisten çıkarılacak sonuçlardan biri değildir?

- A) İnsanların ayaklarına batacak şeyleri yoldan kaldırmak dinen iyi sayılır.
- B) Peygamberimiz temiz olmamızı ister.
- C) Ortalığa tükürmek dinen kötü görülür.
- D) İslam günlük işlerimizle ilgilenmez.

17.

Ebu Zer, Müslüman olmadan önce yol kesen, insanların mallarını zorla gasp eden bir kimseydi. Ancak Müslüman olduktan sonra bu kötü davranışlarından vazgeçtiği gibi köyündeki pek çok kimsenin de Müslüman olmasını sağladı. Ebu Zer bunu gönderilen ayetlere uyararak ve Peygamberimizin yaptıklarını örnek alarak başardı.

Ebu Zer'in bu değişimi dinin aşağıdaki alanlardan hangisine doğrudan etki ettiğini göstermektedir?

- A) Bireyin ahlakını güzelleştirmesi
- B) Kötü davranışlara yönlendirmesi
- C) Kırsal yaşamı şehir yaşamına benzetmesi
- D) Toplumsal ihtiyaçları karışılması

18.

“Allah'ım! Sen bütün eksikliklerden, noksanlıklardan ve kusurlardan uzaksın, seni daima böyle tenzih eder ve överim. Senin adın mübarektir. Varlığın her şeyden üstündür. Senin övgün yücedir. Senden başka ilah yoktur.”

Yukarıda Sübhaneke Duası'nın anlamı verilmiştir. Sübhaneke duasının konusu aşağıdakilerden hangisidir?

- A) Allah'tan af dilemek
- B) Allah'ı övmek
- C) Peygambere salavat getirmek
- D) Allah'a şükretmek

19.

Zengin sayılan kimseler mallarının belirli bir bölümünü ihtiyaç sahibi kimselere verirler. Bu ibadete zekat adı verilir. Zekat İslam'ın şartlarından birisidir.

Aşağıdakilerden hangisi zekatın faydalarından birisidir?

- A) Vücudun sürekli temiz kalmasını sağlar.
- B) Aç kalan kimseler, açlığın ne demek olduğunu bilirler.
- C) Hastalar, sağlığın kıymetini anlar.
- D) Fakirler ile zenginler arasındaki ilişkiler gelişir.

20.

Durumlar		İfadeler	
1	Hasta ziyaretine gidildiğinde söylenir.	a	Allah şifa versin.
2	Sınava giren birine söylenir.	b	Allah yardımcın olsun.
3	Ayrılık zamanında giden kişi tarafından kalan kişiye söylenir	c	Allah rahmet eylesin.
		d	Allah'a ısmarladık.

Yukarıdaki sayılarla belirtilen durumlarla bu durumlarda söylenmesi gereken ifadeleri eşleştirdiğimizde hangi ifade açıkta kalır?

A) a

B) b

C) c

D) d



1. Aşağıdaki balonların içinde tasarrufla ilgili bilgiler yazmaktadır.



Hangi balonda yanlış bilgi verilmektedir?

- A) Mor B) Mavi
C) Sarı D) Kırmızı

3. “Güneş Trabzon’da, Edirne’den önce doğar.

Yukarıda verilen olayın gerçekleşme sebebi hangisidir?

- A) Dünya’nın kendi eksenini etrafında batıdan doğuya doğru dönmesi
B) Dünya’nın Güneş etrafında dolanması
C) Bir günün 24 saat olması
D) Güneş’in Dünya etrafında dolanması



2. Fossil bilimi ile ilgilenen bir bilim insanı, incelemekte olduğu fosille ilgili aşağıdaki sorulardan hangisine cevap veremez?

- A) Canlıken yaşadığı ortamın iklim özellikleri nelerdir?
B) Canlıken yaşadığı ortamın bitki örtüsü nasıldır?
C) Canlıken göz rengi neydi?
D) Canlıken beslenme şekli nasıldır?

4. Tükettiğimiz yiyeceklerde farklı besin içerikleri bulunur ve besinler bu içeriklerin yoğunluğuna göre gruplanır.

Buna göre aşağıdaki eşleştirmelerden hangisinde hata yapılmıştır?

Besin içeriği	Örnek
A) Karbonhidrat	→ Börek
B) Yağ	→ Ayçiçeği
C) Yağ	→ Zeytin
D) Protein	→ Ekmek



5. Gıda ürün paketlerinin yeniden kullanılabilir olduğunu gösterir. Bu ürünleri toplamak ve ürünlerin geri dönüşümünü sağlamak, ülke ekonomisine büyük katkı sağlar.

Bu açıklama aşağıdaki amblemlerden hangisine aittir?

A)



B)



C)



D)



6. Aşağıdakilerden hangisi gürültüyü (ses kirliliği) azaltmak amacıyla alınabilecek önlemlerden biri değildir?

- A) Binalarda ses yalıtımı yapmak.
B) Evlerde televizyon ve müzik aletlerinin seslerini yükseltmek.
C) Motorlu taşıtların gereksiz korna çalmasını önlemek.
D) Havaalanı, otogar, stadyum gibi gürültülü mekanları yerleşim yerlerinden uzağa kurmak.

7. Sigara kullanımı, insan sağlığını tehdit eden kötü bir alışkanlıktır. Sigara vücudumuzda başta olmak üzere birçok organımıza zarar verir.

Yukarıdaki açıklamada boş bırakılan yere yazılabilecek en uygun organ hangisidir?

- A) diş B) mide
C) akciğer D) karaciğer

8. I. Mıknatısın aynı kutupları birbirini iter.
II. Mıknatısların uyguladıkları kuvvet temas gerektirmeyen kuvvettir.
III. Mıknatısları parçalara bölersek mıknatıslık özelliğini kaybeder.
IV. Mıknatıslarda zıt kutuplar birbirini çeker.

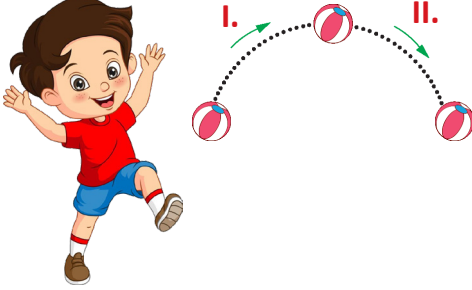
Mıknatıslarla ilgili yukarıdaki ifadelerden hangileri doğrudur?

- A) II ve III B) I, II ve IV
C) III ve IV D) I, II, III ve IV



FEN BİLİMLERİ

9. Melih yerdeki topa vurarak yukarı doğru gitmesini sağlıyor. Topun hareket esnasında izlediği yol, aşağıdaki görselde verilmiştir. Topun bazı konumları numaralarla belirtiliyor.



Görsel göre I ve II. konumlarda bulunan topun hareket çeşidi aşağıdakilerden hangisidir?

	I	II
A)	Hızlanma	Durma
B)	Durma	Hızlanma
C)	Yavaşlama	Hızlanma
D)	Hızlanma	Yavaşlama

10.




Akışkan maddelerin kütlelerini bir kap yardımıyla ölçeriz. Terazide önce akışkan maddeyi koyacağımız boş kabın kütlelerini terazide tartarak ölçeriz. Yaptığımız bu işleme tara alma denir.

Buna göre aşağıda verilen maddelerden hangisinin kütlelerini ölçerken tara almamız **gerekmez**?

- A) Küp şekeri
B) Süt
C) Zeytinyağı
D) Ayran

11.



?

170 mL

Hacmi 60 mL olan bir taş, dereceli silindire atılıyor. Su seviyesinin 170 mL olduğu gözleniyor.

Buna göre dereceli silindirde kaç mL su vardır?

- A) 60 mL
B) 110 mL
C) 170 mL
D) 230 mL

12. Sıcaklıkları farklı maddeler bir araya geldiğinde sıcak madde soğur, soğuk madde ise ısınır.

Buna göre aşağıda verilen kaplardaki sular bir araya geldiğinde hangi seçenekte verilen bilgi **yanlış** olur?

- A) +
Isınır Soğur
- B) +
Soğur Isınır
- C) +
Isınır Soğur
- D) +
Soğur Isınır



13. Aşağıdaki tabloda üç maddenin saf madde mi yoksa karışım madde mi olduğu gösterilecektir.

Madde	Saf Madde	Karışım
Tuz		
Kola		
Kek		

Bu tablonun doğru doldurulmuş hali aşağıdakilerden hangisidir?

- A)

✓	
	✓
✓	

 B)

	✓
	✓
✓	
- C)

✓	
	✓
	✓

 D)

	✓
✓	
	✓

14.



1879 yılında uzun çalışmalarım sonucunda ampülü icat ettim.

Kendisini yukarıdaki gibi ifade eden bilim insanı aşağıdakilerden hangisidir?

- A) Pasteur (Pastör)
B) Gallieo (Galileo)
C) Albert Einstein (Albirt Aynştayn)
D) Thomas Edison (Tamis Edison)

15. Göz sağlığımızı korumak için ışığı doğru kullanmalıyız.

Buna göre aşağıdakilerden hangisi ışığın doğru kullanımına örnek değildir?

- A) Çalışma ortamında bol aydınlatma aracı kullanılmalıdır.
B) Çalışma lambasının ışığı sol arkadan gelmelidir.
C) Gözümüzle kitap arasında 30-40 cm mesafe olmalıdır.
D) Çalışma ortamlarında ışık doğrudan gözümüze gelmemelidir.

16. Deniz, sınıfta ışık kirliliği ile ilgili bir sunum yapmaktadır. Bu sunumda, ışık kirliliğini azaltmak için önerilerde bulunmaktadır.

Buna göre aşağıdakilerden hangisi önerilerden biri olabilir?

- A) Gereksiz aydınlatma kullanan insanları uyarmalıyız.
B) Kullanmasak da lambaları açık bırakmalıyız.
C) Daha çok enerji harcayan ampuller kullanmalıyız.
D) Bulduğumuz ortamda bol aydınlatma aracı kullanmalıyız.



FEN BİLİMLERİ

17. Aşağıdaki tablo atk maddelerin geri dönüştürülüp dönüştürülemeyeceği gösterecektir.

Geri dönüştürülebilir mi?	Evet	Hayır
Karton		
Plastik şişe		
Teneke kutu		

Bu tablo doğru şekilde doldurulduğunda aşağıdakilerden hangisine ulaşılır?

A)

✓	
✓	
✓	

 B)

	✓
✓	
✓	

 C)

✓	
✓	
	✓

 D)

	✓
	✓
✓	

18.



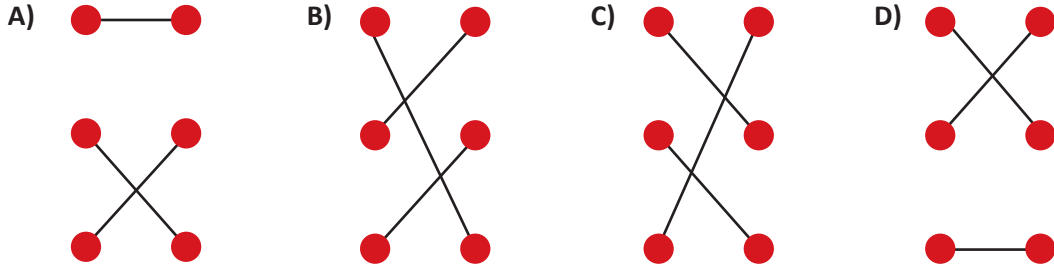
Yukarıdaki haritanın adı hangi seçenekte verilmiştir?

- A) Türkiye Maden Haritası
 B) Geleneksel El Sanatları Haritası
 C) Tarihi Yerler, Doğal Güzellikler Haritası
 D) Türkiye Fiziki Haritası

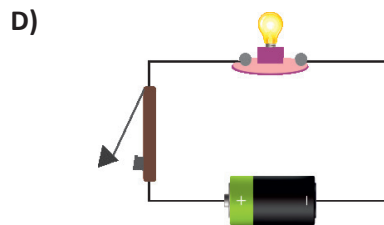
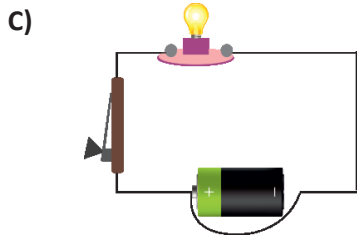
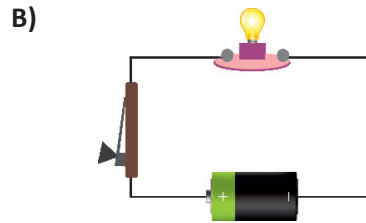
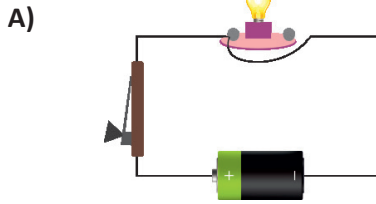
19.

Devre için elektrik enerjisi üretir.	●	●	Bağlantı kablosu
Elektrik enerjisini ışık ve ısı enerjisine çevirir.	●	●	Pil
Elektrik enerjisinin taşınmasını sağlar	●	●	Ampul

Yukarıdaki tanımlarla kavramlar eşleştirilirse aşağıdakilerden hangisine ulaşılır?



20. Aşağıda verilen devrelerden hangisindeki ampul ışık verir?



SOSYAL BİLGİLER

1.



Kimlik kartı, devletin vatandaşlarını daha kolay tanımak ve ona daha iyi hizmet sunabilmek için verdiği bir belgedir.

Bu belgede, aşağıdakilerden hangisi yer alır?

- A) Doğduğu hastane
- B) Ev adresi
- C) Öğrenim durumu
- D) T.C. kimlik numarası

2.

- 1 2007 yılında doğdum.
- 2 2013 yılında okula başladım.
- 3 2011 yılında kreşe başladım.
4. 2008 yılında konuşmaya başladım.
5. 2017 yılında ilkokuldan mezun oldum.

Leyla kendi yaşam öyküsünü kronolojik olarak sıralarken hata yapmıştır. Hangi iki cümle yer değiştirirse sıralama doğru olur?

- A) 1 ve 4
- B) 2 ve 4
- C) 3 ve 4
- D) 2 ve 5

3.

Aşağıdakilerden hangisi engelli insanların günlük hayatta daha rahat yaşayabilmeleri için yapılması gerekenlerden biridir?

- A) Kaldırımların yüksek olması
- B) Toplu taşıma araçlarına biniş rampası yapılması
- C) Bisikletler için ayrı yol yapılması
- D) Okullarda ayrı sınıflara yerleştirilmesi

4.

Kültürel zenginliklerimizden olan halk oyunları, farklı bölgelerimizde farklı şekillerde oynanmaktadır. Trabzondakiler horon oyunu oynar, Diyarbakırdakiler halay oyunu oynarlar.

Bu duruma göre, aşağıdakilerden hangisi söylenebilir?

- A) Oyunlar sadece düğünlerde oynanır.
- B) Halk oyunları her yerde oynanmaz.
- C) Kültür, yöreden yöreye çeşitlilik gösterir.
- D) Herkes, halk oyunu bilir.

5.

Türkiye'nin kuzeyinde güneyinde ise bulunur.

Yukarıdaki cümlede boş bırakılan yerlere sırasıyla hangi deniz isimleri yazılmalıdır?

- A) Karadeniz - Akdeniz
- B) Ege Denizi - Marmara Denizi
- C) Akdeniz - Karadeniz
- D) Karadeniz - Ege Denizi

6. Milli Mücadele Dönemi'nde ülkemizde üç cephede mücadele edildi. Bu cephelerden biri olan Güney Cephesi'nde halkı örgütleyen ve liderlik yapan önemli isimler vardı. Maraş'ta Sütçü İmam, Urfa'da Ali Saip Bey, Antep'te Şahin Bey bu isimler arasında yer alıyordu. Bu kişiler halka önderlik yapmış ve düşmana karşı mücadele edilmesini sağlamıştır.

Verilen bilgilerden yola çıkarak aşağıdakilerden hangisi söylenemez?

- A) Güney Cephesi'nde halk vatani için mücadele etmiştir.
 B) Milli Mücadele Dönemi'nde insanlar birlik ve beraberlik kurmuşlardır.
 C) Güney Cephesi'nde halka liderlik eden önemli kişiler vardır.
 D) Milli Mücadele'nin tek cephesi Güney Cephesi olmuştur.

7.

I Erzurum Kongresi

II Sivas Kongresi

III TBMM'nin açılışı

IV Cumhuriyetin İlanı

Yukarıdaki olayların kronolojik sıralaması hangi seçenekte doğru verilmiştir?

- A) I - II - III - IV
 B) II - I - III - IV
 C) I - III - II - IV
 D) I - II - IV - III

8. Ülkemizi Yunan işgaline karşı halk, canla başla savunmuştur.

İzmir'de, Yunan işgaline karşı ilk kurşunu sıkarak tepkisini ortaya koyan vatansız aşağıdakilerden hangisidir?

A)




Şahin Bey

B)



Atatürk

C)



Hasan Tahsin

D)



Çerkez Ethem



SOSYAL BİLGİLER

9. Öğretmen, Hasan'a ailesinin tarihini yazma ödevini vermiştir.





Hasan'ın bu ödevi yazarken;

- I. Ailenin büyüklerinden yararlanma
- II. Vefat eden aile büyüklerinin eşyalarına bakma
- III. Eski fotoğraf albümlerine bakma
- IV. Sınıf arkadaşının bilgilerine başvurma

yollarından hangisini izlemesi doğru olmaz?

- A) I B) II
C) III D) IV

10.

Hava Olayı	Gün Sayısı
	17
	5
	5
	3

Yukarıda Çorum iline ait bir aylık hava durumu tablosu verilmiştir.

Buna göre tablonun ait olduğu ay hangi mevsimde bulunur?

- A) Yaz B) Sonbahar
C) Kış D) İlkbahar

11. Aşağıdakilerden hangisi toplum için yerine getirmemiz gereken sorumluluklarımızdandır?

- A) Derslerimizi zamanında yapmak
B) Alışveriş yaparken anne babamıza yardım etmek
C) Odamızın temiz ve düzenli olmasına dikkat etmek
D) Sokağımızı ve parkımızı temiz tutmak

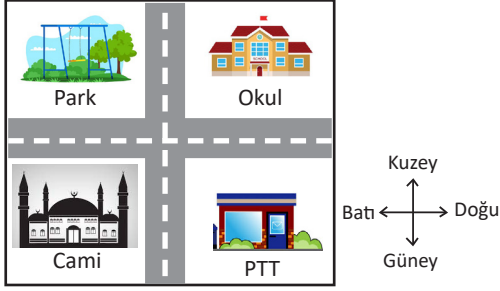
12.



Aşağıdakilerden hangisi fotoğrafta görülen doğal afete karşı alınacak tedbirlerden biridir?

- A) Yerleşim yerlerini akarsu yataklarından uzak yapmak
B) Fay hatları üzerine yerleşim yeri yapmamak
C) Şehir içinde çok sayıda oyun parkı yapmak
D) Binaları yüksek katlı inşa etmek.

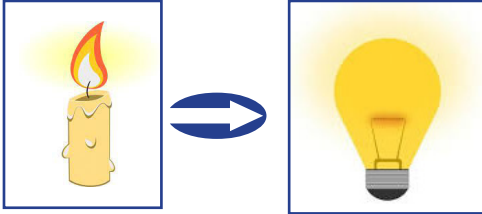
13.



Yukarıdaki yerleşim planı hakkında verilen bilgilerden hangisi yanlıştır?

- A) Park, okulun doğusundadır.
- B) Cami, parkın güneyindedir.
- C) Cami, PTT'nin batısındadır.
- D) Okul, PTT'nin kuzeyindedir.

14.



Görsellerdeki varlıklar arasında görülen ilişki aşağıdakilerden hangileri arasında vardır?

- A) Radyo - Televizyon
- B) Abaküs - Hesap makinesi
- C) Fırın - Buzdolabı
- D) Telefon - Bilgisayar

15.

Bu kurum ülkemizde radyo ve televizyon yayınlarını denetlemektedir. Bu kurum çocukları ve gençleri özellikle televizyonun zararlı etkilerinden korumak amacıyla çalışmalar yürütmektedir.

Yukarıda hangi kurumdan bahsedilmiştir?

- A) TÜBİTAK
- B) TÜİK
- C) RTÜK
- D) MEB

16.



Yukarıdaki fotoğrafta teknolojinin hangi yanlış kullanımı görülmektedir.

Bu durumun nedeni aşağıdakilerden hangisidir?

- A) Araç kullanırken cep telefonu kullanılması
- B) Cep telefonunun kulağa götürülmeden kullanılması
- C) Cep telefonunun çok büyük boyutta olması
- D) Cep telefonunun sağ elde tutulması



17. Bir marketten peynir alacak olan ailenin aşağıdakilerden hangisine dikkat etmesi gerekir?

- A) Peynirin paket renginin sevdikleri renk olup olmadığına
- B) Peynirin son kullanma tarihinin geçip geçmediğine
- C) Peynirin garanti belgesi olup olmadığına
- D) Peynirin en pahalı peynir olup olmadığına

18. Aşağıdakilerden hangisi sorumluluk bilen bir satıcının davranışları arasında yer almaz?

- A) Satıldığı ürünle ilgili bütün bilgileri açıklar.
- B) Ayıplı ya da kusurlu ürün satmaz.
- C) Satıldığı ürünün fiş ya da faturasını verir.
- D) Ürün hatalı çıktığında müşteriyle ilgilenmez.



19. Her ailenin belirli bir geliri ve gideri vardır. Aileler, zor durumda kalmamak için gelirlerinin gelirlerinden fazla olmamasını sağlamalı ve tedbirli olmalıdır.

Aşağıdaki atasözlerinden hangisi bu durumu destekleyen bir atasözdür?

- A) Ak akçe kara gün içindir.
- B) Elden gelen öğün olmaz.
- C) Ayağını yorganına göre uzat.
- D) Erken kalkan yol alır.

20. Aşağıdakilerden hangisi Türkiye'den kara yoluyla ulaşılacak ülkelerden biridir?

- A) Amerika Birleşik Devletleri
- B) Meksika
- C) Japonya
- D) Bulgaristan





SINAVA BAŞLAMADAN ÖNCE AŞAĞIDAKİ UYARILARI MUTLAKA DİKKATLİCE OKUYUNUZ

- 1.** Sınav kimlik bilgilerinizin doğruluğundan emin olunuz.
- 2.** Sınav başladıktan sonra çevrenizdekilerle konuşmayınız.
- 3.** Soruları cevaplamaya istediğiniz sorudan başlayabilirsiniz.
- 4.** Cevaplarınızı cevap kağıdındaki ilgili soru numarasını dikkate alarak uygun bölüme kodlayınız.
- 5.** Değiştirmek istediğiniz cevabı cevap kağıdına kodladığınızdan emin olunuz.
- 6.** Cevabını bilmediğiniz sorular üzerinde fazla zaman kaybetmeden diğer sorulara geçiniz. Zaman kalırsa bu sorulara daha sonra dönebilirsiniz.
- 7.** Sınav puanlarınızın hesaplanmasında sadece doğru cevaplarınız dikkate alınacaktır.
- 8.** Cevap anahtarımızı sınav süresince başkalarının görmeyeceği şekilde önünüzde bulundurunuz.
- 9.** Sınav sırasında sözlük, hesap makinesi, cep telefonu ve bilgisayarınızın bu özelliklerini kullanmayınız.
- 10.** Sınav süresince yerinizden ayrılmayınız.