



ANKARA

**TEVFİK İLERİ**  
**ANADOLU İMAM HATİP LİSESİ**  
**2022-2023 EĞİTİM ÖĞRETİM YILI**

ADI SOYADI :

T.C. KİMLİK NO :

**7. SINIFLAR**

**SIRALAMA SINAVI**

- 1.** Bu sınav 2022-2023 Eğitim-Öğretim Yılı Tevfik İleri Anadolu İmam Hatip Lisesi'ne yerleşecek öğrencilerin kavrama düzeylerini ölçmek amacıyla hazırlanan "SIRALAMA SINAVI"dır.
- 2.** Sınav toplam 100 soru ve Türkçe, Matematik, Din Kültürü ve Ahlak Bilgisi, Fen Bilimleri ve Sosyal Bilgiler testlerinden oluşmaktadır. Her test 20 sorudan ibarettir.
- 3.** Soruların cevaplarını cevap kağıdında ait olduğu sütuna işaretleyiniz.
- 4.** Cevap kağıdında, Adı-Soyadı, T.C. Kimlik Numarası ve Öğrenci No bölümlerini kodlamayı unutmayınız.




1. Mustafa'nın siniri sabun köpüğü gibidir, bir var bir yok.

**Bu cümledeki altı çizili sözün anlamı aşağıdakilerden hangisidir?**

- A) Kısa ömürlü  
B) Sert  
C) Kırıcı  
D) Korkutucu

2. Aşağıdaki bulmaca üzerine yatay ve dikey sözcükler yerleştirilmiştir.



**Aşağıdakilerden hangisi bulmacada yoktur?**

- A) "borç" sözcüğünün zıt anlamlısı  
B) "gerçek" sözcüğünün zıt anlamlısı  
C) "uslu" sözcüğünün zıt anlamlısı  
D) "ucuz" sözcüğünün zıt anlamlısı

3. Aşağıdaki cümlelerin hangisinde bir deyim, açıklamasıyla birlikte verilmiştir?

- A) Kardeşimin kanayan dizini görünce içim parçalandı.  
B) Okuldan iyi dereceyle mezun olmak için gecesini gündüzüne kattı.  
C) Onu küstürecek, kendinden soğutacak kadar gücendirdin; onun kalbini kırdın.  
D) Senin istediğin ne o gömleği ne de kaçağı alacağım, boşuna nefes tüketme.

4. Aşağıdaki cümlelerin hangisinde "boş" sözcüğü mecaz anlamda kullanılmıştır?

- A) Boş kitap kutularını tavan arasına kaldırdım.  
B) Boş yemek tabaklarını masadan kaldırdım.  
C) Çocuk annesinin yüzüne boş boş bakıyordu.  
D) Boş evde tek başına ne yapacağını bilemiyordu.



## TÜRKÇE

5. Onun yazılarını sökebilmek gerçekten zordur.

**Bu cümledeki altı çizili sözcüğün anlamı, aşağıdakilerden hangisidir?**

- A) Sezdirebilmek  
B) Çevirebilmek  
C) Öğretebilmek  
D) Okuyabilmek

7. **Aşağıdaki cümlelerin hangisinde bir işin "belirli aralıklarla, sürekli" yapıldığı anlamı vardır?**

- A) Bazen bağırip sorun çıkartıyordu.  
B) Arada sırada top oynuyordu.  
C) Canı istedikçe gezmeye gidiyordu.  
D) Haftada bir yaşlı annesine gitmeyi ihmal etmezdi.





6. **Aşağıdaki cümlelerin hangisinde diğerlerinden farklı bir anlam ilişkisi vardır?**

- A) İstediklerinizi size alırım ama bir daha bunu yapmayacaksınız.  
B) Koltukta uyuyakalmış çünkü bütün gün çok yorulmuş.  
C) Size sırrımı söylerim ancak kimseye söylemeyeceksiniz.  
D) Onunla konuşabilirsiniz fakat bir saat sonra aramalsınız.

8. Aşağıda, altı çizili sözcüğün mecaz anlamı olduğu cümlelerin bulunduğu kutular silinecektir. .

	İçme suyunun içindeki <u>mineraller</u> tahlil edildi.
Kardeşim <u>boş</u> zamanlarda resim yapmayı sever.	Okuduğu hiçbir kitap onu <u>sarmayınca</u> televizyonu açtı.

**Buna göre şeklin son hali aşağıdakilerden hangisi olur?**

- A) 
- B) 
- C) 
- D) 

9. Alışverişe çıkan Duygu, Emel ve Fatma adlı üç arkadaş kendilerine etek, bluz, gömlek, pantolon ve çorap almışlardır. Bu kişilerden her biri ikişer ürün almıştır. Alınanlarla ilgili bilinenler şunlardır:

- İki kişi etek almıştır ve etek alanlar pantolon almamışlardır.
- Çorabı yalnız Duygu almıştır.
- Fatma pantolon, Emel gömlek almıştır.
- Emel ve Duygu'nun aldıkları bir ürün aynıdır.

Buna göre aşağıdaki kişi ve aldığı ürün eşleştirmelerinden hangisi yanlıştır?

- A) Emel - çorap    B) Duygu - etek  
C) Fatma - bluz    D) Emel - etek

10. I. Koskoca bavula sadece iki kazak koymuş.  
II. Bu kadar insan bir tencere yemekle doyar mı?  
III. Bugün yaptığın yerinde bir davranış olmuş.  
IV. Bu sıkıcı filmde ne buldun, anlamıyorum.  
V. Bu da resim mi, ben daha güzelini çizerim.

Yukarıdaki cümlelerin hangilerinde küçümseme anlamı vardır?

- A) I ve II                      B) I ve III  
C) II ve IV                    D) IV ve V

11. "İnsan yarını da düşünmeli."

Aşağıdaki cümlelerin hangisinde "yarın" sözcüğü bu cümledeki anlamıyla kullanılmıştır?

- A) Yarın seninle buluşalım.  
B) Bilmiyorum, yarın işim çıkar mı?  
C) Yarın neler götürür, bilmiyoruz.  
D) Bugün doluyum, yarın boşum.

12.

William Shakespeare'nin eserleri hiç toz tutmadı, elden ele dolaştı ve her dile çevrildi. Beyaz perdeye de yansıyan ve her seferinde kapalı gişe oynayan tiyatro oyunları ise; yüzyıllara meydan okuyan başarısının sırrını halen koruyor.

Paragrafın konusu aşağıdakilerden hangisidir?

- A) Shakespeare'in Hayatı  
B) Shakespeare'in Eserleri  
C) Shakespeare'in Ölümü  
D) Shakespeare'in Kitapları



13. Salondaki halının desenlerini inceliyordum. Daha önce o desenlerin bu kadar soluk olduklarını hiç fark etmemiştim. Halının kenarlarının yıprandığını da ilk kez görüyordum. Elektrik kesintisi ile sanki hayattan kopmuşum. Bilgisayar, televizyon, telefon olmayınca evde yapacak hiçbir şey bulamıyordum. Ölesiye sıkılıyordum. Sonra aklıma okumayı ertelediğim kitaplar geldi. Kütüphaneme gidip kendime bir kitap seçtim. Okudukça sıkıntım eser kalmadı. Kendimi öylesine kaptırmıştım ki elektriğin geldiğini bile fark etmedim.

**Bu parçadan aşağıdaki hikaye unsurlarından hangisine yer verilmemiştir?**

- A) Olay                      B) Zaman  
C) Yer                        D) Kişi



14. 1911'de İngiltere'de doğan ünlü yazar, aynı zamanda oyunculuk, öğretim görevliliği, denizcilik, müzisyenlik ve okul müdürlüğü yapmıştır. Bu süreçteki yaşam deneyimleri eserlerine yansımıştır. Özellikle II. Dünya Savaşı, onun eserlerindeki karakter analizlerini etkilemiştir. Bu etkileşim ile 1954'te yazdığı "Sineklerin Tanrısı" romanı başarılı olunca 1961'den itibaren sadece yazmaya yoğunlaşmıştır. Toplam on iki roman yazmıştır. 1983'te Nobel Edebiyat Ödülü'ne layık görülmüştür.

**Bu metnin türü aşağıdakilerden hangisidir?**

- A) Anı                        B) Otobiyografi  
C) Deneme                D) Biyografi



15. Havaalanına gitmek ..... yola çıktık ..... yolda bavullardan birini evde unuttuğumuzu fark ettik. Onu almak ..... geri dönecektik ..... uçağımızın kalkmasına çok az zaman kalmıştı. Biz de ..... doğruca havaalanına gittik.

**Bu parçada boş bırakılan yerlere sırasıyla aşağıdakilerin hangileri getirilmelidir?**

- A) amacıyla - çünkü - üzere - fakat - bu nedenle  
B) için - hem - veya - da - hatta  
C) üzere - fakat - için - ama - bu yüzden  
D) için - çünkü - hem - ancak - böylece

16. Osmanlı'dan günümüze kadar gelen ve usta-çırak ilişkisiyle gelişen hat sanatı, Arap harfleri çevresinde oluşmuş güzel yazı yazma sanatıdır. Hat sanatıyla uğraşan kişiye hattat denir. İslami Dönem'de Arap harfleri hattatların elinde farklı şekillerde yazılmış ve birçok yazı tipi oluşmuştur. Örneğin kufi hat, İslami hat sanatı dendiğinde akla ilk gelenlerdir. Dik, sert bir görünümü vardır. Köşeli yazı türü olarak tanımlanır.

**Buna göre aşağıdakilerden hangisi bu metinde anlatılan yazı tipine örnek olabilir?**

A)



B)



C)



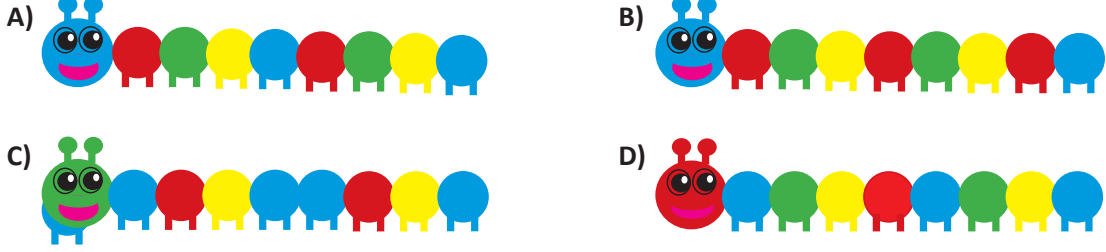
D)



17.

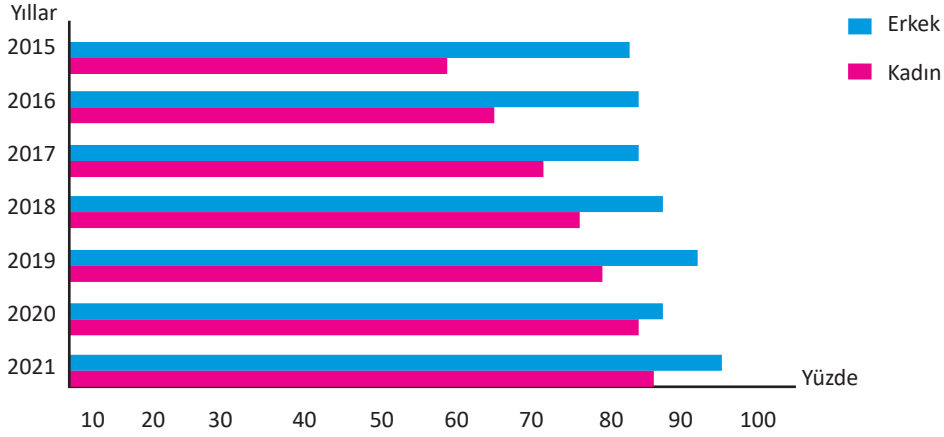
“ Bir tırtıl çiziniz. Kafasını maviye boyayınız. Diğer boğumlarını kırmızı, yeşil, sarı ve maviye boyayarak renk örüntüsünü devam ediniz. ”

Hangi tırtıl yukarıdaki yönergelere göre boyanmıştır?



18. Aşağıdaki grafik 2015 - 2021 yılları arasında gençlerin cinsiyetlerine göre internet kullanım oranları verilmiştir.

**Grafik:** Gençlerin İnternet Kullanım Oranları

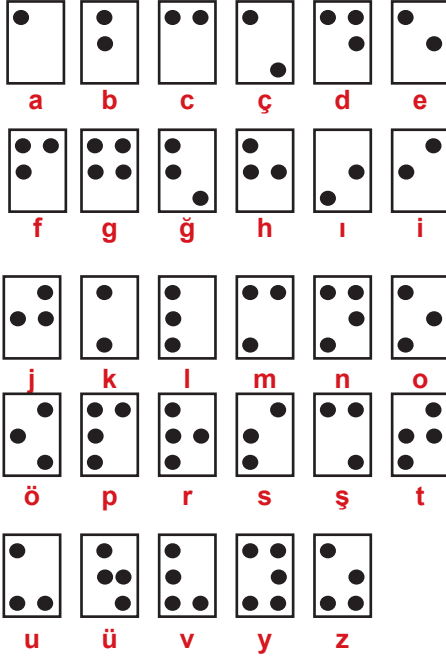


Bu grafiğe göre aşağıdaki yargılardan hangisine ulaşamaz?

- A) 2015-2018 yılları arasında internet kullanım oranı kadınlarda sürekli artmıştır.
- B) 2017’de erkeklerin internet kullanım oranı, 2019’da kadınların internet kullanım oranından azdır.
- C) 2015-2021 yılları arasında internet kullanımında kadın ile erkek oranının en çok yaklaştığı yıl 2020’dir.
- D) 2015-2021 yıllarında erkeklerin internet kullanım oranı, kadınların internet kullanım oranından hep daha fazla olmuştur.

## TÜRKÇE

19. Aşağıda Braille alfabesine karşılık gelen harfler gösterilmiştir.



Buna göre Braille alfabesiyle



şeklinde yazılan sözcüğün eş anlamlısı aşağıdakilerden hangisidir?

- A) misal
- B) örnek
- C) sorun
- D) çözüm

20.

## TÜRKİYE

Türkiye bir sıcak ülke  
Güneşi kocaman bir nar,  
Dağı dağ, denizi deniz  
İnsanı insanca bakar.

Ayca konuşur, yıldızca  
Bozkırda telli kavaklar,  
Uzar yanık türkülerle  
Yayla kokuşlu ırmaklar.

Suskun bir sızı gibidir  
Güz sonu tüten ocaklar,  
Türkiye sonsuz mu sonsuz  
İçimdeki özüm kadar.

Türkiye bir uzak pınar  
Her gece uykuma akar.

*Tahsin Saraç*

Şiirin ana duygusu hangisidir?

- A) Vatana duyulan özlem.
- B) Sıcak ülkeye duyulan özlem.
- C) Dağlara duyulan özlem.
- D) Bozkırdaki kavaklara duyulan özlem.



1. Aşağıda numaralandırılarak verilen ifadelerde ■ yerine +, -, x, ÷ işlem işaretlerinden herhangi ikisi getirilecektir.

- I.  $5 \blacksquare 4 \blacksquare 8$   
 II.  $6 \blacksquare 5 \blacksquare 2$   
 III.  $8 \blacksquare 7 \blacksquare 2$   
 IV.  $3 \blacksquare 4 \blacksquare 7$

Buna göre hangisinin sonucu 19 olabilir?

- A) I                                      B) II  
 C) III                                     D) IV

2.  $\textcircled{4} \longrightarrow \textcircled{2} \longrightarrow 16$   
 $\textcircled{2} \longrightarrow \textcircled{5} \longrightarrow 32$   
 $\textcircled{3} \longrightarrow \textcircled{3} \longrightarrow ?$

Yukarıdaki sayı örüntüsünde soldan sağa doğru bir ilişki vardır.

Bu ilişkiye göre “?” yerine hangi sayı yazılmalıdır?

- A) 48                                      B) 36  
 C) 27                                     D) 18


3.  $T = \frac{2}{3} - \frac{3}{5} + \frac{5}{8}$

$S = \frac{7}{3} + \frac{13}{5} + \frac{11}{8}$

Verilenlere göre  $T + S$  kaçtır?

- A) 7                                        B) 6  
 C) 5                                        D) 4

4.



Yukarıdaki şekil eş parçalara ayrılmıştır.

Boyalı bölgeye karşılık gelen kesir, aşağıdaki kesirlerin hangisinden büyüktür?

- A)  $\frac{5}{8}$                                       B)  $\frac{1}{4}$   
 C)  $\frac{7}{16}$                                      D)  $\frac{13}{32}$

5. Sadece 1'e ve kendisine bölünebilen 1'den büyük doğal sayılara asal sayılar denir.

Tolga aklından bir sayı tutuyor ve tuttuğu sayıyı bulmaları için arkadaşlarına aşağıdaki ipuçlarını veriyor:

- Üç basamaklı çift doğal sayıdır.
- 3 ve 5 ile kalansız bölünür.
- Rakamları toplamı tek sayıdır.
- Onlar basamağındaki rakam en küçük tek asal sayıdır.

Buna göre Tolga'nın tuttuğu sayının yüzler basamağındaki rakam kaçtır?

- A) 9                                        B) 8  
 C) 7                                        D) 6



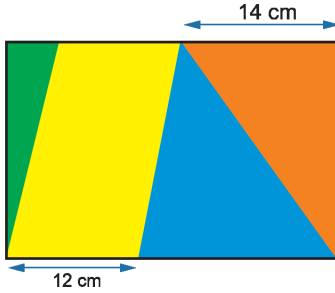
## MATEMATİK

6. Doğal sayı çarpanlarının sayısına kalansız bölünebilen sayılara "Tau sayısı" denir. Örneğin: 8 sayısı bir Tau sayısıdır. Çünkü 8 sayısının doğal sayı çarpanları 1, 2, 4 ve 8 olmak üzere 8 tam sayısı 4 ile kalansız bölünür.

Verilen bilgiye göre aşağıdakilerden hangisi bir Tau sayısıdır?

- A) 16                      B) 20  
C) 24                      D) 28

7. Buket kısa kenar uzunluğu 18 cm ve uzun kenar uzunluğu 30 cm olan dikdörtgen şeklindeki bir kağıdı aşağıdaki ölçülere göre paralelkenar ve üçgen şeklindeki parçalara ayırıp boyamıştır.



Buna göre yeşil ve mavi üçgenlerin alanları toplamı kaç santimetrekaredir?

- A) 198                      B) 160  
C) 140                      D) 120

8. Tablet, televizyon ve telefon gibi elektronik aletlerin ekran boyutlarını ifade ederken köşegen uzunluğundan yararlanılır. Ölçü birimi olarak da inç kullanılır. İnç, 2,54 cm uzunluğunda ölçü birimidir.



Görseldeki telefonun ekran boyutu 6,7 inç olduğuna göre bu telefonun köşegen uzunluğu kaç santimetredir?

- A) 17,018                      B) 17,18  
C) 18,018                      D) 18,18

9.  $[2^4 + 2^3 - 2^2 \div 2^1] \times 2^5$

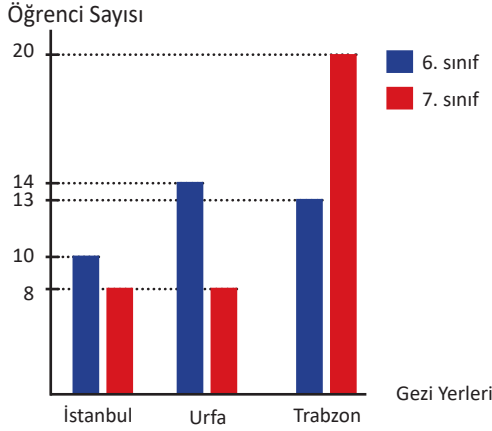
Yukarıdaki işlemin sonucunun rakamları toplamı kaçtır?

- A) 14                      B) 13  
C) 12                      D) 11



10. Bir okuldaki 6. ve 7. sınıflardaki öğrencilere üç gezi yerinden birini seçmeleri için anket yapılmıştır. Grafikte, bu iki sınıfta okuyan öğrencilerin tümünün katıldığı anketin sonuçları gösterilmektedir.

Grafik: Anket Sonuçları



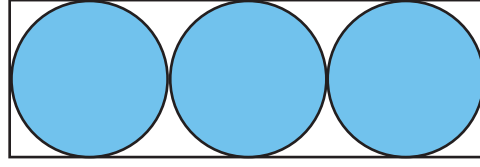
Buna göre aşağıdaki ifadelerden hangisi doğrudur?

- A) 7. sınıftaki öğrencilerin büyük çoğunluğu Urfa'ya gitmek istemektedir.  
 B) Trabzon'a gitmek isteyen öğrencilerin toplam sayısı, İstanbul'a gitmek isteyen öğrencilerin toplam sayısının 2 katından azdır.  
 C) Bu okulda toplam 72 öğrenci vardır.  
 D) İstanbul'a gitmek isteyen öğrencilerin toplam sayısı, 6. sınıfta Urfa'ya gitmek isteyen öğrencilerin sayısına eşittir.
11. Ahmet Öğretmen, Deniz'den aşağıdaki koşulları sağlayan bir cebirsel ifade yazmasını istiyor.
- Değişkeni yalnızca x olsun.
  - x'in katsayısı 0'dan farklı bir tam sayı olsun.
  - Katsayılarından biri  $-7$  olsun.
  - Sabit terimi  $-3$ 'ten küçük bir tam sayı olsun.

Deniz bu koşullara uygun bir cebirsel ifade yazdığına göre Deniz'in yazdığı cebirsel ifade aşağıdakilerden hangisi olabilir?

- A)  $-7x+y-7$       B)  $-7x-3$   
 C)  $-5x-7$       D)  $-5x+7$

- 12.

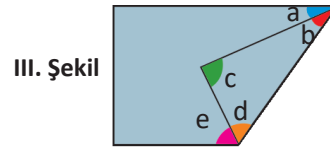
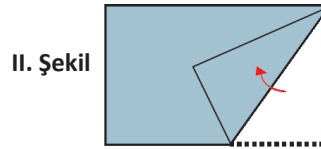



Verilen şekilde bir dikdörtgenin içine birbirlerine ve kenarlara değecek şekilde yarıçap uzunlukları 6 cm olan üç tane eş daire çizilmiştir.

Buna göre dikdörtgenin içindeki beyaz bölgelerin alanları toplamı kaç santimetrekaredir? ( $\pi$  yerine 3 alınız.)

- A) 104      B) 106  
 C) 108      D) 110

13. Ayşe I. şekilde verilen dikdörtgen biçimindeki kağıdı II. şekildeki gibi katlıyor.



Ayşe daha sonra katladığı kağıttaki bazı açılar harflerle isimlendirerek III. şekli elde ediyor.

Buna göre aşağıdaki ifadelerden hangisi doğrudur?

- A)  $a + b = 90^\circ$   
 B)  $e + d = 90^\circ$   
 C)  $b + c + d = 180^\circ$   
 D)  $a + c = e$

MATEMATİK

14. Aşağıdaki dört eş bardaktan 1, 2 ve 3. bardağın kaçta kaçının su ile dolu olduğu altlarına yazılmıştır. 4. bardağın içi boştur.



Buna göre 1, 2 ve 3. bardaklardaki su 4. bardağa boşaltılırsa 4. bardağın kaçta kaç boş kalır?

- A)  $\frac{1}{12}$       B)  $\frac{1}{6}$       C)  $\frac{5}{6}$       D)  $\frac{11}{12}$



15. Bir çokgenin içine yazılan kesirle oluşturulan sembol, çokgenin kenar sayısının kesre bölümünü ifade etmektedir.

Örneğin;

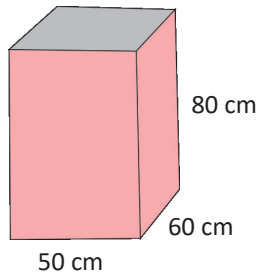
$$\triangle \frac{1}{4} \text{ sembolü } 3 \div \frac{1}{4} = 12$$

Buna göre  $\square \frac{5}{8} - \triangle \frac{5}{6}$  çıkarma işleminin sonucunu aşağıdakilerden hangisidir?

- A)  $\frac{13}{5}$       B)  $\frac{14}{5}$       C)  $\frac{16}{5}$       D)  $\frac{17}{5}$



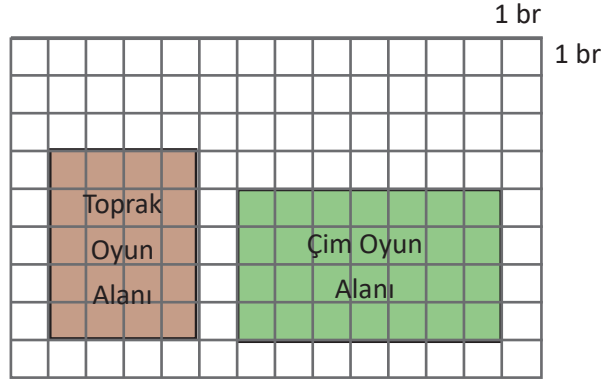
16. Aşağıda verilen dikdörtgenler prizması biçimindeki kabın içindeki suyun tamamı 6 litrelik kovalara boşaltılmak isteniyor.



Buna göre kaç kova gerekir?

- A) 60      B) 50      C) 45      D) 40

17. Kağıtta dikdörtgen biçiminde planlanan toprak oyun alanı ve çim oyun alanı gösterilmiştir.



Toprak oyun alanının kapladığı alan A, çim oyun alanının kapladığı alan B olmak üzere, A ve B'nin toplamı birimkare cinsinden aşağıdaki işlemlerden hangisi ile bulunur?

- A)  $7 \cdot (4 + 6)$       B)  $6 \cdot (4 + 7)$       C)  $4 \cdot (5 + 7)$       D)  $5 \cdot (6 + 7)$



18. Aşağıdaki tabloda, Ankara iline ait Mart ayındaki beş günlük en düşük ve en yüksek hava sıcaklıkları verilmiştir.

**Tablo:** Günlere Göre En Düşük ve En Yüksek Hava Sıcaklıkları

	Pazartesi	Salı	Çarşamba	Perşembe	Cuma
En Düşük Sıcaklık	-2	-3	-6	-5	-1
En Yüksek Sıcaklık	9	2	1	7	6

Buna göre aşağıdaki ifadelerden hangisi doğrudur?

- A) Bu beş günde en düşük sıcaklık cuma günü görülmüştür.  
 B) Bu beş günde en yüksek sıcaklık çarşamba günü görülmüştür.  
 C) Çarşamba gününe ait en yüksek sıcaklık değeri, salı gününe ait en yüksek sıcaklık değerinden daha yüksektir.  
 D) Perşembe gününe ait en düşük sıcaklık değeri, pazartesi gününe ait en düşük sıcaklık değerinden daha düşüktür.



## MATEMATİK

19. Aşağıdaki görselde Ankara - Gümüşhane arasında sefer yapan 40 yolcu kapasiteli bir otobüsün oturma planı verilmiştir. Pembe renkli koltuklar kadın yolculara, mavi renkli koltuklar erkek yolculara aittir. Sarı renkli koltuklar ise boş durumdadır.

3	6	9	12	15	18	21	25	28	31	34	37	40	
2	5	8	11	14	17	20	24	27	30	33	36	39	
1	4	7	10	13	16	19	22	23	26	29	32	35	38

Koltuk numarası çift sayı olan kadın yolcuların sayısının, boş koltuk sayısına oranı nedir?

- A)  $\frac{3}{2}$       B)  $\frac{9}{5}$       C)  $\frac{5}{9}$       D)  $\frac{2}{3}$



20. Kamp yapmak isteyen iki arkadaş kamp malzemelerinin satıldığı mağazaya gitmiştir. İhtiyaçları olan ürünlerin mağazadaki fiyatları aşağıda verilmiştir.



1224,50 TL



154,65 TL



398,35 TL



85,85 TL



75,25 TL

Fiyatları verilen bu ürünlerin her birinden ayrı ayrı birer adet alan Pınar ve Nurgül sırasıyla ürünlerin fiyatlarını birler basamağına yuvarlayarak ödeyecekleri toplam fiyatı hesaplıyorlar.

**Buna göre bulacakları doğru sonuç aşağıdakilerden hangisidir?**

- A) 1929      B) 1939      C) 2029      D) 3878

1.

“Peygamber, Rabb’i tarafından kendisine indirilene iman etti, müminler de iman ettiler. Her biri Allah’a, meleklerine, kitaplarına, peygamberlerine iman ettiler. Allah’ın peygamberlerinden hiçbiri arasında ayırım yapmayız. İşittik, itaat ettik. Ey Rabb’imiz, affına sığındık! Dönüş sanadır, dediler.”

(Bakara Suresi, 285. Ayet)

**Bu ayetten aşağıdaki sonuçlardan hangisi çıkarılamaz?**

- A) Müslümanlar tüm peygamberlere iman etmelidir.
- B) Herkes kendi kaderini çizer.
- C) Peygamberlere inanmak imanın şartlarındandır.
- D) Kitaplara inanmak imanın şartlarındandır.

2.

Kerem aile bağları zayıf olan bir kişidir. Bu durumdan dolayı mutsuz olan Kerem işyerinden çıkınca vakit geçireceği bir arkadaş arar. Eren adında birile tanışır. Kumar oynayan Eren, Kerem’e gel birlikte bir ekip olalım bak güzel vakit geçireceğiz der. Kerem ilk önce tereddüt etse de “Bir kereden bir şey olmaz” diyerek kumar oynamaya başlar. Bir süre sonra kumar bağımlısı olur..

**Aşağıdakilerden hangisi anlatılan olayda kötü alışkanlığa başlama nedenlerinden biri değildir?**

- A) Ekonomik sıkıntı
- B) Merak ve özentî
- C) Kötü arkadaş çevresi
- D) Bilgisizlik ve eğitim yetersizliği

3.

**Hz. Ebu Bekir’in (r.a.)** “Muhammed, ancak bir peygamberdir. Ondan önce de peygamberler gelip geçmiştir. Şimdi o ölür ya da öldürülürse gerisin geriye (eski dininize) mi döneceksiniz? Kim (böyle) geri dönerse Allah’a hiçbir şekilde zarar vermiş olmayacaktır. Allah, şükredenleri ödüllendirecektir.” (Al-i İmran, 144) **ayeti-ni Peygamber’in (sav.) vefatından sonra insanlara okuma sebebi aşağıdakilerden hangisi olamaz?**

- A) Peygamberden sonra halife olmak için insanların gözüne girmek.
- B) Hz. Muhammed’in (sav.) insan olduğunu hatırlatmak.
- C) Allah’ın ebedi ve ezeli olduğunu hatırlatmak.
- D) Peygamberlerin geçici, fikir ve düşüncelerinin ebedi olduğunu hatırlatmak.

4.

“Namazlarını huşu içinde kılan müminler kurtuluşa ermişlerdir.”

(Müminun Suresi, 1-2. Ayet)

**Yukarıdaki ayette vurgulanmak istenen nedir?**

- A) Namazların vaktinde kılınması
- B) Namazların uzun kılınması
- C) Namazların samimi ve içten kılınması
- D) Namazların abdestli kılınması

5.

Süleyman Çelebi’nin Peygamberimize olan sevgisini dile getirmek için yazmış olduğu şiir, kültürümüzde önemli bir yer tutar. Gerçek ismi “Vesiletü’n-Necat”dır. Bu şiiri insanlar düğün ve cenaze gibi merasimlerinde okutarak yemek verirler.

**Yukarıdaki metinde hakkında bilgi verilen bu şiire toplumumuzda ne isim verilmektedir?**

- A) İlahi
- B) Mevlit
- C) Gazel
- D) Kaside

## DİN KÜLTÜRÜ VE AHLAK BİLGİSİ

6. Namaz Allah'ın (c.c.) huzuruna çıkmak, onunla aracasız bir şekilde iletişim kurmaktır. Namaz Allah'a (c.c.) kul olduğumuzu hatırlamaktır. Namaz kılarak Allah'a olan sevgimizi, bağlılığımızı ifade ederiz. Bunu yaparken de bazı kurallara dikkat etmemiz gerekir. Namaz, kendine özgü olan bu kurallara dikkat edilmeden kılınırsa geçerli olmaz. Bu sebeple her Müslüman'ın namazın hangi durumlarda bozulacağını bilmesi gerekir.

**Buna göre aşağıdakilerden hangisi namazı bozan durumlardan biri değildir?**

- A) Namazda iken konuşmak
- B) Namazda gözleri kırpmak
- C) Namazda başkası işitecek kadar gülmek
- D) Namazda bir şey yemek

7.

“Sadakalar (zekatlar) Allah'tan bir farz olarak ancak fakirlere, düşkünlere, zekat toplayan memurlara, kalpleri İslam'a ısındırılacak olanlara, (özgürlüğüne kavuşturulacak) kölelere, borçlulara, Allah yolunda olanlara ve yolda kalmış yolculara mahsustur. Allah, hakıyla bilendir, hüküm ve hikmet sahibidir.”

(Tevbe Suresi, 60. Ayet)

**Verilen ayet aşağıdaki hangi sorunun cevabıdır?**

- A) Kimler zekat vermelidir?
- B) Zekat niçin verilmelidir?
- C) Zekat ne zaman verilmelidir?
- D) Zekat kimlere verilmelidir?

8.

(Yerine göre) müjdeleyici ve sakındırıcı olarak peygamberler gönderdik ki insanların peygamberlerden sonra Allah'a karşı bir bahaneleri olmasın! Allah, izzet ve hikmet sahibidir.”

(Nisa Suresi, 15. Ayet)

**Aşağıdakilerden hangisi, verilen ayetten çıkarılabilecek bir sonuç değildir?**

- A) Allah (c.c.), emir ve yasaklarıyla insanların hayatlarını daraltmak için peygamber göndermiştir.
- B) Allah (c.c.), insanlara doğru ve güzel yolu göstermek için peygamber göndermiştir.
- C) İnsanların Allah'a (c.c.) karşı, “Bizi imana çağırın kimse olmadı.” diye bir bahane ileri sürmemeleri için peygamber göndermiştir.
- D) Allah (c.c.), insanları uyarınlar, müjdelesinler diye peygamberler göndermiştir.

9.

### TÜRKİYE CUMHURİYETİ ANAYASASI Madde 58:

“Devlet, gençleri alkol düşkünlüğünden, uyuşturucu maddelerden, suçluluk, kumar ve benzeri kötü alışkanlıklardan ve cehaletten korumak için gerekli tedbirler alır.”

**Buna göre aşağıdakilerden hangisi kötü alışkanlıkları önlemede devlete düşen görevler arasında değildir?**

- A) Kötü maddeler ve alışkanlıklar hakkında seminerler düzenlemek.
- B) Spor etkinlikleri düzenlemek.
- C) Her mahallede kafe açmak.
- D) Kütüphaneler ve sosyal tesisleri yaygınlaştırmak.



10. İcinizden her kim, kötü bir davranış veya hoş olmayan bir şey gördüğünde, onu eliyle düzeltsin. Buna gücü yetmezse diliyle düzeltsin. Buna da gücü yetmezse kalpten o kötülüğe buğzetsin...

(Hadis-i Şerif)

Hiz. Muhammed (sav.) bu sözüyle, kötülükler karşısında alınması gereken tavrı belirtmiştir.

**Buna göre aşağıdaki atasözlerinden hangisi bu tavrın tam tersi durumu ifade etmektedir?**

- A) Damlaya damlaya göl olur.  
B) Sakla samanı gelir zamanı.  
C) Komşu komşunun külüne muhtaçtır.  
D) Bana dokunmayan yılan bin yıl yaşasın.
11. Peygamberimiz ..... yaşında ilk evliliğini yapmıştır. Eşinin adı ..... dir. Peygamberimize ilk vahiy ..... yaşında ve ..... mağarasında gelmiştir.

**Yukarıdaki paragrafta boş bırakılan noktalı yerlere sırasıyla aşağıdakilerden hangii gelmelidir?**

- A) 20 - Hz. Ayşe - 30 - Nur  
B) 25 - Hz. Ayşe - 35 - Hira  
C) 25 - Hz. Hatice - 40 - Hira  
D) 25 - Hz. Hatice - 40 - Sevr

12. —————

“Allah yolunda öldürülenleri ölü saymayın, bilakis Rabpleri katında diridirler. Allah’ın bol nimetinden onlara verdiği şeylerle sevinç içinde rızıklanırlar.

(Al-i İmran Suresi, 169-170 ayetler)

**Yukarıdaki ayetlerde “Allah yolunda öldürülenler” ifadesiyle kastedilenler kimlerdir?**

- A) Kahramanlar      B) Gaziler  
C) Şehitler          D) Müslümanlar

13. —————

“(Ey Muhammed! Kabe’yi yıkmaya gelen) Fil sahiplerine Rabbi’nin ne ettiğini görmedin mi? Onların tuzaklarını boşa çıkarmadı mı? Onların üstüne, sürü sürü kuşlar gönderdi. Onlara çamurdan sertleşmiş taşlar atıyorlardı. Sonunda onları yenilmiş ekin gibi yaptı.”

(Fil Suresi, 1-5. Ayet)

**Yukarıda meali verilen Fil suresi ile ilgili aşağıdakilerden hangisi söylenemez?**

- A) Allah Kabe’yi koruyarak kötü planları bozmuştur.  
B) Peygamberimiz (sav.) bu savaşa katılmıştır.  
C) Allah azabını kuşlarla göndermiştir.  
D) Fil ordusu yenilerek bozguna uğramıştır.

14. Hz. Muhammed (sav.) hicretten sonra Müslümanlar arasında barış ve kardeşliği sağladı. Diğer din mensuplarıyla görüşmeler gerçekleştirdi. Yahudilerle yapılan bu görüşmeler sonucunda Medine Sözleşmesi denilen bir antlaşma yapıldı.

**Bu antlaşmaya göre;**

- I. İki grup arasında anlaşmazlık olursa Hz. Muhammed (sav.) hakem kabul edilecek.  
II. Yahudilerle Müslümanlar birbirine zarar vermeyecek.  
III. Yahudilerin kendi dinlerine bağlı kalma hakkı olacaktır.

**maddelerinden hangileri inanç özgürlüğü ile ilgilidir?**

- A) I ve II                      B) I ve III  
C) II ve III                    D) I, II ve III

15.

“Andolsun, Allah’ın Resulü’nde sizin için; Allah’a ve ahiret gününe kavuşmayı uman, Allah’ı çok zikreden kimseler için güzel bir örnek vardır.”

(Azhab Suresi, 21. Ayet)

Allah (c.c.), yukarıdaki ayette Hz. Muhammed’in (sav) müminler için en güzel örnek olduğunu belirtmektedir.

**İslam kültüründe Hz. Muhammed’in (sav.) en güzel örnek olması hangi kavramla ifade edilir?**

- A) Üsve-i hasene      B) Suhuf  
C) Vahiy                D) Resulallah

16.

Kim bu cennet vatan uğruna olmaz ki feda?  
Şuheda fıskırarak toprağı sıksan, şuheda!  
Canı, cananı, bütün varımı alsın da Hüda  
Etmesin tek vatanımdan beni dünyada cüda.

Ruhumun senden ilahi, şudur ancak emeli  
Değmesin mabedimin göğsüne namahrem eli.  
Bu ezanlar ki şehadetleri dinin temeli  
Ebedi yurdumun üstünde benim inlemeli.”

**İstiklal Marşı’mızın bu kıtalarında şair Allah’tan (c.c) aşağıdakilerden hangisini dilememiştir?**

- A) Vatandan ayrı kalınmaması  
B) Camilerimize yabancı elin değmemesi  
C) Vatanımızda ezanların susmaması  
D) Bilinçli nesillerimizin olması

17.

Askıda ekmek uygulaması, çok güzel bir davranış örneğidir. Kişi ekmek alırken bir tane fazla ekmek parası öder. Fırıncı da o ekmeği kapıya asar, ihtiyacı olan gelip oradan alır. Böylece...

**Verilen metinde boş bırakılan yere aşağıdakilerden hangisi yazılamaz?**

- A) toplumda yardımlaşma-paylaşma bilinci gelişir.  
B) insanlar arasında birlik ve beraberlik artar.  
C) ekmek israfı önlenmiş olur.  
D) yardım edilen kişinin rencide edilmesini sağlar.

18.

Aşağıda verilen bilgilerden doğru olanların yanına “✓” yanlış olanların yanına “X” işareti konularak değerlendirilecektir.

Alkollü içkileri sarhoş olmayacak kadar içmek haram değildir.	
Kul hakkı yiyen birinin bağışlanmak için Allah’tan af dilemesi yeterlidir.	
Alkolü, sadece kullanmak değil, satmak da haramdır.	

**Buna göre doğru değerlendirme aşağıdakilerden hangisinde yapılmıştır?**

A)

X
X
✓

B)

X
✓
X

C)

✓
X
✓

D)

✓
✓
X

19. Aşağıda namazın bazı kısımları gösterilmiştir.



I



II



III

Numaralandırılmış görsellerin isimleri hangi seçenekte doğru verilmiştir?

	I	II	III
A)	Kıyam	Secde	Rüku
B)	İftitah tekbiri	Kade-i ahire	Rüku
C)	İftitah tekbiri	Kıraat	Secde
D)	Kıyam	Rüku	Kade-i ahire




20. Hz. Peygamber (sav.), İslam davetini başlangıçta çok gizli bir şekilde sürdürdü. İslamiyeti sadece en yakınlarına ve çok güvendiği kimselere tebliğ etti. Müslümanlar gizlice toplanıyor, Hz. Peygamber (sav.) kendisine iman edenlere Kur'an okuyor, İslam'ın ilkelerini açıklıyordu.

**Hz. Peygamber (sav.) İslam'a davetini ilk zamanlar açıktan yapsaydı, aşağıdakilerden hangisinin olması beklenmezdi?**

- A) Mekkeliler bu duruma tepki gösterirdi.
- B) Mekkeliler Müslüman olmasalar bile ona anlayış gösterirlerdi.
- C) Müşrikler, yaşam tarzlarını değiştirmeyi kolayca kabul etmezlerdi.
- D) Müslümanların zarar görmesine yol açardı.




1.



Merkür

I



Venüs

II



Dünya

III



Mars

IV

Yukarıda verilen gezegenlerin Güneş'e yakından uzağa doğru sıralaması hangi seçenekte verilmiştir?

- A) I – IV – III – II  
 B) IV – II – I – III  
 C) II – I – IV – III  
 D) I – II – III – IV

2. Ay tutulması ile ilgili,

- I. Ay'ın dolunay evresinde meydana gelir.  
 II. Ay tutulması her ay gerçekleşir.  
 III. Ay tutulmasında Ay, Dünya ile Güneş arasında yer alır.

ifadelerinden hangileri **yanlıştır**?

- A) I ve II                      B) I ve III  
 C) II ve III                    D) I, II ve III

3. Aşağıdakilerden hangisi Güneş ve Ay tutulmalarının benzer yönlerinden **değildir**?

- A) Belirli sürelerde gerçekleşen doğa olaylarıdır.  
 B) İki de bir gölge ve ışık olayıdır.  
 C) Tutulmalarda Dünya, Güneş'in yörüngesine yaklaşır.  
 D) İki olay da ışığın doğrusal yolla yayıldığını kanıtlar.

4. Can, bazı kemikleri çeşitlerine göre ayırmıştır.

Buna göre aşağıdaki eşleştirmelerden hangisi doğrudur?

	Kafatası	El Bilek Kemiği	Uyluk Kemiği
A)	Yassı	Uzun	Kısa
B)	Yassı	Kısa	Uzun
C)	Kısa	Yassı	Uzun
D)	Kısa	Uzun	Kısa

5. Sindirim sırasında gerçekleşen aşağıdaki olaylardan hangisi kimyasal sindirime örnektir?

- A) Nişastanın tükürük içinde bulunan enzimler ile parçalanması.  
 B) Besinlerin midede kaslar yardımıyla bulamaç haline gelmesi.  
 C) Yağın, safra salgısı ile küçük yağ damlacıkları haline gelmesi.  
 D) Peynir parçasının dişler yardımıyla çiğnenmesi.

6. Besinlerin sindirim sisteminde izlediği yol aşağıdakilerden hangisidir?

- A) Yemek borusu - mide - kalın bağırsak - ince bağırsak - anüs
- B) Ağız - yemek borusu - yutak - mide - ince bağırsak - kalın bağırsak
- C) Ağız - yutak - kalın bağırsak - ince bağırsak - mide - anüs
- D) Ağız - yutak - yemek borusu - mide - ince bağırsak - kalın bağırsak

7. Tedavisi mümkün olmayan hastalıklar nedeniyle görevini yapamayacak kadar hasar gören organların yerine sağlam organ parçasının veya tüm organın tıbbi yöntemlerle konularak hastanın tedavi edilmesine ne ad verilir?

- A) Acil müdahale
- B) Organ nakli
- C) Organ bağıışı
- D) Diyaliz

8. Bir bölgede ısınmak için kömür kullanılmaktadır. Bu bölgede oturan insanlar ısınmak amacıyla güneş enerjisini kullanabilmek için evlerinin çatısına güneş panelleri yerleştiriyorlar.

**Bu durumla ilgili olarak aşağıdakilerden hangisi söylenebilir?**

- A) Yenilenemez enerji kaynağı kullanmaya başlamışlardır.
- B) Önceden ısınmada yenilenebilir enerji kaynağı kullanılıyordu.
- C) Elektrik enerjisi tüketimi önceki duruma göre artacaktır.
- D) Bir süre sonra çevre kirliliğinde azalma olacaktır.

9. İnce bağırsağın kıvrımlı olmasının nedeni aşağıdakilerden hangisidir?

- A) Emilim yüzeyini artırma
- B) Kimyasal sindirime yardımcı olma
- C) Atık maddeleri anüsten daha kolay dışarı atma
- D) Hormonların daha çok salgılanmasını sağlama

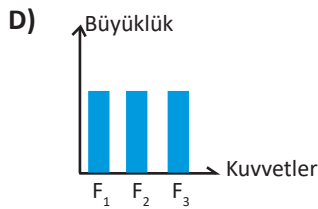
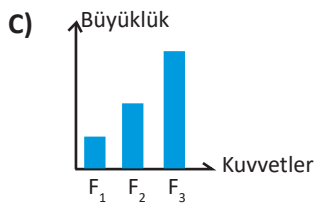
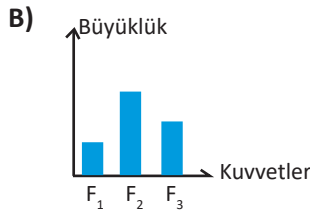
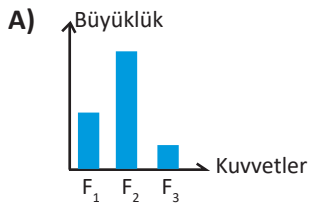


10.



Sürtünmesiz bir zemin üzerinde bulunan cisme  $F_1$ ,  $F_2$  ve  $F_3$  kuvvetleri şekildeki gibi etki etmektedir.

**Cisim dengelenmiş kuvvetlerin etkisinde olduğuna göre kuvvetlerin büyüklükleri ile ilgili aşağıdaki grafiklerden hangisi doğru olabilir?**



11. Aşağıda bir topun farklı durumlarından bahsedilmektedir.

**Buna göre topa hangi durumda etki eden net kuvvet en fazladır?**

(Sürtünme kuvveti önemsenmeyecektir.)

- A) Havada serbest bırakıldığı anda
- B) Yokuştan yukarıya atıldığında
- C) Yatayda sabit süratle giderken
- D) Mağazanın vitrininde dururken

12. Aşağıdaki tabloda saf bir maddenin üç farklı fiziksel hali X, Y ve Z'dir. Bu haller için ayırt edici olan özellikler tabloda (✓) ile gösterilmiştir.

Özellik \ Madde	X	Y	Z
Sıkıştırılmaz.		✓	✓
Öteleme hareketi yapar.	✓		✓
Belirli hacmi yoktur.	✓		

**Buna göre X, Y ve Z maddelerinin bulunduğu haller hangisinde doğru verilmiştir?**

	X	Y	Z
A) Katı	Sıvı	Gaz	
B) Sıvı	Katı	Gaz	
C) Gaz	Katı	Sıvı	
D) Gaz	Sıvı	Katı	

13. Boşaltım, vücudun iç dengesinin korunması için bazı maddelerin vücuttan uzaklaştırılması işlemidir.

**Aşağıdakilerden hangisi vücuttan uzaklaştırılması gereken atık maddelerden birisi değildir?**

- A) Karbondioksit
- B) İdrar
- C) Ter
- D) Oksijen



14.



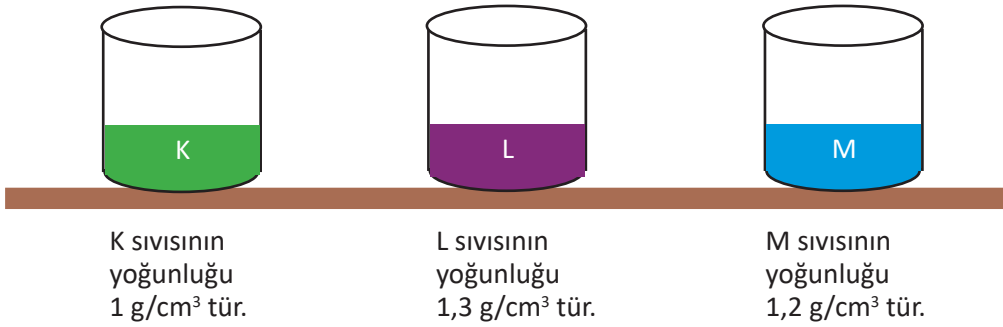
Güneş panelleri, Güneş enerjisini elektrik ya da ısı enerjisine dönüştürmeye yarayan bir teknolojidir.

Buna göre aşağıdakilerden hangisi güneş panellerinin avantajlarından biri değildir?

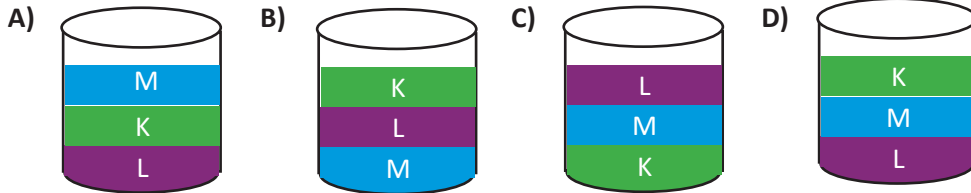
- A) Ekonomiktir.
- B) Çevreyi kirletmez.
- C) Sera gazı salınımı yapar.
- D) Yenilenebilir enerji kaynağıdır.



15. Aynı hacimdeki K, L ve M sıvılarının yoğunlukları aşağıda verilmiştir.

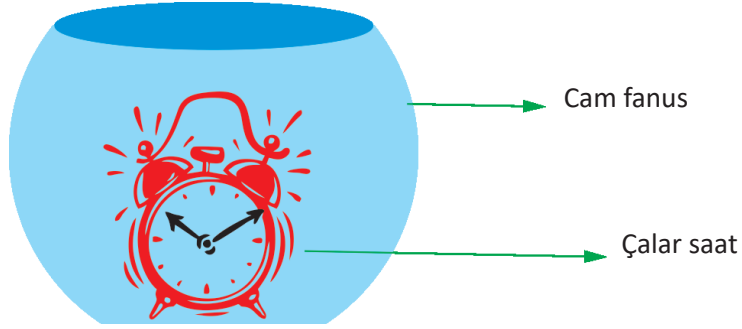


Birbirine karışmayan bu sıvılar aynı kaba boşaltıldığında, kaptaki son görünümleri aşağıdakilerden hangisindeki gibi olur?





16.



Deniz cam fanus içine şekildeki gibi çalar saati yerleştirip cam fanusun içindeki havayı boşaltıyor ve saatin zilinin çalmasını bekliyor.

**Buna göre Deniz aşağıdakilerden hangisini araştırmak için bu deneyi yapmıştır?**

- A) Sesin gazlarda yayılıp yayılmayacağını
- B) Sesin boşlukta yayılıp yayılmayacağını
- C) Sesin bir enerji olup olmadığını
- D) Saatin ses kaynağı olup olmadığını

17. Bina içerisinde bulunan bir spor salonunda oluşan seslerden rahatsız olan bina sakinleri şikayetlerini bina yönetimine iletir. Bina yönetimi de spor salonunun iç duvarlarını boşluklu gözenekli ve yumuşak maddelerle kaplar.

**Bina yönetimi bu uygulamayı,**

- I. Sesin soğurulmasını artırmak
- II. Sesin yansımalarını artırmak
- III. Ses yalıtımı yapmak

**amaçlarından hangilerini gerçekleştirmek için yapmıştır?**

- A) Yalnız I
- B) I ve II
- C) I ve III
- D) II ve III

18.



**İlk yardım ile ilgili,**

- I. İlk sağlık müdahalesi olarak hayat kurtarır.
- II. Öncelikli amaç yaşamsal fonksiyonların sürdürülmesini sağlamaktır.
- III. Etkin ve uzun süreli tedavi sağlar.

**İfadelerinden hangileri doğrudur?**

- A) I ve II
- B) I ve III
- C) II ve III
- D) I, II ve III



19. Aşağıda bazı sistemler ve bu sistemlerde meydana gelen hastalıklar verilmiştir.

	Sistem
1.	Boşaltım
2.	Solunum
3.	Sindirim

	Hastalık
a.	Zatürre
b.	Böbrek yetmezliği
c.	Ülser

Hastalıklar ile meydana geldiği sistemlerin eşleştirilmesi hangi seçenekte doğru verilmiştir?

A)

1.	b
2.	c
3.	a

B)

1.	b
2.	a
3.	c

C)

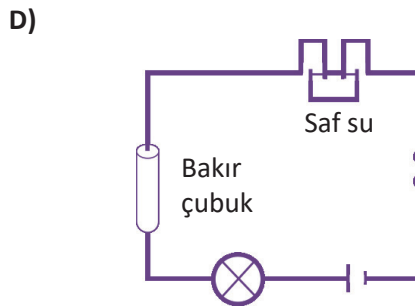
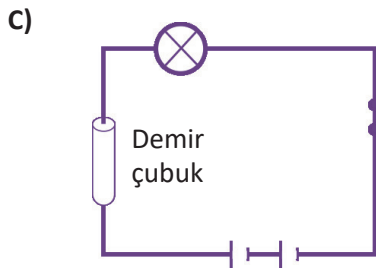
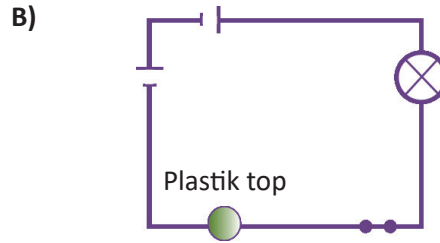
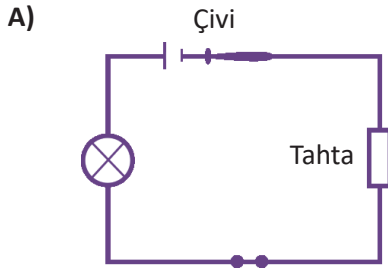
1.	a
2.	c
3.	b

D)

1.	c
2.	a
3.	b



20. Aşağıda verilen elektrik devrelerinin hangisinde ampul yanar?



## SOSYAL BİLGİLER

1. Ali Bey, yaşadığı sağlık problemleri nedeniyle gittiği hastanede hasta haklarının ihlal edildiğini görmüş ve bu sorunu hastanenin başhekimliğine iletmiştir. Ancak başhekimlikten, şikayetine olumsuz yanıt almış ve yanıtın tarafı olduğunu düşünmüştür.

**Ali Bey'in bu durumda aşağıdaki çözüm yollarından hangisini izlemesi yanlış olur?**

- A) Sorunuyla ilgili yetkili kurumlara dilekçe yazmak  
B) Sağlık Bakanlığı'nın internet adresinden şikayette bulunmak  
C) Cumhurbaşkanlığı İletişim Merkezi (CİMER) hattını aramak  
D) Şiddet uygulayarak hakkını almak

2. Orta Asya'da Türkler, yaz aylarında su ve otlak alanlarının bol olduğu yaylalarda, kış aylarında ise hayvanları için daha elverişli olan kışlaklarda yaşarlardı.

**Bu durum Türklerin aşağıdakilerden hangisini benimsediğini göstermektedir?**

- A) Merkezi yönetim sistemini  
B) Ordu-millet anlayışını  
C) Konargöçer yaşam biçimini  
D) Otoriter devlet düşüncesini



3. ● Kadir Gecesi  
● Ramazan Bayramı  
● Kurban Bayramı

**Yukarıda verilenler kültürümüzü oluşturan unsurlardan hangisiyle ilişkilendirilebilir?**

- A) Gelenek  
B) Din  
C) Dil  
D) Sanat

4. Müslümanlarla Mekkeli müşrikler arasında yapılan Bedir Savaşı'nı, Müslümanlar kazandı. Savaş sonrasında ele geçirilen esirlere, Müslümanlara okuma yazma öğretmeleri şart koşuldu. Müslümanlara okuma yazma öğreten esirler serbest bırakıldı.

**Bu durum İslamiyet'in aşağıdakilerden hangisine verdiği önemi göstermektedir?**

- A) Eğitime  
B) Ticarete  
C) Askerliğe  
D) Sağlığa

5. Genel Ağ'da film, müzik gibi içerikleri yasa dışı biçimde indirmek yerine, paralı üyelik alarak indiren kişinin, aşağıdakilerden hangisine dikkat ettiği söylenebilir?

- A) Telif ve patent hakkına  
B) Özel yaşamın gizliliğine  
C) Din ve vicdan özgürlüğüne  
D) Kişi dokunulmazlığına

6. İlk adı Hilal-i Ahmer'dir. Bayrağında beyaz zemin üzerine kırmızı ay askerlerin beyaz gömleği ve üzerindeki kan lekesini temsil ederek yardımlaşmayı hatırlatır.

**Yukarıda anlatılan sivil toplum kuruluşu aşağıdakilerden hangisidir?**

- A) Yeşilay  
B) Mehmetçik Vakfı  
C) Türk Eğitim Vakfı  
D) Kızılay



7. Ankara'da yaşayan Seyit, yaz tatilinde arkadaşlarının memleketine giderek fındık toplamıştır. Burada bol yağışın olduğunu, ormanların geniş yer tuttuğunu, yaylacılık faaliyetlerinin ve büyükbaş hayvancılığın yapıldığını gözlemlemiştir.

**Buna göre Seyit'in gittiği yerde hangi iklim tipi görülmektedir?**

- A) Akdeniz  
B) Muson  
C) Karasal  
D) Karadeniz

8. Türk devletleri, döküm sanatı, kuyumculuk, bakır işçiliği, kemer, kalkan, zırh imalatı, halıcılık, dokumacılık alanlarında eserler vermişlerdir.

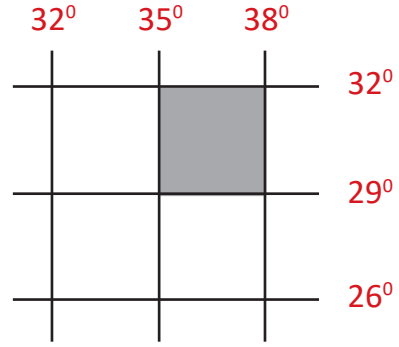
**Buna göre Türklerle ilgili aşağıdaki yargılardan hangisine ulaşamaz?**

- A) Taşınabilir malzemeden sanat eserleri üretmişlerdir.  
B) Askeri nitelikli bir yapıya sahiptirler.  
C) Tarım toplumu niteliği taşımaktadırlar.  
D) Hayvancılıkla uğraşmışlardır.

9. Orhun Abideleri'nde fakir milletin zenginleştirilmesi, açların doyurulması gibi ifadelerin varlığı Türklerde aşağıdaki devlet anlayışlarından hangisinin geçerli olduğunu kanıtlar?

- A) Teokratik  
B) Sosyal  
C) Hukuk  
D) Monarşik

10. Aşağıda bazı meridyen ve paraleller gösterilmiştir.



**Şekildeki taralı bölge Türkiye'ye göre hangi yönde kalır?**

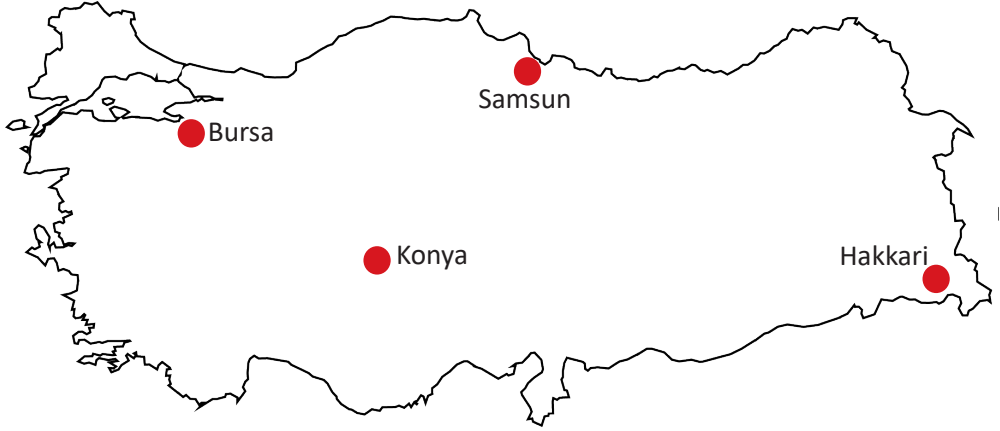
- A) Kuzey  
B) Doğu  
C) Batı  
D) Güney

11. İnsanlar arasındaki ilişkileri inceleyerek insanların davranışlarını tanımlayan ve açıklayan bilim dalı aşağıdakilerden hangisidir?

- A) tarih  
B) coğrafya  
C) sosyoloji  
D) filoloji



12.



Harita üzerinde gösterilmiş yerlerden hangisinde yer şekillerinin etkisiyle nüfus seyrekdir?

- A) Bursa                      B) Samsun                      C) Konya                      D) Hakkari



13. Kazandığı Nobel ödülü ile Türkiye'yi gururlandıran önemli bir bilim insanıdır. Mardin'de doğmuş, tıp eğitimini İstanbul'da tamamladıktan sonra Amerika'ya gitmiş ve çalışmalarına orada devam etmiştir. DNA onarımı üzerine yaptığı çalışmalarla ün kazanmış, uzun yıllar boyunca kendisini bilime adanmasının en büyük meyvesini 2015 Nobel Kimya Ödülü ile almıştır. Ülkesinin ilerlemesi için yaptığı konuşmalarla bir çok kişinin hayranlığını kazanmıştır.

Yukarıda hakkında bilgi verilen kişi aşağıdakilerden hangisidir?

- A)  B)  C)  D) 

Aziz Sançar

Orhan Pamuk

Osman Turan

Gazi Yaşargil

14. Üç tarafı denizlerle çevrili bir yarımada olan Türkiye’de, denizlerden yeterince faydalanılamamaktadır.

**Buna göre denizlerden daha fazla gelir elde etmek için aşağıdakilerden hangisinin yapılması uygun değildir?**

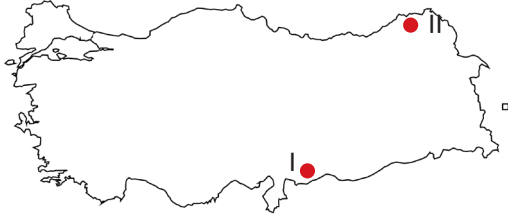
- A) Deniz turizmini geliştirmek.  
B) Körfezlere sanayi atıklarının karışmasını engellemek.  
C) Kıyı alanlarını yerleşime açmak.  
D) Balıkçılık ve su ürünlerini geliştirme amaçlı tesisleri artırmak.
15. Anayasamıza göre; “Herkes kamu giderlerini karşılamak üzere mali gücüne göre vergi vermekle yükümlüdür.”

**Buna göre vergi vermek aşağıdakilerden hangisini sağlamaz?**

- A) Haksız zenginleşmeyi  
B) Kamu düzenini  
C) Sağlık hizmetlerinin yürütülmesini  
D) Sosyal devlet anlayışını
16. Bir veteriner adayının sahip olması gereken değerler hangi seçenekte doğru olarak verilmiştir?

İlgi alanı	Yetenek	Değer
A) Sosyal Bilimler	Sözel	Kariyer Yapma
B) Fen Bilimleri	Araştırma İnceleme	Hayvanseverlik
C) Güzel Sanatlar	İkna Yeteneği	Vatanseverlik
D) Fen Bilimleri	Müziksel Yetenekler	Estetik

- 17.



**Haritada numaralandırılmış sınır kapıları aşağıdaki komşu ülkelerden hangisiyle bağlantı kurulmasını sağlamaktadır?**

- | I              | II        |
|----------------|-----------|
| A) Suriye      | Irak      |
| B) Bulgaristan | İran      |
| C) Suriye      | Gürcistan |
| D) Ermenistan  | Nahçıvan  |

18. Yoğun yetişme alanları dikkate alındığında aşağıdaki ürünlerden hangisi soğuğa daha dayanıklıdır?



Buğday



Zeytin



İncir



Turunçgil



19.



“Bu gün Sovyetler Birliği dostumuzdur, komşumuzdur, müttefikimizdir. Bu dostluğa ihtiyacımız vardır. Fakat yarın ne olacağını kimse bugünden kestiremez. Bizim bu dostumuzun idaresinde dili bir, inancı bir, özü bir kardeşlerimiz vardır. Onlara sahip çıkmaya hazır olmalıyız. Hazır olmak yalnız o günü susup beklemek değildir. Hazırlanmak lazımdır. Milletler buna manevi köprülerini sağlam tutarak hazırlanır. Dil ve tarih bir köprüdür.”

Atatürk'ün bu düşüncesine uygun olarak faaliyet gösteren resmi kuruluşun adı aşağıdakilerden hangisidir?

- A) İnsan Hakları ve Eşitlik Kurumu
- B) Türkiye Yazma Eserler Kurumu Başkanlığı
- C) Göç İdaresi Genel Müdürlüğü
- D) Yurtdışı Türkler ve Akraba Topluluklar Başkanlığı



20. Gelişmemiş ülkeler, hammadde satıp çeşitli makine ve elektrik ürünlerini ithal ederler; gelişmiş ülkeler ise hammadde alıp otomobil, elektronik eşya gibi ürünleri satarlar.

Buna göre gelişmiş bir ülkede aşağıdaki ekonomik faaliyetlerden hangisinde çalışanların payı fazla olmalıdır?

A)



Sanayi

B)



Tarım

C)



Hayvancılık

D)



Madencilik







## SINAVA BAŞLAMADAN ÖNCE AŞAĞIDAKİ UYARILARI MUTLAKA DİKKATLİCE OKUYUNUZ

- 1.** Sınav kimlik bilgilerinizin doğruluğundan emin olunuz.
- 2.** Sınav başladıktan sonra çevrenizdekilerle konuşmayınız.
- 3.** Soruları cevaplamaya istediğiniz sorudan başlayabilirsiniz.
- 4.** Cevaplarınızı cevap kağıdındaki ilgili soru numarasını dikkate alarak uygun bölüme kodlayınız.
- 5.** Değiştirmek istediğiniz cevabı cevap kağıdına kodladığınızdan emin olunuz.
- 6.** Cevabını bilmediğiniz sorular üzerinde fazla zaman kaybetmeden diğer sorulara geçiniz. Zaman kalırsa bu sorulara daha sonra dönebilirsiniz.
- 7.** Sınav puanlarınızın hesaplanmasında sadece doğru cevaplarınız dikkate alınacaktır.
- 8.** Cevap kağıdınızı sınav süresince başkalarının görmeyeceği şekilde önünüzde bulundurunuz.
- 9.** Sınav sırasında sözlük, hesap makinesi, cep telefonu ve bilgisayarınızın bu özelliklerini kullanmayınız.
- 10.** Sınav süresince yerinizden ayrılmayınız.